

تم تحميل هذا الملف من موقع المناهج العُمانية



\*للحصول على أوراق عمل لجميع الصفوف وجميع المواد اضغط هنا

<https://almanahj.com/om>

\* للحصول على أوراق عمل لجميع مواد الصف الثاني عشر اضغط هنا

<https://almanahj.com/om/12>

\* للحصول على جميع أوراق الصف الثاني عشر في مادة هذا وطني ولجميع الفصول, اضغط هنا

<https://almanahj.com/om/12country>

\* للحصول على أوراق عمل لجميع مواد الصف الثاني عشر في مادة هذا وطني الخاصة بـ الفصل الثاني اضغط هنا

<https://almanahj.com/om/12country2>

\* لتحميل كتب جميع المواد في جميع الفصول للـ الصف الثاني عشر اضغط هنا

<https://almanahj.com/om/grade12>

\* لتحميل جميع ملفات المدرس محمد اسماعيل عبد الله البلوشي اضغط هنا

للتحدث إلى بوت على تلغرام: اضغط هنا

[https://t.me/omcourse\\_bot](https://t.me/omcourse_bot)



الاختبار التجريبي للعام الدراسي ١٤٤١-١٤٤٢هـ / ٢٠٢٠-٢٠٢١م

الدور: الأول الصف: الثاني عشر

مدرسة نعيم بن مسعود للتعليم الأساسي (١٠-١٢)

\*المادة: الدراسات الاجتماعية \* عدد صفحات أسئلة الاختبار (١٥)

\* زمن الإجابة: ٣ ساعات \* الإجابة في الورقة نفسها

اسم الطالب: .....
الصف الثاني عشر: .....

السؤال	الدرجة		التوقيع بالاسم	
	بالأرقام	بالحروف	المصحح الأول	المصحح الثاني
١٥ - ١				
١٦				
١٧				
١٨				
١٩				
٢٠				
٢١				
المجموع الكلي	٦٠			

التوقيع /

التوقيع /

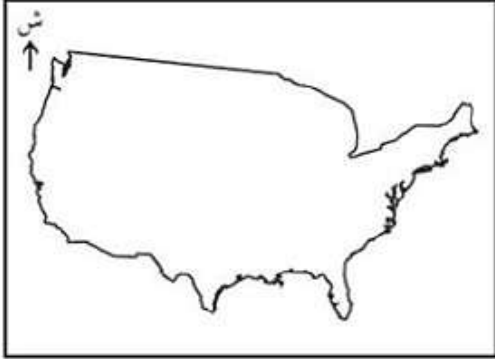
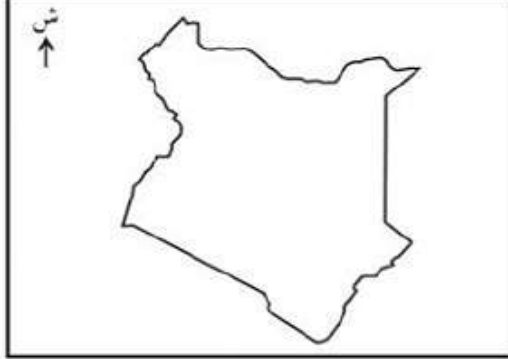
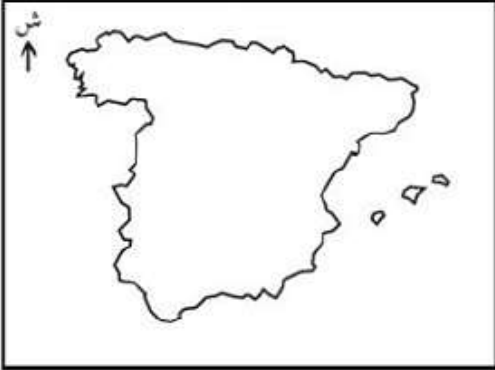
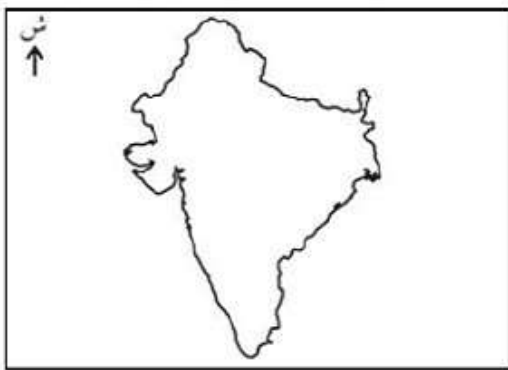








اسم المصحح /

اسم المراجع /



سَلْطَنَةُ عُومَانِ  
وَزَارَةُ التَّرْبِيَةِ وَالْتَعْلِيمِ  
لِلْمَدْرَسَةِ الْعَامَّةِ وَاللُّغَةِ الْعَرَبِيَّةِ وَاللُّغَةِ الْإِنجليزيةِ وَاللُّغَةِ الْإِسْپَانِيَّةِ


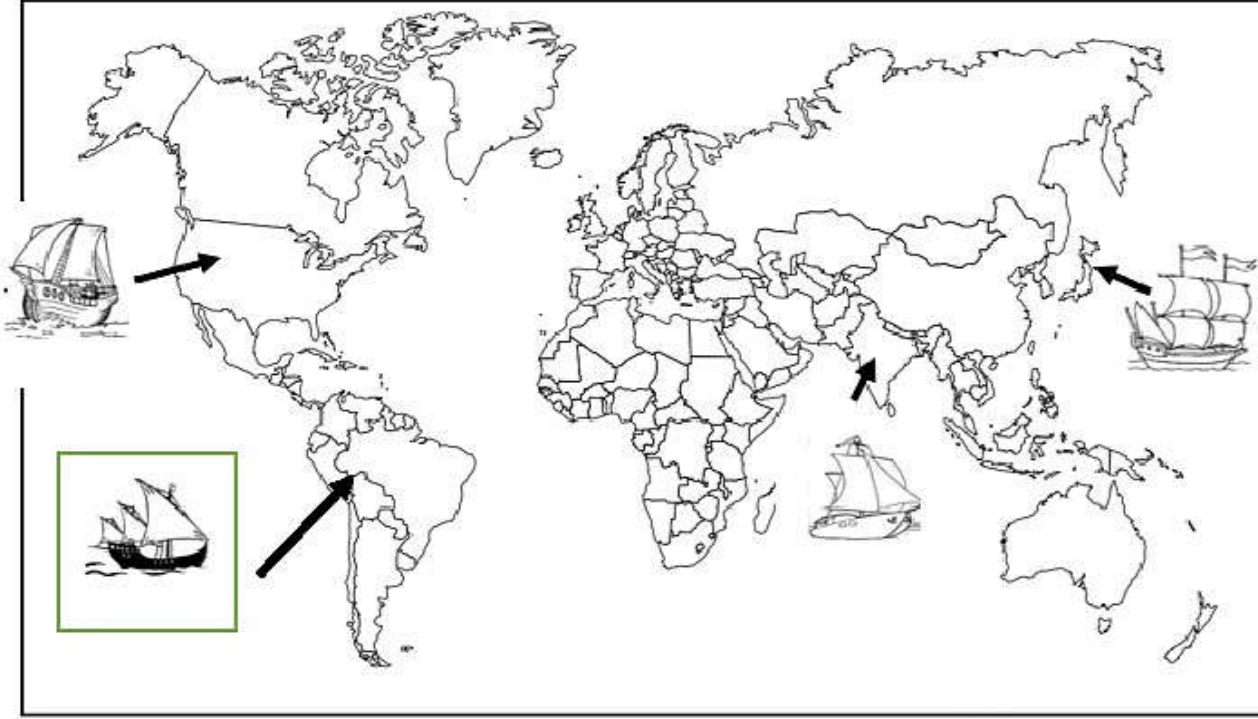
الامتحان التجريبي للصف الثاني عشر / الدور الأول للعام الدراسي  
٢٠٢٠/٢٠٢١ م

المادة الدراسات الاجتماعية	الزمن ساعتان								
٦٠ درجة	تنبيه الأسئلة في ١٥ صفحات								
الاسم: .....	الشعبة: .....								
أجب عن جميع الأسئلة التالية: السؤال الأول: ضلل الشكل <input type="checkbox"/> المقترن بالإجابة الصحيحة من بين البدائل المعطاة لكل مفردة من المفردات التالية: ١ - بدأ عصر البوسعيد في عُمان في العام الميلادي : ١٤٤٢ <input type="checkbox"/> ١٧٤٤ <input type="checkbox"/> ١٧٤٦ <input type="checkbox"/> ١٧٤٨ <input type="checkbox"/> ٢ - خريطة الدولة التي زارها السيد سعيد بن تيمور في قارة أمريكا الشمالية كأول حاكم عربي: <table border="0"><tr><td></td><td><input type="checkbox"/></td><td></td><td><input type="checkbox"/></td></tr><tr><td></td><td><input type="checkbox"/></td><td></td><td><input type="checkbox"/></td></tr></table>			<input type="checkbox"/>		<input type="checkbox"/>		<input type="checkbox"/>		<input type="checkbox"/>
	<input type="checkbox"/>		<input type="checkbox"/>						
	<input type="checkbox"/>		<input type="checkbox"/>						

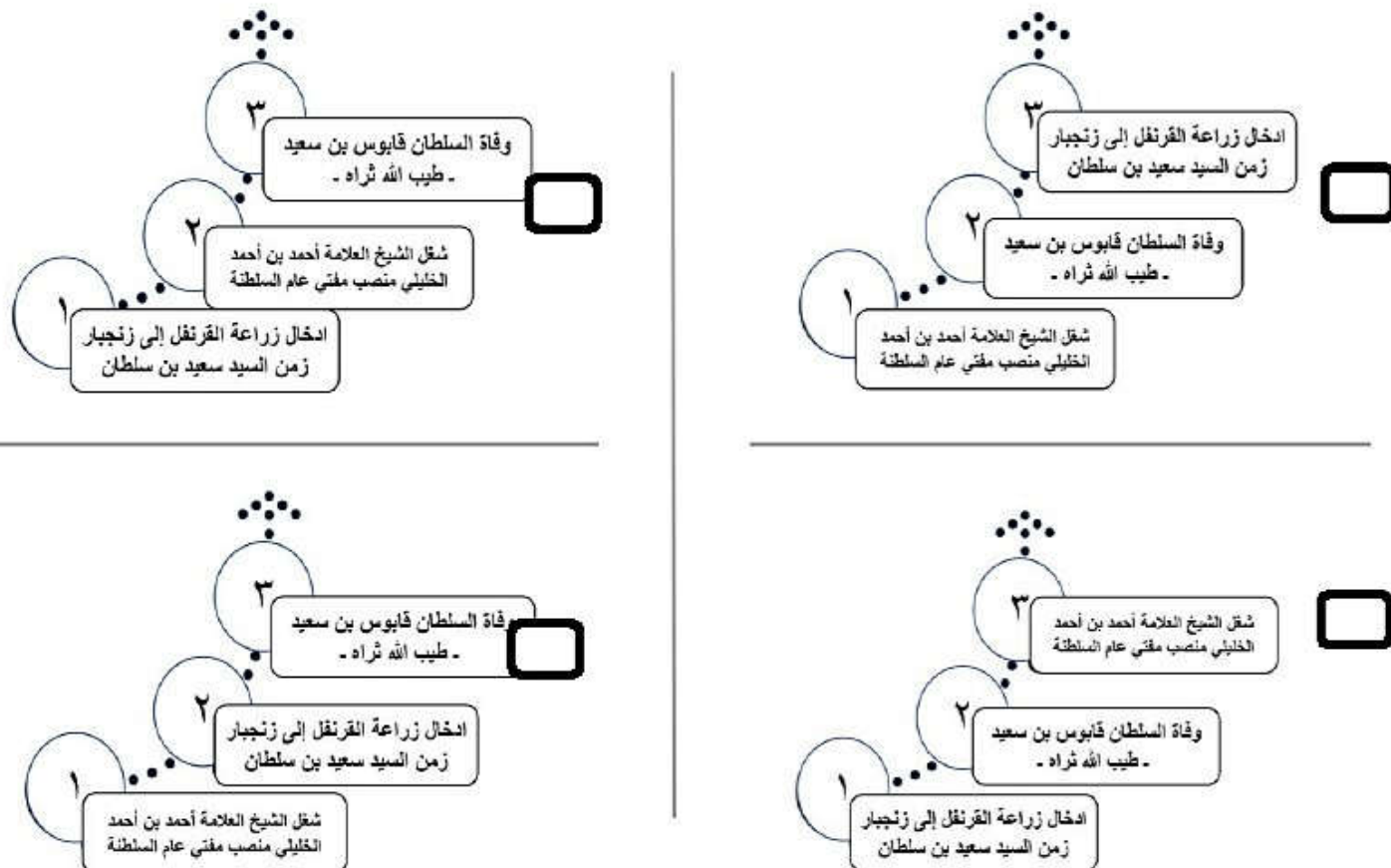
يتبع/٢



٣ - شكل السفينة الذي يشير إلى الدولة التي تم في إحدى مدنها طبعة ديوان الشاعر سعيد بن مسلم ١٩٣٧م من خلال الخريطة الآتية:



٤ - الشكل الذي يمثل الترتيب الصحيح للأحداث المرتبطة بعصر البوسعيد في عمان من الأقدم للأحدث:




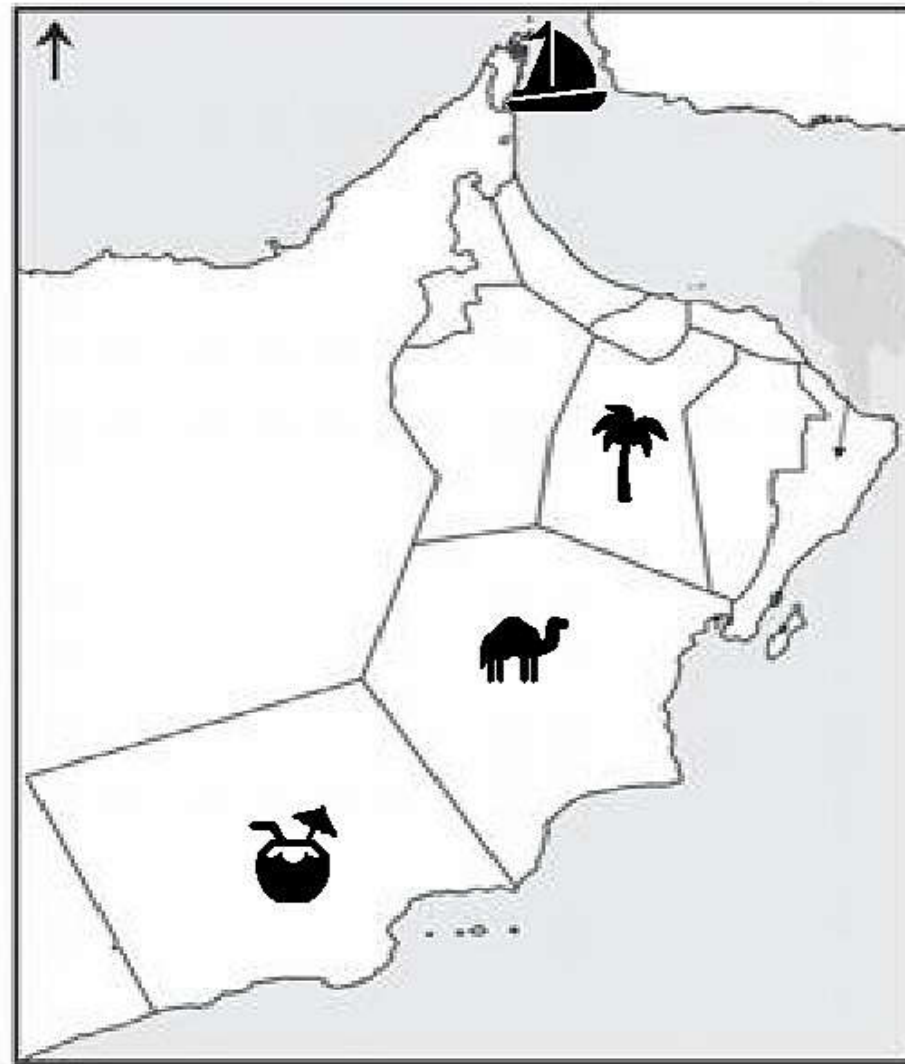
يتبع/٣

٥ - " المستوى العلمي والتكنولوجي " من المؤثرات على سوق العمل وتدخل ضمن العامل:  
 الاقتصادي  السياسي والقانوني  الثقافي والاجتماعية  الجغرافي

٦ - سبب قيام المؤسسات العالمية بإعادة هيكلتها نتيجة للتطور العلمي والتكنولوجي والتي أدت إلى مجموعة من التغيرات في سوق العمل:

- تحقيق أقصى نسب الربح
- جذب الأيدي العاملة الرخيصة
- تعددية عمليات الإنتاج والتوزيع
- التنافس الوظيفي وتعدد الوظائف

٧ - المحافظة التي بها محطتي للطاقة الكهربائية ومعالجة الغاز مشار لها بالرمز:



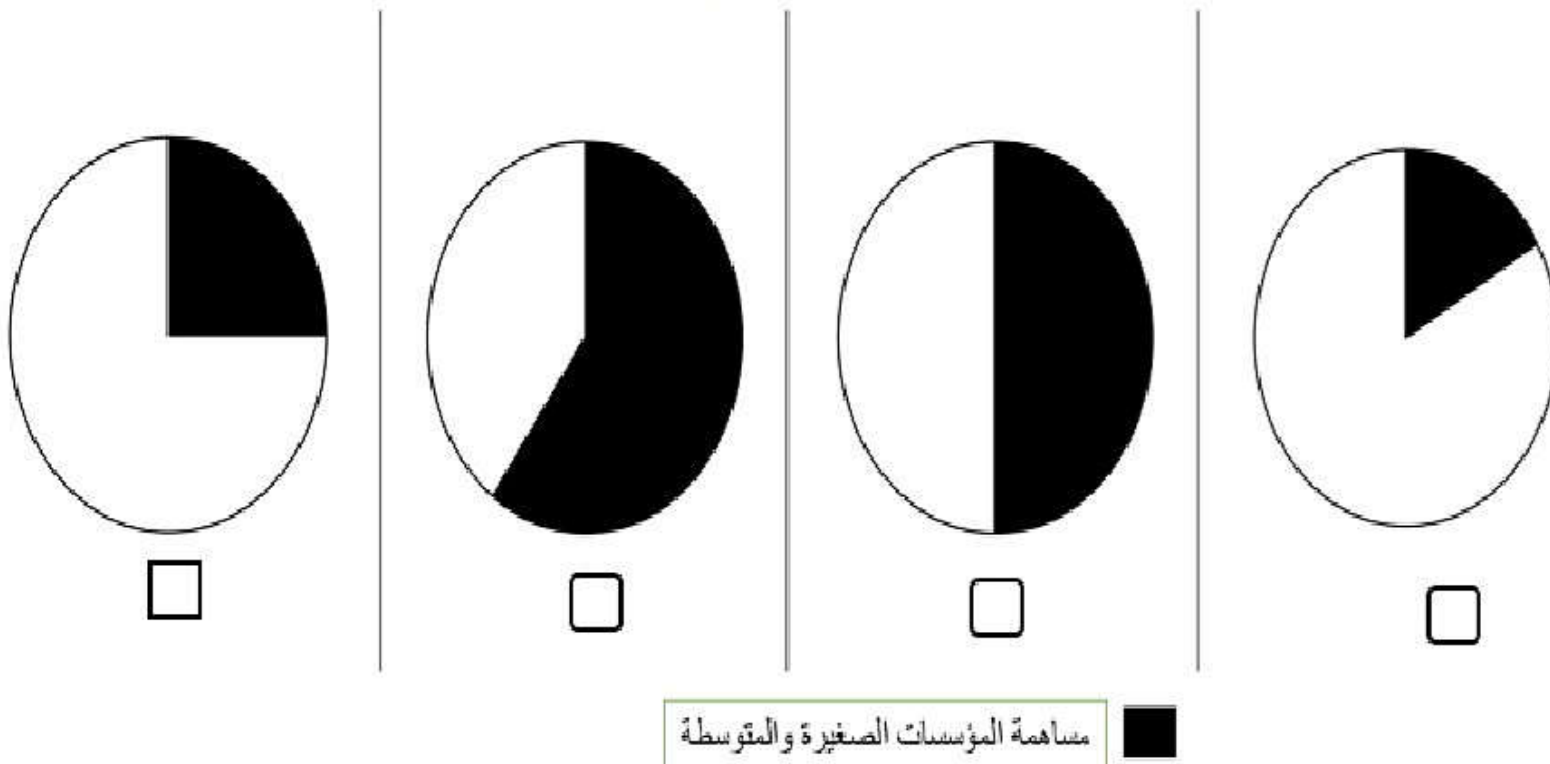
يتبع/٤

٨ - الوصف الصحيح للهرم السكاني في سلطنة عُمان عام ١٩٩٨ م من خلال الشكل التالي:



- ارتفاع نسبة صغار السن (الأقل من ١٥ سنة)
- ارتفاع نسبة متوسطي العمر (١٥ - ٦٤ سنة)
- ارتفاع نسبة كبار السن (من ٦٥ فما فوق)
- انخفاض نسبة صغار السن (الأقل من ١٥ سنة)

٩ - الدائرة البيانية التي تمثل مساهمة المؤسسات الصغيرة والمتوسطة في الناتج المحلي الإجمالي للصين عام ٢٠١٧ م:



يتبع/٥



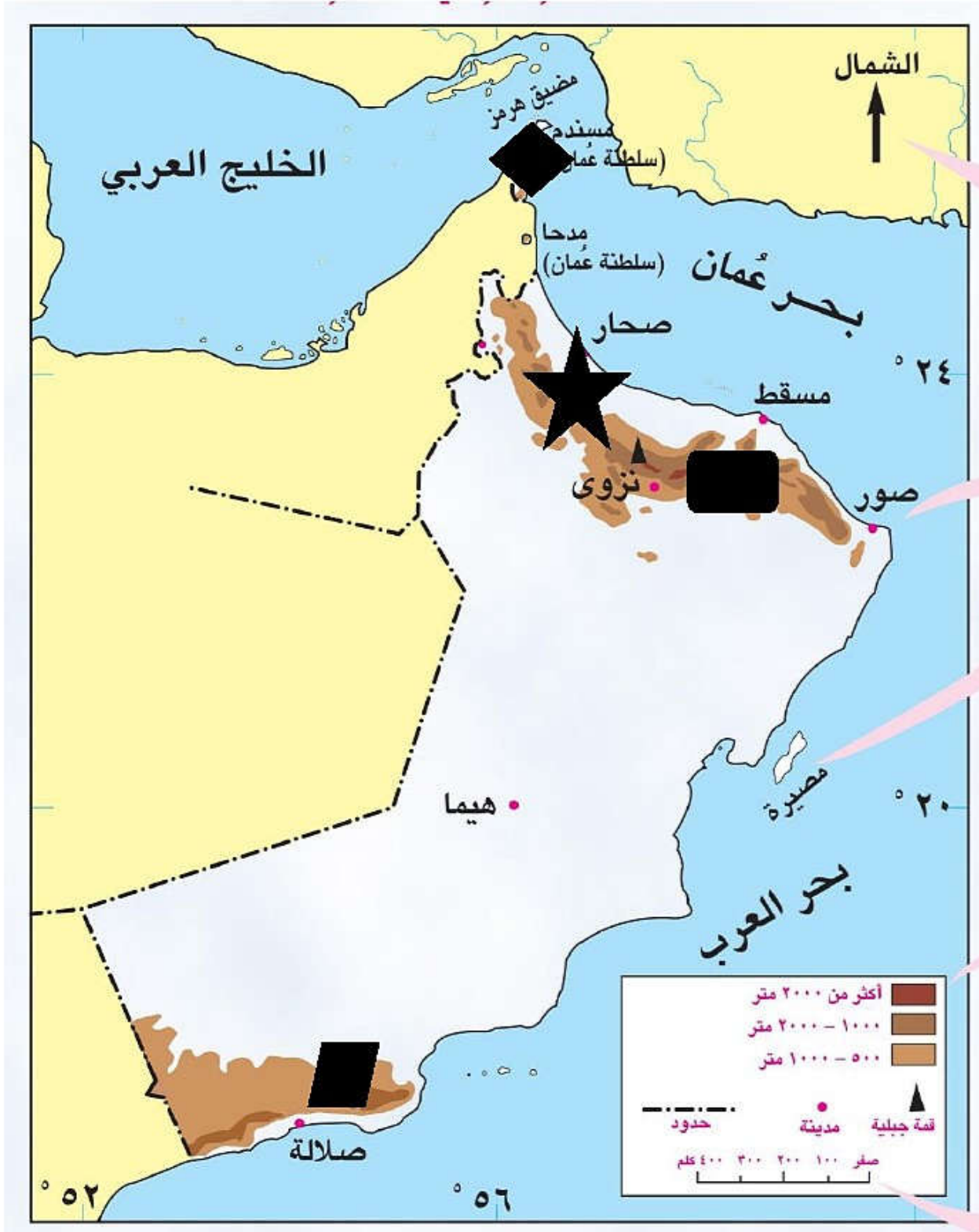
١٠ - جميع ما يلي من فوائد المؤسسات الصغيرة والمتوسطة للمجتمع ما عدا:

- تقليل التفاوت بين مستويات دخل الأفراد
- تعزيز اقتصاد الدولة
- تحقيق التكامل الاقتصادي مع المؤسسات الكبرى
- تحقيق التوازن الجغرافي لعمليات التنمية

١١ - المؤسسة التي يتراوح عدد عمالها ما بين (١١ - ٥٠ عامل) وإيرادها السنوية من ١٥٠,٠٠٠ إلى أقل من ١,٢٥٠,٠٠٠ ريال عماني تصنف على أنها مؤسسة:

- صغيرة
- متوسطة
- كبيرة

١٢ - الجبال التي تم تحريرها من الحركة المتمردة والمدعومة من الخارج في ١١ ديسمبر ١٩٧٥ م المشار لها بالرمز:



يتبع/٦



١٣ - تعود أصل اللهجات العُمانية من مسندم إلى ظفار إلى اللغة:  
 السواحيلية  العربية  الفارسية  السنسكريتية

١٤ - يطلق على "الكم الهائل من المعلومات التي شهدتها العالم والتي أدت إلى العديد من التطورات العلمية والتكنولوجية والتي نتج عنها مجموعة من الوسائل والتطبيقات والبرامج الحاسوبية وانتشار القنوات الفضائية" بـ:

الهوية الوطنية  الثورة الرقمية  التراث الوطني  الثقافة العالمية

١٥ - جميع ما يلي تمثل نتائج الثورة المعرفية ما عدا:

- ظهور الآلة ذات الاحتراق الداخلي وإحلال الآلة محل الإنسان  
 الوسائل والتطبيقات والبرامج الحاسوبية  
 انتشار القنوات الفضائية  
 ظهور شبكة المعلومات العالمية "الانترنت" وانتشارها وشيوع استخدامها عند الجميع

١٥

١٦ -

(أ) اذكر اثنين لما يأتي:

١ - المناصب والوظائف والمهام التي وكلت لسعيد بن خلفان البوسعيد زمن السيد سعيد بن سلطان.

درجة

٢ - أعمال الامام أحمد بن سعيد قبل وبعد توليه الامامة.

درجة

٣ - النتائج التي ترتبت على قيام المؤسسات الكبرى بإعادة هيكلتها نتيجة التطور العلمي والتكنولوجي.

درجة

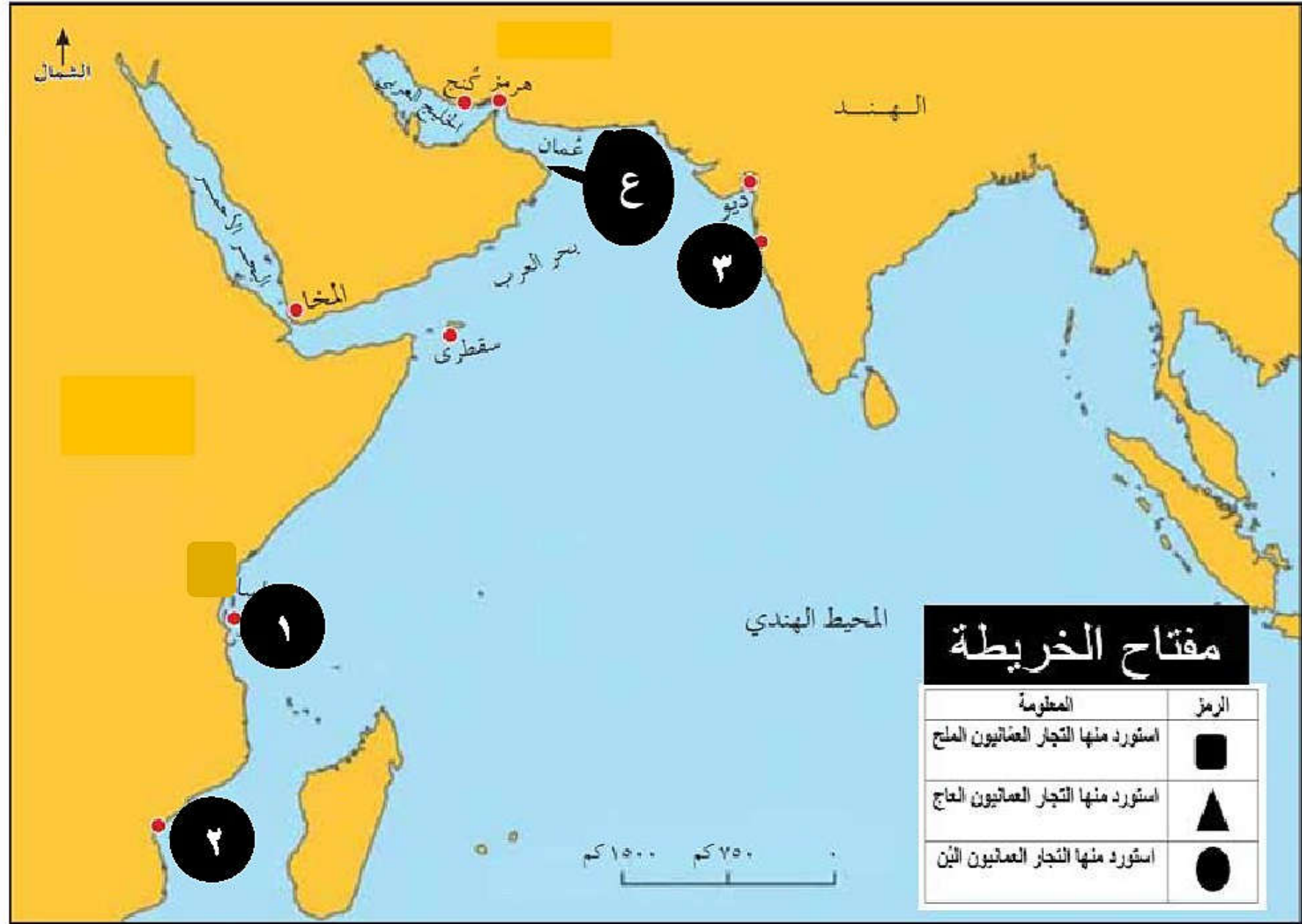
(ب) أنسب العبارات الآتية إلى الشخصية المرتبطة بها:

١. ( ) أقام إمبراطورية عمانية واسعة الامتداد في آسيا وأفريقيا. درجة

٢. ( ) تأسست في عهده المدرسة السلطانية الأولى. درجة يتبع/٧



ج) أدرس الخريطة التالية، ثم أجب عن الأسئلة الآتية:



من المدن التي واجه فيها العُمانيون البرتغاليين خارج عُمان

1 ½

½

٣ - ما الرقم الذي يشير إلى الميناء اكتسبت شهرة عالمية وزارها ١ سفينة تجارية خلال الفترة (١٨٣٢-١٨٣٤م)؟

½

٤ - ما الصناعة التي اشتهرت بها المدينة العمانية المشار لها بالرقم بالرمز (أ) زمن السيد سعيد بن سلطان؟

½

يتبع/٨

(أ) أعط مثلاً واحداً لكل مما يأتي:

١. الأسباب التي جعلت رؤية عمان ٢٠٤٠ نركز ضمن أولوياتها على سوق العمل والتشغيل.

درجة

٢. خدمات هيئة تنمية المؤسسات الصغيرة والمتوسطة.

درجة

٣. جهود السلطنة لتنمية المؤسسات الصغيرة والمتوسطة في مجال تعزيز ثقافة ريادة الأعمال.

درجة

(ب) برهن لما يأتي:

١. الأهمية التجارية الكبيرة لميناء مسقط في أواخر القرن الثامن عشر.

درجة

٢. اهتمام السلطان برغش بن سعيد بالعمران.

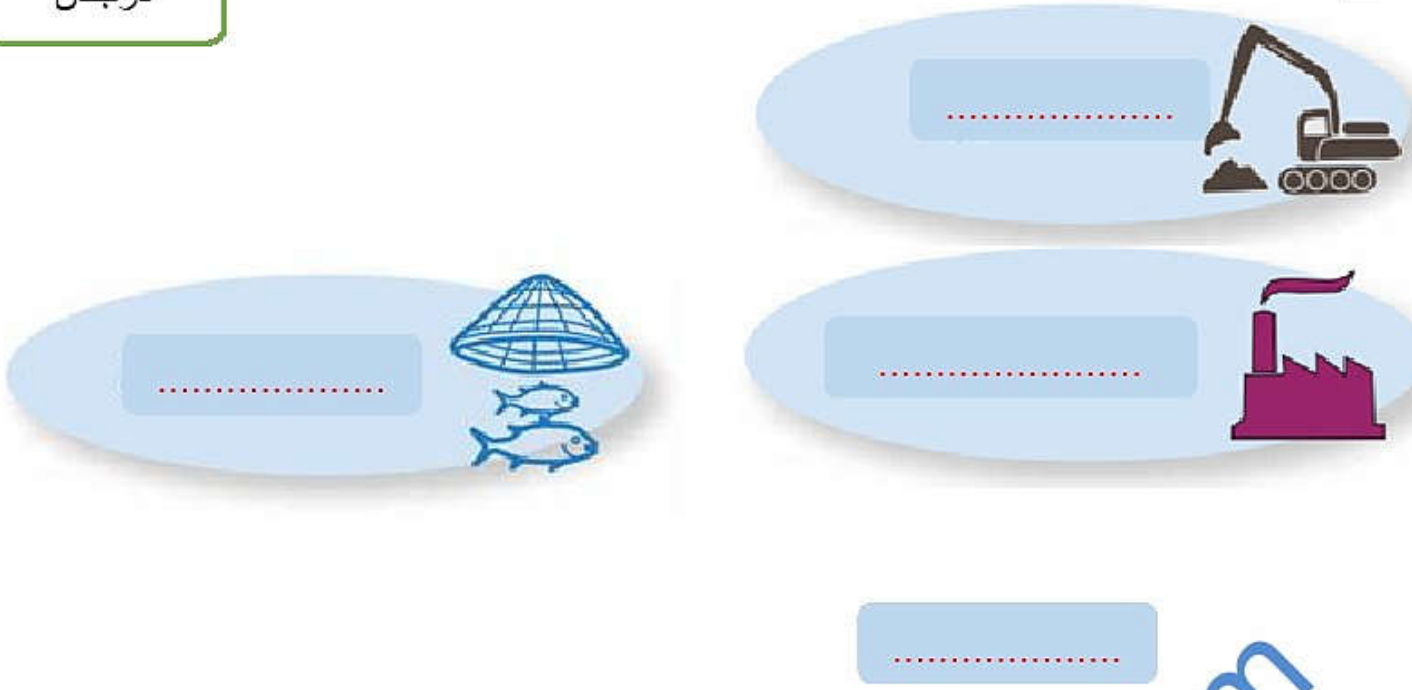
درجة

٣. الجهود الكبيرة التي بذلتها السلطنة لوضع المؤسسات الصغيرة والمتوسطة على خريطة الاقتصاد العالمي مواكبة للتوجهات العالمية.

درجة

ج) تشير الرموز التالية إلى القطاعات الاستثمارية الواعدة في سوق العمل العماني "، اكتب يسار كل رمز القطاع الذي تمثله.

درجتان



١٨ -

أ) دّل بمثال واحد على صحة العبارات الآتية:

١. سعت السلطنة إلى المحافظة على الهوية الوطنية وتعزيز المواطنة الرقمية من خلال مجموعة من الإجراءات.

درجتان

٢. تمسك العماني بأرضه رغم قساوة بعض تضاريسها.

درجتان

٣. تهتم السلطنة بتنمية القطاعات الاقتصادية المختلفة.

درجة

يتبع/١٠



ب) أجب عن الأسئلة الآتية:

١. وضح أهمية اللغة العربية كمرتكز من مرتكزات الهوية العمانية.

درجة

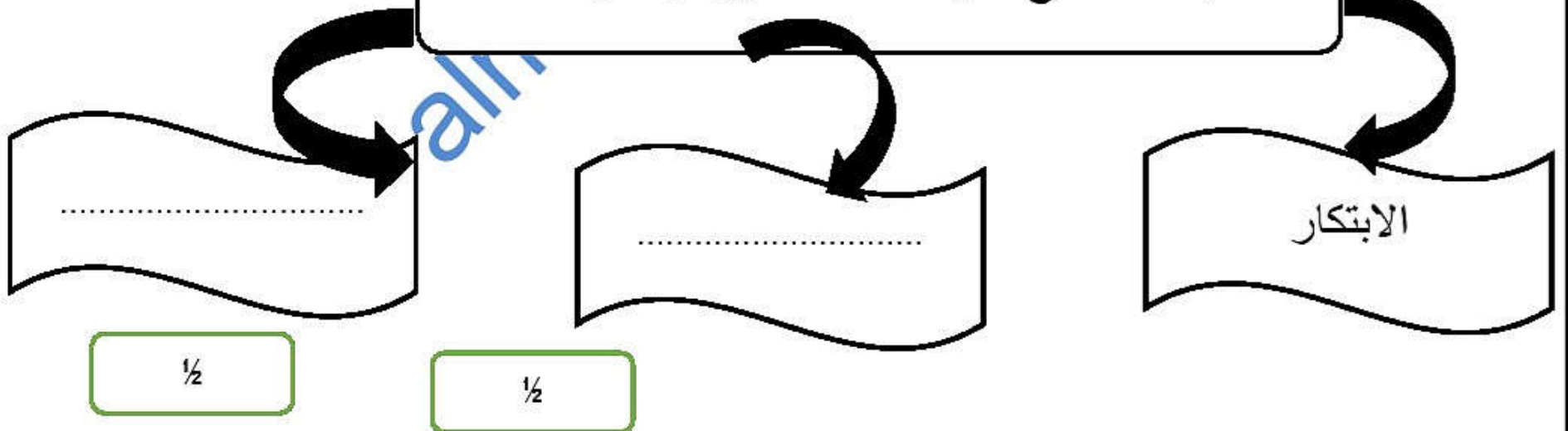
٢. " تتعدد المعايير المعتمدة لتصنيف المؤسسات الصغيرة والمتوسطة من دولة لأخرى " وضح المعيار الذي اعتمده السلطنة مع ذكر أسباب اعتماد هذا المعيار.

درجة

ج) أكمل بيانات الشكل التالي:

خطاب حضرة صاحب الجلالة السلطان هيثم بن طارق  
- حفظه الله ورعاه - في ٢٢ فبراير ٢٠٢٠م

مجالات قطاع المؤسسات الصغيرة والمتوسطة



يتبع/ ١١

١. ما النتائج المترتبة على التقنيات الحديثة متمثلة في شبكة المعلومات العالمية وتطبيقاتها المختلفة؟

درجتان

٢. علل لما يأتي:

أ. أهمية مواكبة تطورات العصر من خلال الموازنة بين الاصاله والمعاصرة.

درجة

ب. تعد المؤسسات الصغيرة والمتوسطة أحد أبرز الدعائم الاقتصادية في الكثير من دول العالم.

درجة

ب) أنظر إلى الخريطة الإدارية للسلطنة، ثم أجب عن الأسئلة الآتية:



١ - اذكر واحداً من المشاريع الاستثمارية الواعدة في سوق العمل العماني في المحافظة المشار لها بالرقم (١).

درجة

درجة

٢ - ضع الرمز ▲ في الخريطة على المحافظة التي توجد بها مصفاة الدقم.

ج) امامك مجموعة من الاحداث المرتبطة بعصر دولة البوسعيد في عمان، أعد ترتيبها تنازليا من الأحدث إلى الأقدم بكتابة رقم الترتيب الصحيح أسفل كل عبارة:

١. تولى الحكم السلطان سعيد بن تيمور

(\_\_\_\_\_)  
½

٢. قيام المنهضة العمانية الحديثة زمن السلطان قابوس بن سعيد - طيب الله ثراه -

(\_\_\_\_\_)  
½

٣. ولد السلطان هيثم بن طارق - حفظه الله ورعاه - في مدينة مسقط.

(\_\_\_\_\_)  
½

٤. عقد السيد سعيد بن سلطان مع الولايات المتحدة الامريكية تعد أقدم العلاقات السياسية بينها وبين دولة عربية.

(\_\_\_\_\_)  
½

- ٢٠ -

أ) اكتب أمام العبارات الآتية المصطلح أو المفهوم أو الاسم الدال عليها:

١. (\_\_\_\_\_) سوق افتراضي نظري يتضمن القوى العاملة والعارضين لفرص العمل من المؤسسات الحكومية والخاصة.

٢. (\_\_\_\_\_) الاستخدام المسؤول والأخلاقي والأمن لتكنولوجيا المعلومات والاتصالات.

٣. (\_\_\_\_\_) مجموع السمات والخصائص المشتركة منها الثقافية والاجتماعية والجغرافية والتاريخية التي تشعر الفرد بانتمائه وولائه لوطنه.


٤. (\_\_\_\_\_) مؤسسة حكومية تعني بتنمية المؤسسات الصغيرة والمتوسطة والتخطيط والترويج لها بالتنسيق بين القطاعين الحكومي والخاص.



ب) أمامك مجموعة من الصور تمثل مرتكزات الهوية العمانية، أكتب المرتكز الصحيح أمام رمز كل صورة:



٢



١



٤



٣

- ½
- ½
- ½
- ½

رقم الصورة	المرتكز الذي تمثله من مرتكزات الهوية العمانية
١	
٢	
٣	
٤	

ج) " قامت في عُمان حضارة قديمة، كان لها دور فاعل في التواصل مع الحضارات الأخرى " في ضوء العبارة السابقة، أجب عن الأسئلة الآتية:

١ - ما اسم هذه الحضارة؟

درجة

٢ - ما الحضارات التي وتواصلت معها هذه الحضارة؟

درجة

يتبع/١٤

أ) لتدقق المعارف والمعلومات الناتجة عن الثورة المعرفية على الهوية الوطنية آثار:

إيجابية

ضع علامة (√) في المربع يمين الإجابة الصحيحة،  
فسر إجابتك.

سلبية

درجتان

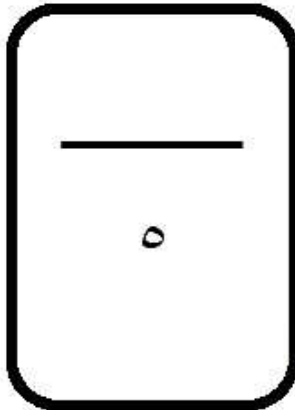
ب)

١. فرق بين سوق العمل المحكم وسوق العمل الراكد.

درجتان

٢. ما التحديات التي تواجه سوق العمل العالمي؟

درجة



"انتهت الأسئلة مع تمنياتنا للجميع بالتوفيق والنجاح"

محمد إسماعيل عبدالله البلوشي

معلم أول مادة تاريخ

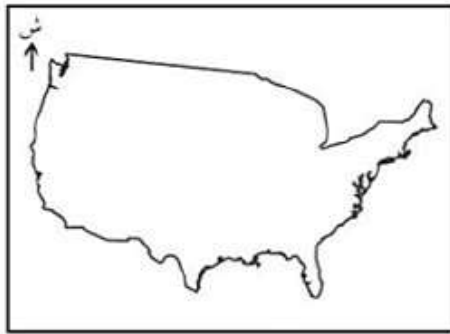


**نموذج الإجابة الاختبار التجريبي للعام الدراسي**  
**١٤٤١-١٤٤٢هـ / ٢٠٢٠-٢٠٢١م**

**الدور: الأول**                      **الصف: الثاني عشر**


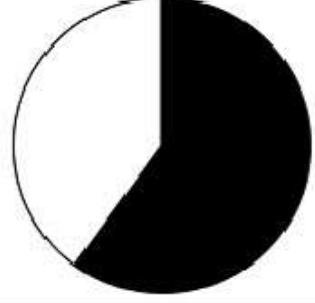

**مدرسة نعيم بن مسعود للتعليم الأساسي (١٠-١٢)**

المادة: الدراسات الاجتماعية تنبيه: نموذج الإجابة في ( ٨ ) صفحات	الدرجة الكلية: ٦٠
--	-------------------

إجابة السؤال الأول:

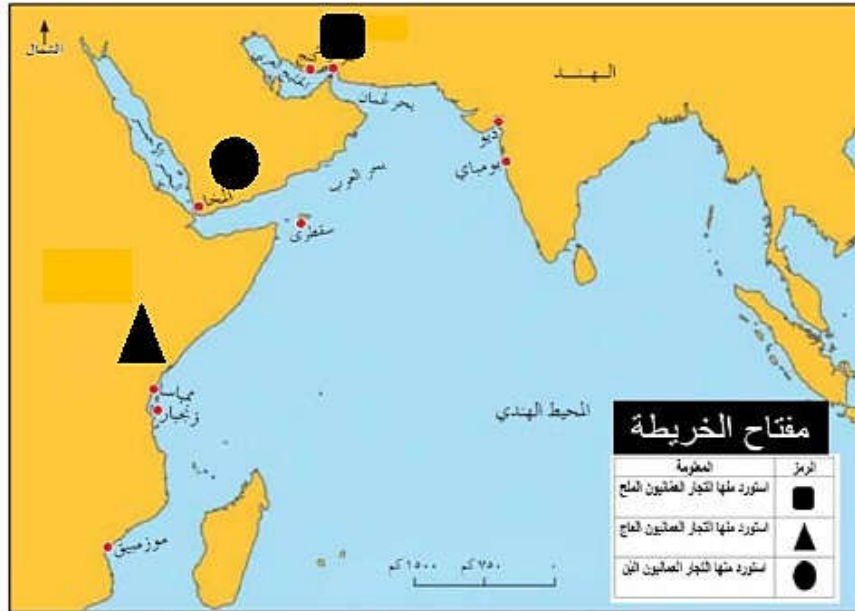
المفردة	الإجابة	الصفحة	الدرجة	المستوى
١	١٧٤٤	٣٦	١	معرفة
٢		٣٧	١	فهم وتطبيق
٣		٤٧	١	فهم وتطبيق
٤		٣٨ ٤٣ ٤٧	١	قدرات عليا



٥	الثقافي والاجتماعية	٨١	١	معرفة
٦	تحقيق أقصى نسب الربح	٨٣	١	معرفة
٧		٨٤	١	فهم وتطبيق
٨	انخفاض نسبة صغار السن (الأقل من ١٥ سنة)	٨١	١	قدرات عليا
٩		٨٧	١	قدرات عليا
١٠	تقليل التفاوت بين مستويات دخل الأفراد	٨٧	١	فهم وتطبيق
١١	صغيرة	٨٨	١	معرفة
١٢		١٠٣ ١١٤	١	فهم وتطبيق
١٣	العربية	١٠١	١	معرفة
١٤	الثورة الرقمية	١٠٣	١	معرفة
١٥	ظهور الآلة ذات الاحتراق الداخلي وإحلال الآلة محل الإنسان	١٠٣	١	فهم وتطبيق

إجابة الأسئلة المقالية:

السؤال	المفردة	الإجابة	الصفحة	الدرجة	المستوى
١٦	أ	١ - سياسي ومترجم عينه السيد سعيد بن سلطان مترجماً أثناء استقبال الوفود الرسمية الأجنبية في مسقط / نال لقب <u>المندوب الفرنسي</u> في مسقط ١٨٣٨م / عينته الولايات المتحدة الأمريكية وكيلاً لها بمسقط / كما قبل السيد سعيد بن سلطان عام ١٨٤١م طلب فرنسا بالاعتراف بسعيد بن خلفان قنصلاً فرنسياً في مسقط. ( يكتفى باثنتين لكل واحدة منها 1/2 درجة ويجب ذكر اسم الدولة ) ٢ - توحيد البلاد / طرد الفرس من عمان أو تأمين السواحل العمانية وطرد الفرس منها / اتخذ الرستاق عاصمة له / أسس جيشاً قوياً ثابتاً وأسطولاً بحرياً / تحرير مدينة البصرة من الحصار الفارسي ١٧٧٥م. ( يكتفى باثنتين لكل واحدة منها 1/2 درجة ) ٣ - فقدان العديد من الوظائف في العديد من المؤسسات / اهتمام المؤسسات بتعيين أصحاب الخبرة والمهارات الوظيفية / اختزال عمليات الإنتاج والتوزيع في ظل الاعتماد على التقنيات الحديثة. ( يكتفى باثنتين لكل واحدة منها 1/2 درجة )	٤٥	١	معرفة
١٦	ب	١ - السيد سعيد بن سلطان ٢ - السلطان تيمور بن فيصل	٣٧ ٤٥	١ ١	معرفة
١٦	ج	١ - ٢ - الشمال ٣ - (١) ٤ - صناعة السفن	٤٢ ٤٢ ٤٢ ٤٣ ٤٣ ٤٣	1/2 1/2 1/2 1/2 1/2 1/2	فهم وتطبيق





السؤال	المفردة	الاجابة	الصفحة	الدرجة	المستوى
١٧	أ	١ - إيجاد سوق عمل جاذب للكفاءات ومواكب للتغيرات الديموغرافية والاقتصادية والمعرفية والتقنية (يراعى لغة وأسلوب الطالب) ٢ - دراسات الجدوى / بطاقة رواد الاعمال / التمويل / التوجيه والتدريب / الاستشارات (يكتفى بواحدة فقط) ٣ - تنفيذ برامج تدريبية / تضمين مفاهيم ريادة الاعمال في المناهج المدرسية / تبني نماذج لمشاريع ريادة الاعمال في البيئة المدرسية (يكتفى بواحدة فقط مع مراعاة لغة وأسلوب الطالب)	٨٣ ٩٠ ٨٩	١ ١ ١	معرفة
١٧	ب	١ - بلغت التجارة التي تمر على ميناء مسقط في العقد الأخير من القرن الثامن عشر الميلادي ما يعادل خمسة أثمان مجموع التجارة في منطقة الخليج العربي ٢ - شيد قصرى <u>بيت العجائب</u> / <u>والمرهوبى</u> في زنجبار / كما بنى <u>برجا ضخما</u> قرب ميناء زنجبار / ووضع على هذا البرج أربع ساعات ضخمة بأجراسها مواجهة للميناء (يكتفى بواحدة فقط) ٣ - أنشئت المديرية العامة لتنمية المؤسسات الصغيرة والمتوسطة بوزارة التجارة والصناعة سابقا / انشاء هيئة مستقلة تعنى بتلك المؤسسات بمسمة هيئة تنمية المؤسسات الصغيرة والمتوسطة. (يكتفى بواحدة فقط)	٤٢ ٤٥ ٨٩	١ ١ ١	فهم وتطبيق
١٧	ج	التعدين السياحة الثروة السمكية الصناعات التحويلية	٨٣ ٨٤ ٨٣ ٨٤	١/٢ ١/٢ ١/٢ ١/٢	قدرات عليا



السؤال	المفردة	الإجابة	الصفحة	الدرجة	المستوى
١٨	أ	١ - القوانين والتشريعات / الندوات / البرامج / الحملات التوعوية (يكتفى بواحدة ويراعى لغة وأسلوب الطالب) ٢ - بنى المدرجات الجبلية / عمر الواحات الصحراوية / مخر عباب البحر دراسات الجدوى (يكتفى بواحدة ويراعى لغة وأسلوب الطالب) ٣ - من خلال طرح حزمة من المشاريع لتنميتها أو تنفيذ العديد من المشاريع / موزعة مع مختلف محافظات السلطنة (يكتفى بواحدة فقط مع مراعاة لغة وأسلوب الطالب)	١٠٥ ٩٠ ٨٤	٢ ٢ ١	فهم وتطبيق
١٨	ب	١ - وعاء الحضارة و عنوانها / تحدث بها العماني منذ قديم الزمان / وسيلة للتقاهم والتواصل والإنتاج الفكري / تعود إليها أصل اللهجات العمانية من مسندم إلى صلالة. (يكتفى بواحدة فقط مع مراعاة لغة وأسلوب الطالب) ٢ - المعيار: عدد العاملين وحجم المبيعات أو الإيرادات السنوية سبب اعتماد هذا المعيار: تماشيا مع الوضع الاقتصادي في البلاد أو لأنها أكثر معايير التصنيف شيوعا	١٠٠ ١٠١ ٨٨	١ ½ ½	فهم وتطبيق
١٨	ج	خطاب حضرة صاحب الجلالة السلطان هيثم بن طارق - حفظه الله ورعاه - في ٢٢ فبراير ٢٠٢٠م مجالات قطاع المؤسسات الصغيرة والمتوسطة الابتكار النقاء الاصطناعي التقنيات المتقدمة ويمكن قبول أيضا/ تدريب وتمكين الشباب (ولا يشترط الترتيب)	٩١	½ + ½	قدرات عليا

السؤال	المفردة	الإجابة	الصفحة	الدرجة	المستوى
١٩	أ	١ - سرعة الحصول على المعلومات وانتشارها متخطية الحواجز والحدود الدولية / سهلت التواصل بين الأفراد على مستوى العالم / وفرت لهم حرية الرأي والتعبير / طفرة كبيرة في المعارف العلمية والتكنولوجية التي شملت جميع مجالات الحياة. <u>(يكتفى باثنتين ولكل واحدة منها درجة ويراعى لغة وأسلوب الطالب)</u> ٢ -	١٠٣	٢	معرفة
		أ - تسعى الشعوب للمحافظة على تراثها وقيمها أو للمحافظة على التراث والقيم والعادات والتقاليد / ما يلوح في الأفق من تحديات عالمية بما تحمله من مؤثرات ثقافية <u>(يكتفى بواحدة فقط مع مراعاة لغة وأسلوب الطالب)</u> ب - لما لها من دور إيجابي في تطوير الاقتصاد ونموه / أصبحت الركيزة الأساسية للاقتصاد العالمي / لمساهمتها الكبيرة في الناتج المحلي الإجمالي في كثير من دول العالم <u>(يكتفى بواحدة فقط مع مراعاة لغة وأسلوب الطالب)</u>	١٠٣	١	فهم وتطبيق
		ب - لما لها من دور إيجابي في تطوير الاقتصاد ونموه / أصبحت الركيزة الأساسية للاقتصاد العالمي / لمساهمتها الكبيرة في الناتج المحلي الإجمالي في كثير من دول العالم <u>(يكتفى بواحدة فقط مع مراعاة لغة وأسلوب الطالب)</u>	٨٧	١	فهم وتطبيق
١٩	ب	١ - الطريق السريع الجديد بين السلطنة والمملكة العربية السعودية في القطاع اللوجستي / مشروع النماء للدواجن بولاية عبري في قطاع الصناعات التحويلية <u>(يكتفى بواحدة فقط ولا يشترط ذكر نوع القطاع الذي تمثله مع مراعاة لغة وأسلوب الطالب)</u> ٢ -	٨٤	١	فهم وتطبيق
			٨٤	١	فهم وتطبيق



قدرات عليا	1/2	37	1. (3) 1932م	ج	19
	1/2	38	2. (1) 1970م		
	1/2	39	3. (2) 1954م		
	1/2	47	4. (4) 1833م		
( لكل ترتيب صحيح 1/2 درجة ولا يشترط ذكر التاريخ )					

السؤال	المفردة	الاجابة	الصفحة	الدرجة	المستوى
20	أ	1 - ( سوق العمل ) 2 - (المواطنة الرقمية) 3 - ( الهوية أو الهوية الوطنية) 4 - ( هيئة تنمية المؤسسات الصغيرة والمتوسطة)	80 105 100 88	1 1 1 1	معرفة
20	ب	1 - اللغة العربية 2 - الجغرافيا 3 - الدين الاسلامي 4 - التاريخ	101	1/2 1/2 1/2 1/2	قدرات عليا
20	ج	1 - حضارة مجان أو ماجان أو مزون 2 - حضارات بلاد السند والسند أو حضارة ميلوخي / حضارات بلاد الرافدين أو السومرية أو البابلية أو الأشورية أو الاكادية / حضارة النيل أو وادي النيل أو الفرعونية أو المصرية القديمة <u>(يكتفى بواحدة فقط)</u>	101 102	1 1	معرفة



السؤال	المفردة	الإجابة	الصفحة	الدرجة	المستوى
٢١	أ	إيجابية √ - من خلال تعريفه بتراث وطنه ومكتسباته الحضارية والقيم والعادات التي يتحلى بها أو سلبية √ - على الجوانب الثقافية والاجتماعية الثقافية: دخلت على اللغة العربية العديد من المفردات الأجنبية، كما انتقلت مجموعة من الأفكار والسلوكيات التي تخالف مبادئ الدين الإسلامي الاجتماعية: ظهور قيم مغايرة للقيم السائدة في المجتمع وانتشار العزلة الاجتماعية وقلة التجمعات الأسرية ، نتج عنها العديد من القضايا التي أصبحت تؤرق الكثير من المجتمعات ( تقبل أي من الاجابتين بشرط ذكر السبب الصحيح ويكتفى بسبب واحد فقط، الإجابة درجة والسبب درجة )	١٠٤	٢	قدرات عليا
٢١	ب	١ - سوق العمل المحكم: الذي يزيد فيه عدد الوظائف المتاحة عن عدد الباحثين عن عمل أو الذي يزيد فيه الطلب على العرض سوق العمل الراكد: الذي يزيد فيه عدد الباحثين عن العمل على عدد الوظائف أو الذي يزيد فيه العرض على الطلب ٢ - ارتفاع أعداد الباحثين عن عمل / عدم امتلاك بعض المخرجات التعليمية للمهارات الوظيفية اللازمة لسوق العمل . (يكتفى بواحدة فقط مع مراعاة لغة وأسلوب الطالب)	٨٠	١	فهم وتطبيق معرفة

(انتهى النموذج)

محمد إسماعيل عبدالله البلوشي

معلم أول تاريخ

مدرسة نعيم بن مسعود / صحار