


شكراً لتحميلك هذا الملف من موقع المناهج العمانية



## اختبار قصير ثاني

موقع المناهج ← المناهج العمانية ← الصف الثاني عشر ← هذا وطني ← الفصل الثاني ← الملف

## التواصل الاجتماعي بحسب الصف الثاني عشر



## روابط مواد الصف الثاني عشر على تلغرام

[الرياضيات](#)

[اللغة الانجليزية](#)

[اللغة العربية](#)

[التربية الاسلامية](#)

## المزيد من الملفات بحسب الصف الثاني عشر والمادة هذا وطني في الفصل الثاني

<a href="#">اختبارات تدريبية لامتحانات النهائية والقصيرة</a>	1
<a href="#">دفتر الطالب مع اختبارات قصيرة ونهائية للمنهج</a>	2
<a href="#">أسئلة اختبارات قصيرة ونهائية للوحدة الرابعة مع الإجابة</a>	3
<a href="#">أسئلة اختبارات قصيرة ونهائية للوحدة الثالثة مع الإجابة</a>	4
<a href="#">اختبار قصير ثاني</a>	5

## اختبار قصير (2)

اسم الطالب: ..... الصف: 12/.....

درجات: (3)

السؤال الأول : ظلل على الإجابة الصحيحة من بين البدائل المعطاة :

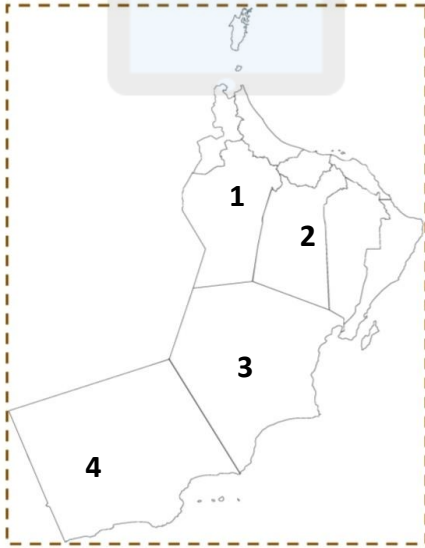
1-:الاقتصاد القائم على المعرفة هي أحد نتاجات :

 الثورة الصناعية الثالثة  التواصل الاجتماعي  الثورة الصناعية الرابعة  حوار الحضارات

2-الوزارة المسؤولة عن تنفيذ مشاريع البنية الأساسية لمجتمع عمان الرقمي وحدات الجهاز الإداري :



3- الرقم الذي يشير الى المحافظة التي أنتصر فيها الجيش السلطاني العماني على الحركة المتمردة :

2 1 4 3 

درجات: (4)

السؤال الثاني : أجب عن الأسئلة التالية:

1 - اكتب مرتكزات الهوية العمانية حسب الجدول الموضح أدناه :

المرتكزات	الخصائص
.....	مصدر الهام ومنبع تشريع .
.....	تواصل عمان مع الحضارات الأخرى .

2- برهن على تمسك الانسان العماني بأرضه رغم قساوة التضاريس:



3- أمامك صورة تمثل أحد تقنيات الثورة الصناعية:

- أ- سم التقنية الموجودة في الصورة ( ..... )  
ب- عرف بالثورة التي تنتمي لها هذه الصورة .

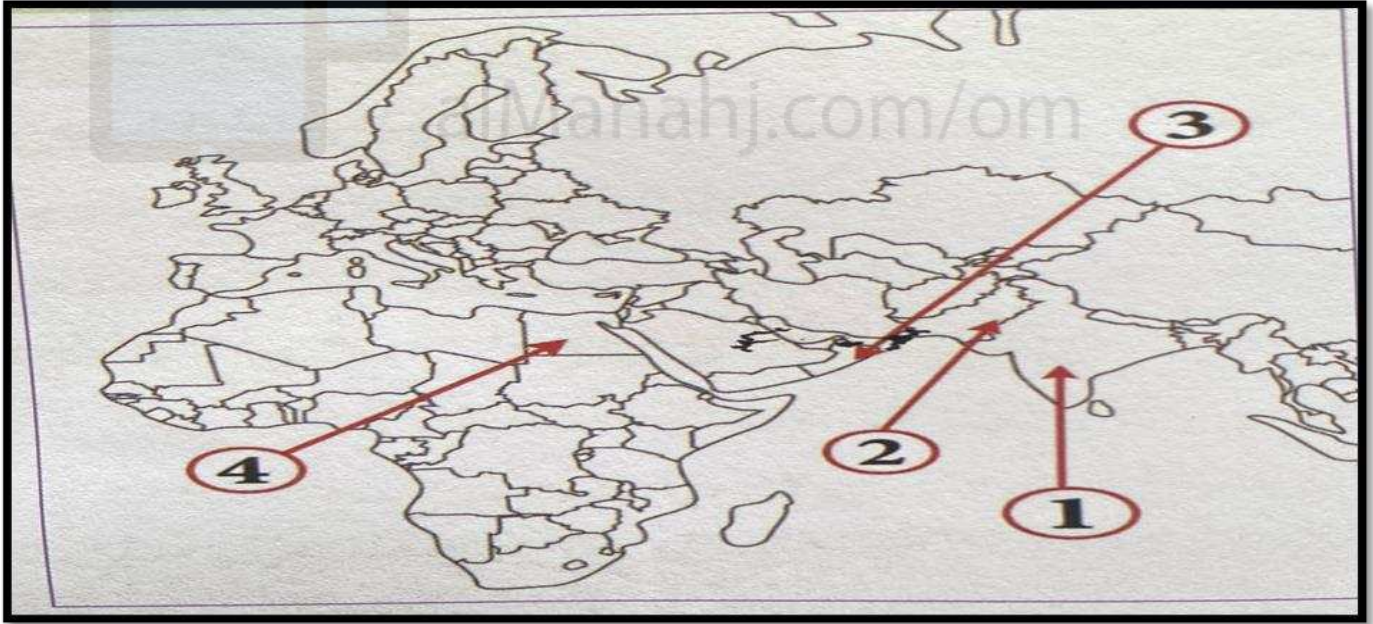
4- أذكر اثنين من خصائص الاقتصاد القائم على المعرفة .

تم تحميل هذا الملف من

درجات: (3)

السؤال الثالث: أجب عن الأسئلة التالية:

1- من خلال الخريطة التي امامك اجب عن الاتي:



- أ- الحضارة التي يشير لها الرقم (1) .....  
ب- اكتب اسم المسطح المائي الذي يربط بين الحضارات المشار لها بالأرقام (1,2,3) في موقعه الصحيح على الخريطة  
ج- اسم الحضارة المشار لها بالرقم (4) .....  
واذكر الجهة التي تقع بها بالنسبة لعمان .....

أنتهت الأسئلة مع تمنياتي للجميع بالنجاح

أ/ داوود الجلنداني