

تم تحميل هذا الملف من موقع المناهج العُمانية



\*للحصول على أوراق عمل لجميع الصفوف وجميع المواد اضغط هنا

<https://almanahj.com/om>

\* للحصول على أوراق عمل لجميع مواد الصف الثاني عشر اضغط هنا

<https://almanahj.com/om/12>

\* للحصول على جميع أوراق الصف الثاني عشر في مادة هذا وطني ولجميع الفصول, اضغط هنا

<https://almanahj.com/om/12country>

\* للحصول على أوراق عمل لجميع مواد الصف الثاني عشر في مادة هذا وطني الخاصة بـ الفصل الثاني اضغط هنا

<https://almanahj.com/om/12country2>

\* لتحميل كتب جميع المواد في جميع الفصول للـ الصف الثاني عشر اضغط هنا

<https://almanahj.com/om/grade12>

\* لتحميل جميع ملفات المدرس أسماء بنت محمد البلوشي اضغط هنا

للتحدث إلى بوت على تلغرام: اضغط هنا

[https://t.me/omcourse\\_bot](https://t.me/omcourse_bot)



## أسئلة مراجعة في درس المؤسسات الصغيرة والمتوسطة لمدة هذا وطني للصف الثاني عشر

سلطنة عمان

وزارة التربية والتعليم


المديرية العامة للتربية والتعليم بمسقط

مدرسة شاطئ القرم للتعليم ما بعد الأساسي

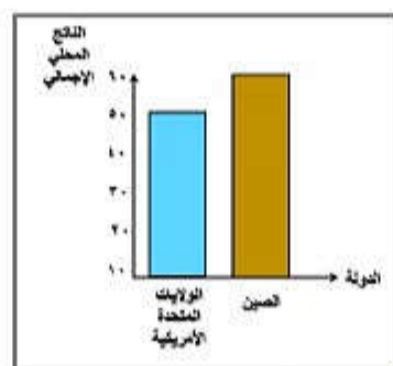
### الأسئلة الموضوعية:

اختر الإجابة الصحيحة من بين البدائل المعطاة:

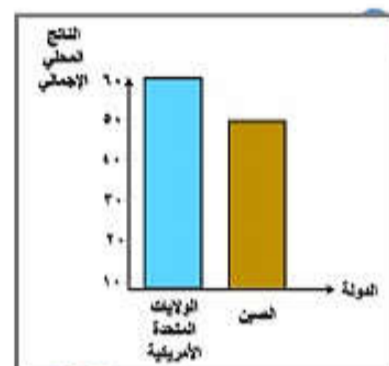
1) الشكل الصحيح الذي يوضح مساهمة المؤسسات الصغيرة والمتوسطة في الناتج المحلي الإجمالي لكل من الولايات المتحدة الأمريكية والصين لعام 2017م هو:



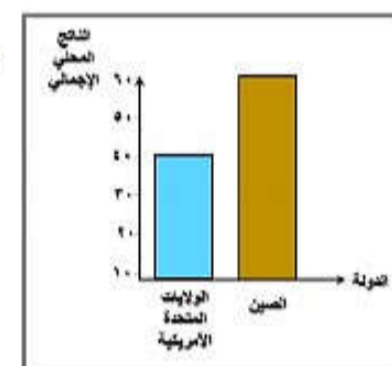
(د)



(ج)

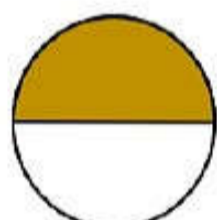


(ب)

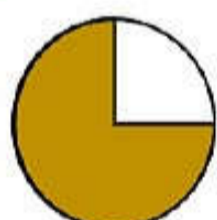


(أ)

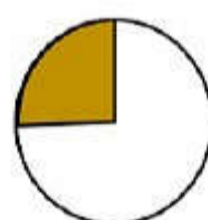
2) الشكل الصحيح الذي يوضح نسبة مساهمة المؤسسات الصغيرة والمتوسطة في الناتج المحلي الإجمالي للولايات المتحدة الأمريكية لعام 2017م هو:



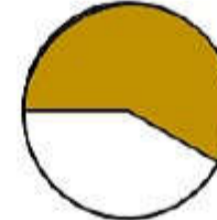
(د)



(ج)

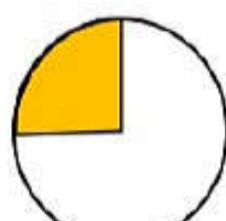


(ب)

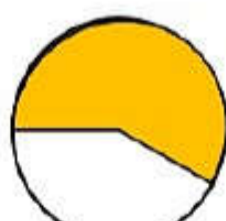


(أ)

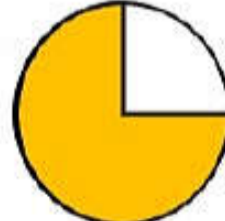
3) الشكل الصحيح الذي يوضح نسبة مساهمة المؤسسات الصغيرة والمتوسطة في الناتج المحلي الإجمالي لدولة الصين لعام 2017م هو:



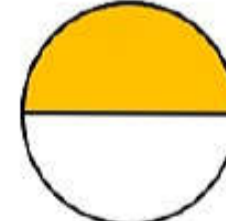
(د)



(ج)

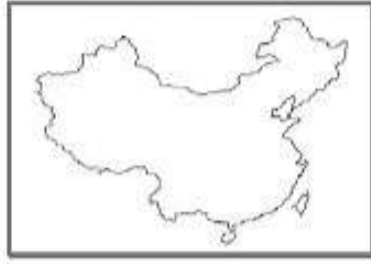


(ب)



(أ)

4) خريطة الدولة التي مثلت نسبة مساهمة المؤسسات الصغيرة والمتوسطة في الناتج المحلي الإجمالي 60% لعام 2017 هي:



(د)



(ج)



(ب)



(أ)

5) خريطة الدولة التي مثلت نسبة مساهمة المؤسسات الصغيرة والمتوسطة في الناتج المحلي الإجمالي 50% لعام 2017 هي:



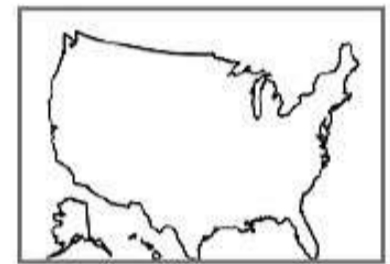
(د)



(ج)



(ب)



(أ)

6) جميع ما يلي يعد من فوائد المؤسسات الصغيرة والمتوسطة للمجتمع ما عدا:

- أ- تعزيز إقتصاد الدولة.  
 ب- تنمية المواهب والإبتكارات.  
 ج- الاستفادة من خامات البيئة.  
 د- تحقيق التوازن الجغرافي لعمليات التنمية.

7) تعتمد سلطنة عمان في تصنيف مؤسساتها الصغيرة والمتوسطة على معيارَي:

أ- بعد وقرب المنشأة من العاصمة  
 ب- عدد العاملين وتخصص رائد الأعمال  
 ج- عدد العاملين والإيرادات السنوية  
 د- الإيرادات السنوية ومساحة المؤسسة

8) محمد رائد أعمال عماني لشركة المنسوجات العمانية ويعمل في الشركة 50 عاملا، تصنف هذه الشركة حسب معايير تصنيف المؤسسات الصغيرة والمتوسطة إلى مؤسسة:

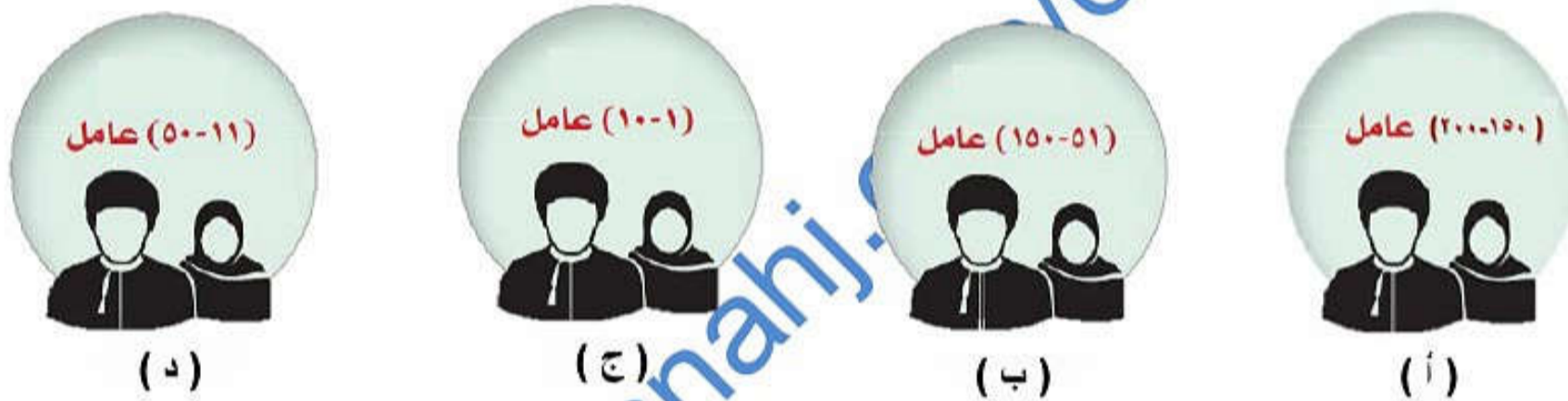
أ- صغرى  
 ب- صغيرة  
 ج- متوسطة  
 د- كبرى



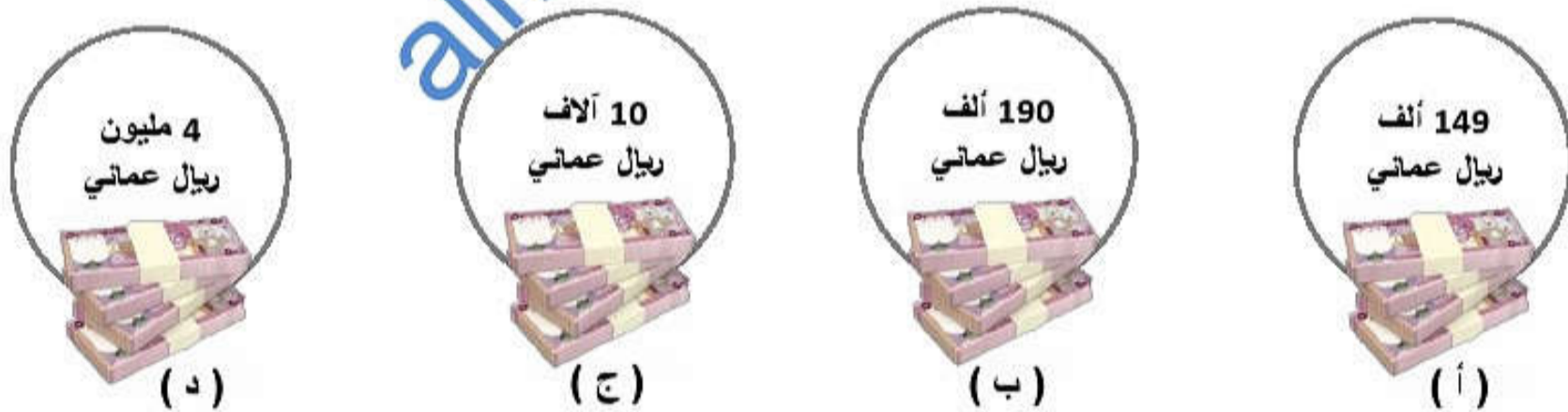
(9) جميع ما يلي يعدّ مؤسسة صغيرة حسب معايير تصنيف المؤسسات الصغيرة والمتوسطة في سلطنة عمان ما عدا:

الرمز	حالة المؤسسة
أ	مؤسسة لتصنيع مشتقات الألبان يبلغ عدد عمالها 30 عاملا
ب	مؤسسة لتصنيع المواد الغذائية يبلغ عدد عمالها 44 عاملا
ج	مؤسسة للاختراعات الصغيرة يبلغ إيراداتها السنوية 150 ألف ريال عماني
د	مؤسسة لتصنيع الألومنيوم يبلغ إيراداتها السنوية 2 مليون ريال عماني

(10) الشكل الذي يعبر عن عدد العاملين الذي تصنّف على أساسه المؤسسة بأنها صغرى هو:



(11) الشكل الذي يعبر عن الإيرادات السنوية التي تصنّف على أساسها المؤسسة بأنها متوسطة هو:



12) المؤسسة التي تُعنى بتنمية وتطوير المؤسسات الصغيرة والمتوسطة والتخطيط والترويج لها هي:



(ب)



(أ)



(د)



(ج)

13) الوزارة التي كانت تتبع لها المديرية العامة لتنمية المؤسسات الصغيرة والمتوسطة هي:

أ- وزارة العمل      ب- وزارة التنمية الاجتماعية      ج- وزارة التجارة والصناعة (سابقا)      د- وزارة الإسكان

14) جميع ما يلي تقوم به هيئة تنمية المؤسسات الصغيرة والمتوسطة ما عدا:

الخدمات اللوجستية

(د)

التخطيط

(ج)

رعايتها وتطويرها

(ب)

الترويج

(أ)

15) نسبة إلزام الشركات المنفذة للمشاريع الكبيرة من قيمة المناقصة للمؤسسات الصغيرة والمتوسطة هي:

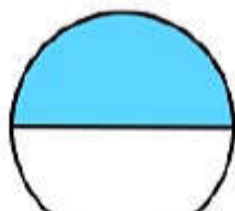
د- 40%

ج- 30%

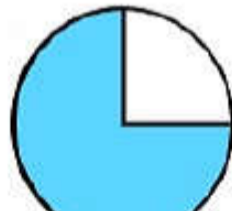
ب- 20%

أ- 10%

16) الشكل الذي يعبر عن نسبة إلزام الشركات المنفذة للمشاريع الكبيرة من قيمة المناقصة للمؤسسات الصغيرة والمتوسطة هي:



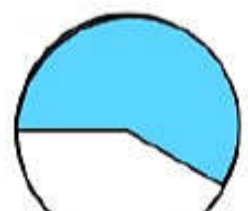
(د)



(ج)



(ب)



(أ)



17) يعدّ تسريع تسليم الدفعات المالية للمؤسسات المرتبطة بمشاريع حكومية ضمن جهود هيئة تنمية المؤسسات الصغيرة والمتوسطة في مجال:  
 أ- الدعم الحكومي      ب- التمويل      ج- القوانين والتشريعات      د- تعزيز ثقافة ريادة الأعمال

18) إحدى النقاط التالية لا تعبر عن جهود هيئة تنمية المؤسسات الصغيرة والمتوسطة ضمن مجال تعزيز ثقافة ريادة الأعمال:

أ- تنفيذ برامج تدريبية      ب- تضمين مفاهيم ريادة الأعمال في المناهج التعليمية  
 ج- تخصيص الأراضي للاستثمار      د- تبني نماذج لمشاريع ريادة الأعمال في البيئة المدرسية

19) يعرف مشروع المحطة الواحدة التابع لوزارة التجارة والصناعة سابقاً باسم:

أ- ريادة      ب- محطة عمان      ج- استثمار بسهولة      د- استثمار ونماء

20) الشكل الصحيح للجهود التي تقوم بها هيئة تنمية المؤسسات الصغيرة والمتوسطة :



21) المجال الذي تعبر عنه العبارة التالية ضمن جهود هيئة تنمية المؤسسات الصغيرة والمتوسطة "مريم طالبة في الصف الحادي عشر، استفادت من درس ريادة الأعمال في مادة التوجيه المهني في انشاء مشروع بيع الاكسسوارات" هو:

أ- التمويل      ب- الدعم الحكومي      ج- القوانين والتشريعات      د- تعزيز ثقافة ريادة الأعمال

### الأسئلة المقالية:

- 1- فسّر العبارة التالية: "للمؤسسات الصغيرة والمتوسطة أهمية كبيرة".....
- 2- عدد اثنين من مميزات المؤسسات الصغيرة والمتوسطة.....
- 3- دلي/برهن/ما الدليل/ لماذا.
- " أصبحت المؤسسات الصغيرة والمتوسطة الركيزة الأساسية للاقتصاد العالمي".....
- 4- عدد فوائد المؤسسات الصغيرة والمتوسطة؟.....
- 5- صنّف الفوائد السابقة إلى فوائد خاصة بالفرد وفوائد خاصة بالمجتمع.....
- 6- ما المعايير التي تعتمد عليها سلطنة عمان في تصنيف المؤسسات الصغيرة والمتوسطة؟.....
- 7- أكمل الجدول الآتي:

نوع المؤسسة	مؤسسة صغيرة	.....	.....
عدد العاملين	.....	.....	51 – 150 عامل
الإيرادات السنوية	..... من 150 ألف ريال عماني	من 150 ألف ريال عماني إلى أقل من مليون و250 ألف ريال عماني	من مليون و250 ألف ريال عماني إلى .....

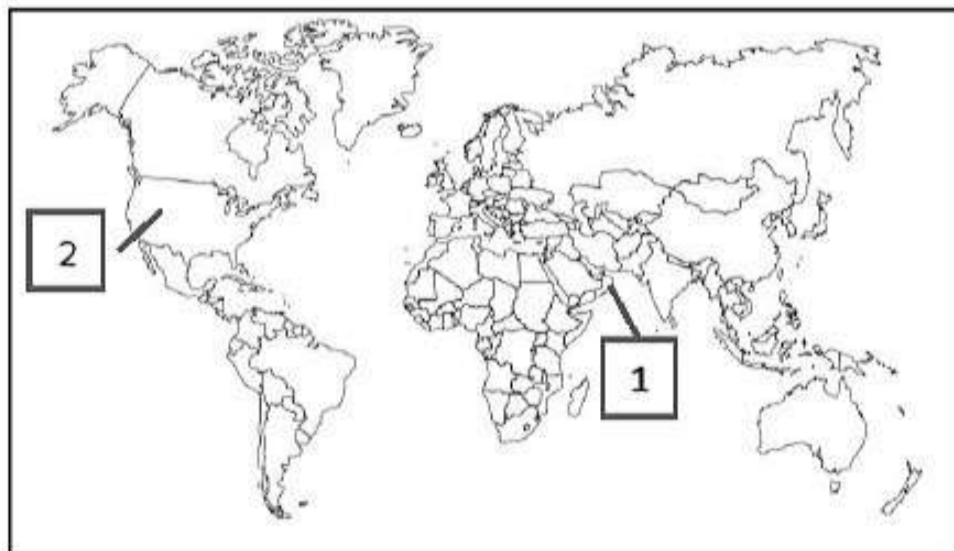
8- الشكل الذي أمامك يوضح شعار هيئة تنمية المؤسسات الصغيرة والمتوسطة.



- أ- ما لاسم الذي أطلق على هذه المؤسسة سابقاً؟.....
- ب- ما اسم الوزارة التي كانت المظلة الرسمية لهذه المؤسسة سابقاً؟.....
- ج- وضح دور هذه الهيئة في دعم المشاريع الصغيرة والمتوسطة.....

9- ماذا تعرف عن مشروع المحطة الواحدة؟ ( اسم المشروع، اسم الوزارة التابع لها هذا المشروع سابقاً، اسم المجال الذي ينتمي إليه ضمن جهود هيئة تنمية المؤسسات الصغيرة والمتوسطة).

- 10- عدد جهود هيئة تنمية المؤسسات الصغيرة والمتوسطة؟
- 11- اعط أربعة من الخدمات التي تقدمها هيئة تنمية المؤسسات الصغيرة والمتوسطة؟
- 12- ادرس الخريطة التي أمامك ثم قم بالإجابة على الأسئلة التالية:



أ- الرقم الذي يشير إلى الدولة التي بلغت نسبة مساهمة المؤسسات الصغيرة والمتوسطة في ناتجها المحلي إلى 50% هو .....

ب- ظلل الدولة التي بلغت نسبة مساهمة المؤسسات الصغيرة والمتوسطة في ناتجها المحلي عام 2017م إلى 60%.