

تم تحميل هذا الملف من موقع المناهج العمانية



امتحان تجريبي رابع مع نموذج الإجابة من كتاب الإبحار

موقع فايلاتي ⇨ المناهج العمانية ⇨ الصف الثاني عشر ⇨ هذا وطني ⇨ الفصل الأول ⇨ الامتحان النهائي ⇨ الملف

تاريخ إضافة الملف على موقع المناهج: 2025-01-30 14:28:32

ملفات اكتب للمعلم اكتب للطالب الاختبارات الكترونية الاختبارات ا حلول اعروض بوربوينت ا أوراق عمل
منهج انجليزي ا ملخصات وتقارير ا مذكرات وبنوك الامتحان النهائي للمدرس

المزيد من مادة
هذا وطني:

التواصل الاجتماعي بحسب الصف الثاني عشر



صفحة المناهج
العمانية على
فيسبوك

الرياضيات

اللغة الانجليزية

اللغة العربية

التربية الاسلامية

المواد على تلغرام

المزيد من الملفات بحسب الصف الثاني عشر والمادة هذا وطني في الفصل الأول

امتحان تجريبي ثالث مع نموذج الإجابة من كتاب الإبحار

1

امتحان تجريبي ثاني مع نموذج الإجابة من كتاب الإبحار

2

امتحان تجريبي مع نموذج الإجابة من كتاب الإبحار

3

ملخص المادة من سلسلة المحيط

4

ملخص آخر لدرس عمان في عصر النباهة حضارة وتواصل

5



امتحان تجريبي(٤) مادة: الدراسات الاجتماعية (هذا وطني)
للف: الثاني عشر
للعام الدراسي ١٤٤٤/١٤٤٥هـ - ٢٠٢٣/٢٠٢٤م
الفصل الدراسي الأول

- زمن الامتحان: (ثلاث ساعات)
- الإجابة في الدفتر نفسه.
- عدد صفحات أسئلة الامتحان: (١٢)

اسم الطالب		
المدرسة	نعيم بن مسعود للتعليم الأساسي ١٠-١٢	الصف
		١٢ /

السؤال	الدرجة		التوقيع بالاسم	
	بالأرقام	بالحروف	المصحح الأول	المصحح الثاني
١٤ - ١				
١٥				
١٦				
١٧				
١٨				
١٩				
٢٠				
٢١				
المجموع			جمعه	مراجعة الجمع
المجموع الكلي				

(١)

المادة: الدراسات الاجتماعية (هذا وطني) الصف: الثاني عشر
الامتحان التجريبي (٤) - الفصل الدراسي الأول - العام الدراسي ٢٠٢٣/٢٠٢٤ م

أجب عن جميع الأسئلة الآتية

أولاً: الأسئلة الموضوعية

ضلل الشكل المقترن بالإجابة الصحيحة لكل مفردة من المفردات الآتية:

١ - يعد بيت القرن من نماذج حلقات تحفيظ القرآن الكريم في عهد الامام أحمد بن سعيد وهو وقف

للسيد: نادر بن فيصل البوسعيدي فيصل بن حمود البوسعيدي

راشد بن عزيز الخصيبي محمد بن علي بوذينة

٢ - من مؤلفات موسى بن حسين بن شوال الحسيني :

ديوان الكيذاوي النونية الكبرى الأرجوزة الحجازية منظومة في تكبيرة الاحرام



٣ - تمثل الصورة الآتية قلعة:

بهلاء

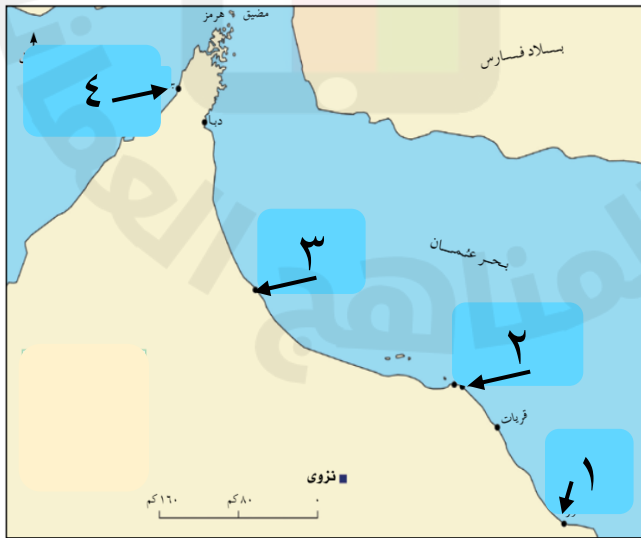
الراوية

الفيقين

صحار

٤ - بلغت حجم تجارة ميناء مسقط خمسة أثمان مجموع التجارة في منطقة الخليج في العقد الأخير من القرن
الميلادي:

الخامس عشر السادس عشر السابع عشر الثامن عشر



٥ - الرقم الذي يشير إلى حاضرة

منطقة الصير في عصر اليعاربة:

١

٢

٣

٤

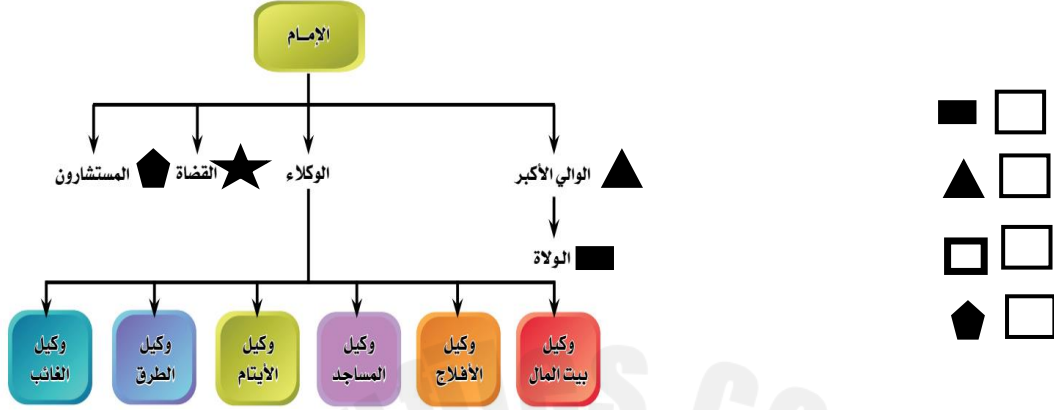
يتبع ٢/

(٢)

المادة: الدراسات الاجتماعية (هذا وطني) الصف: الثاني عشر
الامتحان التجريبي(٤) الفصل الدراسي الأول - العام الدراسي ٢٠٢٢/٢٠٢٣م

تابع أولاً: الأسئلة الموضوعية

٦ - الشكل الصحيح الذي يشير إلى المنصب الذي شغله الشيخ عبدالله بن محمد بن غسان في التنظيم الإداري الذي امامك:



٧ - من السلع التي استوردت إلى عمان في العصر النباني واليعربي من الهند:

الأرز خشب الساج التوابل الملابس

٨ - يعد امتلاك عُمان للعديد من مقومات السياحة البيئية من أهمية التنوع الأحيائي في الناحية:

الاجتماعية الاقتصادية الطبية البيولوجية

٩ - تلبية لنداء استغاثة ضد البرتغاليين أرسل الامام سيف بن سلطان الأول حملة إلى ممباسا في العام الميلادي:

١٦٩٥ ١٦٩٦ ١٦٩٧ ١٦٩٨

١٠ - الشكل الصحيح الذي يمثل الصورة والنظام البيئي التي تنتمي إليه:



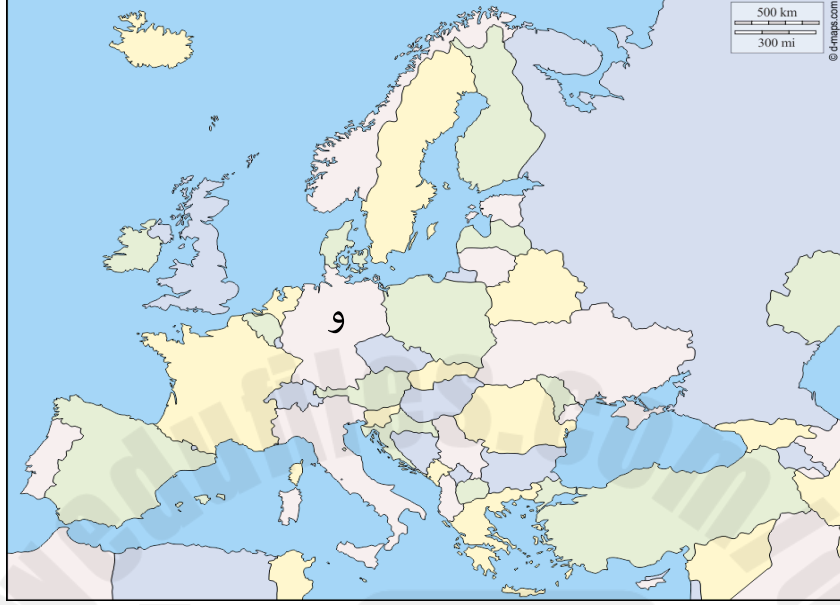
يتبع/٣

(٣)

المادة: الدراسات الاجتماعية (هذا وطني) الصف: الثاني عشر
الامتحان التجريبي (٤) الفصل الدراسي الأول - العام الدراسي ٢٠٢٣/٢٠٢٤م

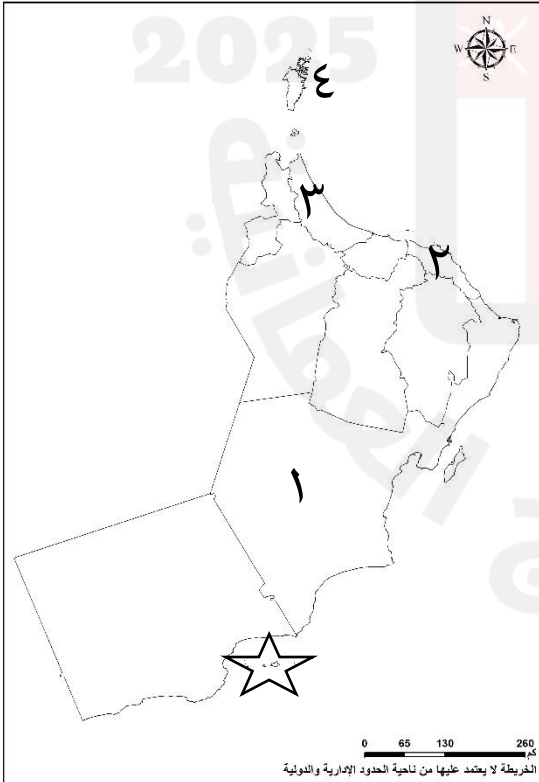
تابع أولاً: الأسئلة الموضوعية

١١ - عنوان المؤتمر الذي عقد بالدولة المشار لها بالرمز (و) والذي صادقت عليه سلطنة عُمان في الخريطة التي امامك:



الأطراف المعنية بإدارة المخلفات الخطرة والمواد الكيماوية
 قمة الأرض
 تغير المناخ
 الاحتباس الحراري

من خلال الخريطة أجب عن المفردتين ١٢ و١٣:



١٢ - الرقم الذي يشير إلى إحدى المحافظات العُمانية التي تتميز
بجمال مناظرها المتمثلة بشعابها المرجانية:

١ ٢ ٣ ٤

١٣ - تعرف الجزر المشار لها بالرمز (☆) بـ:

الديناميات مصيرة الحلايات أم الغنم

يتبع/٤

للحصول على نسخة كاملة من كتاب "الإبحار إلى الدراسات الاجتماعية" 95607005

(٤)

المادة: الدراسات الاجتماعية (هذا وطني) الصف: الثاني عشر
الامتحان التجريبي(٤) الفصل الدراسي الأول - العام الدراسي ٢٠٢٣/٢٠٢٤م

تابع أولاً: الأسئلة الموضوعية

١٤ - الشكل الصحيح الذي يمثل أهمية التنوع الأحيائي في المجالات المختلفة:



يتبع/٥

(٥)

المادة: الدراسات الاجتماعية (هذا وطني) الصف: الثاني عشر
الامتحان التجريبي(٤) الفصل الدراسي الأول - العام الدراسي ٢٠٢٣/٢٠٢٤م

الأسئلة المقالية:

١٥ - أ. اكتب اسم المفهوم أو المصطلح الدال على العبارات الآتية:

المفهوم أو المصطلح	العبرة	م
	تضم الكائنات الحية وما يحيط بها من ماء وهواء وغيرها من موارد طبيعية.	(١)
	تتضمن كل ما أنشأه الإنسان نتيجة تفاعله واستثماره لموارد بيئته الطبيعية.	(٢)

ب. صنف الإنجازات الآتية بالجدول بكتابة العصر الذي تنمي إليه (النبهاني، يعربي، البوسعيدي).

العصر الذي تنمي إليه	الانجاز
_____	أصبحت الموانئ العُمانية مسقط ومطرح وصور من أهم أحواض بناء السفن.
_____	أدخال المانجو وانتشار زراعته في عُمان.
_____	زيارة أول حاكم عربي إلى الولايات المتحدة الأمريكية.
_____	إعادة بناء قلعة عراد في البحرين.

ج . اذكر واحداً فقط من:

(١) - أسباب الانتقال السلس للحكم بعد وفاة السلطان قابوس - طيب الله ثراه - وتولى السلطان هيثم بن طارق المعظم.

(٢) - الأئمة الذين حاربوا ملوك النباهنة.

(٣) - عوامل انتهاء دولة اليعاربة.

يتبع/٦

المادة: الدراسات الاجتماعية (هذا وطني) الصف: الثاني عشر
الامتحان التجريبي (٤) الفصل الدراسي الأول - العام الدراسي ٢٠٢٣/٢٠٢٤م

تابع ثانياً: الأسئلة المقالية:

١٦- أ- " النفايات هي مجمل مخلفات الأنشطة الإنسانية المنزلية والزراعية والصناعية والإنتاجية، أي كل المهملات المتروكة في مكان ما، والتي يهدد إهمالها ويسبب إلى الصحة والسلامة العامة. وتنقسم النفايات إلى عدة أنواع من حيث خطورتها أو نوعيتها، ومنها:

النفايات الخطرة: هي تلك التي تشتمل مكوناتها على مركبات معدنية أو إشعاعية تؤدي إلى مشاكل بيئية خطيرة.

النفايات الصلبة: هي النفايات المكونة من مواد معدنية أو زجاجية، وتنتج عن النفايات المنزلية والصناعية والزراعية، وهي بحاجة إلى مئات السنين للتحلل، ويشكل تواجدها خطراً بيئياً

النفايات السائلة: هي مواد سائلة تتكون من خلال استخدام المياه في العمليات الصناعية والزراعية المختلفة. ومنها: الزيوت، ومياه الصرف الصحي. وهي تُلقى في مصادر المياه الجارية "الأنهار أو البحار"

النفايات الغازية: هي الغازات أو الأبخرة الناتجة عن حلقات التصنيع، والتي تتصاعد في الهواء من خلال المداخن الخاصة بالمصانع. ومن تلك الغازات: أول أكسيد الكربون، ثاني أكسيد الكبريت، الأكاسيد النيتروجينية.

وللتخفيف من آثارها السلبية على الإنسان وصحته ولسلامة البيئة ونظافة المجتمع تقوم الدول بعمليات إدارة النفايات، وذلك بجمعها ونقلها إلى الأماكن المخصصة لها ومن ثم معالجتها.

١- ما المفهوم الذي تشير إليه الصورة الآتية من المفاهيم التي تحتها خط في النص السابق؟



٢- صنف النفايات الواردة في الجدول الآتي، حسب نوعها التي تنتمي إليه من النفايات الواردة في النص

السابق.

نوعها التي تنتمي إليه من خلال النص السابق	النفايات
_____	تلك التي تحتفظ بسميتها أو قابليتها للاشتعال أو الانفجار وقد يكون لها نشاط إشعاعي
_____	ثاني أكسيد الكربون والكلور فلور كربون والميثان
_____	المياه الناتجة من عمليات التعدين والتصنيع
_____	مخلفات المنازل والمصانع وعميات البناء

(٧)

المادة: الدراسات الاجتماعية (هذا وطني) الصف: الثاني عشر
الامتحان التجريبي (٤) الفصل الدراسي الأول - العام الدراسي ٢٠٢٣/٢٠٢٤م

تابع ثانياً: الأسئلة المقالية:

ب . برهن على ما يأتي:

(١) - اهتمام السلطان تيمور بن فيصل بالجانب الثقافي.

(٢) - حرص السلطان سعيد بن تيمور بالعلاقات الخارجية مع الولايات المتحدة الأمريكية.

(٣) - ازدهار العمارة في عصر اليعاربة .

ج . من دراستك للجانب العمرني والعلمي في عصر اليعاربة " ، أجب عن السؤالين التاليين:
(١) - أعط مثال على المساجد التي بنيت في عصر اليعاربة.

(٢) - اذكر كتاب الف في التاريخ في هذا العصر.

١٧ - أ - ١ - "حبا لله عُمان تنوعاً فريداً في بيئاتها الطبيعية؛ مما اكسبها ثراً وتنوعاً في الحياة الفطرية" في ضوء العبارة أجب عن الأسئلة الآتية:

(١) - بم تفسر: تنوع بيئات سلطنة عُمان الطبيعية؟

(٢) - ما النتائج التي ترتبت على اعتماد العُمانيون على إمكانيات البيئة الطبيعية في إقامة بيئتهم المشيدة؟

ب - علل: تدشين مكتب مساندة الاقتصاد الأخضر في سلطنة عُمان بالتعاون مع اللجنة الاقتصادية والاجتماعية لغربي آسيا.

يتبع/٨

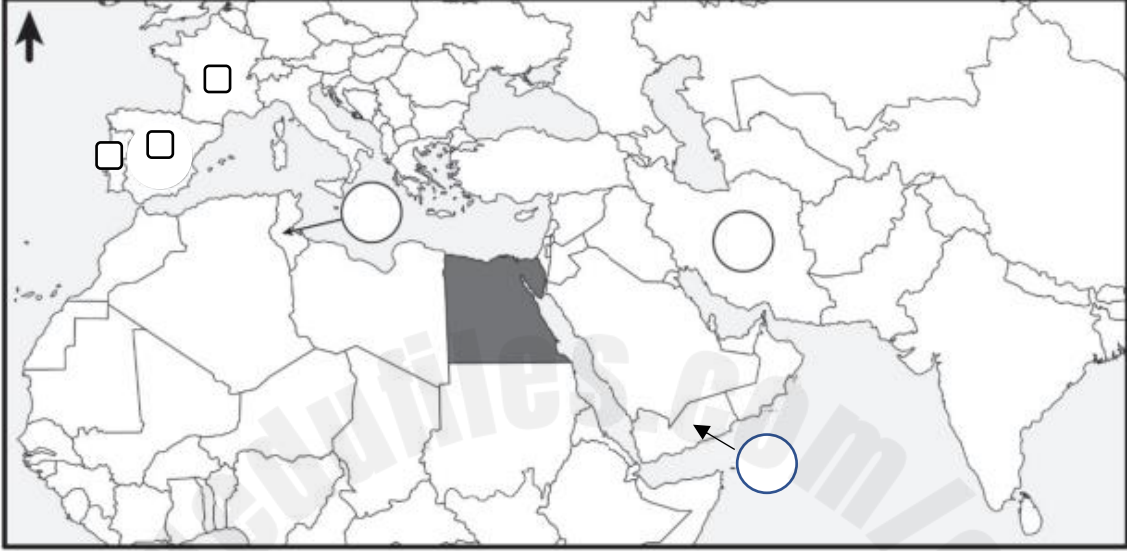
للحصول على نسخة كاملة من كتاب "الإبحار إلى الدراسات الاجتماعية" 95607005

(٨)

المادة: الدراسات الاجتماعية (هذا وطني) الصف: الثاني عشر
الامتحان التجريبي (٤) الفصل الدراسي الأول - العام الدراسي ٢٠٢٣/٢٠٢٤م

تابع ثانياً: الأسئلة المقالية:

ج . أدرس خريطة الوطن العربي جيداً، ثم أجب عن الأسئلة تليها:



- (١) - ما الدولة المضللة بالخريطة والتي زارها السلطان سعيد بن تيمور ؟ _____
(٢) - أكتب أرقام السلع الواردة في الجدول بمواقع الدول التي جلبت منها إلى عُمان بالقرن الثامن عشر الميلادي.

الرقم	السلعة
١	الملح
٢	البُن

- (٣) - ضلل المربع □ الصحيح الذي يشير إلى موقع الدولة التي تطورت العلاقات العمانية معها من خلال زيادة حجم التبادل التجاري عصر اليعاربة.

يتبع/٩

(٩)

المادة: الدراسات الاجتماعية (هذا وطني) الصف: الثاني عشر
الامتحان التجريبي (٤) الفصل الدراسي الأول - العام الدراسي ٢٠٢٣/٢٠٢٤م

تابع ثانياً: الأسئلة المقالية:

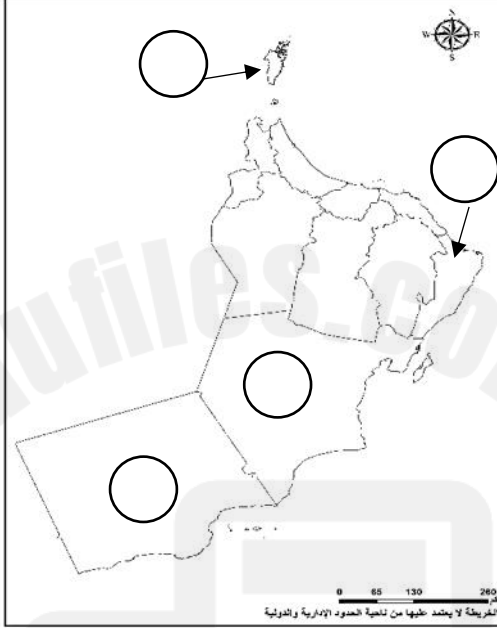
١٨ - أ. أدرس خريطة عُمان الإدارية، ثم اكتب في كل دائرة بالخريطة رمز الصورة التي تمثل المقوم الصحيح للسياحية البيئة بموقع المحافظة:



ب



د



أ



ج

ب. من دراستك لـ(علاقات عُمان الخارجية في عصر النباهنة" أجب عن الأسئلة الآتية:
١ - بماذا تصف طبيعة علاقات النباهنة مع اليمن؟

٢ - سم:

أ - ملك مملكة هرمز الذي غزا عُمان.

ب - الجزيرة التي هاجر إليها الملك النبهاني سليمان بن نبهان بن مظفر.

٣ - ما الأسباب التي جعلت الملك محمد بن أحمد النبهاني عظيماً؟

(١٠)

المادة: الدراسات الاجتماعية (هذا وطني) الصف: الثاني عشر
الامتحان التجريبي (٤) الفصل الدراسي الأول - العام الدراسي ٢٠٢٣/٢٠٢٤م

تابع ثانياً: الأسئلة المقالية:

١٩ - أ. (١) - ما الحصن الذي يقع في مقيات بولاية عبري ويرجع تاريخ بنائه إلى ٩٧٢هـ؟

(٢) - ما الدور الذي قام به الامام ناصر بن مرشد في مواجهة البرتغاليين؟

ب. من دراستك لطرق التخلص من أجب عن السؤالين الآتين:
١ - سم طرق التخلص من النفايات في الشكلين (١،٢).

الشكل (٢): طريقة	الشكل (١): طريقة

٢ - متى انضمت سلطنة عُمان إلى اتفاقية ميناماتا؟ وما موضوعها؟

ج. اذكر التاريخ الميلادي لما يأتي:

١ - صدور قانون حماية البيئة ومكافحة التلوث.

٢ - إنشاء وزارة للبيئة في سلطنة عمان.

(١١)

المادة: الدراسات الاجتماعية (هذا وطني) الصف: الثاني عشر
الامتحان التجريبي (٤) الفصل الدراسي الأول - العام الدراسي ٢٠٢٣/٢٠٢٤م

تابع ثانياً: الأسئلة المقالية:

٢٠ - أعلل لما يأتي:

١ - جعل الامام سلطان بن سيف حامية في ظفار.

٢ - عين الفونسو دي البوكيرك نائبا لملك البرتغال في المشرق.

٣ - يعد تنظيم المحكمة من نماذج التطور الإداري في عصر النباهنة.

ب. أعط دليلين على الأهمية الاقتصادية لإدخال زراعة القرنفل إلى زنجبار ١٨٤٢م.

ج. امامك خريطتان (١ ، ٢) توضحان إنجازات الأسطول العُماني في عصر البوسعيد، ادرسهما جيدا ثم
أجب عن الأسئلة الآتية:



الخريطة (٢)



الخريطة (١)

١ - ما الإنجاز المقصود في الشكل (١)؟

٢ - من الحاكم الذي كان في عهده الإنجاز الواضح في الشكل (٢)؟

٣ - ضع دائرة في الخريطة (٢) على المدينة التي ولد فيها الامام ناصر بن مرشد اليعربي.

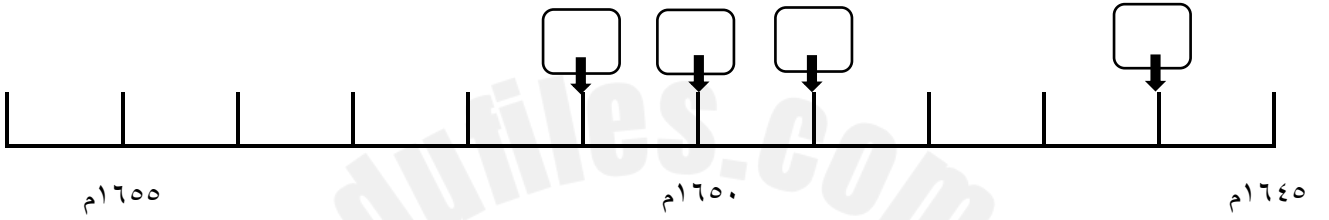
(١٢)

المادة: الدراسات الاجتماعية (هذا وطني) الصف: الثاني عشر
الامتحان التجريبي(٤) الفصل الدراسي الأول - العام الدراسي ٢٠٢٣/٢٠٢٤م

تابع ثانياً: الأسئلة المقالية:

٢١ - أ. أكتب أرقام العبارات الآتية التي تمثل الأحداث التي وقعت في عصر اليعاربة داخل المربعات في المسطرة الزمنية التالية:

- ١ - تحرير مسقط ومطرح من السيطرة البرتغالية.
- ٢ - اتفاقية اليعاربة مع شركة الهند الشرقية البريطانية.
- ٣ - وفاة الامام ناصر بن مرشد.
- ٤ - المشروع اليعربي مع هولندا لتسهيل نقل بضائعهم عبر الأراضي العمانية إلى ميناء البصرة.



ب. من دراستك لقضية انقراض الحيوانات، أجب عن الأسئلة الآتية:

١ - اذكر اثنين من الحيوانات المعرضة للانقراض على مستوى العالم.

٢ - ما المسطح المائي الذي يعيش على سواحله الصقر الأدهم في سلطنة عُمان؟

٣ - بم تفسر: إعلان السلطنة بعض المناطق كمحميات طبيعية؟

٤ - لماذا يصنف علماء البيئة بعض الحيوانات بأنها معرضة للانقراض؟

انتهت الأسئلة مع تمنياتنا للجميع بالنجاح والتوفيق

للحصول على نسخة كاملة من كتاب "الإبحار إلى الدراسات الاجتماعية" 95607005



نموذج إجابة امتحان الصف الثاني عشر
للعام الدراسي ١٤٤٤/١٤٤٥هـ - ٢٠٢٣/٢٠٢٤م
الامتحان التجريبي (٤) - الفصل الدراسي الأول

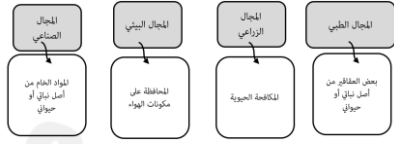
المادة: الدراسات الاجتماعية (هذا وطني)
تنبيهه: نموذج الإجابة في (٧) صفحات.
الدرجة الكلية: (٧٠) درجة.

أولاً: إجابة السؤال الموضوعي:

المفردة	الإجابة	الدرجة	الصفحة	المخرج التعليمي	المستوى المعرفي
١	فيصل بن حمود البوسعيدي	١	٤٦	الأولى	المعرفة
٢	ديوان الكيذاوي	١	٢٦ و ٢٣	الأولى	المعرفة
٣	الراوية	١	٤٤	الأولى	الفهم والتطبيق
٤	الثامن عشر	١	٤٢	الأولى	المعرفة
٥	٤	١	٢٦	الأولى	الفهم والتطبيق
٦	▲	١	٣٠	الأولى	القدرات العليا
٧	الأرز	١	٣٠ و ٢٢	الأولى	المعرفة
٨	الاقتصادية	١	٦٢ و ٦١	الثانية	الفهم والتطبيق
٩	١٦٩٨	١	٢٦	الأولى	الفهم والتطبيق
١٠	 المائية الجوية البرية	١	٥٣	الثانية	الفهم والتطبيق

تابع نموذج الامتحان التجريبي (٤)

تابع أولاً: الأسئلة الموضوعية:

المفردة	الإجابة	الدرجة	الصفحة	المخرج التعليمي	المستوى المعرفي
١١	تغير المناخ	١	٥٥	الثانية	الفهم والتطبيق
١٢	٢	١	٦٢	الثانية	الفهم والتطبيق
١٣	الحلانيات	١	٦٢ و ١١٥	الثانية	الفهم والتطبيق
١٤		١	٥٤	الثانية	الفهم والتطبيق
المجموع		١٤			

للحصول على نسخة كاملة من كتاب "الإبحار إلى الدراسات الاجتماعية" 95607005

2025

2024

موقع المناهج العماني

تابع ثانيا: إجابة الأسئلة المقالية:

المستوى المعرفي	المخرج التعليمي	الصفحة	الدرجة	الإجابة الصحيحة	المفردة	الجزئية	السؤال
المعرفة	الثانية	٥٢	½	البيئة الطبيعية (يجب كتابة الاسم كاملا وصحيحا)	١	أ	١٥
		٥٢	½	البيئة المشيدة (يجب كتابة الاسم كاملا وصحيحا)	٢		
المقدرات العليا	الأولى	١٨	١	البوسعيدي		ب	
		٤٣	١	النبهاني			
			١	البوسعيدي			
			١	اليعربي			
		٣٩	١	عراقة عمان / تماسك شعبها / حكمة حكامها (يكتفى بواحدة فقط)	١	ج	
		١٤	١	أبو الحسن خميس بن عامر الخروزي / محمد بن إسماعيل الحاضري (يكتفى بواحدة منها)	٢		
		٣٥	١	تنافس أفراد البيت اليعربي بمساندة رؤساء القبائل / قيام حروب طاحنة/ طمع الفرس في السيطرة على عمان (يكتفى بواحدة منها)	٣		

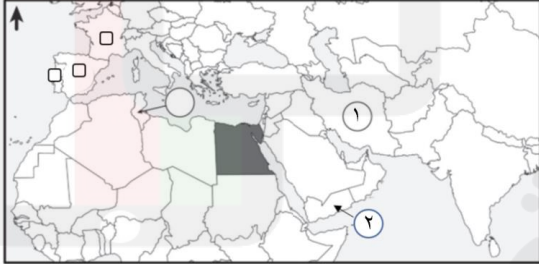
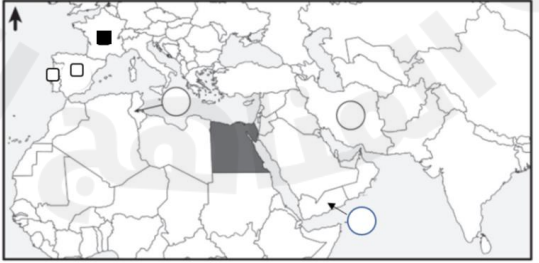
للحصول على نسخة كاملة من كتاب "الإبحار إلى الدراسات الاجتماعية" 95607005

تابع نموذج إجابة الامتحان التجريبي (٤)، الدراسات الاجتماعية للصف الثاني عشر ٢٠٢٣/٢٠٢٤ الفصل الدراسي الأول
تابع ثانيا: إجابة الأسئلة المقالية:

السؤال	الجزئية	المفردة	الإجابة الصحيحة	الدرجة	الصفحة	المخرج التعليمي	المستوى المعرفي	
١٦	أ	١	إدارة النفايات	١	٦٩	الثانية	المقدرات العليا	
		٢	النفايات الخطرة النفايات الغازية النفايات السائلة النفايات الصلبة	½ ½ ½ ½	٦٩			
		ب						
		١	طباعة ديوان الشاعر سعيد بن مسلم ١٩٣٧م في مدينة اوساكا باليابان على نفقته	١	٤٧	الأولى	الفهم والتطبيق	
		٢	عقد اتفاقية صداقة وعلاقات اقتصادية مع الولايات المتحدة الأمريكية / زار الولايات المتحدة الأمريكية / أول حاكم عربي يزور الولايات المتحدة الأمريكية	١	٣٧			
		٣	تأسيس مدينة الحمراء / تطوير قرية الحزم / بناء المساجد / الاهتمام بالعمارة العربية / بناء القلاع والحصون (يكتفى بواحدة فقط)	١	٤٥			
ج								
		١	مسجد اليعاربة	١	٢٦	الأولى	المعرفة	
		٢	قصص وأخبار جرت في عمان	١	٣٣			

للحصول على نسخة كاملة من كتاب "الإبحار إلى الدراسات الاجتماعية" 95607005

تابع نموذج إجابة الامتحان التجريبي (٤)، الدراسات الاجتماعية للصف الثاني عشر ٢٠٢٣/٢٠٢٤ الفصل الدراسي الأول
تابع ثانياً: إجابة الأسئلة المقالية:

السؤال	الجزئية	المفردة	الإجابة الصحيحة	الدرجة	الصفحة	المخرج التعليمي	المستوى المعرفي
١٧	أ	١	تعدد مظاهر السطح (التضاريس) حيث تضم الأرض العمانية أشكالاً مختلفة من التضاريس كالجبال والسهول والواحات والهضاب / الموقع الجغرافي والفلكي للسلطنة وما ترتب عليه من امتدادها على سواحل طويلة وتنوع مناخها مما أسهم في تنوع البيئة العمانية وتفردتها.	٢	٥٩	الثانية	الفهم والتطبيق
		٢	تعدد المهن والحرف التي اشتغلوا بها منذ القدم / تنوع أنماط حياتهم وعاداتهم وتقاليدهم/ مما أكسب المجتمع العماني ثراء وتنوع في مختلف مجالات الحياة (يكتفى بواحدة)	١	٦٠	الثانية	المعرفة
	ب		تطوير مشاريع إنتاجية تعني باستدامة البيئة من خلال الاستغلال الأمثل للموارد الطبيعية	١	٦٦	الأولى	الفهم والتطبيق
١٧	ج	١	مصر	١	٣٧	الأولى	الفهم والتطبيق
		٢		١	٤٢	الثانية	
		٣		١	٣٤	الأولى	

المستوى المعرفي	المخرج التعليمي	الصفحة	الدرجة	الإجابة الصحيحة	المفردة	الجزئية	السؤال
الفهم والتطبيق	الثانية	٦٢ ١١٥	٤			أ	١٨
المعرفة	الأولى	١٥	١	علاقات وطيدة (تبادل الهدايا بين الملك النبهاني أبو المعالي كهلان بن عمر بن نبهان مع ملك اليمن شمس الدين بن ازدمر)	١	ب	
		١٥ ١٦	١	أ - توران شاه ب - جزيرة باتي	٢		
		١٦	١	وسع من مملكته / ضم الجزر المجاورة لجزيرة باتي (واحدة وبها يفيد المعنى)	٣		

للحصول على نسخة كاملة من كتاب "الإبحار إلى الدراسات الاجتماعية" 95607005

تابع نموذج إجابة الامتحان التجريبي (٤)، الدراسات الاجتماعية للصف الثاني عشر ٢٠٢٣/٢٠٢٤ الفصل الدراسي الأول
تابع ثانياً: إجابة الأسئلة المقالية:

السؤال	الجزئية	المفردة	الإجابة الصحيحة	الدرجة	الصفحة	المخرج التعليمي	المستوى المعرفي
	أ	١	حصن الأسود	١	١٩	الأولى	المعرفة
		٢	قام بشن حملات منظمة استهدفت طرد البرتغاليين من مدن الساحل العماني حتى تمكن من تحرير معظمها والتضييق عليهم ومحاصرتهم في مسقط ومطرح وعقد معهم اتفاقية ١٦٤٨م ألزمتهم بدفع الجزية وتسليم بعض الحصون وحرية التجارة.	١	٢٦	الأولى	المعرفة
	ب	١	الشكل (١): طريقة الدفن الشكل (٢): طريقة التغويز البلازمي	١	٧٠	الثانية	القدرات العليا
		٢	٢٠٢٠م - الزئبق	١+١	٧١	الثانية	المعرفة
	ج	١ - ١٩٨٢م		١	٦٤	الثانية	المعرفة
		٢ - ١٩٨٤م		١	٦٦	الثانية	المعرفة

للحصول على نسخة كاملة من كتاب "الإبحار إلى الدراسات الاجتماعية" 95607005

تابع نموذج إجابة الامتحان التجريبي (٤)، الدراسات الاجتماعية للصف الثاني عشر ٢٠٢٣/٢٠٢٤ الفصل الدراسي الأول
تابع ثانيا: إجابة الأسئلة المقالية:

السؤال	الجزئية	المفردة	الإجابة الصحيحة	الدرجة	الصفحة	المخرج التعليمي	المستوى المعرفي
٢٠	أ	١	لثلا يتطرق عليها العدو فيتمركز فيها ويكون شره لعُمان من الجسم العماني أو للدفاع عنها وحمايتها	١	٢٧	الأولى	الفهم والتطبيق
		٢	برز كمبعوث قوي في ترسيخ سلطة البرتغاليين في إفريقيا وآسيا / نجح في السيطرة على أجزاء كبيرة من المشرق (يكتفى بواحدة وما يفيد المعنى)	١	٢٣	الأولى	
		٣	لأنه تكون من رئيس القضاة والقاضي وكاتب الحكم ووكلاء عن المدعي والمدعى عليه	١	١٣		
	ب		راجت تجارته وأصبحت من الموارد الرئيسية الممولة لخزينة الدولة / أصبحت زنجبار أكبر مصدر للقرنفل في العالم	٢	٤٣		المعرفة
	ج	١	تحرير البحرين من سيطرة الفرس في عهد السيد سلطان بن أحمد	١	٣٧		
٢		الامام احمد بن سعيد البوسعيدي	١	٣٧			
٣			١	٢٥			

تابع نموذج إجابة الامتحان التجريبي (٤)، الدراسات الاجتماعية للصف الثاني عشر ٢٠٢٣/٢٠٢٤ الفصل الدراسي الأول
تابع ثانياً: إجابة الأسئلة المقالية:

المستوى المعرفي	المخرج التعليمي	الصفحة	الدرجة	الإجابة الصحيحة	المفردة	الجزئية	السؤال
المقدرات العليا	الأولى	٣٤ ٢٦	٤			أ	٢١
المعرفة	الثانية	٧٢	١	النمر السيبيري / وحيد القرن الأسود / سلحفاة منقار الصقر (يكتفى باثنتين فقط وتقبل الإجابات الأخرى مثل: الباندا / الغوريلا / الفيل الأفريقي / ببغاء الغابون / الشمبانزي ...)	١	ب	٢١
			١	بحر عُمان	٢		
		٧٥	١	لصون بيئتها الطبيعية أو الثقافية أو لحماية نوع من أنواع الحيوانات أو النباتات البرية أو البحرية	٣		
		٧٢	١	تناقص أعدادها على مستوى العالم	٤		

انتهى نموذج الإجابة مع تمنياتي لكم بالتوفيق في الاختبار النهائي

للحصول على نسخة كاملة من كتاب "الإبحار إلى الدراسات الاجتماعية" 95607005

