

تم تحميل هذا الملف من موقع المناهج العُمانية



*للحصول على أوراق عمل لجميع الصفوف وجميع المواد اضغط هنا

<https://almanahj.com/om>

* للحصول على أوراق عمل لجميع مواد الصف الثاني عشر اضغط هنا

<https://almanahj.com/om/12>

* للحصول على جميع أوراق الصف الثاني عشر في مادة هذا وطني ولجميع الفصول, اضغط هنا

<https://almanahj.com/om/12country>

* للحصول على أوراق عمل لجميع مواد الصف الثاني عشر في مادة هذا وطني الخاصة بـ الفصل الأول اضغط هنا

<https://almanahj.com/om/12country1>

* لتحميل كتب جميع المواد في جميع الفصول للـ الصف الثاني عشر اضغط هنا

<https://almanahj.com/om/grade12>

* لتحميل جميع ملفات المدرس نورة المعمري اضغط هنا

للتحدث إلى بوت على تلغرام: اضغط هنا

https://t.me/omcourse_bot



رؤية عمان ٢٠٤٠



محافظة مسقط



شاطئ القرم للبنات (١٠-١٢)



سلسلة التميز

السلسلة الثالثة (عمان في عصر
البوسعيد وحدة ومنجزات)

إعداد: نوره عبدالله المعمرى

معلمة التاريخ


سنة: ٢٠٢٠/٢٠٢١م

#قالبون

مِنَ أقوالِ القَائِدِ:

إننا نعيش عصر العلم ونشهد تقدمه المتلاحق في جميع المجالات، وإن ذلك ليزيدنا يقينا بأن العلم والعمل الجاد هما معا وسيلتنا لمواجهة تحديات هذا العصر وبناء نهضة قوية ومزدهرة على أساس من قيمنا الإسلامية والحضارية.

قابوس بن سعيد - طيب الله ثراه



"إن الاهتمام بقطاع التعليم بمختلف أنواعه ومستوياته وتوفير البيئة الداعمة والمحفزة للبحث العلمي والابتكار سوف يكون في سلم أولوياتنا الوطنية وسنمده بكافة أسباب التمكين باعتباره الأساس الذي من خلاله سيتمكن أبنائنا من الإسهام في بناء متطلبات المرحلة المقبلة."

من خطاب حضرة صاحب الجلالة السلطان هيثم بن طارق المعظم - حفظه الله ورعاه -

٢٣ فبراير ٢٠٢٠م

التعليم
أساس التنمية

إعداد الأستاذة: نورة المعمرى / مدرسة شاطئ القرم للبنات (١٠-١٢) / ٢٠٢٠-٢٠٢١م

الأسئلة الموضوعية: اختر الإجابة الصحيحة من بين البدائل.

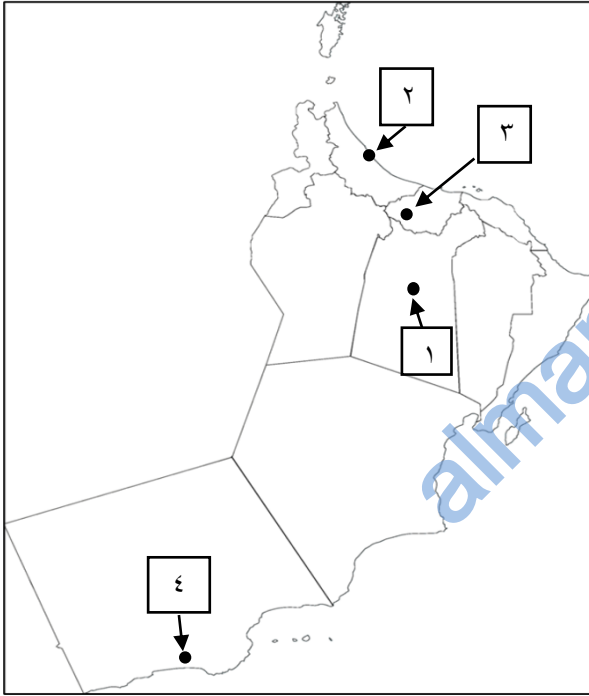
١- سبب قيام دولة البوسعيد:

- أ- الأوضاع السياسية غير المستقرة وآخر عصر اليعاربة
 ب- الأوضاع السياسية غير المستقرة وآخر عصر النباهنة
 ج- الأوضاع الاقتصادية غير المستقرة وآخر عصر اليعاربة
 د- الأوضاع الاقتصادية غير المستقرة وآخر عصر النباهنة

٢- مؤسس دولة البوسعيد:

- أ- الإمام عزان بن قيس
 ب- السلطان فيصل بن تركي
 ج- الإمام أحمد بن سعيد
 د- السلطان سعيد بن تيمور

٣- المخطط الصحيح للأرقام التي تشير على الخريطة للولايات العمانية في عهد الإمام أحمد بن سعيد والحدث الذي ارتبط بها:



ب	
الأحداث	الرقم
توفي ودفن فيها	١
ولد فيها	٢
واليا عليها	٣

أ	
الأحداث	الرقم
واليا عليها	١
ولد فيها	٢
توفي ودفن فيها	٣

د	
الأحداث	الرقم
ولد فيها	١
واليا عليها	٢
توفي ودفن فيها	٣

ج	
الأحداث	الرقم
توفي ودفن فيها	١
واليا عليها	٢
ولد فيها	٣

أجب على السؤال في المفردة (٤) باستخدام الخريطة في المفردة (٣) بالأعلى.

٤- الرقم الذي يشير إلى الولاية العمانية التي اختارها الإمام أحمد بن سعيد عاصمة له:

- أ- ١ ب- ٢ ج- ٣ د- ٤

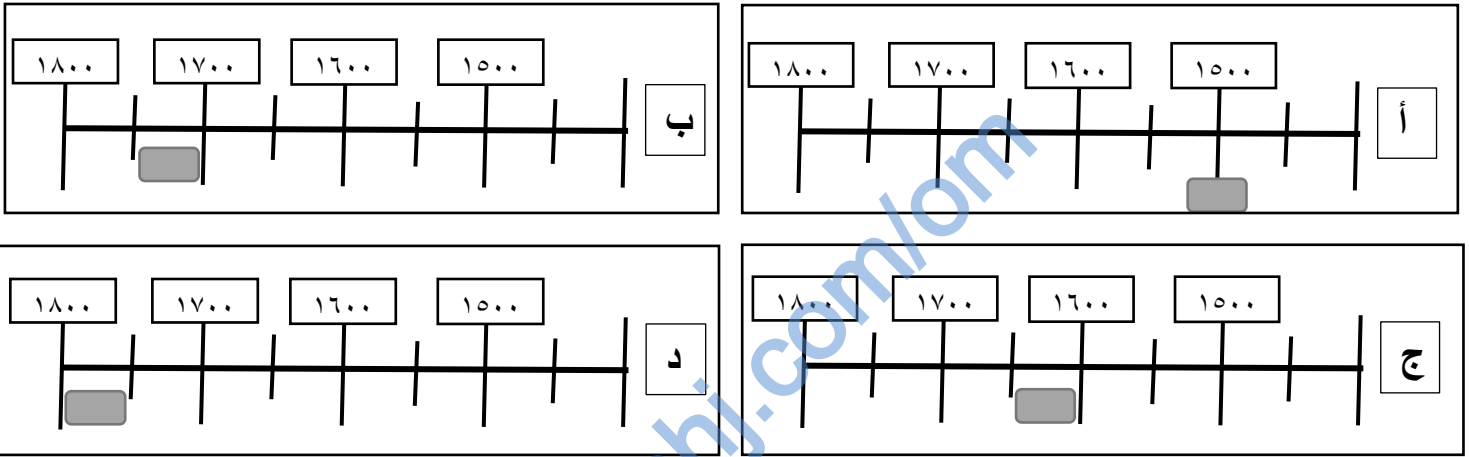
٥- الفترة الزمنية التي كان الإمام أحمد بن سعيد واليا على صحار:

أ- أوائل عصر النباهنة ب- أواخر عصر النباهنة ج- أوائل عصر اليعاربة د- أواخر عصر اليعاربة

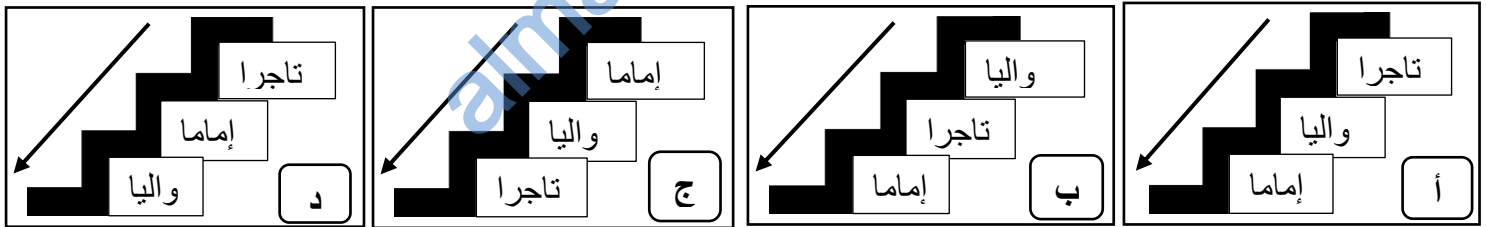
٦- القرن الميلادي الذي تأسست فيه دولة البوسعيد:

أ- السادس عشر ب- السابع عشر ج- الثامن عشر د- التاسع عشر

٧- التظليل الزمني الصحيح لبداية حكم دولة البوسعيد بالميلادي:



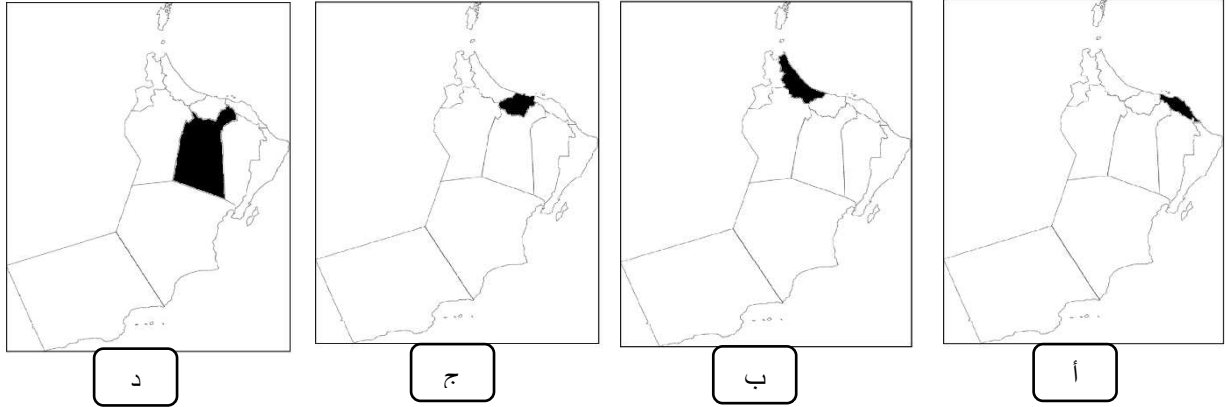
٨- الترتيب الصحيح للمهن التي شغلها أحمد بن سعيد من الأقدم إلى الأحدث:



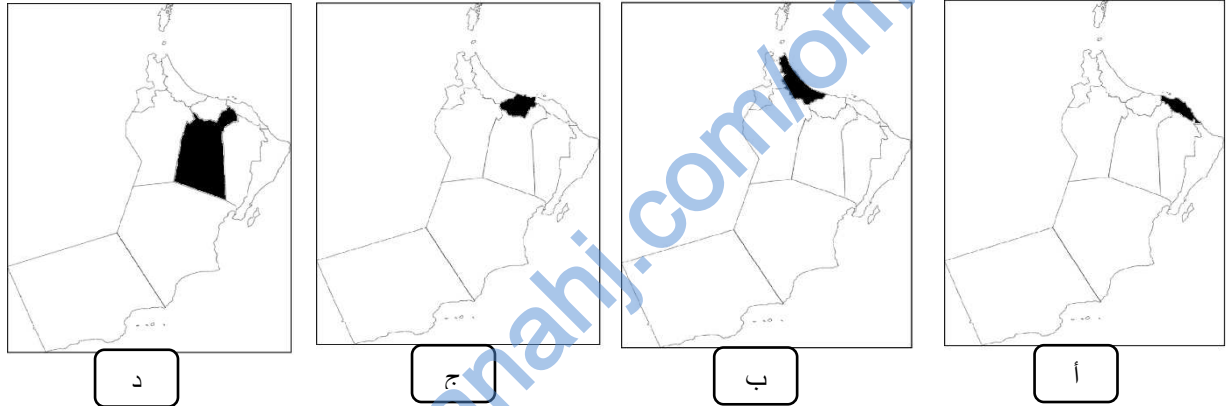
٩- الجدول الصحيح لأعمال الإمام أحمد بن سعيد:

أ	ب	ج	د
توحيد البلاد والحفاظ على استقلالها	توحيد البلاد والحفاظ على استقلالها	توحيد البلاد وطرد الفرس	توحيد البلاد وطرد الفرس
تحرير البصرة من الفرس	تحرير البحرين من الفرس	تحرير البحرين من الفرس	تحرير البصرة من الفرس
تأسيس جيشا قويا وثابتا	تأسيس جيشا قويا وثابتا	تأسيس جيشا قويا وثابتا	تأسيس جيشا قويا وثابتا

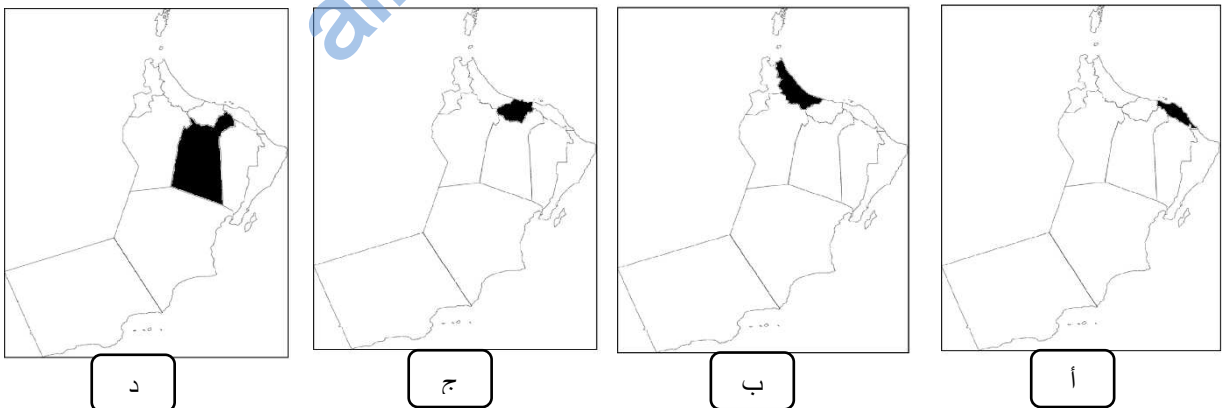
١٠- التظليل الصحيح على الخريطة للمحافظة العمانية التي كان الإمام أحمد بن سعيد واليا على إحدى ولاياتها:



١١- التظليل الصحيح على الخريطة للمحافظة العمانية التي اختار الإمام أحمد بن سعيد إحدى مدنها عاصمة له:



١٢- التظليل الصحيح على الخريطة للمحافظة العمانية التي ولد فيها الإمام أحمد بن سعيد:



١٣- المحافظة العمانية التي ولد فيها العلامة حبيب بن سالم أمبوسعيدي:

د-مسقط

ج-الباطنة جنوب

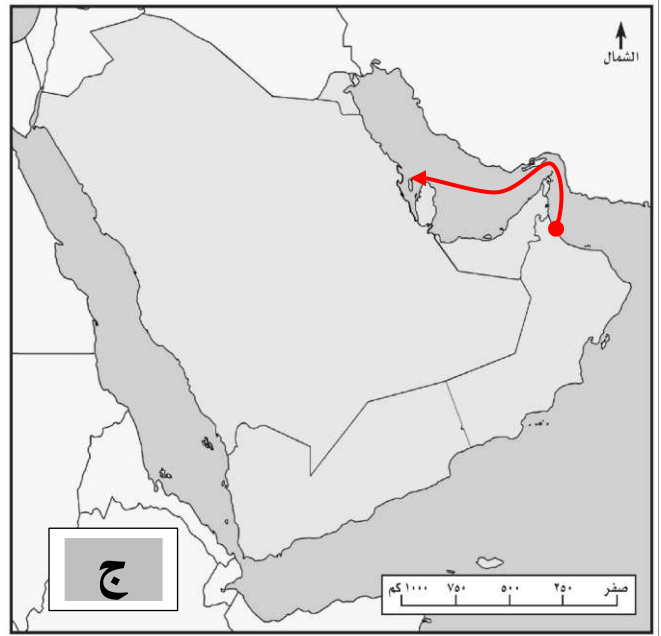
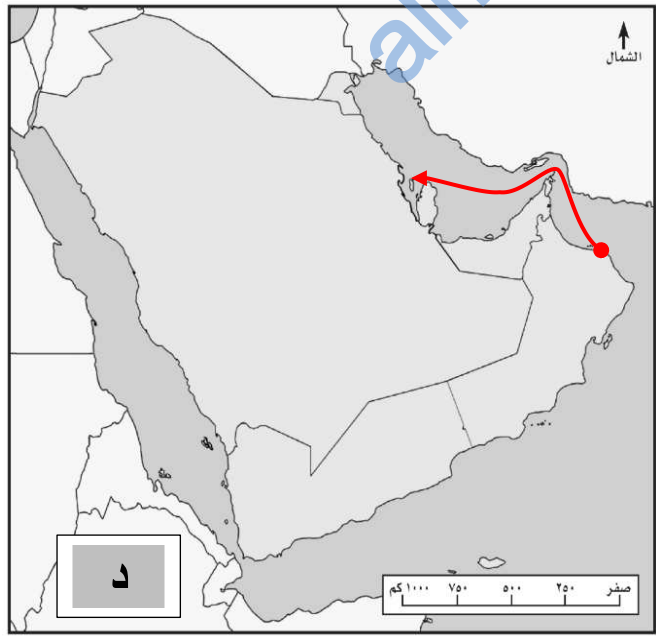
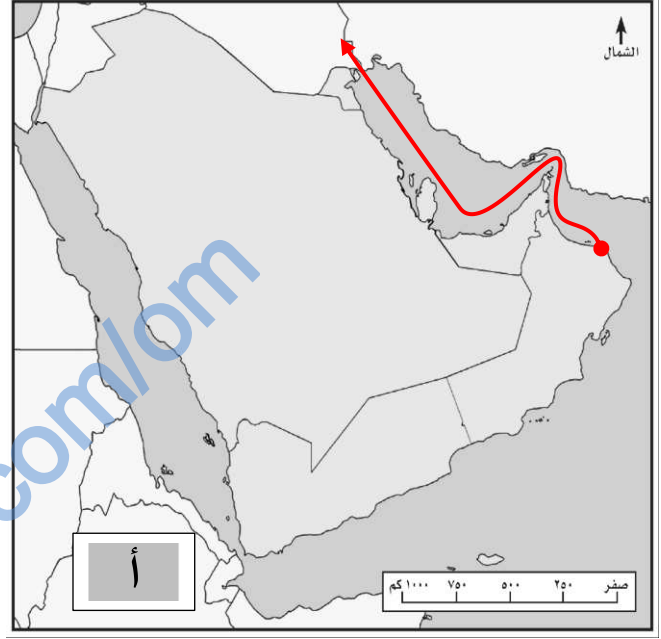
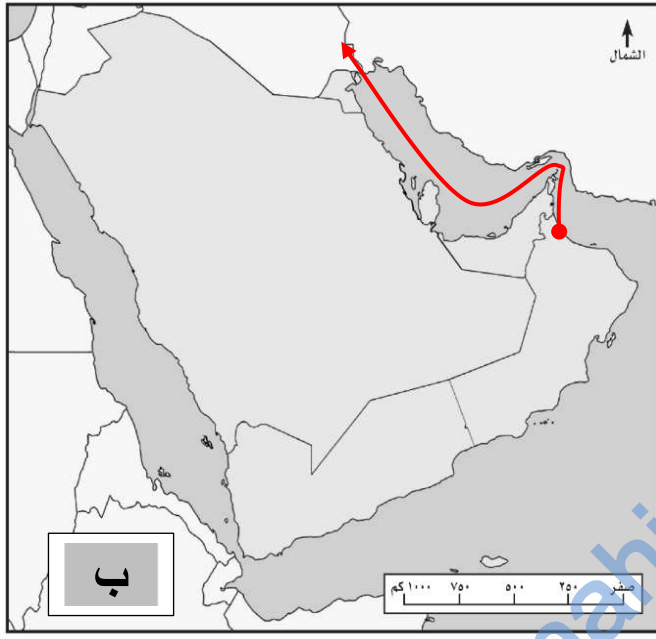
ب-الظاهرة

أ-الداخلية

١٤- جميع ما يلي من أعمال العلامة حبيب بن سالم أمبوسعيدي في أواخر عصر اليعاربة ماعدا:

أ- عزل الإمام بلعرب بن حمير ب- طرد الفرس ج- إغراق أموال سيف بن سلطان الثاني د- عقد الإمامة لأحمد بن سعيد

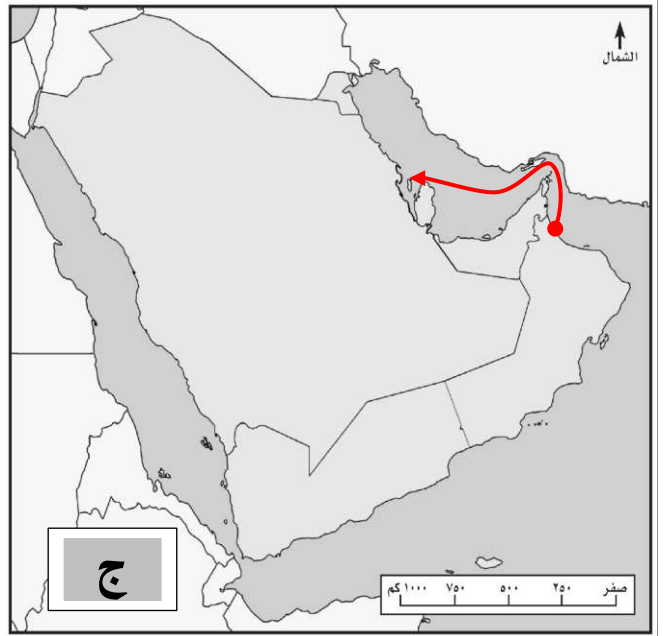
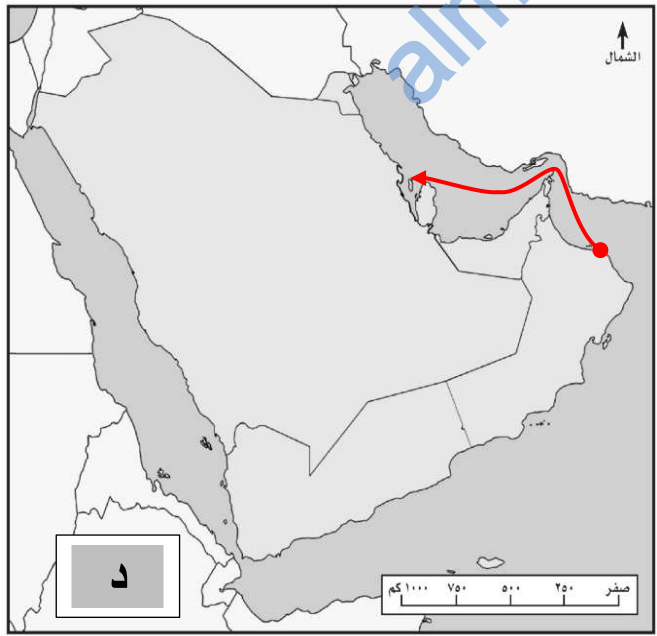
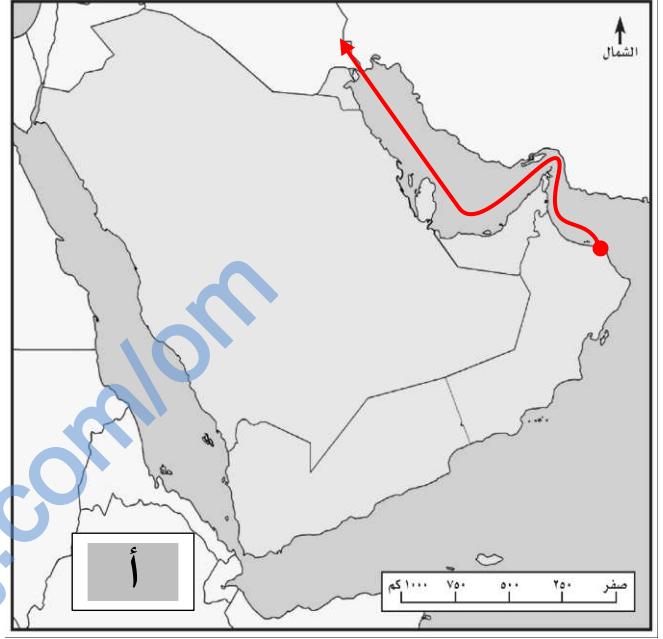
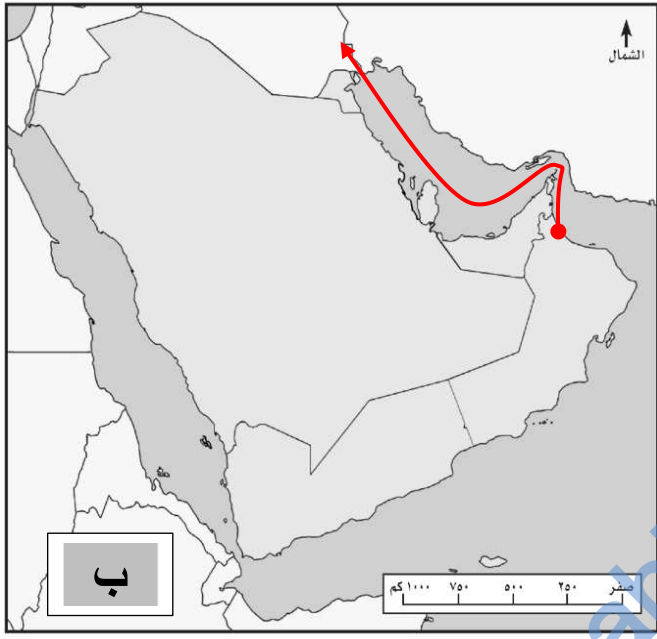
١٥- الخريطة التي توضح المسار الصحيح لتحرير البصرة من الفرس في عهد الإمام أحمد بن سعيد:



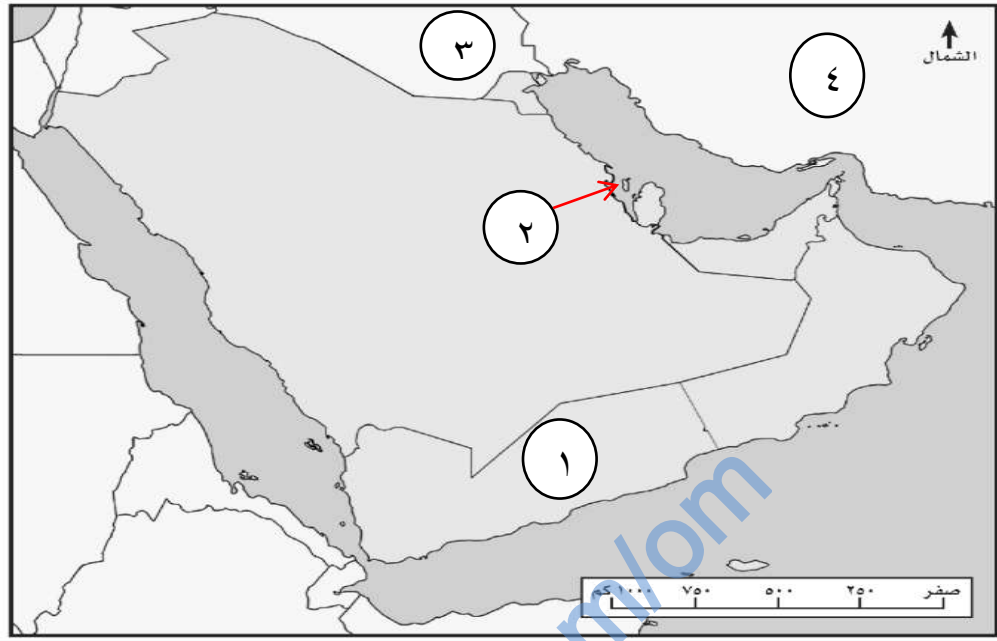
١٦- أهم المنجزات العسكرية في عصر حكام البوسعيد

أ- الحرس ب- الجيش ج- الشرطة د- الأسطول

١٧- الخريطة التي توضح المسار الصحيح لتحرير البحرين من الفرس في عهد السيد سلطان بن أحمد:



باستخدام الخريطة أجب على المفردات (١٨) و (١٩) (٢٠) (٢١):



١٨- الرقم الذي يشير للدولة التي حررها السيد سلطان بن أحمد من الفرس:

- أ- (١) ب- (٢) ج- (٣) د- (٤)

١٩- الإمام الذي حرر المدينة المشار إليها بالرقم (٣) على الخريطة:

- أ- عزان بن قيس ب- فيصل بن تركي ج- أحمد بن سعيد د- سعيد بن تيمور

٢٠- العام الذي حررت فيه المدينة المشار إليها بالرقم (٣) على الخريطة:

- أ- ١٧٧٥م ب- ١٧٧٦م ج- ١٧٧٧م د- ١٧٧٨م

٢١- الحصار الذي حررت منه المنطقتين المشار إليهما على الخريطة بالأرقام (٢) و (٣):

- أ- البرتغالي ب- البريطاني ج- الياباني د- الفارسي

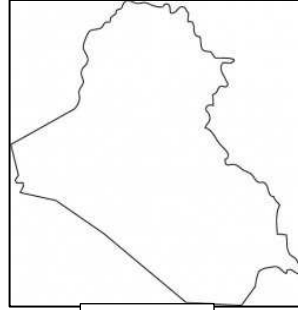
٢٢- الخريطة التي تشير للدولة التي حررها السيد سلطان بن أحمد:



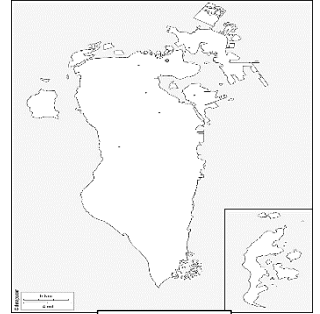
د



ج



ب



أ

٢٣- الترتيب الزمني الصحيح لأعمال حكام الدولة البوسعيدية من الأحدث إلى الأقدم:

تأسيس النهضة العمانية دولة المؤسسات والقانون	عقد علاقات صداقة واتفاقيات اقتصادية مع الهند والولايات المتحدة الأمريكية	أقامه علاقات متوازنة بين عمان والقوى الأوروبية المتنافسة	تأسيس جيشا قويا وثابتا وأسطولا بحريا	أ
٤ >>>	٣ >>>	٢ >>>	١ >>>	
تأسيس النهضة العمانية دولة المؤسسات والقانون	أقامه علاقات متوازنة بين عمان والقوى الأوروبية المتنافسة	عقد علاقات صداقة واتفاقيات اقتصادية مع الهند والولايات المتحدة الأمريكية	تأسيس جيشا قويا وثابتا وأسطولا بحريا	ب
٤ >>>	٣ >>>	٢ >>>	١ >>>	
تأسيس النهضة العمانية دولة المؤسسات والقانون	أقامه علاقات متوازنة بين عمان والقوى الأوروبية المتنافسة	عقد علاقات صداقة واتفاقيات اقتصادية مع الهند والولايات المتحدة الأمريكية	تأسيس جيشا قويا وثابتا وأسطولا بحريا	ج
١ >>>	٢ >>>	٣ >>>	٤ >>>	
تأسيس النهضة العمانية دولة المؤسسات والقانون	عقد علاقات صداقة واتفاقيات اقتصادية مع الهند والولايات المتحدة الأمريكية	أقامه علاقات متوازنة بين عمان والقوى الأوروبية المتنافسة	أسس جيشا قويا وثابتا وأسطولا بحريا	د
١ >>>	٢ >>>	٣ >>>	٤ >>>	

٢٤- الخريطة التي تشير للدولة التي زارها السلطان سعيد بن تيمور كأول حاكم عربي:



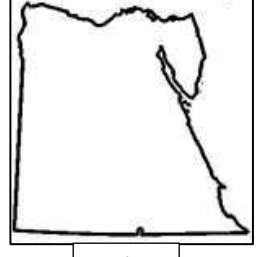
د



ج

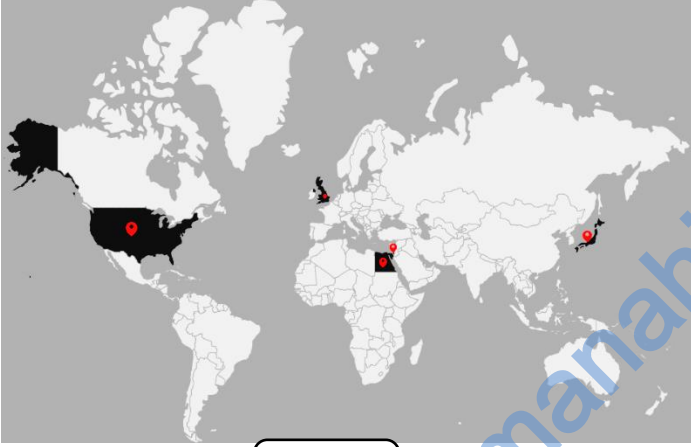


ب



أ

٢٥- الخريطة الصحيحة التي تشير للدول التي زارها السلطان سعيد بن تيمور:



ب



أ



د



ج

٢٦- نوع العلاقات والاتفاقيات التي عقدها السلطان سعيد بن تيمور مع الدول المظللة على الخريطة أمامك:



أ- صداقة وعسكرية

ب- صداقة وسياسية

ج- صداقة واقتصادية

د- صداقة وصحية

٢٧- الجدول الصحيح للقارات التي زار السلطان سعيد بن تيمور دولها:

ب	
آسيا	١
إفريقيا	٢
اوروبا	٣
أمريكا الجنوبية	٤

أ	
آسيا	١
إفريقيا	٢
اوروبا	٣
أمريكا الشمالية	٤

د	
آسيا	١
أمريكا الجنوبية	٢
اوروبا	٣
أمريكا الشمالية	٤

ج	
أمريكا الجنوبية	١
إفريقيا	٢
اوروبا	٣
أمريكا الشمالية	٤

٢٨- عدد الدول التي زارها السلطان سعيد بن تيمور:

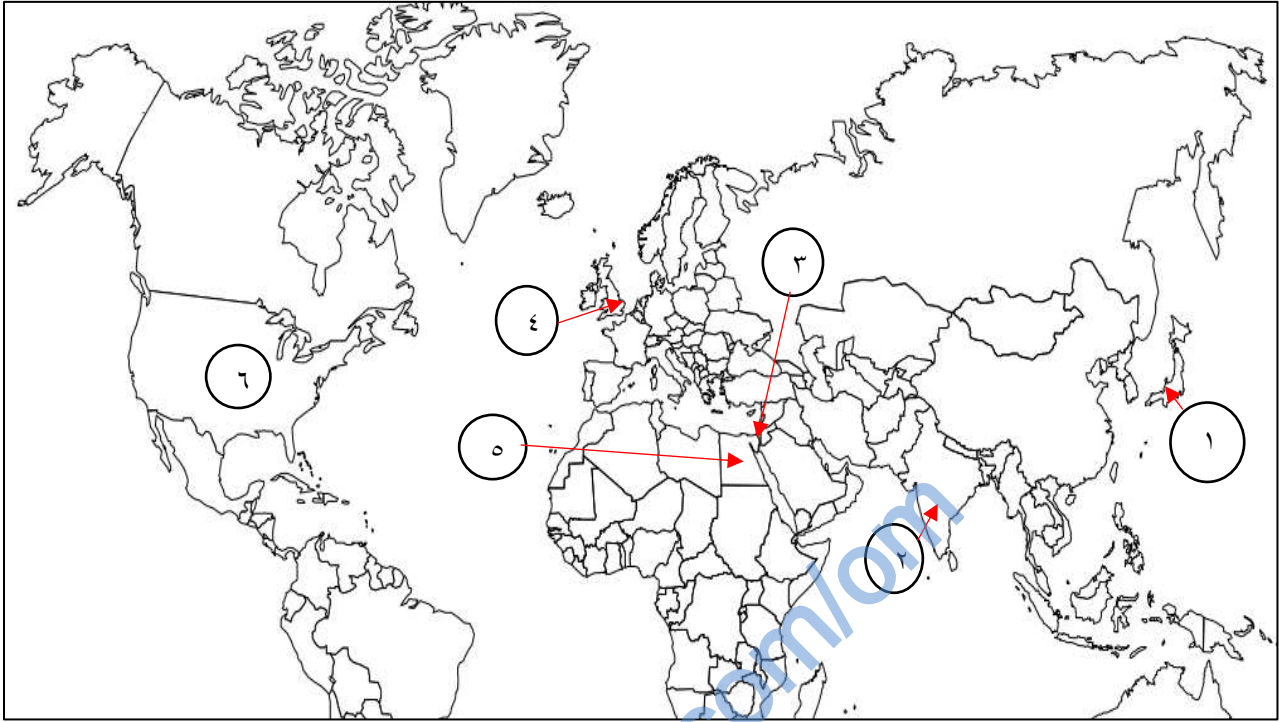
د- ٥

ج- ٤

ب- ٣

أ- ٢

باستخدام الخريطة أمامك أجب عن المفردات (٢٩) (٣٠) (٣١) (٣٢).



٢٩- الرقم الذي يشير إلى الدولة الأوروبية التي زارها السلطان سعيد بن تيمور:

- أ- ٣ ب- ٤ ج- ٥ د- ٦

٣٠- الأرقام التي تشير إلى الدول العربية التي زارها السلطان سعيد بن تيمور:

- أ- (٢،٣) ب- (٤،٣) ج- (٥،٣) د- (٦،٣)

٣١- الأرقام التي تشير إلى الدول الآسيوية التي زارها السلطان سعيد بن تيمور:

- أ- (١،٣) ب- (٢،٣) ج- (٤،٣) د- (٥،٣)

٣٢- الأرقام التي تشير إلى الدول التي عقد معها السلطان سعيد بن تيمور علاقات صداقة واتفاقيات اقتصادية:

- أ- (٣،٢) ب- (٤،٢) ج- (٥،٢) د- (٦،٢)

٣٣- مؤسس النهضة العمانية الحديثة السلطان :

أ- قابوس بن سعيد ب- هيثم بن طارق ج- سعيد بن تيمور د- فيصل بن تركي

٣٤- القوى المتنافسة التي استطاع السلطان فيصل بن تركي إقامة علاقات متوازنة معها :

أ- الأوروبية ب- الآسيوية ج- الإفريقية د- الأمريكية الشمالية

٣٥- التاريخ الصحيح للنهضة العمانية الحديثة :

أ- ٢٣ / يوليو / ١٩٧٠م ب- ٢٣ / يوليو / ١٩٧١م ج- ٢٣ / يوليو / ١٩٧٢م د- ٢٣ / يوليو / ١٩٧٣م

٣٦- مثال على شواهد النهضة العمانية الحديثة في عهد السلطان قابوس :

أ- البحرية السلطانية وشرطة عمان السلطانية ب- الطيران العماني وشرطة عمان السلطانية

ج- قوات السلطان المسلحة وشرطة عمان السلطانية د- الحرس السلطاني العماني وشرطة عمان السلطانية

٣٧- الترتيب الصحيح لمراحل تعليم السلطان هيثم بن طارق من الأحدث إلى الأقدم :

ب	
المدرسة السعيدية بمسقط	١
جامعة أكسفورد برنامج الخدمات الخارجية	٢
كلية بيمبروك	٣

أ	
كلية بيمبروك	١
جامعة أكسفورد برنامج الخدمات الخارجية	٢
المدرسة السعيدية بمسقط	٣

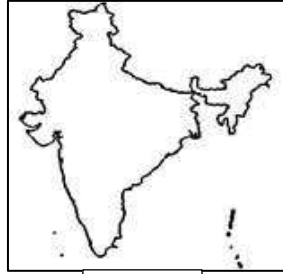
د	
جامعة أكسفورد برنامج الخدمات الخارجية	١
كلية بيمبروك	٢
المدرسة السعيدية بمسقط	٣

ج	
كلية بيمبروك	١
المدرسة السعيدية بمسقط	٢
جامعة أكسفورد برنامج الخدمات الخارجية	٣

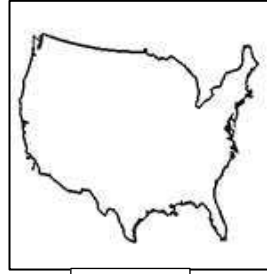
٣٨- الخريطة الصحيحة للدولة العربية التي زارها السلطان سعيد بن تيمور:



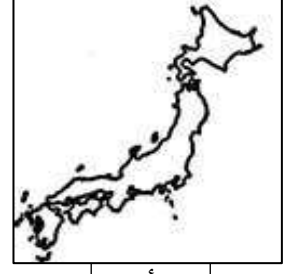
د



ج



ب

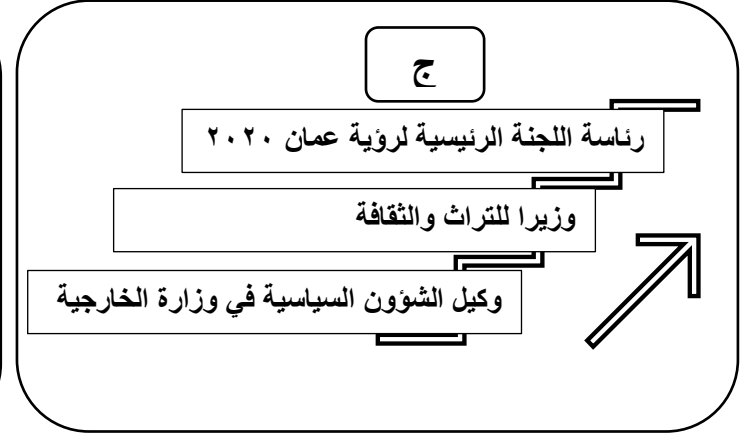
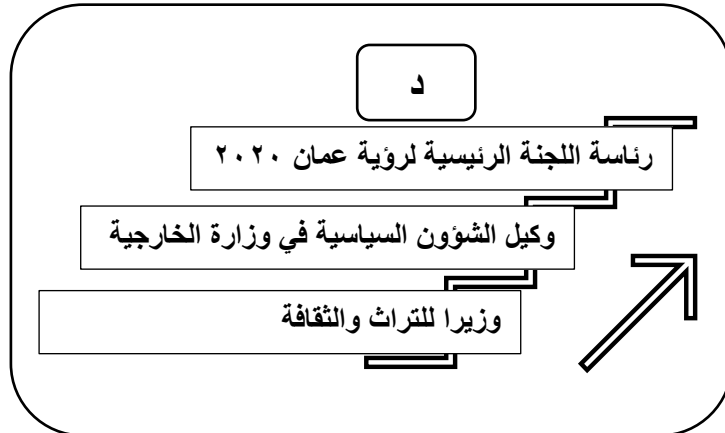
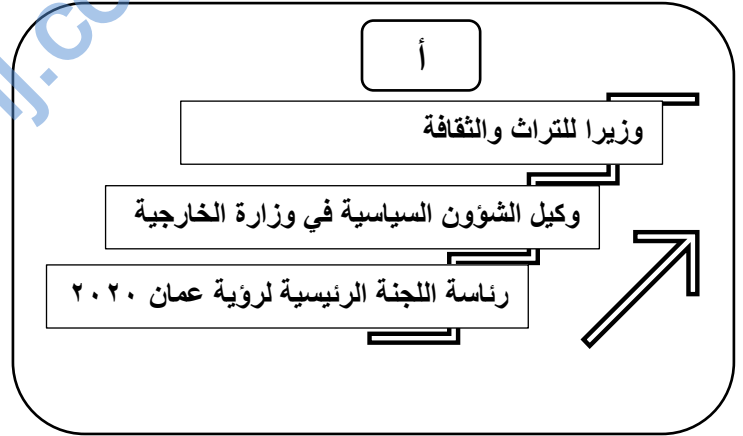
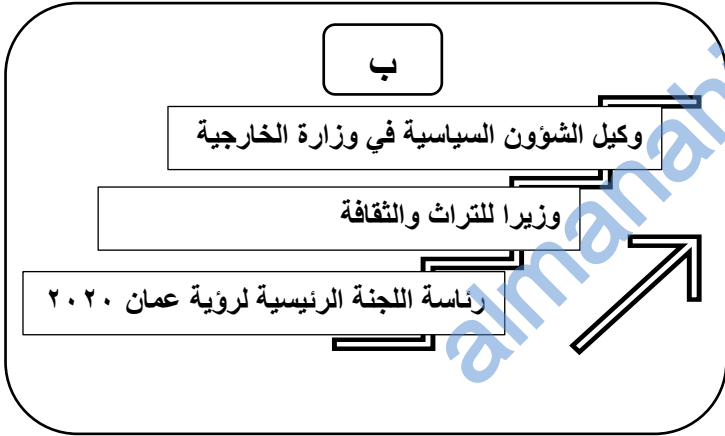


أ

٣٩- المدرسة التي تلقى فيها السلطان هيثم بن طارق مراحل تعليمه الأولى:

أ- المدرسة السعيدية بمطرح ب- المدرسة السعيدية بمسقط ج- المدرسة السعيدية بصلالة د- مدرسة الوكيل

٤٠- الترتيب الصحيح للمناصب التي تولاها السلطان هيثم بن طارق حفظه الله قبل تولية الحكم من الأقدم إلى الأحدث:



٤١- التاريخ الصحيح الذي ولد فيه السلطان هيثم بن طارق حفظه الله :

أ- ٨/أكتوبر/١٩٥٤م ب- ٩/أكتوبر/١٩٥٤م ج- ١٠/أكتوبر/١٩٥٤م د- ١١/أكتوبر/١٩٥٤م

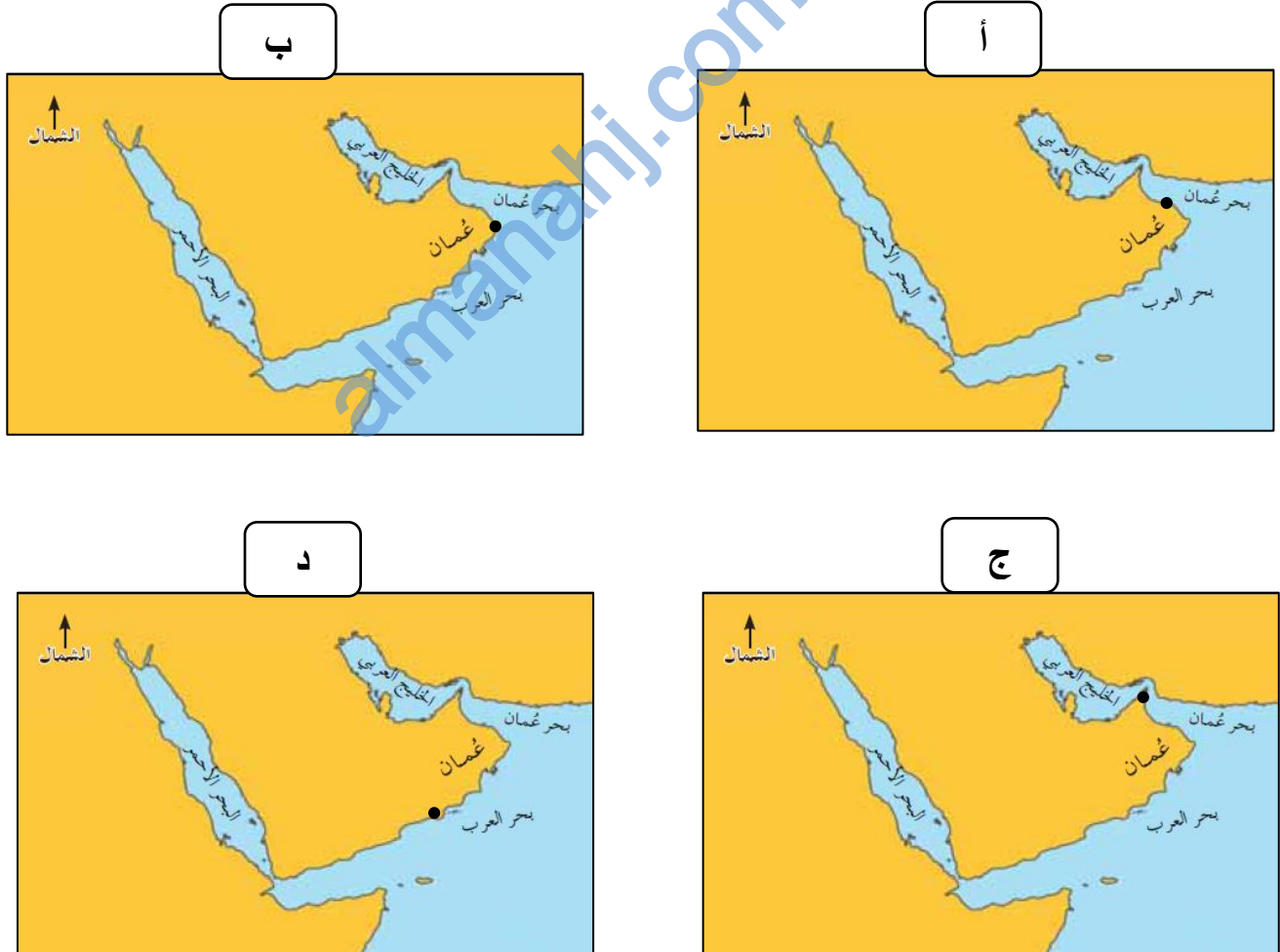
٤٢- المكان الذي ألقى فيه السلطان هيثم بن طارق حفظه الله خطابه الأول لتقلده الحكم في البلاد :

أ- مجلس الشورى ب- مجلس الدولة ج- مجلس عمان د- مجلس العاصمة

٤٣- من مظاهر الاستقرار السياسي الداخلي بعد وفاة السلطان قابوس طيب الله ثراه :

أ- التكاتف والتعاقد ب- الانتقال السلس للحكم ج- الوحدة الوطنية د- مشاركة الشعب في واجب العزاء

٤٤- الخريطة التي تشير إلى الموقع الصحيح للميناء العماني الذي اشتهر بالتجارة في أواخر القرن الثامن عشر الميلادي :



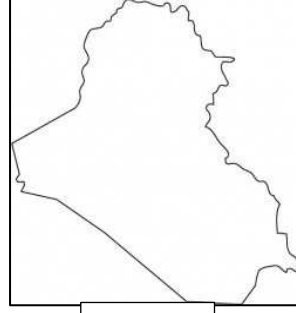
٤٥- الخريطة التي تشير للدولة التي أكمل فيها السلطان هيثم بن طارق حفظه الله تعليمه العالي :



د



ج



ب



أ

٤٦- المدة الزمنية لفتح رسالة السلطان قابوس طيب الله ثراه والعمل بها حسب النظام الأساسي في حالة عدم الاتفاق على سلطان

البلاد:

د- ٦ أيام

ج- ٥ أيام

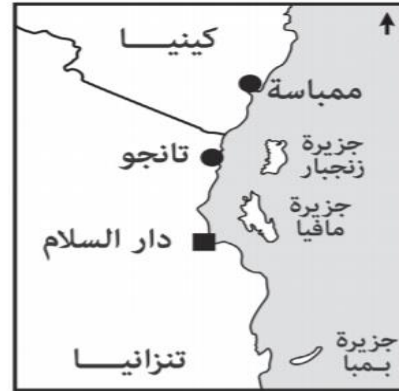
ب- ٤ أيام

أ- ٣ أيام

٤٧- الخريطة التي توضح الموقع الصحيح لزنجرار في سواحل شرقي إفريقيا:



ب



أ



د



ج

- باستخدام خريطة عمان أمامك أجب على المفردات (٤٨) (٤٩) (٥٠).

٤٨- الرقم الذي يشير للمحافظة العمانية التي ازدهر أحد موانئها تجاريا في أواخر القرن الثامن عشر الميلادي في عصر البوسعيد على الخريطة أمامك:

أ- (١)

ب- (٢)

ج- (٣)

د- (٤)

٤٩- يبلغ حجم تجارة الميناء المشار إليه بالرقم (١) في أواخر

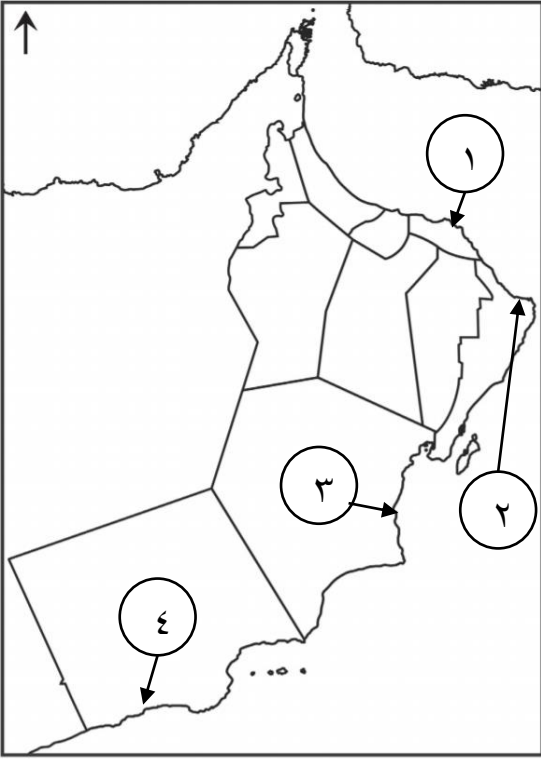
القرن الثامن عشر الميلادي من تجارة الخليج العربي حوالي:

أ- $\frac{4}{8}$

ب- $\frac{5}{8}$

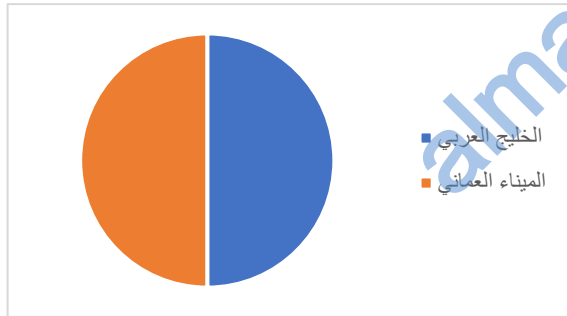
ج- $\frac{6}{8}$

د- $\frac{7}{8}$

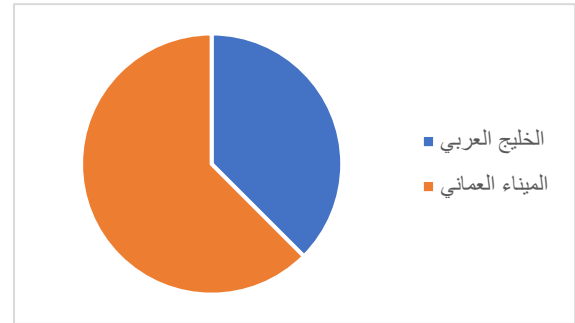


٥٠- الدائرة البيانية الصحيحة التي تمثل حجم تجارة الميناء العماني المشار إليه بالرقم (١) في أواخر القرن الثامن عشر

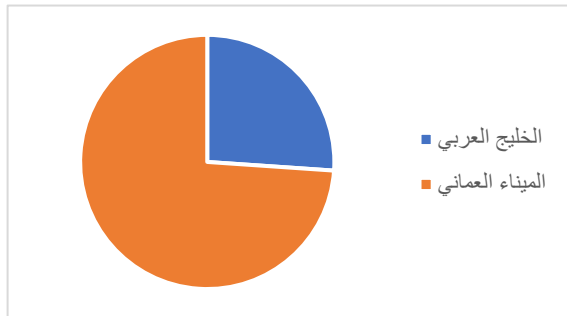
الميلادي بالنسبة لتجارة الخليج العربي:



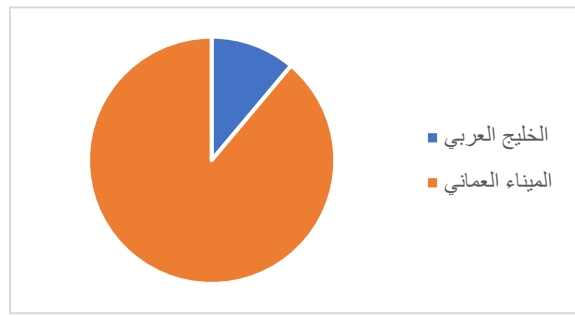
ب



أ

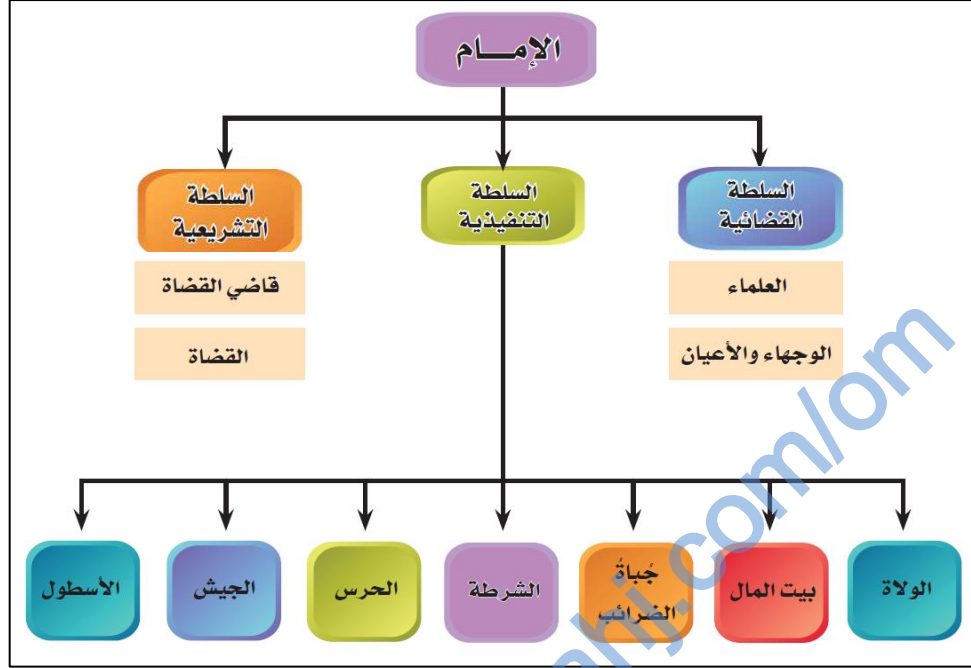


د

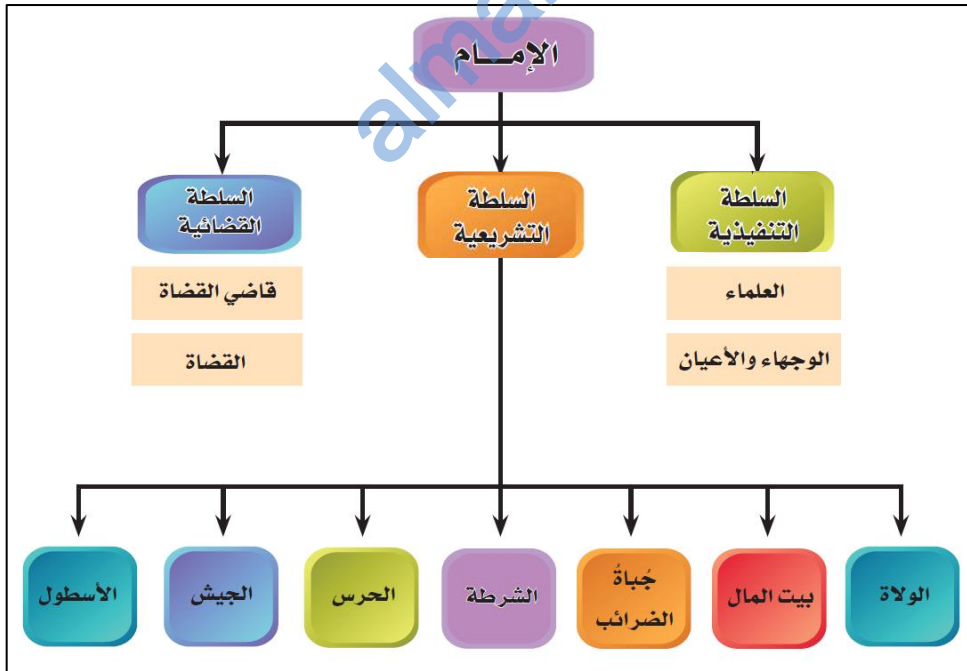


ج

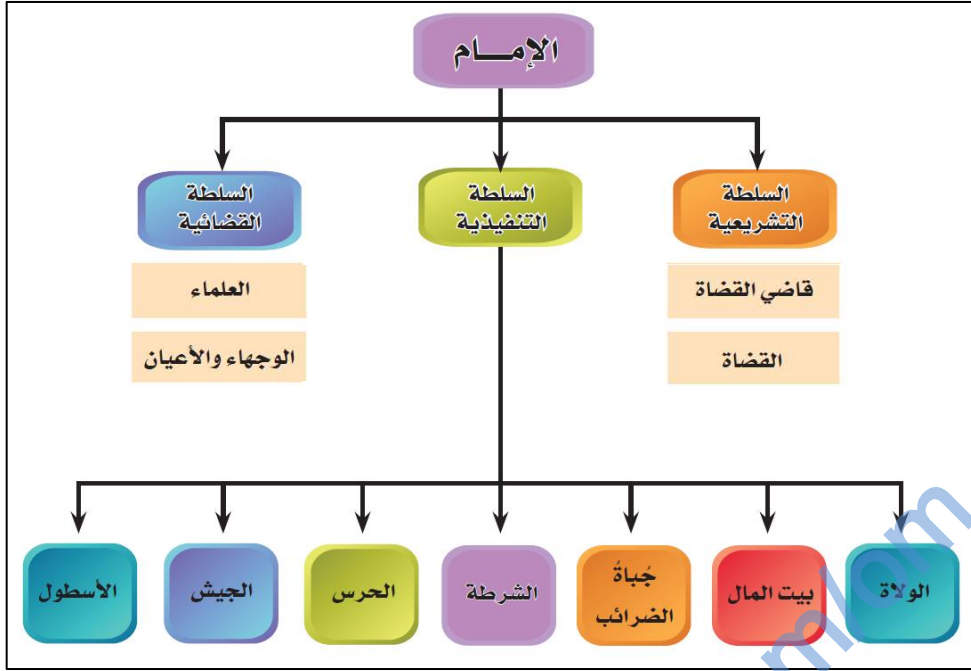
٥١- الشكل الصحيح للتنظيم الإداري في عصر الإمام أحمد بن سعيد:



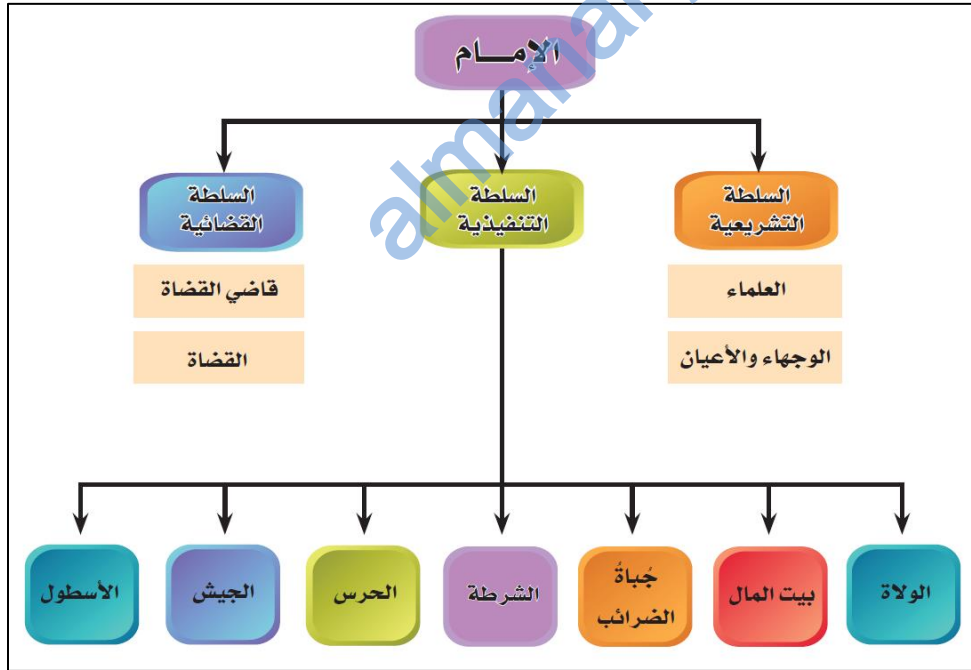
أ



ب

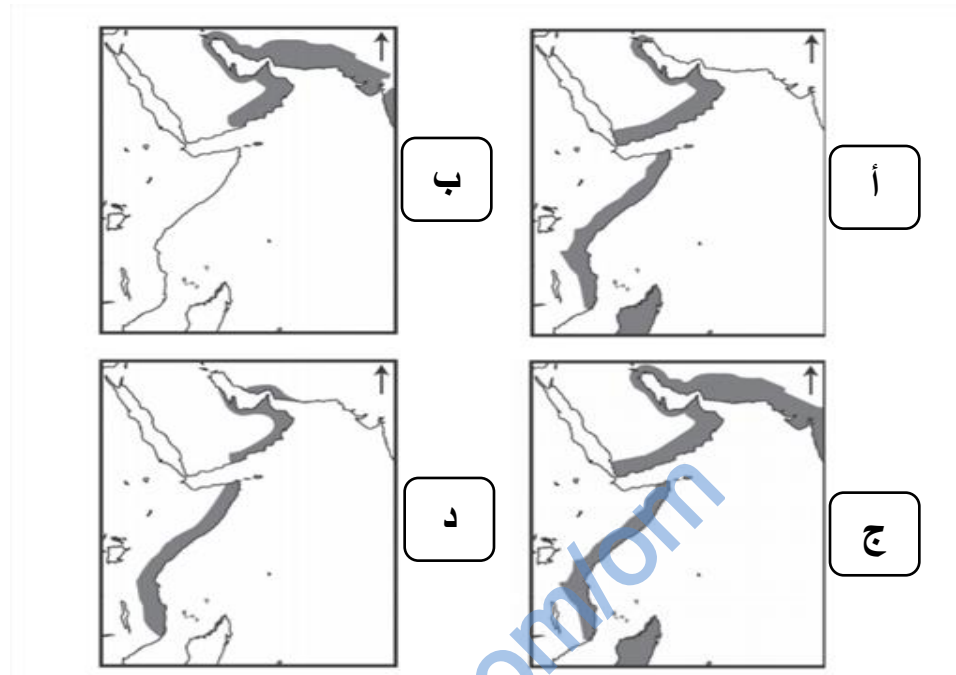


ج

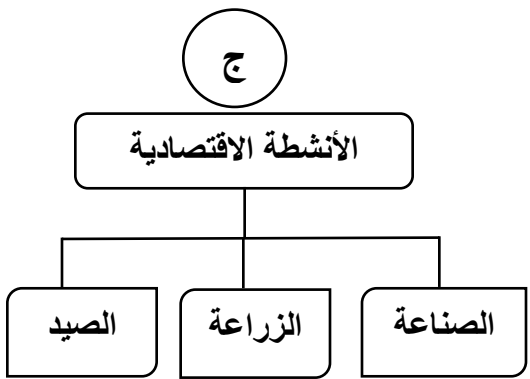
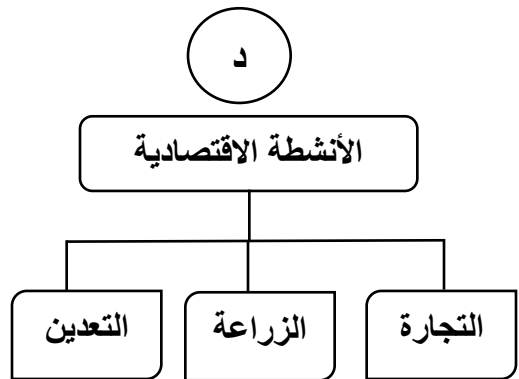
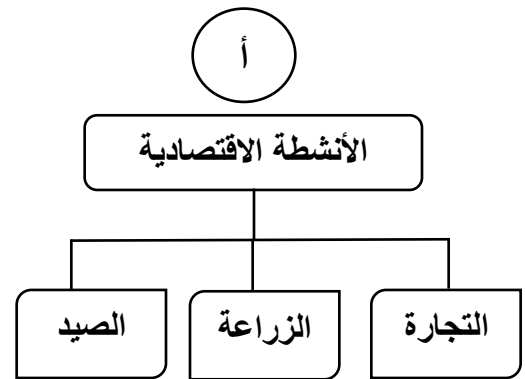
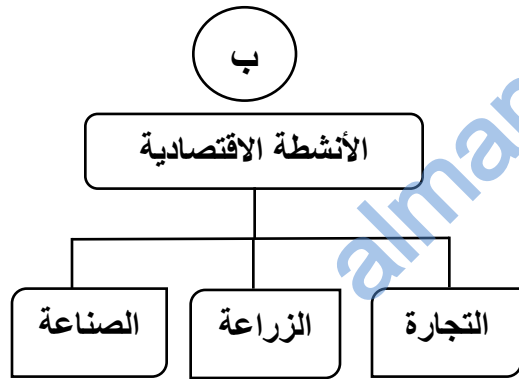


د

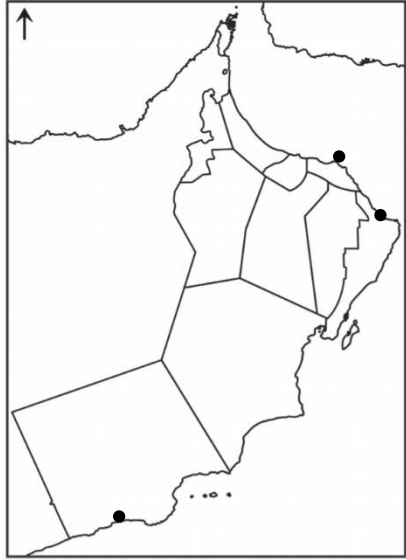
٥٢- الخريطة التي توضح الامتداد الصحيح للإمبراطورية العمانية في عهد السيد سعيد بن سلطان:



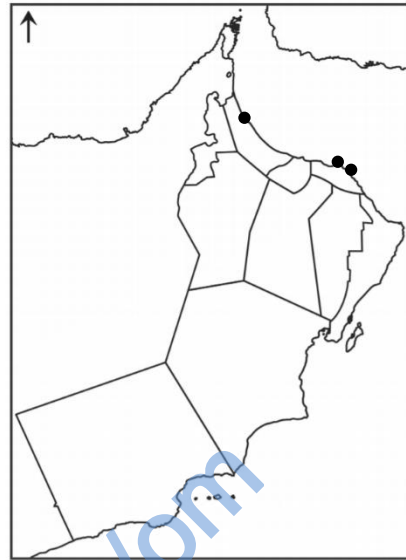
٥٣- أهم الأنشطة الاقتصادية التي ازدهرت في عصر حكام البوسعيد:



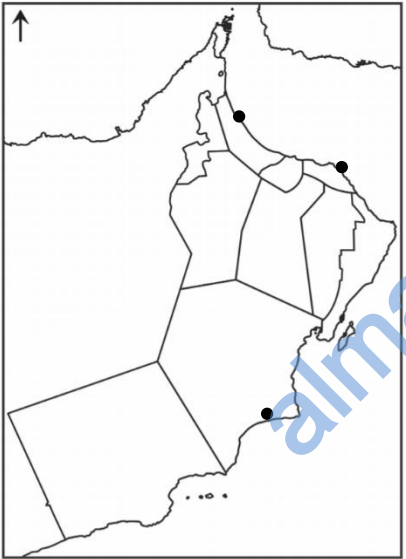
٥٤- الخريطة التي توضح أهم مواقع أحواض صناعة السفن في عهد السيد سعيد بن سلطان:



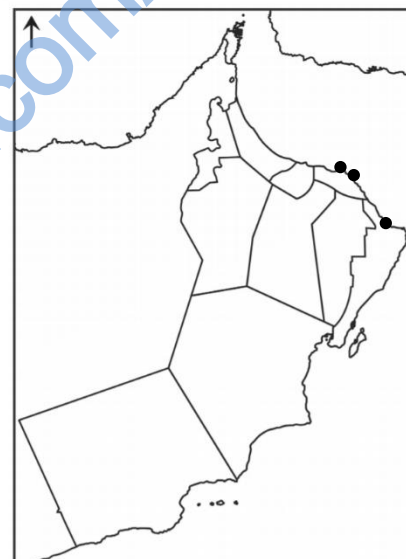
ب



أ



د



ج

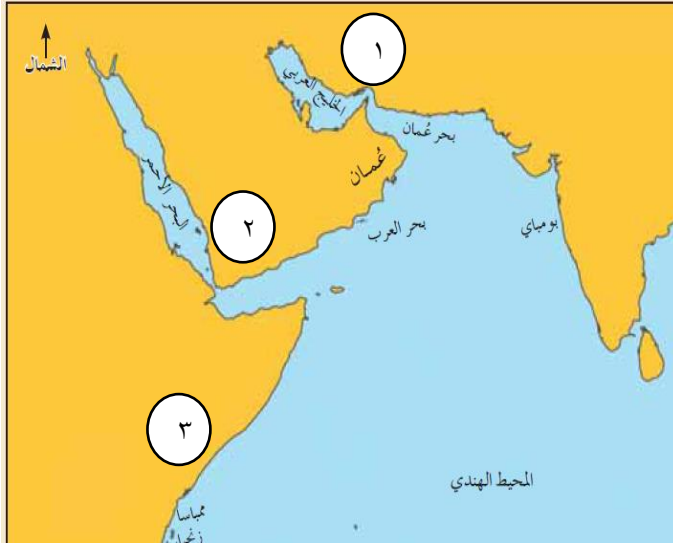
٥٥- الولاية العمانية التي كانت أحد مراكز صناعة السفن في عهد الإمام أحمد بن سعيد:

ج- خصب

د- صلالة

ب- مطرح

أ- صحار



٥٦- الجدول الصحيح للسلع التي استورها العمانيون في عصر
حكام البوسعيد كموزعين لها في المحيط الهندي حسب
الأرقام الواضحة على الخريطة أمامك:

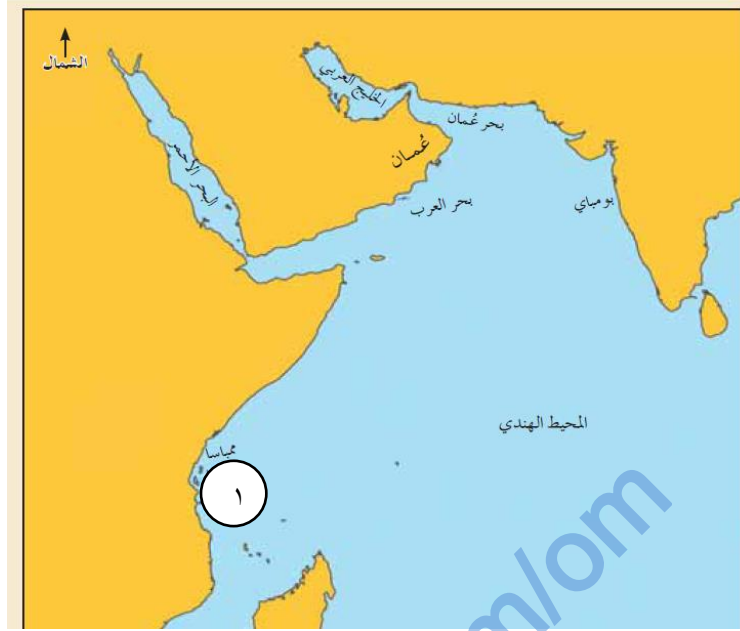
ب	
رقم الدولة	السلع المستوردة
١	الملح
٢	البن
٣	العاج

أ	
رقم الدولة	السلع المستوردة
١	البن
٢	الملح
٣	العاج

د	
رقم الدولة	السلع المستوردة
١	العاج
٢	البن
٣	الملح

ج	
رقم الدولة	السلع المستوردة
١	الملح
٢	العاج
٣	البن

باستخدام الخريطة أجب على المفردات (٥٧) (٥٨) (٥٩) (٦٠) (٦١) (٦٢).



٥٧- الجزيرة المشار إليها بالرقم (١) على الخريطة والتي اكتسب مينائها شهرة عالمية في عصر السيد سعيد بن سلطان:

- أ- ممباسا ب- كلوة ج- زنجبار د- بمبا

٥٨- عدد السفن التجارية الأجنبية التي زارت هذا الميناء بين عامي (١٨٣٢-١٨٣٤م):

- أ- ٤٠ سفينة ب- ٤١ سفينة ج- ٤٢ سفينة د- ٤٣ سفينة

٥٩- القرن الميلادي الذي اكتسب فيه هذا الميناء شهرة عالمية في عصر السيد سعيد بن سلطان:

- أ- السادس عشر ب- السابع عشر ج- الثامن عشر د- التاسع عشر

٦٠- الجهة التي تقع فيها هذه الجزيرة بالنسبة إلى عمان:

- أ- الشمال ب- الجنوب ج- الشرق د- الغرب

٦١- المحصول الذي تعد هذه الجزيرة أكبر مصدر له في العالم:

- أ- المانجو ب- البن ج- التمر د- القرنفل

٦٢- الدولة التي تتبعها هذه الجزيرة حاليا :

أ- تنزانيا ب- كينيا ج- مدغشقر د- موزمبيق

٦٣- الجدول الصحيح للسلع المحلية والمستورة في عصر البوسعيد:

مثال على السلع المحلية	مثال على السلع المستورة	ب
الأسماك /التمر/ العسل	البن /الصمغ/الملح	

مثال على السلع المحلية	مثال على السلع المستورة	أ
الأسماك /الصمغ/ العسل	البن /التمر/الملح	

مثال على السلع المحلية	مثال على السلع المستورة	د
البن /الملح / العاج	الأسماك/العسل / التمر	

مثال على السلع المحلية	مثال على السلع المستورة	ج
الأسماك /الصمغ/ العسل	البن /العاج/الملح	

٦٤- العام الذي أدخل فيه السيد سعيد بن سلطان محصول القرنفل إلى زنجبار :

أ- ١٨٤١ م ب- ١٨٤٢ م ج- ١٨٤٣ م د- ١

٨٤٤ م

٦٥- أهم الصناعات التي تطورت في عصر حكام البوسعيد:

أ- السفن ب- الفضيات ج- السفن د- الفخاريات

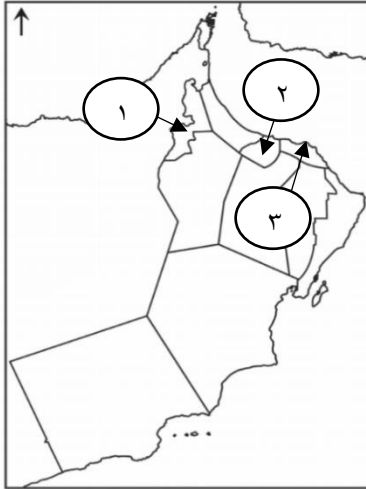
٦٦- ازدهرت موانئ صور ومطرح ومسقط كأحواض لصناعة السفن في عهد السيد:

د- سعيد بن سلطان

ج- سلطان بن أحمد









ب- أحمد بن سعيد

أ- سعيد بن أحمد



٦٧- الشكل الذي يوضح المواقع الصحيحة للمعالم المعمارية التي بنيت في عصر

حكام البوسعيد حسب الأرقام على الخريطة أمامك:



٦٨- الجدول الصحيح للمعالم المعمارية والحكام الذين قاموا ببنائها في عصر البوسعيد:

ب	
المعلم المعماري	الحاكم الذي بناها
	سلطان بن أحمد
	سلطان بن أحمد
	سعيد بن أحمد
	سعيد بن سلطان

أ	
المعلم المعماري	الحاكم الذي بناها
	سلطان بن أحمد
	سعيد بن سلطان
	سعيد بن أحمد
	سلطان بن أحمد

د	
المعلم المعماري	الحاكم الذي بناها
	سعيد بن أحمد
	سعيد بن سلطان
	سلطان بن أحمد
	سلطان بن أحمد



ج	
المعلم المعماري	الحاكم الذي بناها
	سلطان بن أحمد
	سعيد بن أحمد
	سعيد بن سلطان
	سلطان بن أحمد

٦٩- الجدول الصحيح للمعالم المعمارية والمحافظات التي توجد فيها في عصر البوسعيد:

ب	
المحافظة	المعلم المعماري
الرسّاق	
البريمي	
مسقط	
بركا	

أ	
المحافظة	المعلم المعماري
مسقط	
البريمي	
بركا	
الرسّاق	

د	
المحافظة	المعلم المعماري
الرسّاق	
مسقط	
البريمي	
بركا	

ج	
المحافظة	المعلم المعماري
الرسّاق	
بركا	
مسقط	
البريمي	



٧٠- الولاية العمانية التي بني فيها المعلم المعماري في الشكل أمامك:

- أ- الرستاق
ب- بركا
ج- البريمي
د- مسقط

باستخدام الصورة أمامك أجب على المفردتين (٧١) (٧٢) (٧٣) (٧٤)

٧١-الموقع الذي بني فيه المعلم الواضح في الصورة أمامك:

- أ- زنجبار
ب- بمبا
ج- ممبasa
د- كلوة

٧٢- السلطان الذي بنى المعلم الواضح في الصورة أمامك:

- أ- سعيد بن سلطان
ب- برغش بن سعيد
ج- سعيد بن تيمور
د- فيصل بن تركي

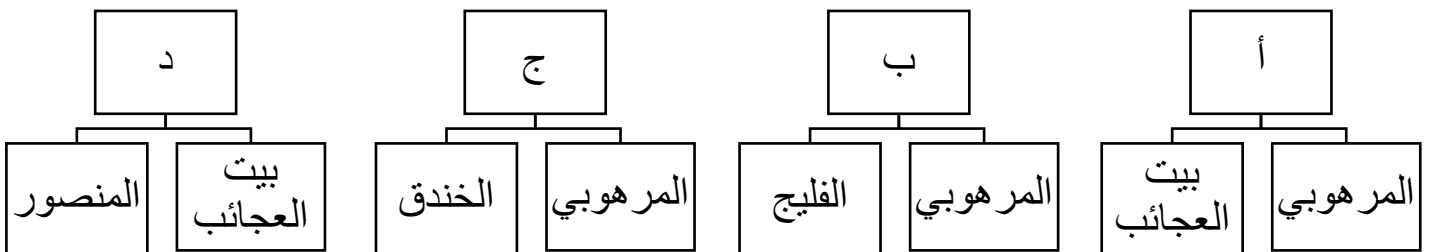
٧٣- اسم المعلم الواضح في الصورة أمامك:

- أ- المرهوبي
ب- الخندق
ج- المنصور
د- بيت العجائب

٧٤- المنجز الحضاري الذي توضحه الصورة الواضحة أمامك:

- أ- المعماري
ب- الإداري
ج- الاقتصادي
د- الثقافي

٧٥- المخطط الصحيح للقصور التي شيدها السلطان برغش بن سعيد في زنجبار:



٧٦- عدد الساعات التي وضعها السلطان برغش بن سعيد في برج الميناء بزنجبار:

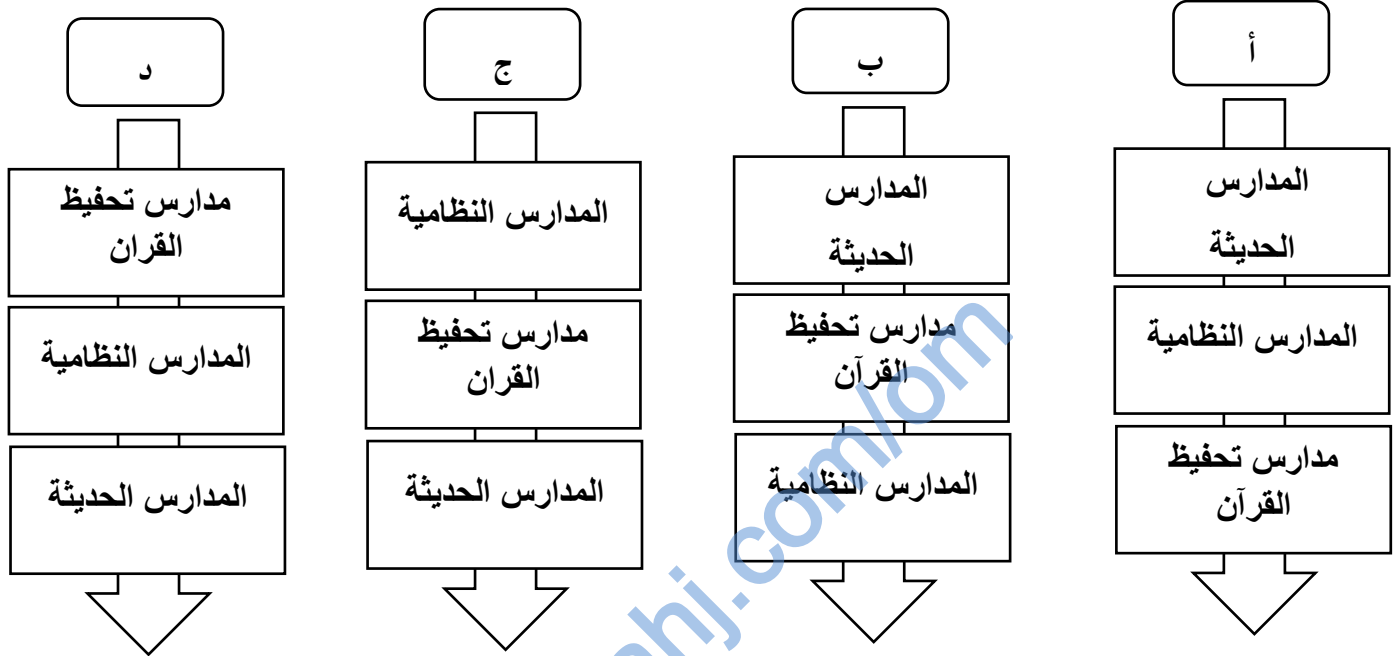
أ- ٣ ساعات

ب- ٤ ساعات

ج- ٥ ساعات

د- ٦ ساعات

٧٧- الترتيب الصحيح لتطور التعليم في عصر حكام البوسعيد من الأحدث إلى الأقدم:



٧٨- مدرسة كانت تستخدم لتحفيظ القرآن الكريم في عهد الإمام أحمد من سعيد:

أ- السلطانية الأولى

ب- السعيدية

ج- بيت القرن

د- بيت العجائب

٧٩- المدرسة النظامية في عهد السلطان تيمور بن فيصل:

أ- السلطانية الأولى

ب- السعيدية

ج- بيت القرن

د- بيت العجائب

٨٠- سياسي ومترجم نال لقب المندوب الفرنسي عام ١٨٣٨م في عهد السلطان سعيد بن سلطان:

أ- عزان بن قيس البوسعيدي

ب- حبيب بن سالم أمبوسعيدي

ج- خلفان بن محمد البوسعيدي

د- سعيد بن خلفان البوسعيدي

٨١- خريطة الدولة التي كان سعيد بن خلفان قنصلا لها في مسقط في عهد السيد سعيد بن سلطان:



د



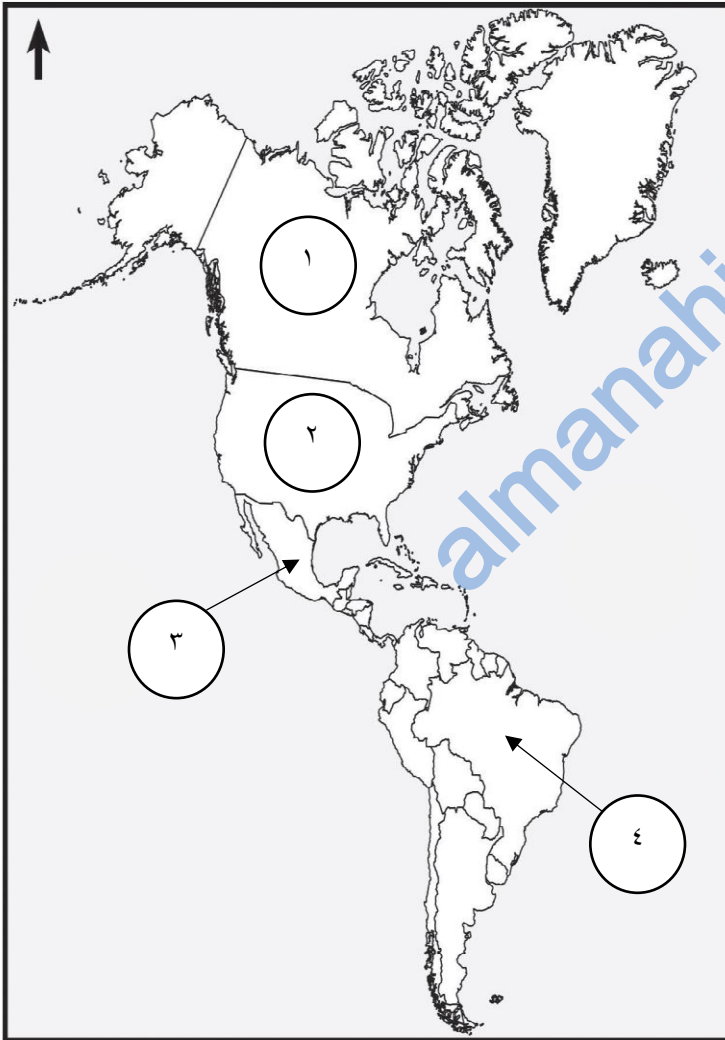
ج



ب



أ



باستخدام الخريطة أمامك أجب على المفردات (٨٢) (٨٣) (٨٤)

٨٢- الرقم الذي يشير للدولة التي عينت سعيد بن خلفان

البوسعيدي وكيلا لها في مسقط في عهد السيد سعيد بن سلطان:

أ- (١)

ب- (٢)

ج- (٣)

د- (٤)

٨٣- العام الذي عقدت فيه أقدم معاهدة سياسية بين

الدول العربية والدولة المشار إليها بالرقم (٢) على الخريطة:

أ- ١٨٣١م

ب- ١٨٣٢م

ج- ١٨٣٣م

د- ١٨٣٤م

٨٤- نوع العلاقة التي عقدها السيد سعيد بن سلطان مع

الدولة المشار لها بالرقم (٢) على الخريطة:

أ- سياسية

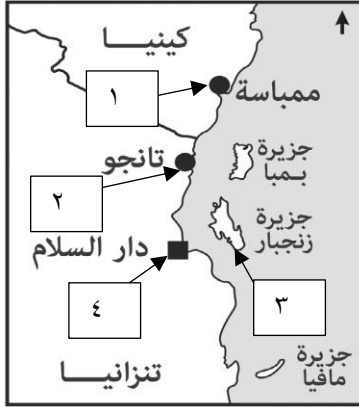
ب- اقتصادية

ج- رياضية

د- ثقافية

٨٥- الحاكم العماني الذي عقد معاهدة سياسية بين الدول العربية والولايات المتحدة الأمريكية:

- أ- أحمد بن سعيد ب- سعيد بن تيمور ج- سعيد بن سلطان د- فيصل بن تركي



٨٦- الرقم الصحيح على الخريطة أمامك للمدينة التي كان على بن ناصر الهنائي واليا عليها

في عهد السيد سعيد بن سلطان:

- أ- (١) ب- (٢)
ج- (٣) د- (٤)

٨٧- قائل العبارة الآتية " أريد أن أنظر الى خريطة العالم ولا أجد بلدا لا تربطه علاقة صداقة بعمان "

- أ- هيثم بن طارق ب- سعيد بن سلطان ج- أحمد بن سعيد د- قابوس بن سعيد

٨٨- السياسة الخارجية التي اتبعها السلطان قابوس طيب الله ثراه:

- أ- الصراع والحروب ب- السلم والحوار ج- التدخل في شؤون الآخرين د- زرع الفتن والفرقة

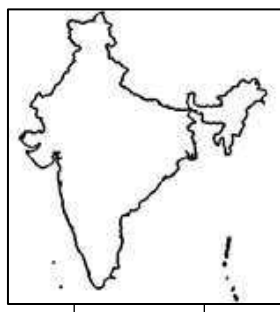
٨٩- السيد الذي عقدت في عهده اتفاقية مع ممثل الحكومة البريطانية في الهند عام ١٨٠٠م:

- أ- أحمد بن سعيد ب- هلال بن أحمد ج- سلطان بن أحمد د- سعيد بن أحمد

٩٠- خريطة الدولة التي كان السير مالكوم ممثلا للحكومة البريطانية فيها:



د



ج



ب



أ

٩١- تتكون السلطة التشريعية في عهد الإمام أحمد بن سعيد من :

أ- القاضي ب- العلماء ج- الوالي د- الشرطة

٩٢- تتكون السلطة التنفيذية في عهد الإمام أحمد بن سعيد من :

أ- الوجهاء والأعيان ب- العلماء ج- القاضي د- الأسطول

٩٣- اسم الحاكم العماني الواضح في الصورة أمامك :



أ- السلطان تيمور بن سعيد ب- السلطان هيثم بن طارق

ب- السلطان سعيد بن تيمور د- السلطان قابوس بن سعيد

٩٤- اسم الحاكم العماني الواضح في الصورة أمامك :



أ- السلطان تيمور بن سعيد ب- السلطان هيثم بن طارق

ب- السلطان سعيد بن تيمور د- السلطان قابوس بن سعيد

٩٥- اسم الحاكم العماني الواضح في الصورة أمامك :



أ- السلطان تيمور بن سعيد ب- السلطان هيثم بن طارق

ب- السلطان سعيد بن تيمور د- السلطان قابوس بن سعيد

٩٦- السفينة العمانية التي أرسلها السيد سعيد بن سلطان إلى لندن محملة بالهدايا للملكتها :

أ- فلك السلامة ب- الرحماني ج- شباب عمان د- سلطنة

باستخدام الشكل أمامك أجب على المفردات (٩٧) (٩٨) (٩٩) (١٠٠) (١٠١) (١٠٢) (١٠٣)

٩٧- صاحب الوقف المذكور في الشكل أمامك :

أ- عزان بن قيس البوسعيدي ب- حبيب بن سالم أمبوسعيدي

ج- خلفان بن محمد البوسعيدي د- فيصل بن حمود البوسعيدي

٩٨- نوع الوقف المذكور في الشكل أمامك :

أ- التعليم ب- المساجد

ب- الصحة د- التجارة

٩٩- الولاية العمانية التي يقع فيها الوقف المذكور بالشكل أمامك :

أ- صحار ب- الرستاق ج- مسقط د- بركاء

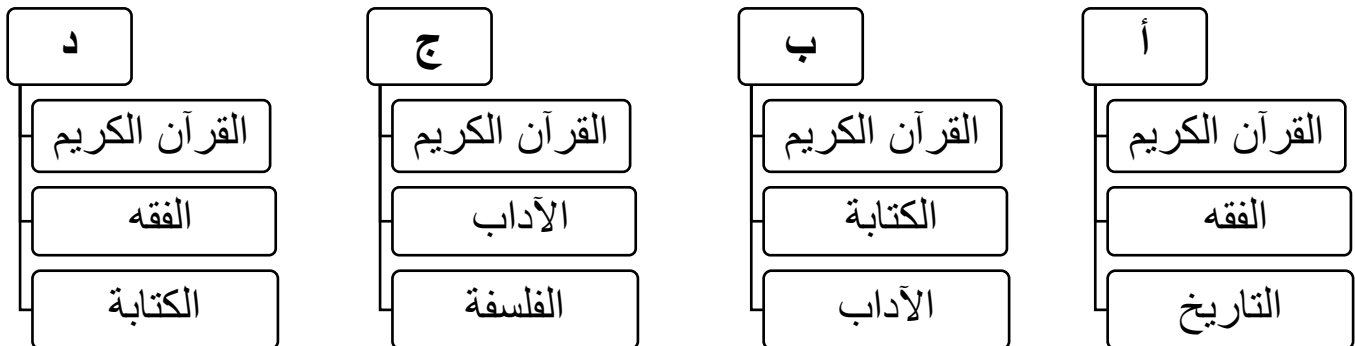
١٠٠- اسم المدرسة الموقوفة بالشكل أمامك :

أ- السلطانية الأولى ب- السعيدية ج- بيت القرن د- بيت العجائب

١٠١- توقيت التعليم المتبع بمدرسة الوقف في الشكل أمامك :

أ- صباحا وظهرا ب- صباحا فقط ج- مساء فقط د- صباحا ومساء

١٠٢- العلوم التي تدرس بمدرسة الوقف أمامك :



١٠٣- الأيام التي لا يدرس فيها الطلبة بمدرسة الوقف في الشكل أمامك :

ب- الجمعة والأعياد وأربع أيام قبلها

أ- الجمعة والأعياد وثلاث أيام قبلها

د- الجمعة والأعياد وست أيام قبلها

ج- الجمعة والأعياد وخمس أيام قبلها


١٠٤- مؤلف الكتاب في الشكل أمامك :

أ- أحمد بن حمد الخليلي

ب- سعيد بن مسلم الجابري

ج- ناصر بن جاعد الخروصي

د- مهنا بن خلفان البوسعيدي



١٠٥- مؤلف الكتاب في الشكل أمامك :

أ- سعيد بن مسلم الجابري

ب- ناصر بن جاعد الخروصي

ج- أحمد بن حمد الخليلي

د- مهنا بن خلفان البوسعيدي


١٠٦- اسم الكتاب الواضح في الشكل أمامك :

أ- موسوعة العلم المبين والحق اليقين

ب- برهان الحق

ج- ديوان أبي الصوفي

د- تهذيب الأثر في تلخيص جامع الشيخ محمد بن جعفر



١٠٧- التظليل الصحيح للعقد الأخير من القرن الثامن عشر الميلادي :

1790م

1780م

1770م

1760م

أ

1790م

1780م

1770م

1760م

ب

1790م

1780م

1770م

1760م

ب

1790م

1780م

1770م

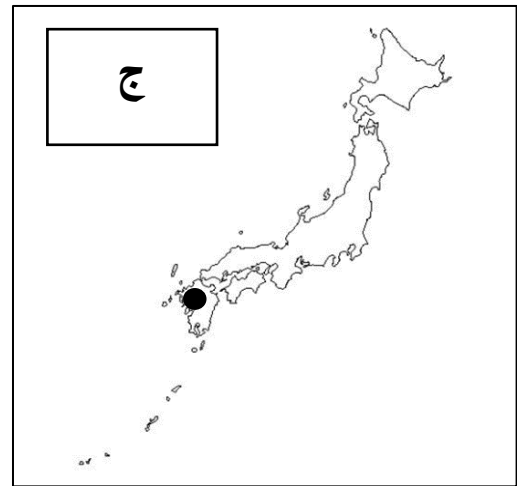
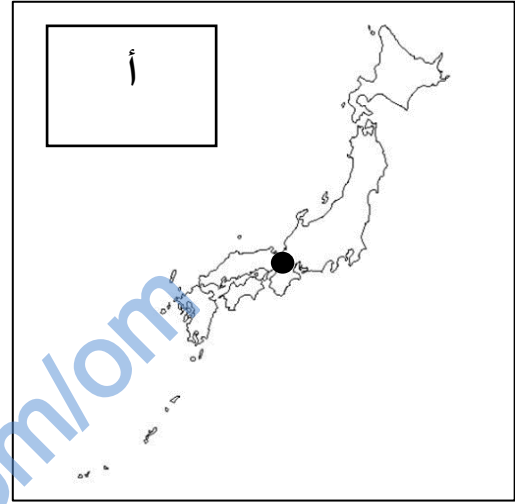
1760م

د

١٠٨- عالم من علماء عمان المعاصرين وشغل منصب مفتي عام السلطنة منذ عام ١٩٧٥م:

أ- سعيد بن مسلم الجابري ب- ناصر بن جاعد الخروصي ج- أحمد بن حمد الخليلي د- مهنا بن خلفان البوسعيدي

١٠٩- الموقع الصحيح لمدينة أوساكا اليابانية التي طبع الشاعر سعيد بن مسلم ديوانه فيها:



١١٠- السلطان الذي طبع ديوان الشاعر سعيد بن مسلم المعروف بأبي الصوفي على نفقته الخاصة:

د- قابوس بن سعيد

ج- سعيد بن تيمور

ب- تيمور بن فيصل

أ- فيصل بن تركي

تم بحمد الله وتوفيقه