

## إجابات المراجعة الشاملة للمادة من سلسلة ضفاف الاجتماعية



### تم تحميل هذا الملف من موقع المناهج العمانية

موقع فايلاتي ← المناهج العمانية ← الصف الثاني عشر ← هذا وطني ← الفصل الثاني ← ملفات متنوعة ← الملف

تاريخ إضافة الملف على موقع المناهج: 2025-03-29 13:27:34

ملفات اكتب للمعلم اكتب للطالب | اختبارات الكترونية | اختبارات | حلول | عروض بوربوينت | أوراق عمل  
منهج انجليزي | ملخصات وتقارير | مذكرات وبنوك | الامتحان النهائي | للمدرس

المزيد من مادة  
هذا وطني:

إعداد: فضيلة الشحي

### التواصل الاجتماعي بحسب الصف الثاني عشر



صفحة المناهج  
العمانية على  
فيسبوك

الرياضيات

اللغة الانجليزية

اللغة العربية

التربية الاسلامية

المواد على تلغرام

### المزيد من الملفات بحسب الصف الثاني عشر والمادة هذا وطني في الفصل الثاني

مراجعة شاملة للمادة من سلسلة ضفاف الاجتماعية

1

ملخص شامل للمادة

2

تقرير عن سوق العمل والعمالة من سلسلة الإبحار

3

تقرير عن سوق العمل من سلسلة الإبحار

4

تقرير ثاني عن شركة مزون للألبان وتقرير عن الثروة الصناعية الرابعة

5



سلطنة عمان

وزارة التربية والتعليم

المديرية العامة للتربية والتعليم بمحافظة مسندم


مدرسة ليما للتعليم الأساسي (١٢-١)

الفصل الدراسي الثاني/ ٢٠٢١-٢٠٢٢ م



# سلسلة ضفاف الاجتماعية

## مادة هذا وطني للصف الثاني عشر



إعداد : فضيلة الشحي

معلمة أولى مادة تاريخ





## الوحدة الثالثة: سوق العمل العماني... استثمار وتوجهات

يُتَوَقَّعُ من الطالب الدَّارس لهذه الوحدة أن:

- ١ يتعرَّف التطورات العالمية لسوق العمل والجهود الوطنية لمواكبتها.
- ٢ يوضِّح ماهية الاقتصاد القائم على المعرفة.
- ٣ يثمن الجهود المبذولة لتنمية المؤسسات الصغيرة والمتوسطة في السلطنة.
- ٤ يحلِّل النصوص والجداول والأشكال.
- ٥ يكتسب القيم والاتجاهات والمهارات.

مخرجات التعلم للوحدة

الدرس الأول: سوق العمل... توجُّه عالمي واهتمام وطني  
الدرس الثاني: المؤسسات الصغيرة والمتوسطة... الأهمية والجهود الوطنية  
الدرس الثالث: الاقتصاد القائم على المعرفة... تطلعات ورؤى

دروس الوحدة

سوق العمل ...  
تَوَجَّهْ عالمي واهتمام وطني

الدرس الأول



2025

2024

موقع المناهج  
العمانية



## درس : سوق العمل توجه عالمي واهتمام وطني

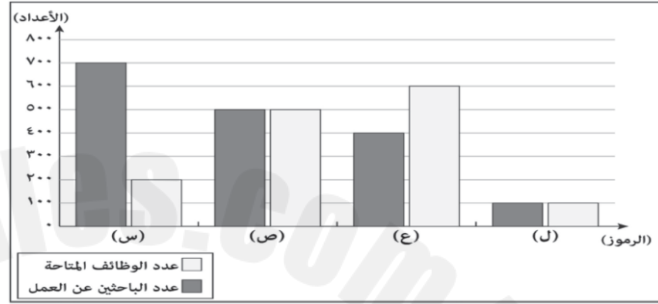
التاريخ : / / ١٤— الموافق / / ٢٠—

### أولاً: ضع دائرة على الإجابة الصحيحة من بين البدائل المعطاه فيما يلي :

١-سوق افتراضي يتضمن القوى العاملة وفرص العمل المتاحة من المؤسسات الحكومية والخاصة :

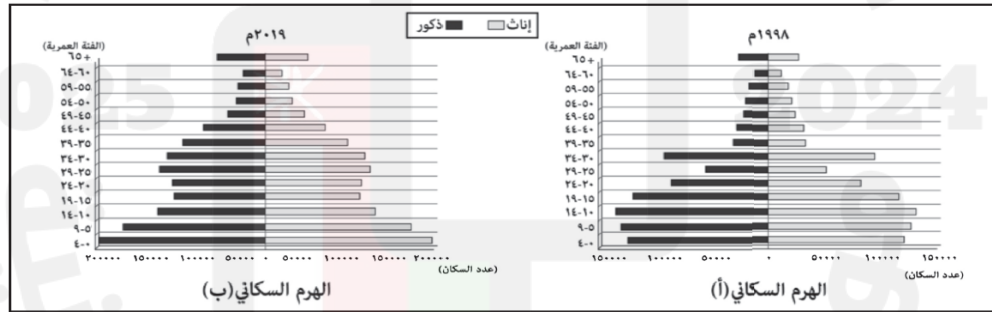
أ-سوق العمل المحكم ب-سوق العمل ج-سوق العمل الراكد د- سوق العمل القوي

٢- الرمز الذي ينطبق عليه مفهوم سوق العمل الراكد كما في الرسم البياني الآتي :



أ- ل ب- ع ج- ص د- س

٣-الجدول الصحيح الذي يصف الوضع السكاني لسلطنة عمان كما يوضحه الهرم السكاني الآتي لعامي ١٩٩٨م و٢٠١٩م :



الهرم السكاني		
(ب)	(أ)	
سنة (١٤-١٠) سنة	سنة (١٩-١٥) سنة	الفئة العمرية الأكثر في عدد السكان
سنة (٥٤-٥٠) سنة	سنة (٥٩-٥٥) سنة	الفئة العمرية الأقل في عدد السكان
الهرم السكاني		
(ب)	(أ)	
سنة (٤-٠) سنة	سنة (١٤-١٠) سنة	الفئة العمرية الأكثر في عدد السكان
سنة (٦٤-٦٠) سنة	سنة (٦٤-٦٠) سنة	الفئة العمرية الأقل في عدد السكان
الهرم السكاني		
(ب)	(أ)	
سنة (٩-٥) سنة	سنة (١٤-١٠) سنة	الفئة العمرية الأكثر في عدد السكان
سنة (٥٩-٥٥) سنة	سنة (٥٤-٥٠) سنة	الفئة العمرية الأقل في عدد السكان
الهرم السكاني		
(ب)	(أ)	
سنة (١٩-١٥) سنة	سنة (٩-٥) سنة	الفئة العمرية الأكثر في عدد السكان
سنة (٥٤-٥٠) سنة	سنة (٥٤-٥٠) سنة	الفئة العمرية الأقل في عدد السكان

أ-

ب-

ج-

د-

٤- العامل الرئيس المؤدي إلى اختزال عمليات الإنتاج والتوزيع لسوق العمل في التوجه العالمي الجديد:

أ-زيادة نسبة العاملين.

ب-التدريب وإعادة التأهيل.

ج-الاعتماد على التقنية الحديثة.

د-إعادة تدريب الإدارات التنفيذية.

### ثانيا : أجب عن جميع الأسئلة الآتية :

١- ما المقصود بسوق العمل ؟

سوق افتراضي نظري يتضمن القوى العاملة والعارضين لفرص العمل من المؤسسات الحكومية والخاصة .

٢- اذكر العنصرين الأساسيين اللذين يتكون منهما سوق العمل .

١-القوى العاملة (العرض).

٢-الجهات والمؤسسات والشركات(الطلب).

٣-فرق بين سوق العمل المحكم وسوق العمل الراكد.

سوق العمل المحكم هو الذي يزيد فيه عدد الوظائف المتاحة عن عدد الباحثين عن عمل .

سوق العمل الراكد هو الذي يزيد فيه عدد الباحثين عن العمل على عدد الوظائف .

٤-عدد العوامل المؤثرة في سوق العمل.

١-العوامل الجغرافية : المسافة بين مكان الإقامة الدائم ومكان العمل.

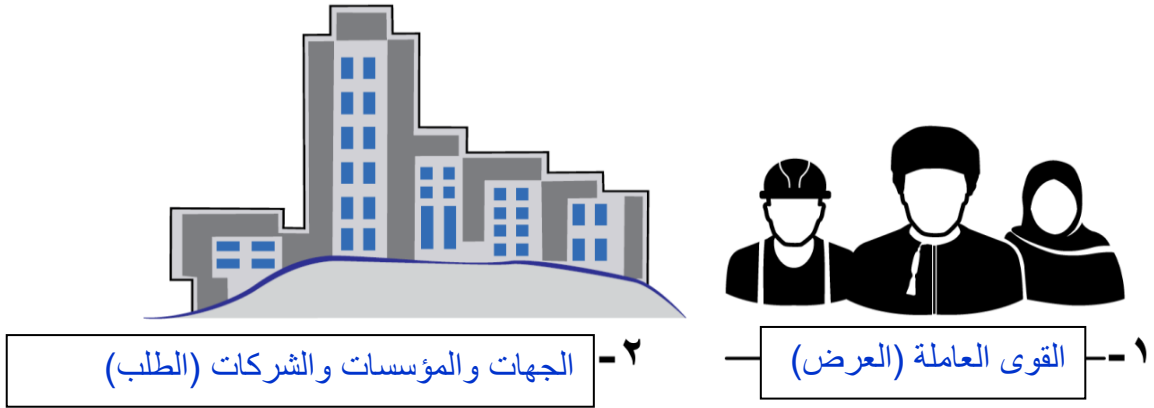
٢-العوامل الديموغرافية: الخصائص السكانية.

٣-العوامل الاقتصادية: الأزمات المالية والتطورات الاقتصادية .

٤-العوامل السياسية والقانونية : تشريعات وقوانين العمل.

٥-العوامل الثقافية والاجتماعية: المستوى التعليمي والتكنولوجي والعادات والتقاليد ومشاركة.

٥- ادرس الشكل الذي أمامك ثم أجب عن الأسئلة التالية :



أما الذي يشير إليه الشكل ؟ مكونات سوق العمل

ب- اكتب على الشكل ما تشير إليه الأرقام ١ و ٢ .

٦- صنف العوامل الآتية المؤثرة في سوق العمل حسب نوعها:

م	العامل	نوع العامل المؤثر في سوق العمل
١	الخصائص السكانية	الديموغرافي
٢	تشريعات وقوانين العمل	السياسي والقانوني
٣	الأزمات المالية	الاقتصادي
٤	المستوى التعليمي والتكنولوجي	الثقافي والاجتماعي
٥	التطورات الاقتصادية	الاقتصادي
٦	المسافة بين مكان الإقامة الدائم ومكان العمل	الجغرافي
٧	العادات والتقاليد ومشاركة المرأة	الثقافي والاجتماعي

٧- صنف العبارات الواردة في الجدول الآتي حسب نوع العامل المؤثر في سوق العمل العالمي مستعينا بالمثل الموضح أدناه.

م	العبارات	نوع العامل المؤثر في سوق العمل العالمي
مثال	زيادة نسبة الذكور عن الإناث في المجتمع.	ديموغرافي
١	بعد مكان العمل عن مقر السكن الدائم للعمال.	الجغرافي
٢	سن العمل المسموح به في الدولة يتراوح ما بين (٦٠-١٨) سنة	السياسي والقانوني
٣	نسبة ٨٠٪ من الباحثين عن عمل حاصلين على شهادة دبلوم التعليم العام.	الثقافي والاجتماعي



٨- عدد ثلاثا من نتائج حراك المؤسسات الكبرى لإعادة هيكلتها وتحقيق أرباح عالية لمواجهة المنافسة الدولية.

١- فقدان نسبة كبيرة من الوظائف في العديد من المؤسسات .

٢- اهتمام المؤسسات بتعيين أصحاب الخبرة والمهارات الوظيفية.

٣- اختزال عمليات الإنتاج والتوزيع في ظل الاعتماد على التقنيات الحديثة.

٩- اذكر أبرز التحديات التي تواجه سوق العمل .

١- ارتفاع أعداد الباحثين عن عمل.

٢- عدم امتلاك بعض المخرجات التعليمية للمهارات الوظيفية اللازمة لسوق العمل.



درس : سوق العمل توجه عالمي واهتمام وطني

التاريخ : / / ١٤— الموافق / / ٢٠—

أولاً: ضع دائرة على الإجابة الصحيحة من بين البدائل المعطاه فيما يلي :

١-تعد مصفاة الدقم من قطاع:

أ- التعدين      ب- السياحة      ج-الصناعات التحويلية      د-الخدمات اللوجستية

٢-القطاع الاستثماري الذي يمثل مشروع (مدينة خزائن الاقتصادية) في سوق العمل العماني:

أ-الصناعات التحويلية      ب- التعدين      ج-الخدمات اللوجستية      د-السياحة.

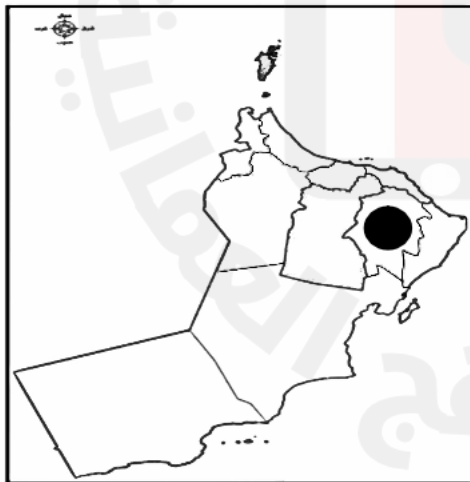
٣-المحافظة التي يوجد بها مشروع مدينة العرفان :



ب



أ




د



ج ✓

٤- الصورة الصحيحة التي تمثل الخدمات اللوجستية :



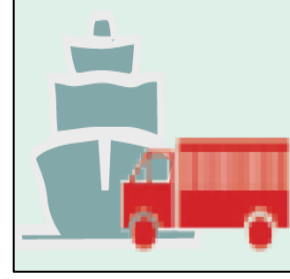
ب-



أ-



د-



ج- ✓

ثانيا : أجب عن جميع الأسئلة الآتية :

١- ما أهمية تنوع القطاعات الاقتصادية في سلطنة عمان؟

تسهم في الناتج المحلي الإجمالي وتساعد على تنويع مصادر الدخل .

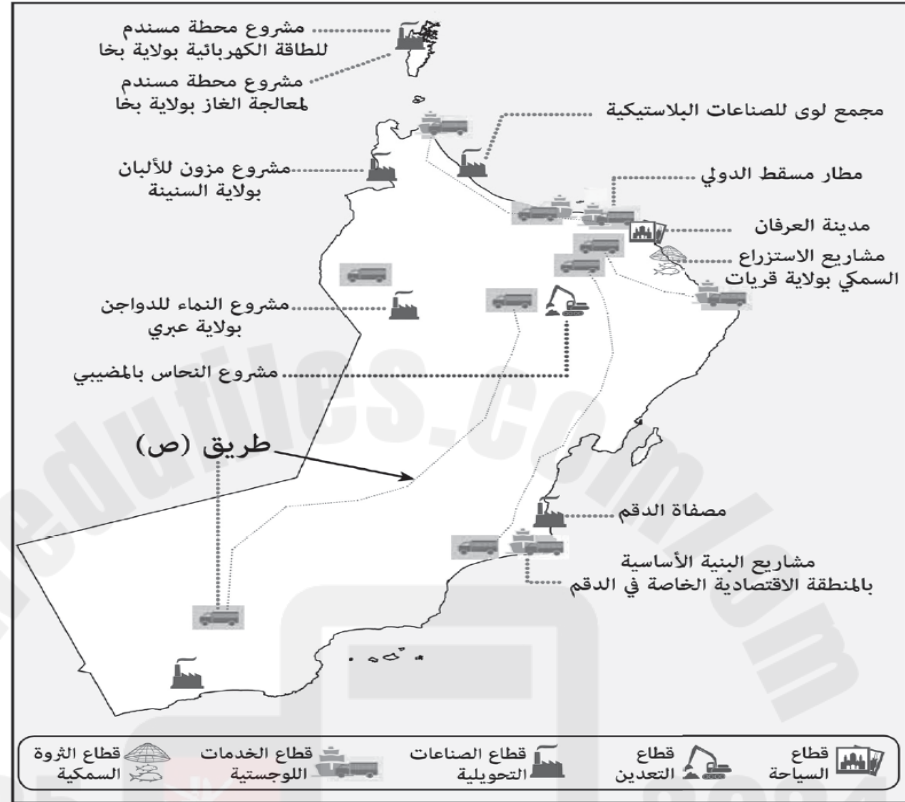
٢- عدد القطاعات الاستثمارية في سوق العمل العماني.

١-الصناعات التحويلية. ٢ -السياحة. ٣-الخدمات اللوجستية. ٤-التعدين. ٥-الثروة السمكية.

٣-اكتب ما تشير إليه الرموز الآتية في القطاعات الاستثمارية:

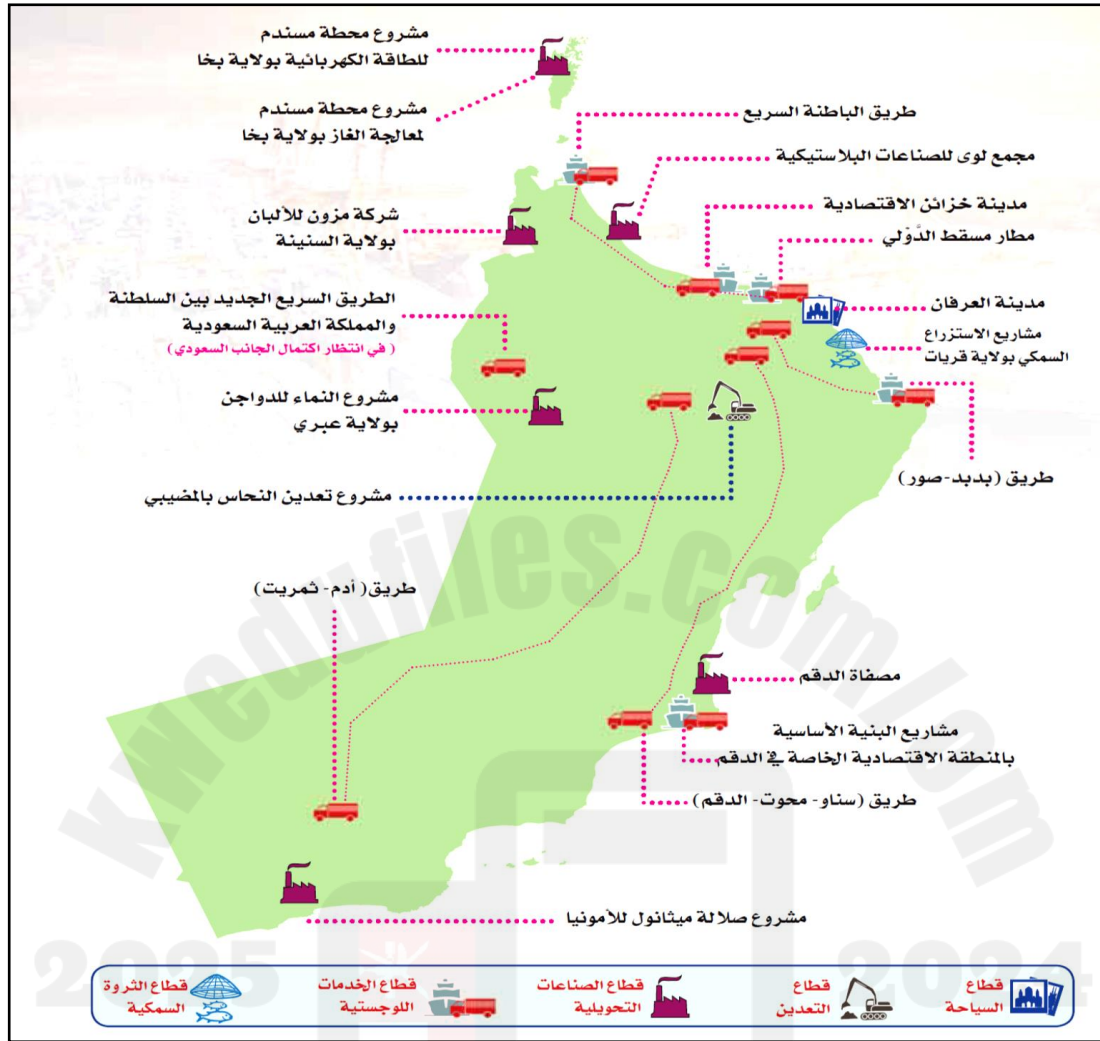
م	الصورة	نوع القطاع الاستثماري
١		الصناعات التحويلية
٢		السياحة
٣		التعدين
٤		الخدمات اللوجستية

- ٤-دلل على اهتمام سلطنة عمان بتنمية القطاعات الاقتصادية المختلفة.  
 من خلال طرح حزمة من المشاريع لتنميتها موزعة على مختلف محافظات السلطنة .
- ٥- ادرس خريطة المشاريع الاقتصادية لسلطنة عمان ، ثم أجب عن الأسئلة الآتية:



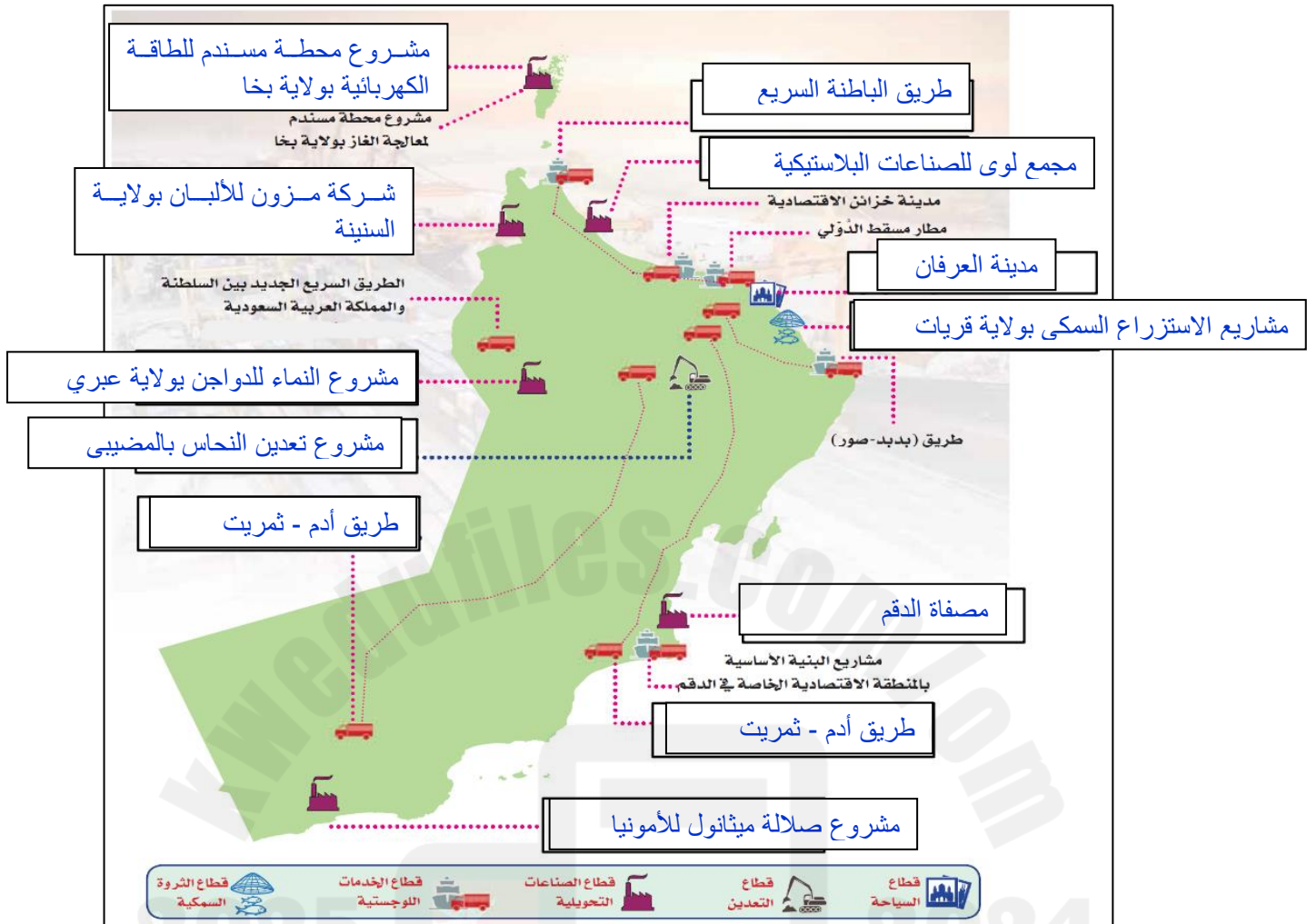
- ١- استخرج من الخريطة اسم مشروع اقتصادي في قطاع التعدين.  
 مشروع النحاس بالمضيبي.
- ٢- اذكر اثنين من المحافظات التي يمر بها مشروع الطريق المشار إليه بالرمز (ص) .  
 الداخلية ، الوسطى ، ظفار.
- ٣- ما نوع القطاع الاستثماري الذي ينتمي إليه المشروع الموجود في ولاية صلالة حسب الخريطة.  
 الصناعات التحويلية.

٦- بالاستعانة بخريطة المشاريع الاقتصادية في السلطنة موزعة على مختلف القطاعات الاستثمارية أكمل الجدول الآتي:



الموقع	أمثلة على المشاريع الاقتصادية	القطاعات الاقتصادية
ولاية بختا في محافظة مسندم	مشروع محطة مسندم لمعالجة الغاز	الصناعات التحويلية
ولاية السنينة في محافظة البريمي	شركة مزون للألبان	
ولاية عبري في محافظة الظاهرة	مشروع نماء للدواجن	
ولاية السيب في محافظة مسقط	مدينة العرفان	السياحة
محافظتي شمال وجنوب الباطنة	طريق الباطنة السريع	الخدمات
ولاية بركاء في محافظة جنوب الباطنة	مدينة خزائن الاقتصادية	اللوجستية
ولاية المضبيبي في محافظة شمال الشرقية	تعدين النحاس	التعدين
ولاية قريات في محافظة مسقط	مشاريع الاستزراع السمكي	الثروة السمكية

٧- أكمل البيانات الناقصة في خريطة المشاريع الاقتصادية في سلطنة عمان :



٨- صنف المشاريع الآتية حسب القطاع والمكان الذي يوجد فيه:

م	اسم المشروع	نوع القطاع	الولاية/المحافظة
١	مدينة خزان الاقتصادية	الخدمات اللوجستية	بركاء / جنوب الباطنة
٢	الاستزراع السمكي	الثروة السمكية	قريات / محافظة مسقط
٣	تعدين النحاس	التعدين	المضيبي / شمال الشرقية
٤	ميثانول للأمونيا	الصناعات التحويلية	صلالة / ظفار
٥	مصفاة الدقم	الصناعات التحويلية	الدقم / الوسطى
٦	النماء للدواجن	الصناعات التحويلية	عبري / الظاهرة
٧	طريق الباطنة السريع	الخدمات اللوجستية	الولايات الساحلية في محافظتي شمال وجنوب الباطنة
٨	مطار مسقط الدولي	الخدمات اللوجستية	السيب / مسقط
٩	مجمع لوى للصناعات البلاستيكية	الصناعات التحويلية	لوى / شمال الباطنة
١٠	مدينة العرفان	السياحة	محافظة مسقط

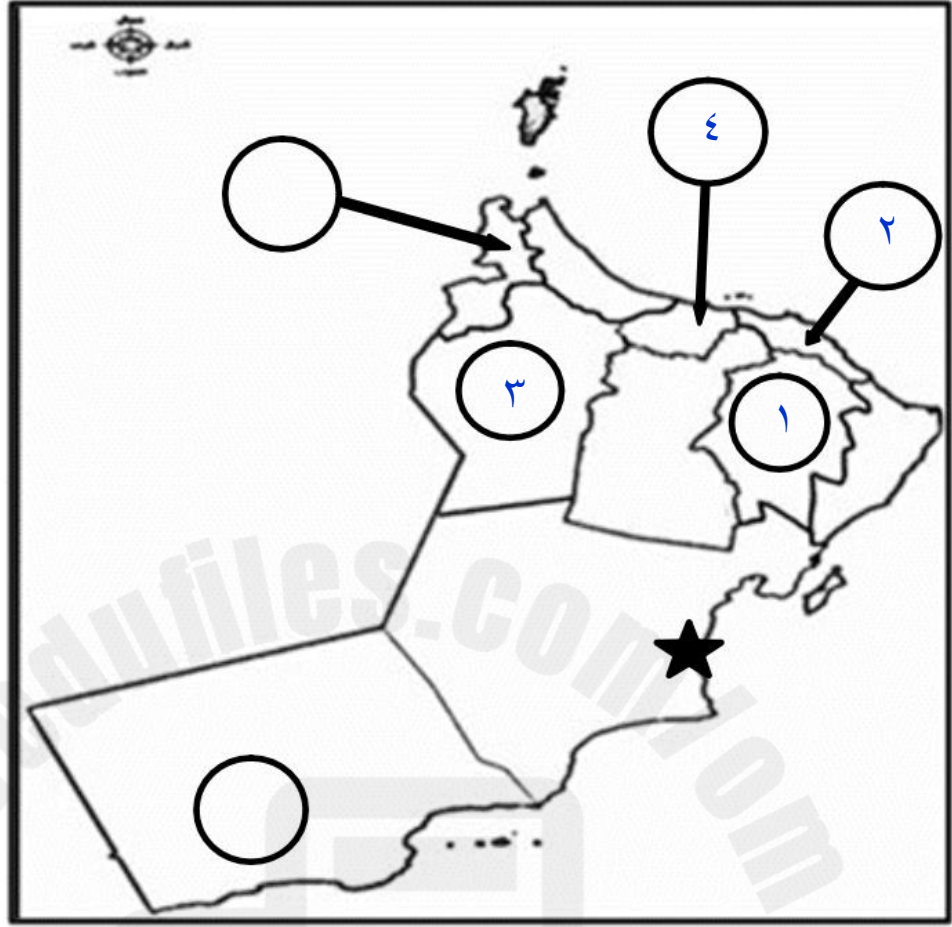


٩- صنف المشاريع الآتية حسب الرمز الذي يشير إلى القطاع الذي تنتمي إليه :

مدينة العرفان / تعدين النحاس / مصفاة الدقم / طريق الباطنة السريع/شركة مزون للألبان /  
مدينة خزائن الاقتصادية / النماء للدواجن / مطار مسقط الدولي

م	نوع القطاع	اسم المشروع
١		مصفاة الدقم / شركة مزون للألبان / النماء للدواجن
٢		مدينة العرفان
٣		تعدين النحاس
٤		طريق الباطنة السريع / مدينة خزائن الاقتصادية / مطار مسقط الدولي

١٠- ادرس الخريطة التي أمامك ثم أجب عن الأسئلة التي تليها :



أ- اكتب أرقام المشاريع الاستثمارية الواردة في الجدول على الخريطة حسب الموقع الصحيح للمحافظة التي توجد بها :

الرقم	المشروع
١	مشروع تعدين النحاس
٢	مشاريع الاستزراع السمكي
٣	مشروع النماء للدواجن
٤	مدينة خزائن الاقتصادية

ب- سمّ مشروع الصناعات التحويلية الذي يوجد في الموقع المشار إليه بالرمز ★ على الخريطة .

مصفاة الدقم

درس : سوق العمل توجه عالمي واهتمام وطني

التاريخ : / / ١٤— الموافق / / ٢٠—

أولاً: ضع دائرة على الإجابة الصحيحة من بين البدائل المعطاه فيما يلي :

١-رقم المرسوم السلطاني الخاص بإنشاء وزارة العمل :

أ- ٢٠١٨ / ٨٩ ب- ٢٠١٩ / ٨٩

ج- ٢٠٢٠ / ٨٩ د- ٢٠٢١ / ٨٩

٢-الوزارة التي تتبع لها المديرية العامة للتشغيل في سلطنة عمان :

أ-الاقتصاد ب- العمل ج- المالية د- الداخلية

ثانيا : أجب عن جميع الأسئلة الآتية :

١-اذكر النتائج المترتبة على تأثر سوق العمل العماني بالتغيرات والتطورات التي تطرأ على المنظومة الاقتصادية العالمية.

دفع حكومة السلطنة إلى اتخاذ سلسلة من الإجراءات لمواكبة تلك التطورات منها :

١-تحسين القوانين والسياسات والأنظمة.

٢-تنمية وتدريب الموارد البشرية.

٣-تقليل الفجوة بين السياسات والأنظمة ومتطلبات سوق العمل.

٢-عدد الإجراءات والمبادرات لتطوير سوق العمل العماني.

١-تطوير حزم حلول للقوى العاملة الوطنية في قطاعات التنويع الاقتصادي المستهدفة.

٢-إنشاء المديرية العامة للتشغيل بوزارة العمل.

٣-جعل القطاع الخاص أكثر جذبا للقوى العاملة العمانية من خلال تطوير الاشتراطات والمعايير والمزايا المتعلقة ببيئة العمل في الشركات.

٤-البرنامج الوطني للتطوير القيادي من أجل تمكين الإدارات العمانية الوسطى والعليا في القطاع الخاص.

٣-كيف تعمل حكومة سلطنة عمان على جعل القطاع الخاص أكثر جذبا للقوى العاملة العمانية .  
من خلال تطوير الاشتراطات والمعايير والمزايا المتعلقة ببيئة العمل في الشركات .

٤ - علل إنشاء البرنامج الوطني للتطوير القيادي.

من أجل تمكين الإدارات العمانية الوسطى والعليا في القطاع الخاص.

٥- اقرأ نص الخطاب السامي لحضرة صاحب الجلالة السلطان هيثم بن طارق المعظم -حفظه الله ورعاه ثم أجب عن الأسئلة التي تليه:

"كما سنولي كل الاهتمام والرعاية والدعم ، لتطوير إطار وطني شامل للتشغيل ، باعتباره ركيزة أساسية من ركائز الاقتصاد الوطني ، يستوجب استمرار تحسين بيئته في القطاعين العام والخاص، و مراجعة نظم التوظيف في القطاع الحكومي وتطويره، وتبني نظم و سياسات عمل جديدة تمنح الحكومة المرونة اللازمة والقدرة التي تساعد على تحقيق الاستفادة القصوى من الموارد و الخبرات والكفاءات الوطنية، واستيعاب أكبر قدر ممكن من الشباب ، وتمكينهم من الانخراط في سوق العمل ؛ لضمان استقرارهم ، ومواكبة تطلعاتهم ؛ استكمالاً لأعمال البناء والتنمية".

من خطاب حضرة صاحب الجلالة السلطان هيثم بن طارق المعظم حفظه الله ورعاه- ٢٣/فبراير ٢٠٢٠م

أ-فسر اهتمام جلالة السلطان هيثم بن طارق – حفظه الله ورعاه – بتطوير سوق العمل والتشغيل.

باعتباره ركيزة أساسية من ركائز الاقتصاد الوطني .

ب-استنتج الإجراءات التي ركز عليها جلالتة لتطوير سوق العمل والتشغيل في السلطنة.

١- استمرار تحسين بيئته في القطاعين العام والخاص.

٢-مراجعة نظم التوظيف في القطاع الحكومي وتطويره .

٣-تبني نظم و سياسات عمل جديدة تمنح الحكومة المرونة اللازمة والقدرة التي تساعد على تحقيق الاستفادة القصوى من الموارد و الخبرات والكفاءات الوطنية، واستيعاب أكبر قدر ممكن من الشباب ، وتمكينهم من الانخراط في سوق العمل.

ج-علل حرص حكومة سلطنة عمان على استيعاب أكبر قدر ممكن من الشباب وتمكينهم من الانخراط في سوق العمل.

لضمان استقرارهم ، ومواكبة تطلعاتهم ؛ استكمالاً لأعمال البناء والتنمية



المؤسسات الصغيرة والمتوسطة ...  
الأهمية والجهود الوطنية

الدرس الثاني



2025

2024

موقع المناهج  
العمانية

درس : المؤسسات الصغيرة والمتوسطة الأهمية والجهود الوطنية

التاريخ : / / ١٤ — الموافق / / ٢٠ —

أولاً: ضع دائرة على الإجابة الصحيحة من بين البدائل المعطاه فيما يلي :

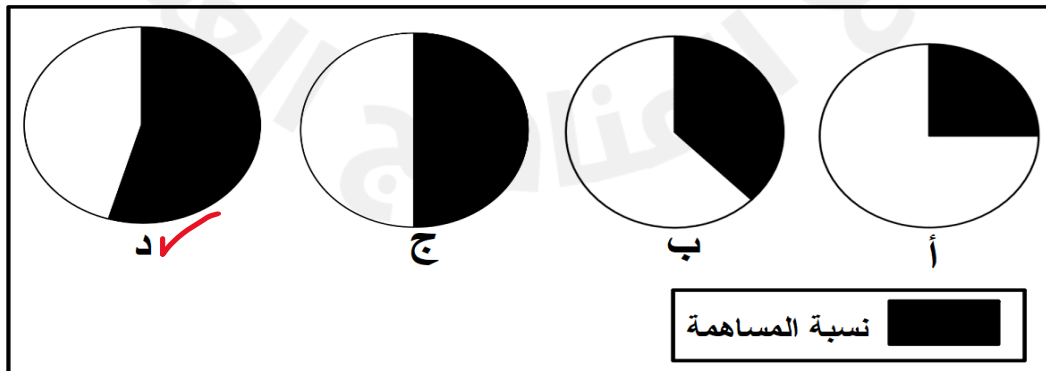
١- العام الميلادي الذي بلغت فيه نسبة مساهمة المؤسسات الصغيرة والمتوسطة في الناتج المحلي الإجمالي للولايات المتحدة الأمريكية حوالي ٥٠٪ :

أ- ٢٠١٦ ب- ٢٠١٧ ✓ ج- ٢٠١٨ د- ٢٠١٩

٢- الدائرة البيانية التي تمثل النسبة التقريبية لمساهمة المؤسسات الصغيرة والمتوسطة في الناتج المحلي الإجمالي للولايات المتحدة الأمريكية عام ٢٠١٧م:

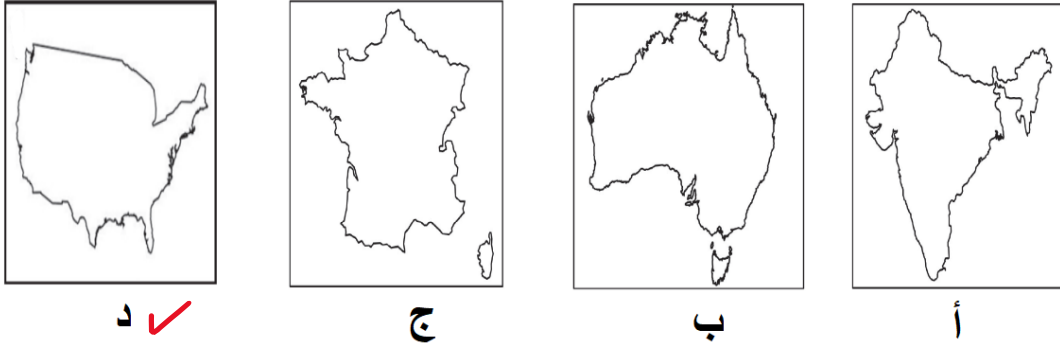


٣- الدائرة البيانية تمثل النسبة التقريبية لمساهمة المؤسسات الصغيرة والمتوسطة في الناتج المحلي الإجمالي للصين عام ٢٠١٧م:

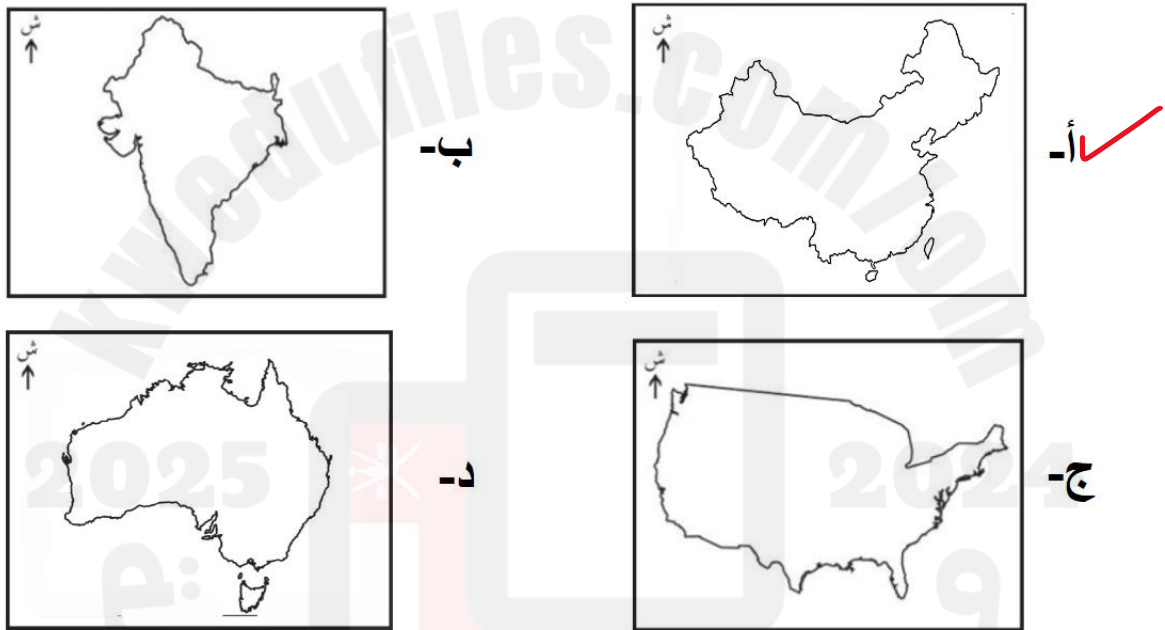




٤- خريطة الدولة التي بلغت نسبة مساهمة المؤسسات الصغيرة والمتوسطة فيها ٥٠٪ من الناتج المحلي الإجمالي في عام ٢٠١٧ م :



٥- خريطة الدولة التي بلغت نسبة مساهمة المؤسسات الصغيرة والمتوسطة فيها ٦٠٪ من الناتج المحلي الإجمالي في عام ٢٠١٧ م :



٦- الرقم الذي يشير إلى الدولة التي بلغت نسبة مساهمة المؤسسات الصغيرة والمتوسطة فيها ٥٠٪ من الناتج المحلي الإجمالي في عام ٢٠١٧ م:



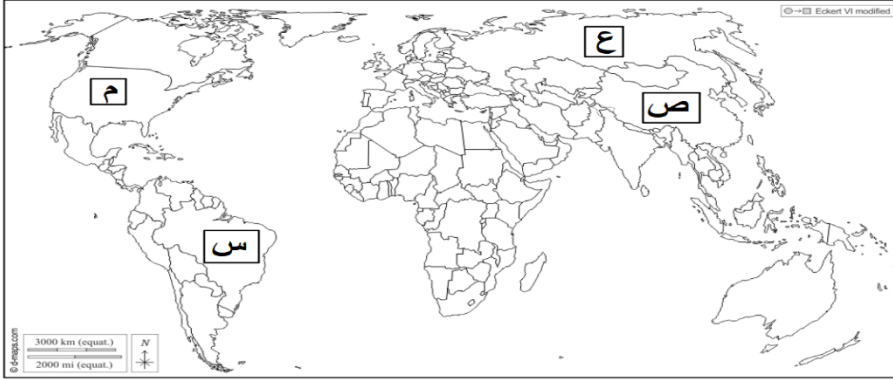
أ- (١)

ب- (٢) ✓

ج- (٣)

د- (٤)

٧- الرمز الذي يشير إلى الدولة التي بلغت نسبة مساهمة المؤسسات الصغيرة والمتوسطة فيها ٦٠٪ من الناتج المحلي الإجمالي في عام ٢٠١٧م:



أ- (س)

ب- (ص) ✓

ج- (ع)

د- (م)



## ثانيا : أجب عن جميع الأسئلة الآتية :

- ١- علل "أصبحت المؤسسات الصغيرة والمتوسطة الركيزة الأساسية للاقتصاد العالمي".
  - لما لها من دور إيجابي في تطور الاقتصاد ونموه.
  - لما تتميز به من مرونة وقدرة على التأقلم في محيط تنافسي.
- ٢- عدد فوائد المؤسسات الصغيرة والمتوسطة.
  - ١- تنمية المواهب والابتكارات .
  - ٢- رفع المستوى المهاري للقوى العاملة.
  - ٣- تعزيز اقتصاد الدولة.
  - ٤- الاستفادة من خامات البيئة.
  - ٥- تحقيق التوازن الجغرافي لعمليات التنمية.
  - ٦- تحقيق التكامل الاقتصادي مع المؤسسات الكبرى.
  - ٧- توفير فرص عمل.
  - ٨- تقليل التفاوت بين مستويات دخل الأفراد.
- ٣- كيف تسهم المؤسسات الصغيرة والمتوسطة في تحقيق التوازن الجغرافي لعمليات التنمية؟

تتسم المؤسسات الصغيرة والمتوسطة بالمرونة وبالتوطن والتنقل بين مختلف المناطق والأقاليم الأمر الذي قد يسهم في إيجاد مجتمعات إنتاجية جديدة في المناطق النائية والريفية وإعادة التوزيع السكاني والحد من الهجرة إلى المدن الكبرى.
- ٤- دلل على اهتمام سلطنة عمان بالمؤسسات الصغيرة والمتوسطة.
  - ١- من خلال رعايتها. ٢- تقديم الدعم اللازم لها. ٣- العمل على تنميتها.
- ٥- صنف فوائد المؤسسات الصغيرة والمتوسطة للفرد أو المجتمع بوضع إشارة √ وفق الجدول الآتي:

م	فوائد المؤسسات الصغيرة والمتوسطة	للفرد	للمجتمع
١	تنمية المواهب والابتكارات	√	
٢	رفع المستوى المهاري للقوى العاملة	√	
٣	تعزيز اقتصاد الدولة		√
٤	الاستفادة من خامات البيئة		√
٥	تحقيق التوازن الجغرافي لعمليات التنمية		√
٦	تحقيق التكامل الاقتصادي مع المؤسسات الكبرى		√
٧	توفير فرص عمل	√	
٨	تقليل التفاوت بين مستويات دخل الأفراد	√	

٦- دلل على مساهمة المؤسسات الصغيرة والمتوسطة في الناتج المحلي الإجمالي في بعض الدول المتقدمة.

في عام ٢٠١٧ م بلغت نسبة مساهمة تلك المؤسسات في الناتج المحلي الإجمالي للولايات المتحدة الأمريكية حوالي ٥٠٪ في حين وصلت النسبة لحوالي ٦٠٪ في الصين.



درس : المؤسسات الصغيرة والمتوسطة الأهمية والجهود الوطنية

التاريخ : / / ١٤— الموافق / / ٢٠—

أولاً: ضع دائرة على الإجابة الصحيحة من بين البدائل المعطاه فيما يلي :

١- تصنف أي مؤسسة ضمن المؤسسات المتوسطة إذا بلغ حجم إيراداتها السنوية بالريال العماني:

أ- أقل من ١٥٠,٠٠٠

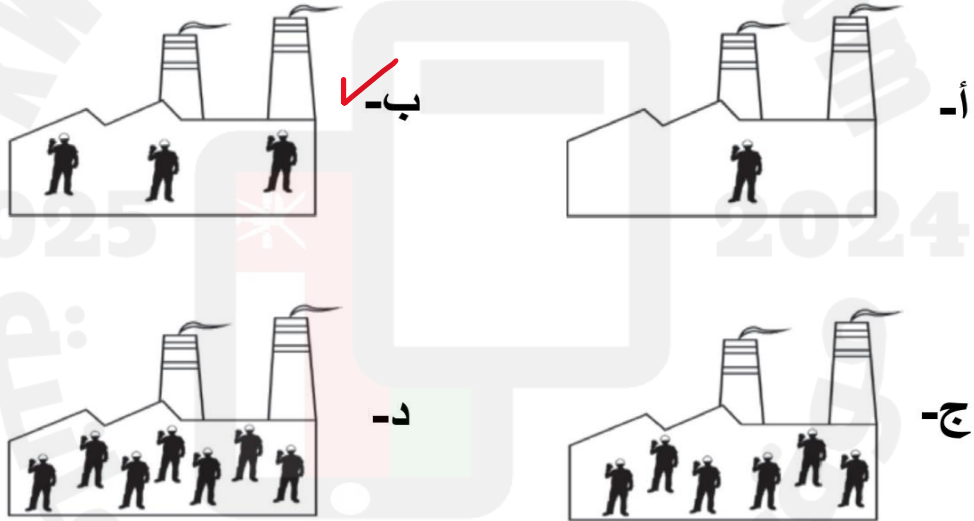
ب- من ١٥٠,٠٠٠ إلى أقل من ١,٢٥٠,٠٠٠

ج- من ١,٢٥٠,٠٠٠ إلى أقل من ٥,٠٠٠,٠٠٠ ✓

د- أكثر من ٥,٠٠٠,٠٠٠

٢- الشكل الذي يمثل مؤسسة صناعية صغيرة وفقاً لمعيار أعداد العاملين المعتمد لتصنيف

المؤسسات الصغيرة والمتوسطة في سلطنة عمان حسب المفتاح الآتي :  = ١٠ عمال :



ثانياً : أجب عن جميع الأسئلة الآتية :

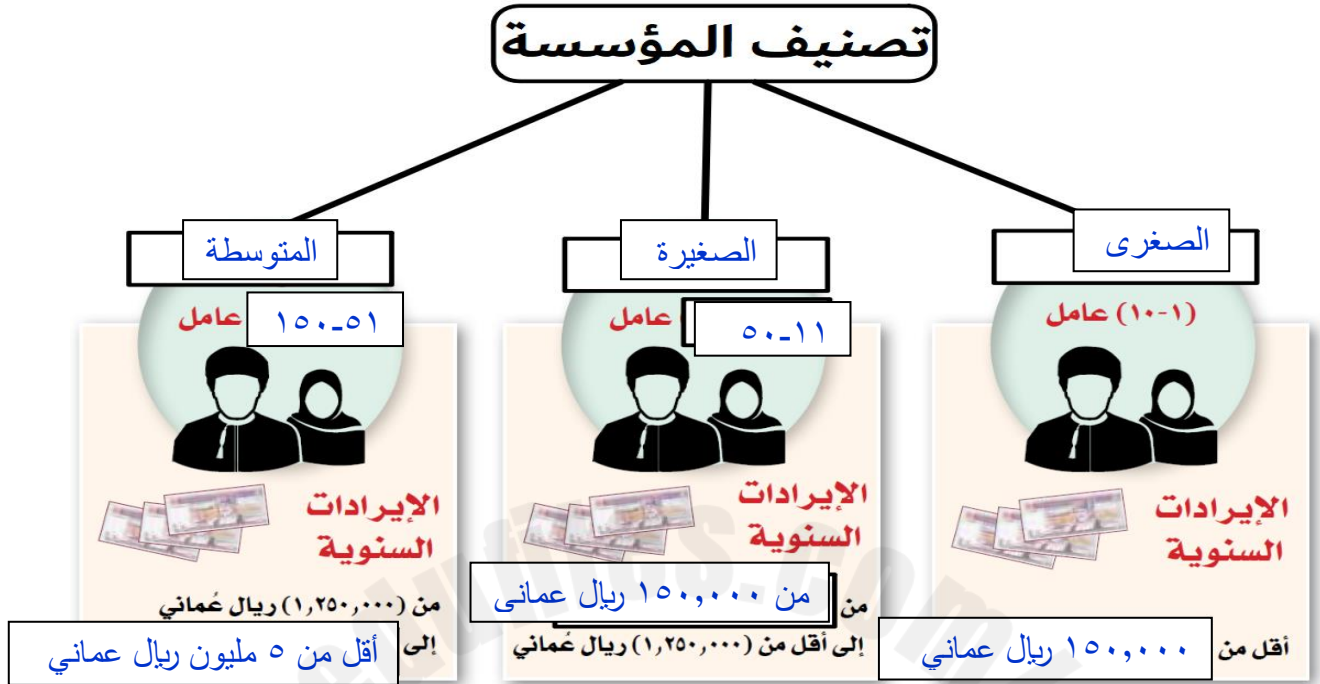
١- ما معيار تصنيف المؤسسات الصغيرة والمتوسطة في سلطنة عمان.

معيار أعداد العاملين وحجم المبيعات في المؤسسة .


٢- اكتب المفهوم أو المصطلح الدال على العبارة الآتية :

-مؤسسة حكومية تعنى بتطوير المؤسسات الصغيرة والمتوسطة والتخطيط والترويج لها بالتنسيق بين القطاعين الحكومي والخاص. هيئة تنمية المؤسسات الصغيرة والمتوسطة.

٣- أمامك شكل يوضح معايير تصنيف المؤسسات الصغيرة والمتوسطة في سلطنة عمان ادرسه جيدا ثم اكتب أكمل البيانات الناقصة في الشكل :



٤- انظر إلى الشكل الذي أمامك والذي يمثل إحدى المؤسسات في سلطنة عمان ثم أجب عن الأسئلة الآتية:



أ- سمّ نوع المؤسسة التي يوضحها الشكل حسب تصنيف سلطنة عمان للمؤسسات الصغيرة والمتوسطة.

المتوسطة

ب- كم عدد العاملين فيها.

٧٥ عامل

ج- أي من العبارات الآتية يمثل إيراداتها السنوية:

١,٥٠٠,٠٠٠- ريال عماني ☒

١٦٠,٠٠٠- ريال عماني ☐ (ضع إشارة ☒)



## درس : المؤسسات الصغيرة والمتوسطة الأهمية والجهود الوطنية

التاريخ : / / ١٤— الموافق / / ٢٠—

### أولاً: ضع دائرة على الإجابة الصحيحة من بين البدائل المعطاه فيما يلي :

- ١-الوزارة سابقا التي تتبع لها المديرية العامة لتنمية المؤسسات الصغيرة والمتوسطة:  
أ-العمل ✓ ب-التجارة والصناعة ج-الاقتصاد الوطني د-المالية
- ٢-النسبة التي ألزمت الحكومة الشركات المنفذة للمشاريع الكبيرة بتخصيصها من قيمة المناقصة للمؤسسات الصغيرة والمتوسطة:  
✓ أ-ما لا يقل عن ١٠ % ب- ما لا يزيد عن ١٠ %  
ج- ما لا يقل عن ٢٠ % د- ما لا يزيد عن ٢٠ %

### ثانيا : أجب عن جميع الأسئلة الآتية :

- ١- أعط أمثلة على جهود سلطنة عمان لوضع المؤسسات الصغيرة والمتوسطة على خريطة الاقتصاد العماني مواكبة للتوجهات العالمية.
- ١-أنشئت المديرية العامة لتنمية المؤسسات الصغيرة والمتوسطة بوزارة التجارة والصناعة (سابقا).
- ٢-توج هذا الاهتمام بإنشاء هيئة مستقلة تُعنى بتلك المؤسسات بمسمى هيئة تنمية المؤسسات الصغيرة والمتوسطة.
- ٣-تقديم العديد من الخدمات للمؤسسات الصغيرة والمتوسطة.
- ٢-أعط مثالا واحدا على جهود سلطنة عمان لتنمية المؤسسات الصغيرة والمتوسطة في المجالات الآتية :  
أ-التشريعات والقوانين.
- ١-إصدار قوانين وتشريعات منظمة للتنافسية ومنع الاحتكار.
- ٢-إنشاء المحطة الواحدة (استثمر بسهولة ) بوزارة التجارة والصناعة( سابقا).
- ب-الدعم الحكومي.
- ١-تخصيص الأراضي للاستثمار.
- ٢-إلزام الشركات المنفذة للمشاريع الكبيرة بتخصيص ما لا يقل عن ١٠ % من قيمة المناقصة للمؤسسات الصغيرة والمتوسطة.

ج- التمويل.

١-زيادة التسهيلات الائتمانية من خلال البنوك التجارية.

٢-تسريع تسليم الدفعات المالية للمؤسسات المرتبطة بمشاريع حكومية.

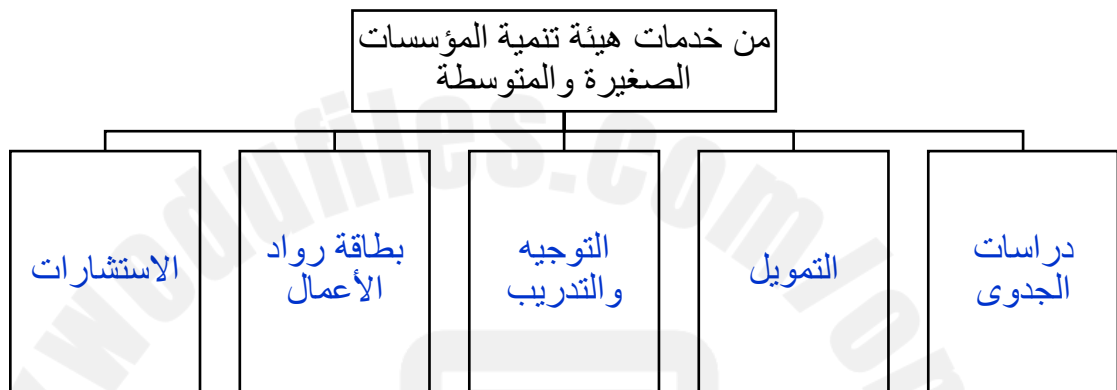
د-تعزيز ثقافة ريادة الأعمال.

١-تنفيذ برامج تدريبية.

٢-تضمين مفاهيم ريادة الأعمال في المناهج التعليمية.

٣-تبني نماذج لمشاريع ريادة الأعمال في البيئة المدرسية.

٣-أكمل المخطط الآتي:



٤ - اقرأ نص الخطاب السامي لحضرة صاحب الجلالة السلطان هيثم بن طارق المعظم -حفظه الله ورعاه ثم أجب عن الأسئلة التي تليه:

«إننا إذ ندرك أهمية قطاع المؤسسات الصغيرة والمتوسطة، وقطاع ريادة الأعمال، لا سيما المشاريع التي تقوم على الابتكار والذكاء الاصطناعي والتقنيات المتقدمة، وتدريب الشباب وتمكينهم؛ للاستفادة من الفرص التي يتيحها هذا القطاع الحيوي؛ ليكون لبنة أساسية في منظومة الاقتصاد الوطني، فإن حكومتنا سوف تعمل على متابعة التقدم في هذه الجوانب أولاً بأول».

من خطاب حضرة صاحب الجلالة السلطان هيثم بن طارق المعظم -حفظه الله ورعاه - ٢٣ فبراير ٢٠٢٠م.

أ-استخلص المجالات التي ركز عليها جلالة السلطان هيثم بن طارق -حفظه الله ورعاه-في قطاع المؤسسات الصغيرة والمتوسطة.

المشاريع التي تقوم على الابتكار والذكاء الاصطناعي والتقنيات المتقدمة، وتدريب الشباب وتمكينهم .

ب-فسر اهتمام جلالة السلطان -حفظه الله ورعاه -بتنمية وتدريب الشباب العماني.

لتمكينهم من الاستفادة من الفرص التي يتيحها قطاع المؤسسات الصغيرة والمتوسطة ليكون لبنة أساسية في منظومة الاقتصاد الوطني / لأن الشباب ثروة الأمم وموردها الذي لا ينضب وسواعدها التي تبني وحاضر الأمة ومستقبلها.



الاقتصاد القائم على المعرفة...  
تطلعات ورؤى

الدرس الثالث



2025

2024

موقع المناهج التعليمية

درس : الاقتصاد القائم على المعرفة تطلعات ورؤى

التاريخ : / / ١٤— الموافق / / ٢٠—

أولاً: ضع دائرة على الإجابة الصحيحة من بين البدائل المعطاه فيما يلي :

١- الثورة الصناعية التي أسهم في ظهورها التطور الهائل والمتسارع العالمي في المجالين المعلوماتي والتكنولوجي :

أ-الأولى ب- الثانية ج- الثالثة د- الرابعة

٢-المرتکز الذي يقوم عليه الاقتصاد في الثورة الصناعية الرابعة:

أ- المال ب- المعرفة ج- اللغة د-المواصلات

٣-يمثل الشكل الذي أمامك إحدى تقنيات الثورة الصناعية الرابعة وهو :



أ-الواقع الافتراضي ب-الروبوتات

ج-التقنيات الحاسوبية د-إنترنت الأشياء

٤-الشكل الذي يشير إلى الذكاء الاصطناعي فيما يلي هو :



د-

ج-

ب-

أ-

٥- التقنية التي يشير إليها الشكل المقابل من تقنيات الثورة الصناعية الرابعة:



أ-الواقع الافتراضي ب-الطابعة ثلاثية الأبعاد

ج-الروبوتات د-التقنيات الحاسوبية

## ثانيا : أجب عن جميع الأسئلة الآتية :

١- ما المقصود بالثورة الصناعية الرابعة؟

عملية الدمج بين العلوم المادية والأنظمة الرقمية في عمليات التصنيع عبر آلات متحكم فيها إلكترونيا بواسطة تقنيات متصلة بالشبكة المعلوماتية.

٢- في ضوء دراستك للثورة الصناعية الرابعة أجب عن ما يلي :

أ-ما المبدأ الذي تقوم عليه الثورة الصناعية الرابعة ؟

الترابط التفاعلي بين تكنولوجيا المعلومات والآلات والإنسان .

ب- فسر قيامها على ذلك المبدأ .

بهدف إيجاد كفاءة عالية في استخدام الموارد المختلفة.

٣- أمامك شكل لتقنيات الثورة الصناعية الرابعة ادرسه جيدا ثم اكتب أسفل كل شكل ما يمثل من تقنيات :

					
الطباعة ثلاثية الأبعاد	التقنيات الحاسوبية	إنترنت الأشياء	الروبوتات	الذكاء الاصطناعي	الواقع الافتراضي

٤- عدد المجالات التي يمكن توظيف تقنيات الثورة الصناعية الرابعة فيها .

- تدعيم البحث العلمي.
- إيجاد بنية أساسية رقمية.
- دعم الابتكار.
- تنمية الاقتصاد.

٥- ما المقصود بكل من :

أ-الذكاء الاصطناعي.

الذكاء الذي تبديه الآلات والبرامج بما يحاكي القدرات الذهنية البشرية وأنماط عملها.

ب-الواقع الافتراضي.

هي بيئة تفاعلية ثلاثية الأبعاد مصممة بواسطة برامج حاسوبية ، تحاكي الواقع الافتراضي للمستخدم حيث يتم إدخاله في عالم وهمي مشابه للعالم الحقيقي ويتم التواصل مع هذا الواقع من خلال التفاعلات التي تحدث بين البيئة الافتراضية وحواس المستخدم واستجاباته"

ج-إنترنت الأشياء.

-عبارة عن شبكة من الأشياء التي تحتوي على تقنية مضمنة تسمح بالاتصال بالإنترنت ، كما تشير إلى الاتصال الذي يحدث بين هذه الأشياء والأجهزة والأنظمة الأخرى التي تدعم الإنترنت.

٦-كيف تسهم تقنيات الثورة الصناعية الرابعة في تنمية المجالات الآتية:

أ-البحث العلمي.

- تيسير الوصول الى مصادر المعلومات والمراجع والدوريات العلمية التي تفتقر إليها مكتبات الجامعة وكلياتها المختلفة. .

-سهولة الاتصال بقواعد البيانات الالكترونية الضخمة من المكتبات الرقمية الشاملة والمواقع الالكترونية.

-سهولة تحقق الباحثين من موثوقية مصادر المعلومات ومصادقيتها وإجراء المقارنة بين تلك المصادر.

-تحرر الباحثين من عوائق قيود الوقت والمكان حيث يسهل عليهم الوصول إلى المعلومات في قواعد البيانات بأي وقت ومن أي مكان يوجد فيه الباحث .

-التدريب الافتراضي للباحثين من مراكز تدريب عالمية متميزة على مهارات الفهرسة والتوثيق والتصنيف لكافة المراجع العلمية المستخدمة في البحث.

-التحديث اللحظي والمستمر لمصادر المعلومات في قواعد البيانات والمكتبات الرقمية.

-اعتماد الباحثين على التقنيات التكنولوجية الحديثة في إرسال وتطبيق أدوات البحث العلمي مثل الاستبيانات وغيرها.



## ب-الاقتصاد.

تطور الصناعات من خلال تقليل التكاليف، وتوفير أدوات دقيقة. إضافة إلى قدرة الشركات الصغيرة والمتوسطة على التعامل مع أسواق عالمية بدلاً من الشركات المحلية.

-زيادة النمو الاقتصادي، وانخفاض تكاليف الإنتاج، وارتفاع جودة المنتجات.

- تمكين الشركات الصغيرة والمتوسطة، إذ إن ظهور الأسواق الرقمية والخدمات عبر الإنترنت يُمكن هذه الشركات من التداول بطرق مبتكرة، وربطها بالأسواق الإقليمية العملاقة بدلاً من الزبائن المحليين فقط.

- تطوير الزراعة سيكون بشكل إيجابي، فعلى المدى القصير، أدى تأثير توصيل المزارعين بالإنترنت إلى تحسينات جيدة في إنتاجية المزارعين وربحياتهم واستدامتهم، كما تتيح الهواتف الذكية للمزارعين وصولاً أفضل إلى أسعار السوق ومعلومات الطقس ومعرفة التربة والبذور والأسمدة.



درس : الاقتصاد القائم على المعرفة تطلعات ورؤى

التاريخ : / / ١٤— الموافق / / ٢٠—

**أولاً: ضع دائرة على الإجابة الصحيحة من بين البدائل المعطاه فيما يلي :**

١- المنظمة التي عرفت الاقتصاد القائم على المعرفة بأنه الاقتصاد المستند على إنتاج واستخدام وتوزيع المعارف والمعلومات والاستثمارات والصناعات ذات التقنية الحديثة من أجل تحقيق المكاسب في الإنتاجية :

أ- الأمم المتحدة للتربية والعلم والثقافة

ب- التعاون الاقتصادي والتنمية. ✓

ج- التعاون الإسلامي

د- اللجنة الاقتصادية والاجتماعية لغربي آسيا.

٢- العامل الرئيسي للإنتاج في الاقتصاد القائم على المعرفة:

أ- المرونة ب- الابتكار ✓ ج- المعرفة د- المال

**ثانياً : أجب عن جميع الأسئلة الآتية :**

- ١- اكتب تعريف الاقتصاد القائم على المعرفة حسب منظمة التعاون الاقتصادي والتنمية.  
الاقتصاد المستند على إنتاج واستخدام وتوزيع المعارف والمعلومات والاستثمارات والصناعات ذات التقنية الحديثة من أجل تحقيق المكاسب في الإنتاجية.
- ٢- عدد خصائص الاقتصاد القائم على المعرفة.

- المعرفة هي العامل الرئيسي للإنتاج.
- المرونة.
- التنافسية المفتوحة.
- موارد متجددة.
- الابتكار.
- التكنولوجيا والرقمية.

٣-قارن بين الاقتصاد القائم على المعرفة والاقتصاد التقليدي حسب الجدول الآتي:

م	وجه المقارنة	الاقتصاد القائم على المعرفة	الاقتصاد التقليدي
١	الأسواق	حركية تنافسية في نطاق شبكة دولية ذات إمكانيات عالية / أسواق افتراضية/ نطاق جغرافي واسع/	مستقرة / / نطاقها الجغرافي محدود
٢	المرونة	مرونة فائقة وقدرة على التطويع والتكيف مع المتغيرات والمستجدات.	مرونة أقل.
٣	المحرك الأساسي للاقتصاد	المعرفة و الرقمية	الميكنة أو المكننة
٤	المكان	غير مقيد بمكان	مقيد بمكان

٤-ناقش دور الاقتصاد القائم على المعرفة في تنمية اقتصاديات الدول.

يمكن معرفة دوره من خلال نسبة مساهمته في الناتج المحلي الإجمالي حيث تقدر الأمم المتحدة أنه يساهم بما لا يقل عن ٧٪ من الناتج المحلي الإجمالي العالمي وتنمو تلك الاقتصادات القائمة على المعرفة بما لا يقل عن ١٠٪ سنويا و ٥٠٪ من نمو الإنتاجية في الاتحاد الأوروبي هو نتيجة مباشرة لاستخدام وإنتاج تقنية المعلومات والاتصالات (القطاع الرئيس المحرك للاقتصاد المعرفي) وساعد ذلك على تطور قطاع الخدمات ، وقطعت عدة دول مراحل متقدمة في مجال الاقتصاد القائم على المعرفة مثل سويسرا وسنغافورة اللتان تصدرتا دول العالم من حيث نسبة مساهمة قطاع الصناعات عالية ومتوسطة التقنية إلى الناتج الصناعي التي بلغت نحو ٦٥٪.

ومن حيث نسبة الصادرات عالية التقنية إلى إجمالي الصادرات فتصدر كل من ماليزيا والصين وسنغافورة دول العالم ، حيث بلغت النسبة في ماليزيا ٣٢,٢٪

درس : الاقتصاد القائم على المعرفة تطلعات ورؤى

التاريخ : / / ١٤ — الموافق / / ٢٠ —

أولاً: ضع دائرة على الإجابة الصحيحة من بين البدائل المعطاه فيما يلي :

١-الوزارة التي تشرف على تنفيذ مشاريع البنية الأساسية لمجتمع عمان الرقمي :

أ-التربية والتعليم ب-النقل والاتصالات وتقنية المعلومات

ج-الاقتصاد الوطني د- التعليم العالي والبحث العلمي والابتكار

٢- العام الميلادي الذي أنشئ فيه مركز ساس لمحاكاة الواقع:

أ-٢٠١٣ ب-٢٠١٤ ✓ ج-٢٠١٥ د-٢٠١٦

ثانياً : أجب عن جميع الأسئلة الآتية :

١-عدد محاور استراتيجية عمان الرقمية.

- تنمية قدرات المجتمع ومهارات الأفراد.
- الحكومة الالكترونية والخدمات الذكية.
- منظومة متكاملة لصناعة تقنية المعلومات والاتصالات.
- الحوكمة وتطوير المعايير القياسية والسياسات.
- البيئة الأساسية من الجيل الجديد.
- تعزيز الوعي المعرفي.

٢- ما المقصود بكل من :

أ-الحوكمة. هي مجموعة من القوانين والنظم والقرارات التي تهدف إلى تحقيق الجودة والتميز في الأداء.

ب-الجيل الجديد. يقصد به السرعة في تنزيل البيانات وتحميلها والتغطية الواسعة والاتصالات المستقرة.

٣- اذكر مثالا على إحدى مبادرات مجلس البحث العلمي (سابقا) في سلطنة عمان من أجل التحول نحو الاقتصاد القائم على المعرفة.

مجمع الابتكار مسقط.

٤-وضح دور وزارة النقل والاتصالات وتقنية المعلومات بسلطنة عمان في الاقتصاد القائم على المعرفة.

١-تنفيذ مشاريع البنية الأساسية لمجتمع عمان الرقمي .

٢-تنفيذ مشاريع الاتصالات وتقنية المعلومات في جميع وحدات الجهاز الإداري للدولة.

٥-اقرأ النص الآتي ثم أجب عن الأسئلة التي تليه:

"تبنت وزارة النقل والاتصالات (سابقا) بالسلطنة عدة مبادرات بالشراكة مع القطاعين الحكومي والخاص لتطوير صناعة تقنية المعلومات والاتصالات في السلطنة ، وإيجاد مؤسسات صغيرة ومتوسطة متخصصة في هذا المجال وتوظيف الاقتصاد القائم على المعرفة ، بهدف إيجاد فرص عمل للشباب العماني والإسهام في تنمية الاقتصاد الوطني."

أفسر تبني وزارة النقل والاتصالات سابقا بالسلطنة عدة مبادرات بالشراكة مع القطاعين الحكومي والخاص .

١-لتطوير صناعة تقنية المعلومات والاتصالات في السلطنة .

٢-إيجاد مؤسسات صغيرة ومتوسطة متخصصة في هذا المجال .

٣-توظيف الاقتصاد القائم على المعرفة .

ب-ما الهدف من هذه المبادرات في مجال تقنية المعلومات والاتصالات وتوظيف الاقتصاد القائم على المعرفة ؟

١- إيجاد فرص عمل للشباب العماني.

٢- الإسهام في تنمية الاقتصاد الوطني .

ج-أعط مثالا على أهم هذه المبادرات.

مركز ساس لمحاكاة الواقع الذي أنشئ عام ٢٠١٤م ليكون مركزا إقليميا يعمل على توفير البنية الأساسية لتطوير مشاريع الواقع الافتراضي ومحتويات الوسائط المتعددة للسوق المحلي والإقليمي.

٦- علل إنشاء مركز ساس لمحاكاة الواقع في عام ٢٠١٤م .

ليكون مركزا إقليميا يعمل على توفير البنية الأساسية لتطوير مشاريع الواقع الافتراضي ومحتويات الوسائط المتعددة للسوق المحلي والإقليمي.

٧-ما مقومات التنويع الاقتصادي التي يتجه نحوه الاقتصاد العماني؟

التقنية والمعرفة والابتكار.

٨-انظر إلى الصورة التي أمامك ثم أجب عن ما يلي:

أ- ما الذي تشير إليه هذه الصورة؟

مجتمع عمان الرقمي/ عمان الرقمية

ب-ما الوزارة التي تشرف عليه؟

النقل والاتصالات وتقنية المعلومات



ج-اكتب الدور الذي تقوم به تلك الوزارة في هذا المجال.  
تنفيذ مشاريع البنية الأساسية لمجتمع عمان الرقمي.



## الوحدة الرابعة: وطني عُمان...هُويّة راسِخة ومواكبة للعصر

يُتَوَقَّعُ من الطالب الدّارس لهذه الوحدة أن:

- ١ يوضّح أهمية تعزيز الهُويّة الوطنية في ظل المتغيرات الدّولية.
- ٢ يُلخّص مرتكزات الهُويّة العُمانية.
- ٣ يتعرّف تأثير الثورة المعرفية على الهُويّة الوطنية.
- ٤ يتتبّع جهود سلطنة عُمان في تعزيز قيم المواطنة العالمية.
- ٥ يُقدّر عناية السلطان قابوس بن سعيد - طيّب الله ثراه - في تعزيز قيم المواطنة.
- ٦ يعتز بالجهود التي تبذلها السلطنة لتعزيز الهُويّة الوطنية في نفوس الأجيال.
- ٧ يحلّل النصوص والجداول والأشكال.
- ٨ يكتسب القيم والاتجاهات والمهارات.

مخرجات التعلم للوحدة

الدرس الأول : الهُويّة العُمانية... استحضار الموقع واستنطاق التاريخ

الدرس الثاني : الهُويّة العُمانية في ظل الثورة المعرفية

الدرس الثالث : عُمان ... والمواطنة العالمية

دروس الوحدة





# الهوية العُمانية...

استحضار الموقع واستنطاق التاريخ

الدرس الأول



2025

2024

موقع المناهج العمانية



## درس : الهوية العمانية استحضار الموقع واستنطاق التاريخ

التاريخ : / / ١٤ — الموافق / / ٢٠ —

### أولاً: ضع دائرة على الإجابة الصحيحة من بين البدائل المعطاه فيما يلي :

١- مصدر إلهام ومنبع تشريع يهذب النفوس والوجدان ويبني إنساناً صالحاً لكل زمان ومكان :

أ- التاريخ      ب- اللغة العربية      ج- الدين الإسلامي      د- الجغرافيا

٢- وعاء الحضارة وعنوانها ووسيلة للتفاهم والتواصل والإنتاج الفكري:


أ- التاريخ      ب- اللغة العربية      ج- الدين الإسلامي      د- الجغرافيا



٣- مرتكز الهوية العمانية الذي تشير إليه الصورة التي أمامك:

أ- الدين الإسلامي      ب- اللغة العربية

ج- التاريخ      د- الجغرافيا



٤- تعبر الصورة التي أمامك عن أحد مرتكزات الهوية العمانية وهو :

أ- الدين الإسلامي      ب- اللغة العربية

ج- التاريخ      د- الجغرافيا



٥- المرتكز الذي تشير إليه الصورة التي أمامك من مرتكزات الهوية العمانية:

أ- الدين الإسلامي      ب- اللغة العربية

ج- التاريخ      د- الجغرافيا

٦- المرتكز الذي يشير إلى الصورة التي تعبر عن التاريخ كأحد مرتكزات الهوية العمانية:



ب-



أ-



د-



ج-

## ثانيا : أجب عن جميع الأسئلة الآتية :

١-عرف الهوية.

مجموع السمات والخصائص المشتركة منها الثقافية والاجتماعية والجغرافية والتاريخية التي تشعر الفرد بانتمائه وولائه لوطنه.

٢- اكتب المفهوم أو المصطلح الدال على العبارة الآتية :

-مجموع السمات والخصائص المشتركة منها الثقافية والاجتماعية والجغرافية والتاريخية التي تشعر الفرد بانتمائه وولائه لوطنه. **الهوية**

٣-"يعد الدين الإسلامي من المرتكزات الراسخة للهوية العمانية" وضح ذلك.

لأن الدين الإسلامي مصدر إلهام ومنبع تشريع يهذب النفوس والوجدان ويبني إنسانا صالحا لكل زمان ومكان.

٤-وضح أهمية اللغة العربية كمرتكز من مرتكزات الهوية العمانية.

-اللغة العربية وعاء الحضارة وعنوانها.

-تحدث بها العماني منذ قديم الزمان.

-هي وسيلة للتفاهم والتواصل والإنتاج الفكري.

2025

2024

موقع المناهج العمانية

درس : الهوية العمانية استحضار الموقع واستنتاج التاريخ

التاريخ : / / ١٤— الموافق / / ٢٠—

أولاً: ضع دائرة على الإجابة الصحيحة من بين البدائل المعطاه فيما يلي :

١- الاسم الذي عرفت به الحضارة القديمة التي قامت في عمان :

أ-دلمون ب- ميلوخا ☒ ج-مجان د-سومر

٢- الجهات الصحيحة التي تقع فيها الحضارات القديمة المشار إليها بالأرقام على الخريطة بالنسبة لموقع عمان:



- ١ الغرب.  
٢ الشمال الشرقي.  
٣ الشرق.  
٤ الشمال الغربي.

ب-

- ١ الشرق.  
٢ الشمال الغربي.  
٣ الغرب.  
٤ الشمال الشرقي.

أ-

- ١ الشمال الغربي.  
٢ الغرب.  
٣ الشمال الشرقي.  
٤ الشرق.

د-

- ١ الشرق.  
٢ الشمال الشرقي.  
٣ الغرب.  
٤ الشمال الغربي.

☒ ج-

٣-اليوم الذي تحتفل فيه القوات المسلحة العمانية بيومها السنوي:

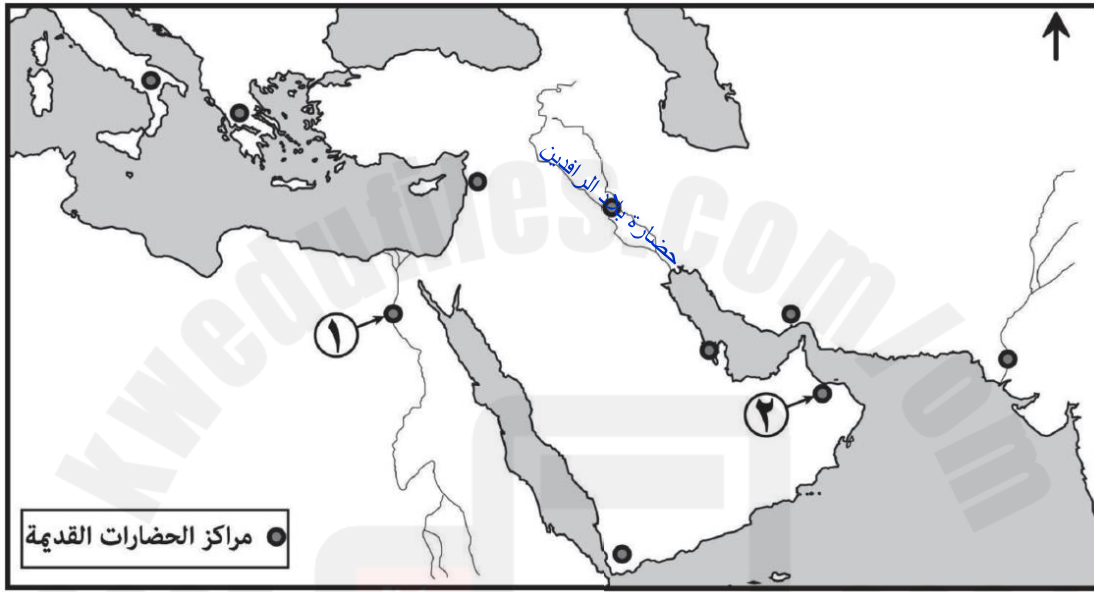
أ- ١١ سبتمبر ب- ٢١ سبتمبر ج- ١١ ديسمبر د- ٢١ ديسمبر

### ثانيا : أجب عن جميع الأسئلة الآتية :

١- عدد أبرز الحضارات التي تواصلت معها حضارة مجان في عمان.

حضارات بلاد الهند والسند والرافدين والنيل.

٢- ادرس خريطة الحضارات القديمة الآتية ، ثم أجب عن الأسئلة التي تليها:



أ- اسم الحضارات القديمة المشار إليها :

-بالرقم (١). الحضارة المصرية / الفرعونية / وادي النيل

-بالرقم (٢). حضارة مجان / مزون

ب- اكتب حضارة بلاد الرافدين في موقعها الصحيح على الخريطة.

٣- اذكر النتائج الإيجابية لدخول العمانيين في دين الإسلام على الشخصية العمانية.

تعزيز ثقافة الحوار لديهم وقدرتهم على التعامل مع مختلف القضايا بروح السماحة والأخوة والصدقة.

٤- دلل على تمسك العماني بأرضه رغم قساوة بعض تضاريسها.

١- بنى المدرجات الجبلية.

٢- عمر الواحات الصحراوية.

٣- مخر عباب البحر

ليظل اسم عمان محفورا في قلوب سكانها عبر الزمن.

٥- علل يوم ١١ ديسمبر ١٩٧٥م من الأيام الخالدة في التاريخ العماني الحديث.

لأن فيه استطاعت قوات السلطان المسلحة تحت قيادة السلطان قابوس بن سعيد رحمه الله تحرير جبال ظفار من الحركة المتمردة والمدعومة من الخارج والتي استهدفت القضاء على وحدة الصف العماني .

٦- اقرأ الأبيات الآتية ثم أجب عن الأسئلة التي تليها :

أَمَنْتُ بِالْوَطَنِ الصَّغِيرِ جَمِيعِهِ ... وَأَبَيْتُ تَجْزِئَةَ الْمَزُونِ إِبَاءً  
وَشَهِدْتُ ضِمْنَ شَهَادَتِي شَهَادَةً ... لِعُمَانٍ لَا شَيْعًا وَلَا أَجْزَاءً  
يَا أُمْنَا الْكُبْرَى عُمَانُ نَفَاءً لِي ... فَالْعِلْمُ سَوْفَ يُبَدِّدُ الظُّلْمَاءَ

أ-من قائل هذه الأبيات؟ عبدالله بن محمد الطائي

ب-ما الفكرة الرئيسة الواردة في الأبيات؟ يتحدث الشاعر عن وحدة وطنه عمان.

ج-استخرج من الأبيات قيم الانتماء والولاء.

كل الأبيات المذكورة تنضح بقيم المواطنة والوفاء للوطن (الوطن ، الوحدة ، التفاؤل ، العلم )

٧-تعد مؤسسات التنشئة الاجتماعية كالرحم الذي تتخلق فيه هوية الشباب واتجاهاتهم .في ضوء ذلك :

أ-أعط أمثلة على مؤسسات التنشئة الاجتماعية في السلطنة.

الأسرة / المؤسسات التعليمية : رياض الأطفال ، المدرسة / وسائل الإعلام / المؤسسات الرياضية / المؤسسات الدينية

ب-كيف تسهم مؤسسات التنشئة الاجتماعية في تعزيز الهوية الوطنية من وجهة نظرك؟

التنشئة الاجتماعية تحافظ على كيان المجتمع وتماسكه من خلال تحقيق أهدافها في تكوين الشخصية الاجتماعية للفرد ليكون منسجما ومنتشيا إلى مجتمعه فتشكل الهوية والمحافظة عليها يتم من خلال تكامل أدوار مؤسسات التنشئة الاجتماعية وإشراف ومراقبة الأسرة.

٨-اكتب أهمية واحدة لكل مما يلي :

أ-مؤسسات التنشئة الاجتماعية.

تشكل هوية الشباب واتجاهاتهم.

ب-الحوار.

من أبرز وسائل التفاعل الحضاري والتواصل الثقافي بين مختلف الشعوب.



## درس : عمان والمواطنة العالمية

التاريخ : / / ١٤ — الموافق / / ٢٠ —

### أولاً: ضع دائرة على الإجابة الصحيحة من بين البدائل المعطاه فيما يلي :

١- مجموعة من القيم التي يتحلى بها الفرد فتجعله أكثر إيجابيا في إدراك ماله من حقوق وما عليه من واجبات نحو كل من الوطن الذي تعيش فيه وأمتة والعالم بأسره:

أ-المواطنة الداخلية ☒ ب- المواطنة العالمية

ج- المواطنة الإقليمية د- المواطنة المشتركة

٢-الحرب التي أسهمت نهايتها في ظهور سمات جديدة للمواطنة جعلتها تنحو إلى العالمية:

أ-العالمية الأولى ☒ ب- العالمية الثانية ج-البلقان د- الشيشان

### ثانيا : أجب عن جميع الأسئلة الآتية :

١- ما المقصود بالمواطنة العالمية ؟

هي مجموعة من القيم التي يتحلى بها الفرد فتجعله أكثر جاذبية في إدراك ما له من حقوق وما عليه من واجبات نحو كل من الوطن الذي يعيش فيه وأمتة والعالم بأسره.

٢- علل تتجه المجتمعات الإنسانية إلى الانفتاح نحو الثقافات الأخرى والانتماء إلى المجتمع الدولي.

لتحقيق مزيد من التعاون والأخوة الإنسانية في ظل التحديات العالمية التي تدعو البشرية إلى العمل على تعزيز قيم التفاهم الدولي والتعايش السلمي.

٣-تتبع ظهور مفهوم المواطنة العالمية.

-جاء الإسلام منذ فترة مبكرة من تاريخ الإنسانية بقيم الأمة الواحدة حيث يقول الله تعالى : " وما أرسلناك إلا رحمة للعالمين".

-وقد أدرك الإنسان عبر تاريخه المخاطر والتحديات والنتائج السلبية التي جلبتها الصراعات والحروب على المستويين المحلي والدولي.

-مع انتهاء الحرب العالمية الثانية ظهرت الحاجة إلى تنظيم العلاقات الدولية وتعزيز قيم التسامح والحوار وحل النزاعات بالطرق السلمية ؛ مما أسهم في ظهور سمات جديدة للمواطنة جعلتها تنحو إلى العالمية.



٤-فسر أسهم انتهاء الهرب العالمية الثانية في ظهور سمات جديدة للمواطنة جعلتها تنحو إلى العالمية.

لأنه بعد انتهاء الحرب العالمية الثانية ظهرت الحاجة إلى تنظيم العلاقات الدولية وتعزيز قيم التسامح والحوار وحل النزاعات بالطرق السلمية

٥-عدد أسباب الاهتمام بتعزيز قيم المواطنة العالمية.

١-اضطراب العلاقات بين بعض الدول والمجتمعات.

٢-التغيرات السياسية والاقتصادية والاجتماعية والثقافية التي صاحبت العولمة.

٣-التطور العلمي والتقني مما سهل التواصل بين مختلف الشعوب والثقافات.

٤-تزايد الوعي بالقضايا والمشكلات البيئية العالمية.



## درس : عمان والمواطنة العالمية

التاريخ : / / ١٤— الموافق / / ٢٠—

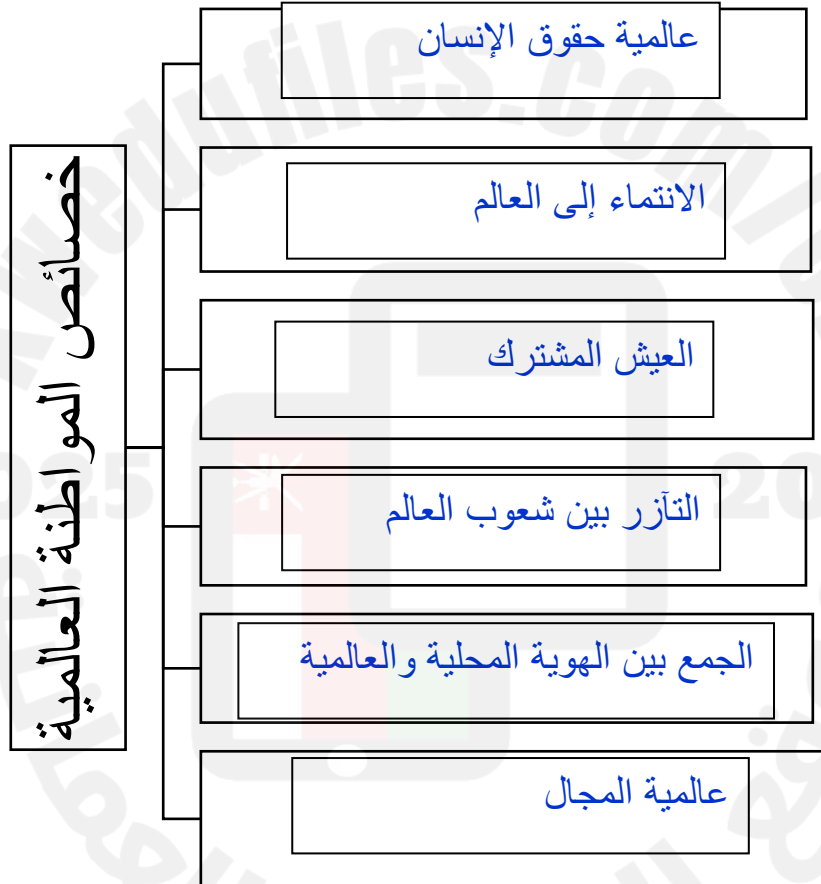
**أولاً: ضع دائرة على الإجابة الصحيحة من بين البدائل المعطاه فيما يلي :**

١- المنظمة العالمية صاحبة العبارة الآتية : (لما كانت الحروب تتولد في عقول البشر ، ففي عقولهم يجب أن تبنى حصون السلام):

أ-الأليسكو ☒ ب-اليونسكو ج- الإيسيسكو د-الإسكوا

**ثانياً : أجب عن جميع الأسئلة الآتية :**

١-أكمل المخطط الآتي:



٢-علل إنشاء منظمة الأمم المتحدة.

لتنظيم العلاقات الدولية وإيجاد المزيد من التفاهم بين مختلف شعوب وثقافات العالم.

٣- عدد صفات المواطن العالمي.

١- يدرك العالم الأوسع.

٢- يفهم الكيفية التي يعمل بها العالم.

٣- يشعر بدوره كمواطن في العالم.

٤- يحترم التنوع الثقافي في العالم.

٥- يشارك على المستويين المحلي والعالمي.

٤- اقرأ النص الآتي ثم أجب عن الأسئلة التي تليه :

(المواطنة العالمية ترى بأن لكل إنسان الحق في المحافظة على هويته الوطنية ، وفي الوقت نفسه تؤكد على انتمائه لمكان أوسع (الكرة الأرضية) وإلى مجموعة بشرية أكبر (المجتمع الإنساني) .

أ- استخرج قيم المواطنة العالمية.

الانتماء للمنظومة العالمية – المحافظة على الهوية الوطنية – الحفاظ على البيئة العالمية.

ب- وضح العلاقة بين المواطنة العالمية والهوية الوطنية.

توجد علاقة وثيقة بين المواطنة العالمية والهوية الوطنية فلا تذيب الأولى الثانية وإنما تؤصلها وتحافظ على كيانها مثل (أعمل محليا وأفكر عالميا).

ج- ما أهمية تعزيز قيم المواطنة العالمية لدى أطفال العالم اليوم؟

من المهم جدا اليوم أو أكثر من أي وقت سابق تعزيز قيم المواطنة لدى الأطفال حتى ينشأ جيل عالمي يقوم على تحقيق التعاون والعمل المشترك والمساهمة العالمية في خدمة الإنسان وبيئته.

## درس : عمان والمواطنة العالمية

التاريخ : / / ١٤— الموافق / / ٢٠—

**أولاً: ضع دائرة على الإجابة الصحيحة من بين البدائل المعطاه فيما يلي :**

١- العام الميلادي الذي انضمت فيه سلطنة عمان إلى منظمة الأمم المتحدة:

أ- ١٩٧٠ ب- ١٩٧١ ✓ ج- ١٩٧٢ د- ١٩٧٣

٢- العام الميلادي الذي وقعت فيه سلطنة عمان على اتفاقية القضاء على جميع أشكال التمييز العنصري:

أ- ٢٠٠٠ ب- ٢٠٠١ ج- ٢٠٠٢ د- ٢٠٠٣ ✓

٣- العام الميلادي الذي بدأ فيه تنفيذ مشروع رسالة الإسلام :

أ- ٢٠١٠ ✓ ب- ٢٠١١ ج- ٢٠١٢ د- ٢٠١٣

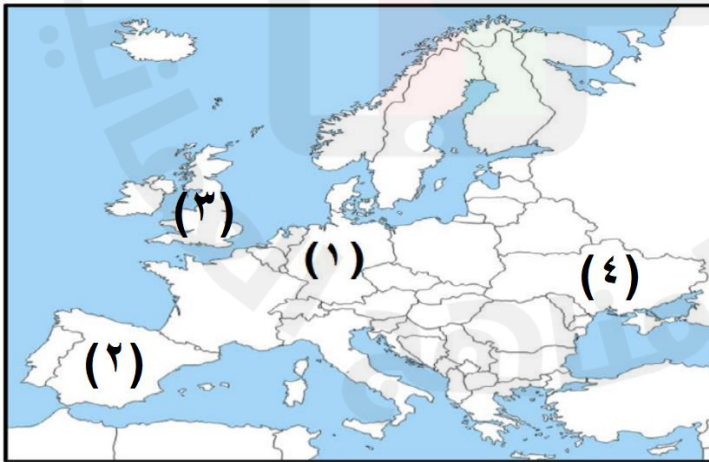
٤- عدد اللغات التي بدأ فيها إقامة معرض رسالة الإسلام لأول مرة :

أ- ٢ ب- ٣ ✓ ج- ٤ د- ٥

٥- عدد اللغات التي توسع فيها إقامة معرض رسالة الإسلام في أوروبا عام ٢٠١٣ م :

أ- ٧ ب- ٨ ✓ ج- ٩ د- ١٠

٦- الرقم الذي يشير إلى الدولة التي أقيم فيها معرض رسالة الإسلام في عام ٢٠١٠ م :



أ- ١ ✓

ب- ٢

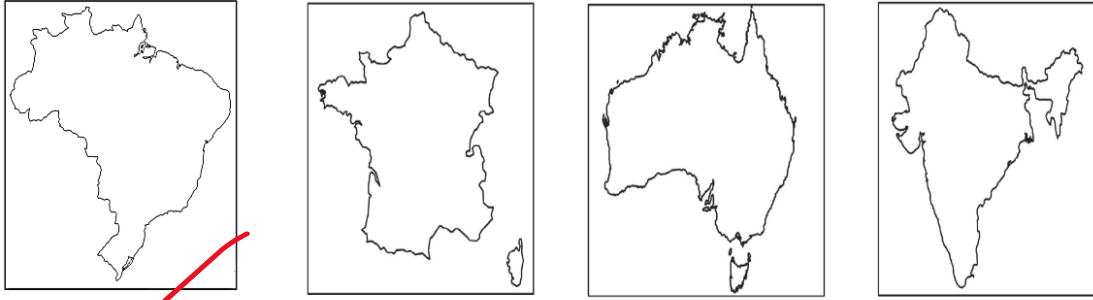
ج- ٣

د- ٤

٧- العام الميلادي الذي تم فيه تغيير مسمى معرض رسالة الإسلام إلى رسالة الإسلام من عمان:

أ- ٢٠١٣      ب- ٢٠١٤      ج- ٢٠١٥ ✓      د- ٢٠١٦

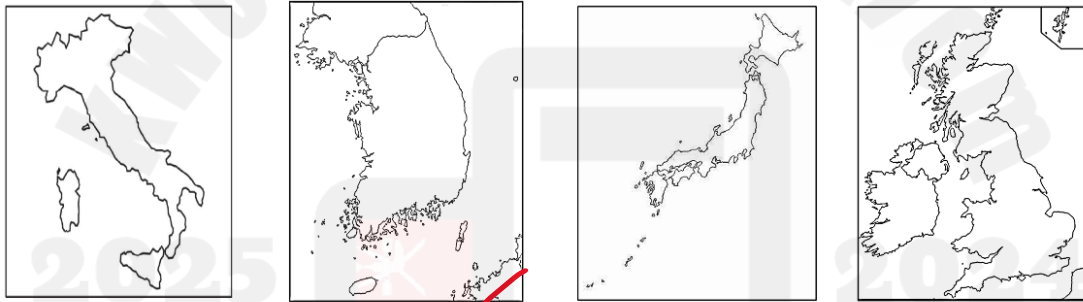
٨- خريطة الدولة التي أطلقت اسم ساحة عمان في إحدى مدنها:



أ      ب      ج      د ✓

٩- خريطة الدولة التي ترشح فيها معرض رسالة الإسلام من عمان لجائزة السلام في عام

٢٠١٧ م :



أ      ب      ج ✓      د

٤- العام الميلادي الذي بدأ فيه مشروع السلطان قابوس للمؤتلف الإنساني :

أ- ٢٠١٧      ب- ٢٠١٨      ج- ٢٠١٩ ✓      د- ٢٠٢٠

٥- شاعر عماني أدرجته اليونسكو ضمن قائمة الشخصيات المؤثرة عالميا في عام ٢٠١٩ م :

أ- الستالي      ب- موسى الحسيني      ج- راشد الحبسي ✓      د- أبو مسلم البهلاني

٦- العيد الوطني الذي كان في عام ١٩٩٧ م هو :

أ- الخامس والعشرين      ب- السادس والعشرين      ج- السابع والعشرين ✓      د- الثامن والعشرين

## ثانيا : أجب عن جميع الأسئلة الآتية :

- ١- دال على اهتمام سلطنة عمان بتعزيز الترابط بين المجتمعات الإنسانية.  
من خلال نشر ثقافة التسامح والتفاهم بين أفرادها.
- ٢- عدد جهود سلطنة عمان في تعزيز قيم المواطنة العالمية على المستويين المحلي والعالمي .
  - ١- الانضمام إلى المنظمات والهيئات الدولية مثل منظمة الأمم المتحدة التي انضمت السلطنة إليها عام ١٩٧١ م .
  - ٢- المصادقة على المواثيق والاتفاقيات الدولية كالاتفاقيات المتعلقة بحقوق الإنسان ونبذ التمييز العنصري.
  - ٣- تنفيذ العديد من المبادرات والمشاريع والفعاليات المحلية والعالمية.
  - ٣- أعط أمثلة على المبادرات و المشاريع والفعاليات المحلية والعالمية لجهود سلطنة عمان لتعزيز قيم المواطنة العالمية.
  - ١- جائزة اليونسكو-السلطان قابوس لصون البيئة.
  - ٢- الأيام الثقافية العمانية.
  - ٣- معرض رسالة الإسلام.
  - ٤- سفينة شباب عمان.
  - ٥- المدارس العمانية المنتسبة لليونسكو.
- ٤- رتب الأحداث الآتية من الأقدم إلى الأحدث :
  - ( ١ ) إقامة معرض رسالة الإسلام في ألمانيا بعنوان التسامح الديني في سلطنة عمان.
  - ( ٤ ) ترشيح معرض رسالة الإسلام لجائزة السلام في كوريا.
  - ( ٢ ) إطلاق البرازيل ساحة عمان في مدينة فوزدي اجوازو
  - ( ٣ ) إقامة معرض رسالة الإسلام في منظمة اليونسكو.
- ٥- تنفذ المدارس العمانية المنتسبة لليونسكو العديد من المبادرات الهامة . في ضوء هذه العبارة أجب عن ما يلي :
  - أ- أعط أمثلة على هذه المبادرات.
  - مبادرة " تراثنا مستقبنا"
  - ب- اكتب الهدف من تلك المبادرة.
  - تعزيز قيم المحافظة على التراث محليا وعالميا.

٦- انظر إلى الصورة التي أمامك ثم أجب عن الأسئلة الآتية :

أ-ما اسم المشروع الذي تشير إليه الصورة؟

مشروع السلطان قابوس للمؤتلف الإنساني

ب- متى تم الإعلان عنه ؟

١٦ نوفمبر ٢٠١٩م



ج- اذكر اثنين من أهداف المشروع.

١- تعزيز قيم التسامح والحوار بين الشعوب.

٢- نشر الأمن والسلام حول العالم.

٧- اقرأ النص الآتي ثم أجب عن الأسئلة التي تليه:

( وإذا كان العالم لا يمكن أن يخلو من النزاعات والمشاكل بحكم تضارب المصالح فإننا نعتقد جازمين أن بناء الثقة بين الشعوب وتأكيد أوامر الصداقة مع الدول والعمل على تحقيق المصالح المشتركة ومراعاة الشرعية الدولية والالتزام بالمعاهدات والقوانين ..كل ذلك من شأنه أن يؤدي إلى مزيد من التفاهم الواعي ، والتعاون البناء من أجل انتصار الأمن والسلام ، وشيوع الطمأنينة والرخاء ).

أ- من قائل النص السابق؟ السلطان قابوس بن سعيد رحمه الله.

ب- ما العام الميلادي الذي قاله فيه؟ ١٩٩٧م

ج- اكتب المناسبة التي قيل فيها النص السابق. العيد الوطني السابع والعشرين.

د- استخرج من النص اثنين من الإجراءات التي يمكن من خلالها تحقيق الأمن والسلام العالمي.

١- بناء الثقة بين الشعوب / ٢- تأكيد أوامر الصداقة مع الدول / ٣- العمل على تحقيق المصالح المشتركة / ٤- مراعاة الشرعية الدولية / ٥- الالتزام بالمعاهدات والقوانين



٨- ما الإجراءات التي يجب على الدول اتباعها لتحقيق الأمن والسلام العالمي.

١- بناء الثقة بين الشعوب .

٢- تأكيد أوامر الصداقة مع الدول.

٣- العمل على تحقيق المصالح المشتركة .

٤- مراعاة الشرعية الدولية .

٥- الالتزام بالمعاهدات والقوانين.

٩- انظر إلى الصورة التي أمامك ثم أجب عن ما يلي :

أسم الشخصية التي تشير إليها الصورة.

أبو مسلم البهلاني.

ب- دلل على التقدير العالمي الذي حظي به.

تم



تم إدراجه ضمن قائمة الشخصيات المؤثرة عالميا عام ٢٠١٩. أو  
تم إدراجه ضمن برنامج اليونسكو للذكرى الخمسينية أو المئوية  
للأحداث التاريخية المهمة والشخصيات المؤثرة عالميا ٢٠١٩.

١٠- تم إدراج شخصية أبو مسلم البهلاني ضمن قائمة الشخصيات المؤثرة عالميا. في ضوء هذه العبارة أجب عن ما يلي :

أ- ما العام الذي تم فيه هذا الحدث؟ ٢٠١٩ م

ب- سم المنظمة العالمية المسؤولة عن ذلك.

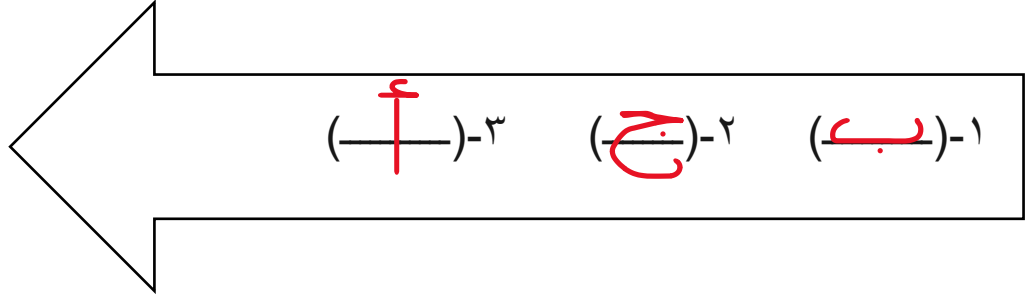
اليونسكو / منظمة التربية والعلم والثقافة

ج- علل إدراج شخصية أبي مسلم البهلاني ضمن الشخصيات العالمية.

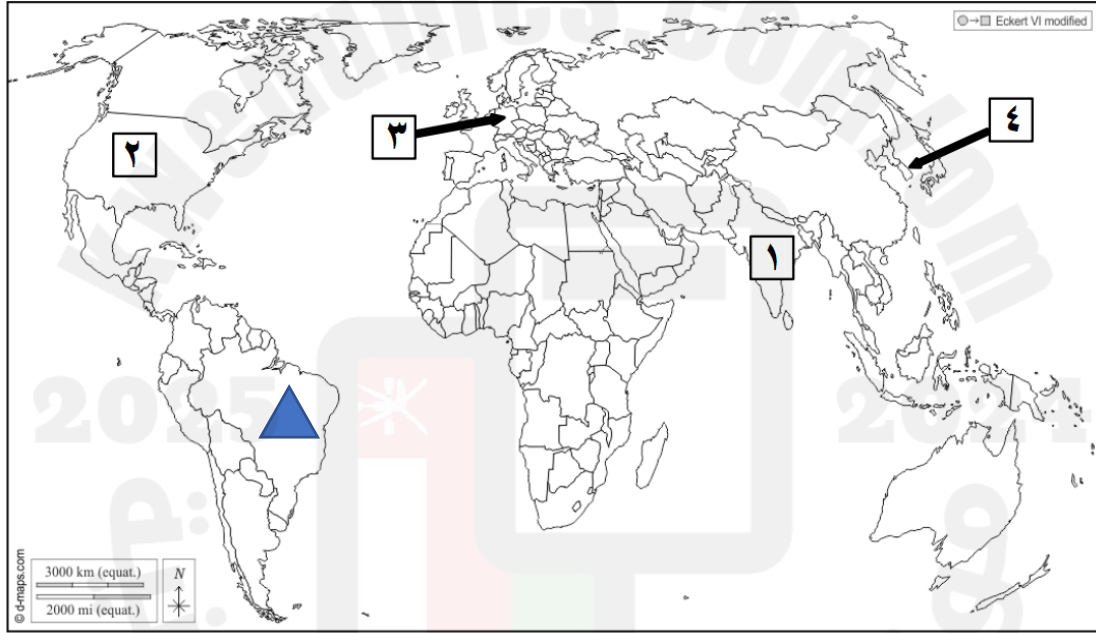
لمكانته العلمية والشعرية وتأثيره على الحياة العامة في عمان وزنجبار من خلال منصبه قاضيا وموقعه عالما ومنزلته شاعرا ولقربه من أئمة وسلاطين عمان وزنجبار ولنتاجه العلمي والفكري وشاعريته التي وصلت إلى مناطق عالمية كان تخليده بوصفه شخصية عالمية مؤثرة.

١١- أكمل الشكل التالي بكتابة الرمز الدال على الحدث التاريخي وفق التسلسل الزمني الصحيح من الأقدم إلى الأحدث :

- أ- الإعلان عن مشروع السلطان قابوس للمؤتلف الإنساني.
- ب- انضمام سلطنة عمان إلى منظمة الأمم المتحدة.
- ج- توقيع سلطنة عمان على اتفاقية القضاء على جميع أشكال التمييز العنصري.



١٢- أمامك خريطة للعالم ادرسها جيدا ثم أجب عن الأسئلة التي تليها :



- أ-ما الرقم الذي يشير إلى الدولة التي أقيم فيها معرض رسالة الإسلام لأول مرة بثلاث لغات بعنوان التسامح الديني في سلطنة عمان ؟ ٣
- ب-ما الرقم الذي يشير إلى الدولة التي تم فيها ترشيح مشروع رسالة الإسلام من عمان لجائزة السلام في عام ٢٠١٧م ؟ ٤
- ج- ضع على الخريطة في الموقع الصحيح الدولة التي أطلقت اسم ساحة عمان في إحدى مدنها مستخدما الرمز ▲

١٣- اكتب نبذة مختصرة عن شخصية أبي مسلم البهلاني.

أحد أبرز شعراء عمان في العصر الحديث ، وهو المولود بعمان عام ١٨٥٧م والمتوفي بزنجبار عام ١٩٢٠م حيث عاش متنقلا بين المنطقتين وقد نبغت شاعريته فسمي بشاعر العلماء وعالم الشعراء.

١٤- ابحث عن شخصيات عمانية أخرى كان لها إسهامات على المستوى العالمي.

نور الدين السالمي والطبيب راشد بن عميرة وابن الذهبي وتعد شخصية السلطان قابوس بن سعيد طيب الله ثراه شخصية عالمية مؤثرة سعت إلى نشر السلام والوئام والاستقرار بين مختلف الدول.

