


شكراً لتحميلك هذا الملف من موقع المناهج العمانية



اختبارات تجريبية مع نموذج الحل

موقع المناهج ← المناهج العمانية ← الصف الثاني عشر ← هذا وطني ← الفصل الثاني ← الملف

التواصل الاجتماعي بحسب الصف الثاني عشر



روابط مواد الصف الثاني عشر على تلغرام

[الرياضيات](#)

[اللغة الانجليزية](#)

[اللغة العربية](#)

[التربية الاسلامية](#)

المزيد من الملفات بحسب الصف الثاني عشر والمادة هذا وطني في الفصل الثاني

اختبارات تدريبية لامتحانات النهائية والقصيرة	1
دفتر الطالب مع اختبارات قصيرة ونهائية للمنهج	2
أسئلة اختبارات قصيرة ونهائية للوحدة الرابعة مع الإجابة	3
أسئلة اختبارات قصيرة ونهائية للوحدة الثالثة مع الإجابة	4
اختبار قصير ثاني	5

اختبارات تجريبية

نهاية العام

مع تحيات

قناة حمزة التعليمية

أ / عبد النبي الفقي

alManahj.com/om



مادة هذا وطني
الصف الثاني عشر
امتحان تجريبي
النموذج الأول

مع تحيات قناة حمزة التعليمية

اهداء من قناة حمزة التعليمية
امتحان تجريبي محاكى لامتحان نهاية العام

حسب مواصفات وثيقة التقويم للعام الدراسي ٢٠٢١/٢٠٢٢م

النموذج الأول

إرشادات الامتحان :-

- قبل البدء في حل الامتحان يفضل أن يكون الطالب مستعد من خلال مراجعة دروس المقرر الدراسي.
- يفضل طباعة الامتحان ورقيا وهيء نفسك كأنك في اختبار حقيقي .
- قبل البدء في حل الامتحان اضبط زمن الإجابة على (٣ ساعات)
- بعد الانتهاء من الإجابة استعن بأحد افراد اسرتك في تصحيح الامتحان من خلال الاستعانة بنموذج الإجابة المرفق مع الامتحان

مع ارق الامنيات بالنجاح والتوفيق

انتظرونا والنموذج الثاني حصريا على قناة حمزة التعليمية

أ/ عبد النبي الفقي / واتس ٧٩٥١٧٤٤٥

يمكنكم الاستفادة من منصة هذا وطني

كل ما تحتاجه من :-

- شرح يوتيوب للمحتوى الدراسي كامل
- مذكرات وتلخيصات
- اختبارات الكترونية



(١)

المادة: دراسات اجتماعية (هذا وطني) - الصف الثاني عشر - امتحان تجريبي محاكى
للامتحان نهاية العام الدراسي ٢٠٢١/٢٠٢٢ م
أجب عن جميع الأسئلة الآتية

أولاً :- الأسئلة الموضوعية

السؤال الأول: ضع دائرة حول رمز الإجابة الصحيحة لكل مفردة من المفردات الآتية: (١٤ درجة)

١- المبدأ التفاعلي الذي قامت عليه الثورة الصناعية الرابعة :-


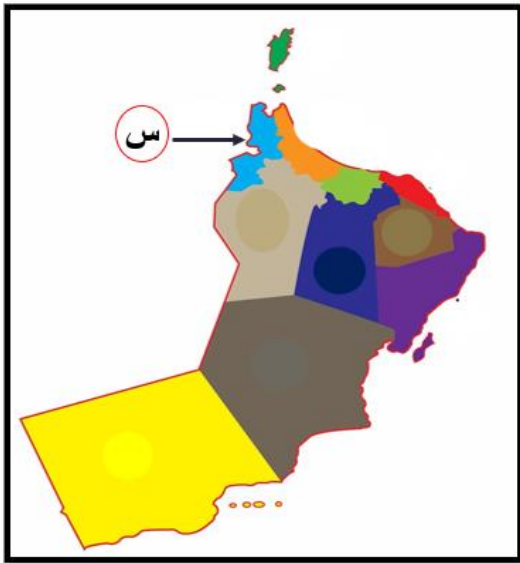
(أ) تكنولوجيا المعلومات والشبكة المعلوماتية والتقنيات

(ب) الانسان وتكنولوجيا المعلومات والتقنيات

(ج) تكنولوجيا المعلومات والآلات والتقنيات

(د) تكنولوجيا المعلومات والآلات والإنسان

٢- الشكل الصحيح الذي يعبر عنه المشروع الاقتصادي الذي يشير اليه الرمز (س) حسب الخريطة التي امامك :



ب-



أ-



د-



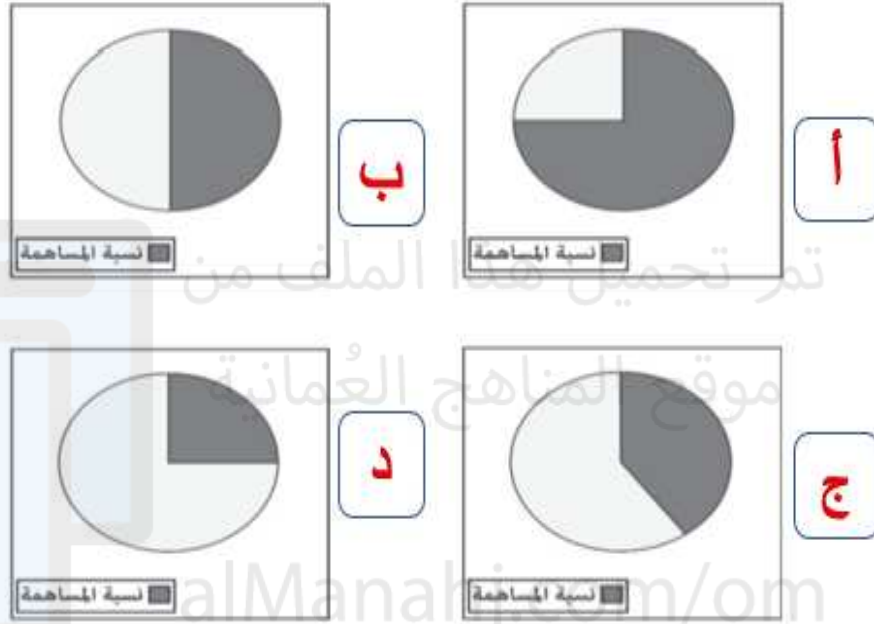
ج-

يتبع ٢

(٢)

المادة: دراسات اجتماعية (هذا وطني) - الصف الثاني عشر - امتحان تجريبي محاكى
لامتحان نهاية العام الدراسي العام الدراسي ٢٠٢١/٢٠٢٢ م

٣- الدائرة البيانية التي تمثل النسبة التقريبية لمساهمة المؤسسات الصغيرة والمتوسطة في الناتج المحلي الإجمالي للولايات المتحدة الامريكية عام ٢٠١٧ م:



٤- المجال الذي يعزز جهود السلطنة لتنمية المؤسسات الصغيرة والمتوسطة لتنفيذ برامج تدريبية:

- أ- الدعم الحكومي:
ج - التشريعات والقوانين
- ب - التمويل
د - تعزيز ريادة الاعمال


٥- المبادرة التي نفذتها المدارس العمانية المنتسبة لليونسكو بالسلطنة :-

- أ- نحن معك
ج - تراثنا مستقبلا
- ب- عماني وافتخر
د - من أجل التسامح

(٣)

المادة: دراسات اجتماعية (هذا وطني) - الصف الثاني عشر - امتحان تجريبي محاكى
لامتحان نهاية العام الدراسي العام الدراسي ٢٠٢١/٢٠٢٢ م

٦- الجدول الصحيح الذي يصف الوضع السكاني لسلطنة عُمان كما يوضحه الهرم السكاني الآتي لعامي ١٩٩٨ م و ٢٠١٩ م



الهرم السكاني	(أ)	(ب)
الفئة العمرية الأكثر في عدد السكان	سنة (١٩-١٥)	سنة (١٤-١٠)
الفئة العمرية الأقل في عدد السكان	سنة (٥٩-٥٥)	سنة (٥٤-٥٠)

الهرم السكاني	(أ)	(ب)
الفئة العمرية الأكثر في عدد السكان	سنة (١٤-١٠)	سنة (٤-٠)
الفئة العمرية الأقل في عدد السكان	سنة (٦٤-٦٠)	سنة (٦٤-٦٠)

الهرم السكاني	(أ)	(ب)
الفئة العمرية الأكثر في عدد السكان	سنة (١٤-١٠)	سنة (٩-٥)
الفئة العمرية الأقل في عدد السكان	سنة (٥٤-٥٠)	سنة (٥٩-٥٥)

الهرم السكاني	(أ)	(ب)
الفئة العمرية الأكثر في عدد السكان	سنة (٩-٥)	سنة (١٩-١٥)
الفئة العمرية الأقل في عدد السكان	سنة (٥٤-٥٠)	سنة (٥٤-٥٠)

أ

ب

ج

د

يتبع / ٤

(٤)

المادة: دراسات اجتماعية (هذا وطني) - الصف الثاني عشر - امتحان تجريبي محاكى
لامتحان نهاية العام الدراسي العام الدراسي ٢٠٢١/٢٠٢٢ م

٧- العام الميلادي الذي وقعت فيه السلطنة على اتفاقية القضاء
على جميع أشكال التمييز العنصري:-

ب- ٢٠٠٢ م

أ- ٢٠٠١ م

د- ٢٠٠٤ م

ج- ٢٠٠٣ م

٨- تحتفل القوات المسلحة العمانية بعيدها السنوي في يوم:

ب- ١١ مارس

أ- ١١ فبراير

د- ١١ ديسمبر

ج- ١١ أكتوبر

٩- الشكل الواضح أمامك في الصورة يوضح أحد تقنيات الثورة الصناعية الرابعة وهو:



- (أ) الطباعة ثلاثية الابعاد
- (ب) إنترنت الأشياء
- (ج) الواقع الافتراضي
- (د) الروبوتات

يتبع (٥)

(٥)

المادة: دراسات اجتماعية (هذا وطني) - الصف الثاني عشر - امتحان تجريبي محاكى
لامتحان نهاية العام الدراسي العام الدراسي ٢٠٢١/٢٠٢٢ م

١٠- الشاعر العماني الذي لقب بـ شاعر العلماء وعالم الشعراء:



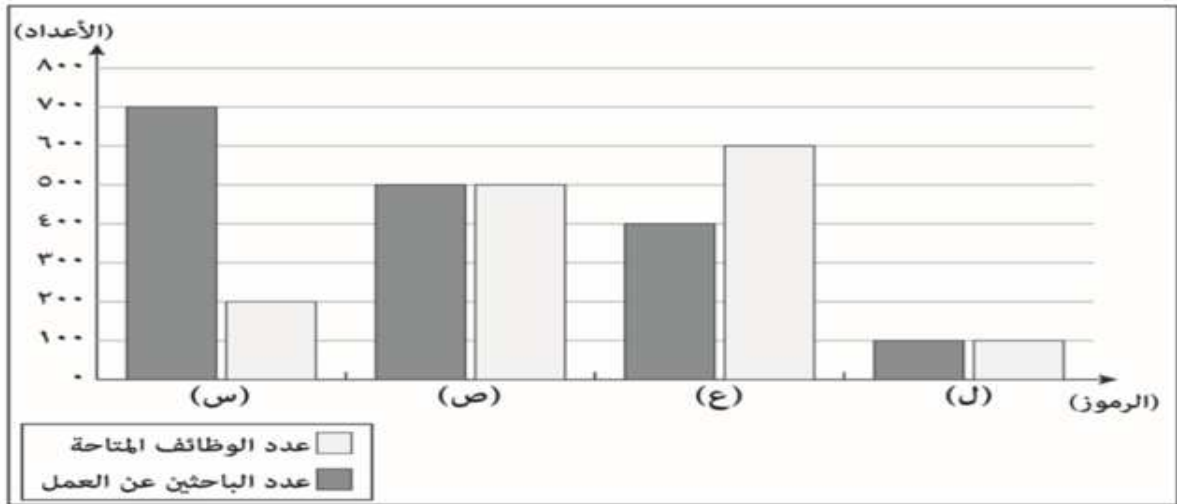
(أ) نور الدين السالمي

(ب) عبد الله الطائي

(ج) أبو مسلم البهلاني

(د) خالد بن هلال الرحبي

١١- الرمز الذي ينطبق عليه مفهوم سوق العمل الراكد كما في الرسم البياني الآتي :



ب - (ع)

د - (س)

أ - (ل)


ج - (ص)

يتبع (٦)

(٦)

المادة: دراسات اجتماعية (هذا وطني) - الصف الثاني عشر - امتحان تجريبي محاكى
لامتحان نهاية العام الدراسي العام الدراسي ٢٠٢١/٢٠٢٢ م

١٢- الشكل الذي يمثل مؤسسة صناعية صغيرة وفقاً لمعيار أعداد العاملين
المعتمد لتصنيف المؤسسات الصغيرة والمتوسطة في
سلطنة عُمان حسب المفتاح الآتي :-

:  = ١٠ عمال



١٣- العالم العماني الذي يُنسب له المؤلف المقابل :



أ- أبو العباس المبرد

ب - أبو بكر بن محمد الأزدي

ج-الخليل بن أحمد الفراهيدي

د - سرحان بن سعيد الأزكوى

يتبع / ٧

(٧)

المادة: دراسات اجتماعية (هذا وطني) - الصف الثاني عشر - امتحان تجريبي محاكى
لامتحان نهاية العام الدراسي العام الدراسي ٢٠٢١/٢٠٢٢ م

١٤- الجهات الصحيحة التي تقع فيها الحضارات القديمة المشار إليها
بالأرقام على الخريطة بالنسبة لموقع عُمان:



- ١ الغرب.
٢ الشمال الشرقي.
٣ الشرق.
٤ الشمال الغربي.

ب

- ١ الشمال الغربي.
٢ الغرب.
٣ الشمال الشرقي.
٤ الشرق.

د

- ١ الشرق.
٢ الشمال الغربي.
٣ الغرب.
٤ الشمال الشرقي.

أ

- ١ الشرق.
٢ الشمال الشرقي.
٣ الغرب.
٤ الشمال الغربي.

ج

يتبع / ٨

(٨)

المادة: دراسات اجتماعية (هذا وطني) - الصف الثاني عشر - امتحان تجريبي محاكى
لامتحان نهاية العام الدراسي العام الدراسي ٢٠٢١/٢٠٢٢ م

ثانياً الأسئلة المقالية :

س١٥- (أ)

ادرس الصورة المقابلة ثم اجب عن الأسئلة التالية

١- سم المشروع الذي توضحه الصورة المقابلة .

٢- متى تم الإعلان عن هذا المشروع ؟

٣- ما الدولة التي اطلقت هذا المشروع ؟

٤- اذكر هدفاً من الأهداف التي يسعى هذا المشروع لتحقيقها ؟

(ب)

اذكر اثنين من الخدمات التي تقدمها هيئة تنمية المؤسسات الصغيرة والمتوسطة ؟

(ج) اكتب اسم المفهوم او المصطلح الدال على العبارات الاتية

م	العبرة	المفهوم أو المصطلح
١	مجموعة من السمات والخصائص المشتركة منها الثقافية والاجتماعية والجغرافية والتاريخية التي تُشعر الفرد بانتمائه وولائه لوطنه.	
٢	مجموعة من القيم التي يتحلى بها الفرد فتجعله اكثر إيجابية في ادراك ما له من حقوق و ما عليه من واجبات نحو كل من الوطن والأمة والعالم بأسره	

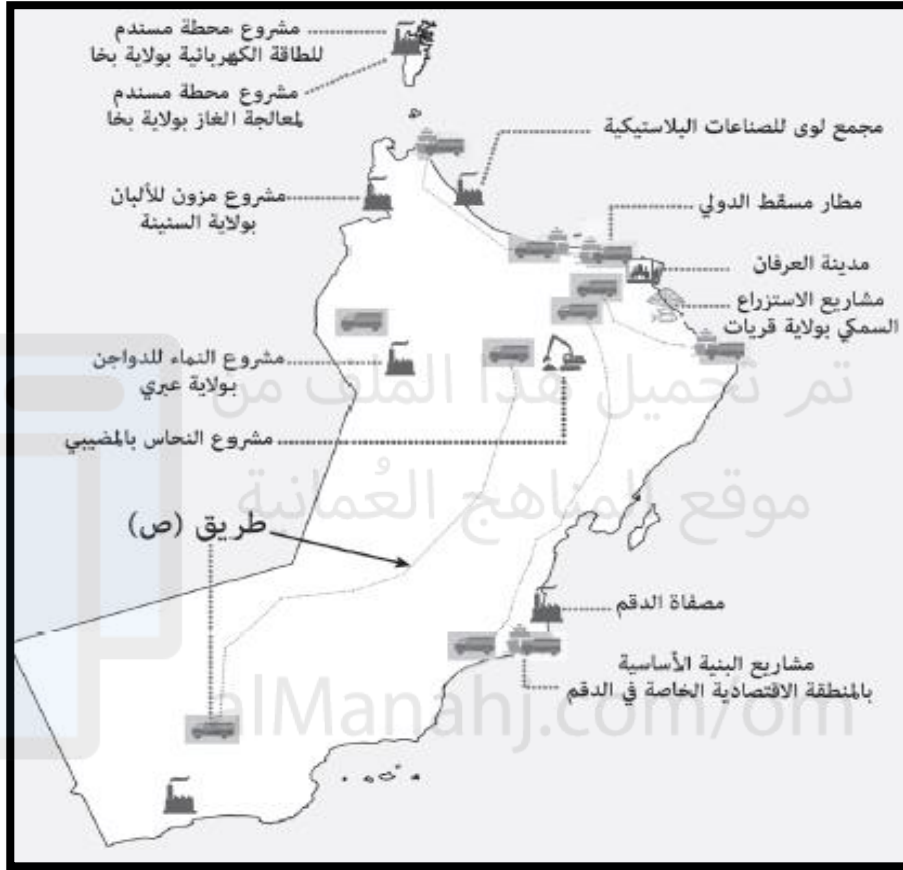
يتبع / ٩

(٩)

المادة: دراسات اجتماعية (هذا وطني) - الصف الثاني عشر - امتحان تجريبي محاكى
لامتحان نهاية العام الدراسي العام الدراسي ٢٠٢١/٢٠٢٢ م

س ١٦ (أ)

ادرس خريطة المشاريع الاقتصادية لسلطنة عُمان، ثم أجب عن الأسئلة الآتية.



١- استخراج اسم مشروع اقتصادي في قطاع التعدين .

٢- استخراج اثنين من المحافظات التي يمر بها مشروع الطريق المشار إليه بالرمز (ص)

٣- صف نوع القطاع الاستثماري الذي ينتمي إليه المشروع الموجود في ولاية صلالة حسب الخريطة؟

٤- دلل على قيام مشروع لوجستي بين محافظتي الوسطى وشمال الشرقية

يتبع / ١٠

تابع ثانيا : الأسئلة المقالية "


ب. "اسهم التطور الهائل والمتسارع الذي يشهده العالم اليوم في المجالين المعلوماتي والتكنولوجي في ظهور ما يُعرف بالثورة الصناعية الرابعة التي صاحبته تقنيات حديثة ساعدت في تطوير مجالات الحياة المختلفة .
في ضوء العبارة السابقة أجب عن الأسئلة التالية :

١- ما المقصود بالثورة الصناعية الرابعة

٢- اذكر مجال يمكن استخدام تقنيات الثورة الصناعية فيها ؟

٣- اذكر اثنين من محاور استراتيجية عمان الرقمية ؟

س ١٧ (أ) اكمل الجدول الموضح ادناه .



اسم المشروع

تاريخ الإعلان عن المشروع

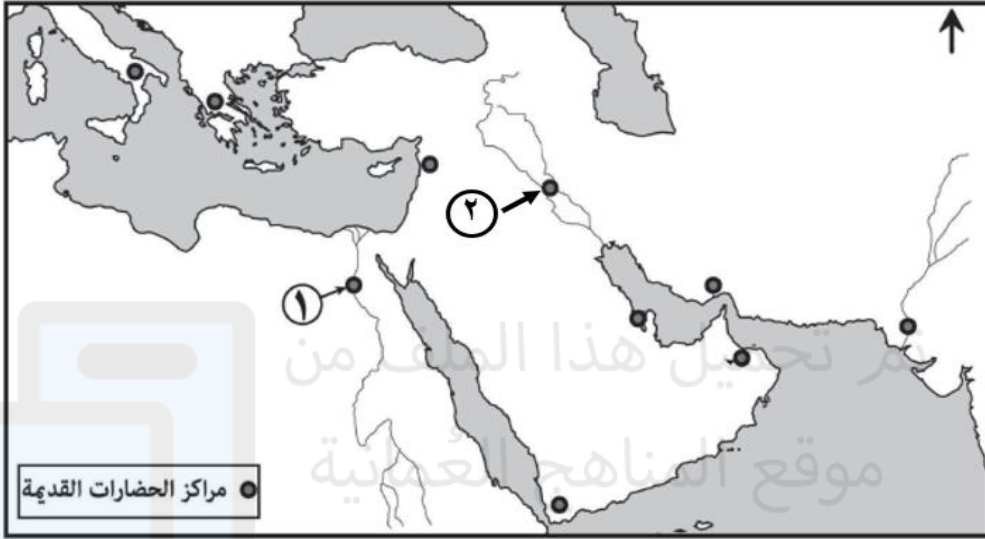
الهدف من المشروع

يتبع / ١١

(١١)
المادة: دراسات اجتماعية (هذا وطني) - الصف الثاني عشر - امتحان تجريبي محاكى
لامتحان نهاية العام الدراسي العام الدراسي ٢٠٢١/٢٠٢٢ م

تابع ثانيا : الأسئلة المقالية "

ب. ادرس خريطة الحضارات القديمة الآتية. ثم اجب عن الأسئلة التي تليها.



١- سم الحضارة المشار إليها بالرقم (١)

٢- في أي جهة تقع الحضارة المشار إليها بالرقم (٢) بالنسبة لحضارة مجان

٣- اكتب حضارة السند في موقعها الصحيح على الخريطة

ج.

١- علل : أصبحت المؤسسات الصغيرة والمتوسطة الركيزة الأساسية للاقتصاد العالمي."

٢- وضح ما يلي : تشعر الجغرافيا الفرد بانتمائه لوطنه

يتبع / ١٢

س١٨ (أ)

"عملت وزارة النقل والاتصالات وتقنية المعلومات بسلطنة عمان على انشاء
مركز يهدف إلى تطوير مشاريع الواقع الافتراضي "

في ضوء العبارة السابقة أجب عن الأسئلة التالية :

١- استخلص اسم المركز المشار اليه في النص

.....

٢- بين الهدف من المركز؟

.....

alManahj.com/om

ب.

" لما كانت الحروب تتولد في عقول البشر ففي عقولهم يجب أن تبني حصون السلام

في ضوء العبارة السابقة أجب عن الأسئلة التالية :

١- متى قيلت هذه العبارة وما المؤسسة التي اطلقتها

.....

.....

٢- ماذا تستنتج من هذه العبارة

.....

.....

يتبع / ١٣

(١٣)

المادة: دراسات اجتماعية (هذا وطني) - الصف الثاني عشر - امتحان تجريبي محاكى
لامتحان نهاية العام الدراسي العام الدراسي ٢٠٢١/٢٠٢٢ م

ج. ادرس الخريطة التي امامك ثم اجب عن الأسئلة الاتية



١- استخراج رقم الدولة التي يوجد بها مقر منظمة الأمم المتحدة

٢- استخراج الرقم الذي يشير الى مدينة جاكرتا التي تم الإعلان فيها عن مشروع السلطان قابوس للمؤتلف الإنساني .

٣- ظلل على الخريطة الدولة التي يوجد بها مقر منظمة اليونسكو

يتبع / ١٤

(١٤)

المادة: دراسات اجتماعية (هذا وطني) - الصف الثاني عشر - امتحان تجريبي محاكى
لامتحان نهاية العام الدراسي العام الدراسي ٢٠٢١/٢٠٢٢م

ثانياً الأسئلة المقالية :

س١٩- (أ)

١- يتأثر سوق العمل العماني بالتغيرات والتطورات التي تطرأ على المنظومة الاقتصادية العالمية، مما دفع حكومة سلطنة عمان الى اتخاذ سلسلة من الإجراءات لمواكبة تلك التطورات
اذكر اثنين من تلك الإجراءات.

.....
.....

ب.

اكمل المخطط التالي والذي يمثل الإجراءات والمبادرات لتطوير سوق العمل العماني



ج:

١- يعد الدين الإسلامي من المرتكزات الراسخة للهوية العمانية ... وضح ذلك

.....
.....

دلل على : تمسك العماني بأرضه رغم قساوة بعض تضاريسها

.....
.....

يتبع / ١٥

(١٥)

المادة: دراسات اجتماعية (هذا وطني) - الصف الثاني عشر - امتحان تجريبي محاكى
لامتحان نهاية العام الدراسي العام الدراسي ٢٠٢١/٢٠٢٢ م

ثانيا الأُسئلة المقالية :

س٢٠- (أ)

اعطِ مثلاً واحداً على جهود سلطنة عُمان لتنمية المؤسسات الصغيرة والمتوسطة في المجالات الآتية:

١- تعزيز ثقافة ريادة الاعمال.

٢- التشريعات والقوانين

٣- الدعم الحكومي. وقع المناهج العُمانية

٤- التمويل

ب. اذكر واحدة لكل من :

١- التحديات التي تواجه سوق العمل العماني ؟

٢- نتائج حراك المؤسسات الكبرى لإعادة هيكلتها وتحقيق أرباح عالية لمواجهة المنافسة الدولية.

ج.

سم المؤسسة الحكومية العمانية التي تعنى بتطوير المؤسسات الصغيرة والمتوسطة والترويج لها .

يتبع / ١٦

(١٦)

المادة: دراسات اجتماعية (هذا وطني) - الصف الثاني عشر - امتحان تجريبي محاكى
لامتحان نهاية العام الدراسي العام الدراسي ٢٠٢١/٢٠٢٢م

ثانياً الأسئلة المقالية :

س٢١- (أ) ادرس الجدول التالي الذى يوضح بعض مرتكزات الهوية العمانية ثم
اكتب المرتكز الذى توضحه كل صورة

م	الصورة	المرتكز الذى توضحه
١	
٢	
٣	

ب. (١) - عدد اثنين من خصائص الاقتصاد القائم على المعرفة ؟

.....
.....

٢- سم الجهة الحكومية المسؤولة عن تنفيذ مشاريع البنية الأساسية لمجتمع عمان الرقمى

.....

ج. ركزت رؤية عمان ٢٠٤٠ ضمن أولوياتها على سوق العمل والتشغيل
دلل على صحة العبارة ؟

.....

انتهت الأسئلة تمنياتنا بالتوفيق والنجاح



نموذج إجابة الامتحان التجريبي / الصف الثاني عشر - مادة هذا وطني
للعام الدراسي ١٤٤٢/١٤٤٣ هـ - ٢٠٢١/٢٠٢٢ م
قناة حمزة التعليمية

المادة: هذا وطني الدرجة الكلية: (٧٠) درجة.

أولاً: إجابة السؤال الموضوعي:

إجابة السؤال الأول

المفردة	البديل الصحيح	الإجابة	الدرجة	الوحدة	الصفحة	ملاحظات									
١	د	تكنولوجيا المعلومات والآلات والانسان	درجة	الثالثة	٩٢										
٢	ب		درجة	الثالثة	٨٤										
٣	ب		درجة	الثالثة	٨٧										
٤	د	تعزيز ثقافة ريادة الاعمال	درجة	الثالثة	٨٩										
٥	ج	تراثنا مستقبنا	درجة	الرابعة	١١١										
٦	ب	<table border="1"> <thead> <tr> <th>الهرم السكاني</th> <th>(أ)</th> <th>(ب)</th> </tr> </thead> <tbody> <tr> <td>الفئة العمرية الأكثر في عدد السكان</td> <td>سنة (١٠-١٤)</td> <td>سنة (٠-٤)</td> </tr> <tr> <td>الفئة العمرية الأقل في عدد السكان</td> <td>سنة (٦٠-٦٤)</td> <td>سنة (٦٠-٦٤)</td> </tr> </tbody> </table>	الهرم السكاني	(أ)	(ب)	الفئة العمرية الأكثر في عدد السكان	سنة (١٠-١٤)	سنة (٠-٤)	الفئة العمرية الأقل في عدد السكان	سنة (٦٠-٦٤)	سنة (٦٠-٦٤)	درجة	الثالثة	٨١	
الهرم السكاني	(أ)	(ب)													
الفئة العمرية الأكثر في عدد السكان	سنة (١٠-١٤)	سنة (٠-٤)													
الفئة العمرية الأقل في عدد السكان	سنة (٦٠-٦٤)	سنة (٦٠-٦٤)													
٧	ج	٢٠٠٣ م	درجة	الرابعة	١١٠										

يتبع/٢

(٢)
تابع نموذج إجابة الامتحان التجريبي / الصف الثاني عشر - مادة هذا وطني
للعام الدراسي ١٤٤٢/١٤٤٣ هـ - ٢٠٢١/٢٠٢٢ م
قناة حمزة التعليمية

إجابة السؤال الأول

المفردة	البديل الصحيح	الإجابة	الدرجة	الوحدة	الصفحة	ملاحظات
٨	ج	١١ ديسمبر	درجة	الرابعة	١٠٢	
٩	ب	انترنت الأشياء	درجة	الثالثة	٩٢	
١٠	ج	أبو مسلم البهلاني	درجة	الرابعة	١١٢	
١١	د	(س)	درجة	الثالثة	٨٠	
١٢	ب		درجة	الثالثة	٨٨	
١٣	أ	أبو العباس المبرد	درجة	الرابعة	١٠١	
١٤	ج	<ol style="list-style-type: none"> ① الشرق. ② الشمال الشرقي. ③ الغرب. ④ الشمال الغربي. 	درجة	الرابعة	١٠١	
		المجموع	١٢			

يتبع/٣

(٣)

نموذج إجابة الامتحان التجريبي / الصف الثاني عشر - مادة هذا وطني

للعام الدراسي ١٤٤٢ / ١٤٤٣ هـ - ٢٠٢١ / ٢٠٢٢ م

قناة حمزة التعليمية

ثانيا: إجابة الأسئلة المقالية:

الصفحة	الوحدة	الدرجة	الإجابة	المفردة	الجزئية
١١١	الرابعة	درجة	مشروع السلطان قابوس للمؤتلف الإنساني	١	أ
١١١	الرابعة	درجة	١٦ نوفمبر ٢٠١٩ م	٢	
١١١	الرابعة	درجة	سلطنة عمان	٣	
١١١	الرابعة	درجة	- تعزيز قيم التسامح والحوار بين الشعوب - نشر الأمن والسلام حول العالم يكتفى بوحدة	٤	
س ١٥					
٩٠	الثالثة	درجتان	- دراسة الجدوى - التمويل - التوجيه والتدريب - الاستشارات - بطاقات رواد الاعمال		ب
س ١٥					
١٠٠	الرابعة	درجة	الهوية	١	ج
١	الرابعة	درجة	المواطنة العالمية	٢	
٨ درجات			المجموع		

يتبع / ٤

أ / عبد النبي الفقي

اعداد وتنفيذ / قناة حمزة التعليمية

(٤)

نموذج إجابة الامتحان التجريبي / الصف الثاني عشر - مادة هذا وطني

للعام الدراسي ١٤٤٢/١٤٤٣ هـ - ٢٠٢١/٢٠٢٢ م

قناة حمزة التعليمية

ثانيا: إجابة الأسئلة المقالية:

الجزئية	المفردة	الإجابة	الدرجة	الوحدة	الصفحة
أ	١	مشروع تعدين النحاس بالمضيبي	درجة	الثالثة	٨٤
	٢	الداخلية - الوسطى - ظفار يكتفى بذكر محافظتين	درجة	الثالثة	٨٤
	٣	الصناعات التحويلية	درجة	الثالثة	٨٤
	٤	طريق سناو محوت الدقم	درجة	الثالثة	٨٤
ب	١	عملية الدمج بين العلوم المادية والأنظمة الرقمية في عمليات التصنيع عبر آلات متحكم فيها الكترونيا بواسطة تقنيات متصلة بالشبكة المعلوماتية	درجة	الثالثة	٩٢
	٢	تدعيم البحث العلمي إيجاد بنية أساسية رقمية دعم الابتكار تنمية الاقتصاد يكتفى مجال واحد	درجة	الثالثة	٩٣
	٣	تنمية قدرات المجتمع ومهارات الافراد الحكومة الالكترونية والخدمات الذكية الحكومة وتطوير المعايير القياسية والسياسات البيئة الأساسية من الجيل الجديد تعزيز الوعي المعرفي	درجتان	الثالثة	٩٥
		المجموع	٨ درجات		

س ١٦

يتبع / ٥

(٥)

نموذج إجابة الامتحان التجريبي / الصف الثاني عشر - مادة هذا وطني

للعام الدراسي ١٤٤٢/١٤٤٣ هـ - ٢٠٢١/٢٠٢٢ م

قناة حمزة التعليمية

ثانياً: إجابة الأسئلة المقالية:

الجزئية	المفردة	الإجابة	الدرجة	الوحدة	الصفحة
أ	١	مشروع رسالة الإسلام	درجة	الرابعة	١١١
	٢	٢٠١٠م	درجة	الرابعة	١١١
	٣	تعزيز قيم التسامح الديني نشر ثقافة التفاهم بين الشعوب قاطبة نشر القيم الإنسانية المشتركة في العالم	درجة	الرابعة	١١٠
ب	١	حضارة مصر القديمة حضارة النيل الحضارة الفرعونية	درجة	الرابعة	١٠١
	٢	الشمال الشمال الغربي	درجة	الرابعة	١٠١
	٣	 كتابة حضارة السند في موقعها الصحيح	درجة	الرابعة	١٠١
ج	١	لما تتميز به من مرونة وقدرة على التأقلم في محيط اقتصادي تنافسي .	درجة	الثالثة	٨٧
	٢	حينما يدرك بأن هذا الوطن هياً له المقام المطمئن على هذه الأرض يزيد ذلك شعوره واعتزازه وتمسكه به والذود عنه	درجة	الرابعة	١٠٢
			٨ درجات		
			المجموع		

س ١٧

يتبع (٦)

أ / عبد النبي الفقي

اعداد وتنفيذ / قناة حمزة التعليمية

(٦)
نموذج إجابة الامتحان التجريبي / الصف الثاني عشر - مادة هذا وطني
للعام الدراسي ١٤٤٢/١٤٤٣ هـ - ٢٠٢١/٢٠٢٢ م
قناة حمزة التعليمية

ثانيا: إجابة الأسئلة المقالية:

الجزئية	المفردة	الإجابة	الدرجة	الوحدة	الصفحة
أ	١	مركز ساس لمحاكاة الواقع	درجة	الثالثة	٩٦
	٢	ليكون مركزا إقليميا يعمل على توفير البنية الأساسية لتطوير مشاريع الواقع الافتراضي ومحتويات الوسائط المتعددة للسوق المحلي والإقليمي	درجة	الثالثة	٩٦
ب	١	٢٠١٨ منظمة الأمم المتحدة للتربية والعلوم والثقافة "منظمة اليونسكو"	درجتان لكل مفردة درجة	الرابعة	١٠٨
	٢	نستنتج ضرورة نشر قيم التعاون والسلام والتعايش بين شعوب الأرض ونبذ العنف والفرقة	درجة	الرابعة	١٠٨
ج	١	(١) الولايات المتحدة الامريكية	درجة	الرابعة	١١٠
	٢	(٣)	درجة	الرابعة	١١٠
	٣	 تظليل دولة فرنسا	درجة	الرابعة	١٠٨
		المجموع	٨ درجات		

س ١٨

يتبع (٧)

(٧)
 نموذج إجابة الامتحان التجريبي / الصف الثاني عشر - مادة هذا وطني
 للعام الدراسي ١٤٤٢/١٤٤٣ هـ - ٢٠٢١/٢٠٢٢ م
 قناة حمزة التعليمية

ثانيا: إجابة الأسئلة المقالية:

الجزئية	المفردة	الإجابة	الدرجة	الوحدة	الصفحة
أ	١	- تحسين القوانين والسياسات والأنظمة - تنمية وتدريب الموارد البشرية - تقليل الفجوة بين السياسات والأنظمة ومتطلبات سوق العمل يكتفى باثنين	درجتان لكل مفردة درجة	الثالثة	٨٥
	٢				
ب	١	- انشاء المديرية العامة للتشغيل بوزارة العمل	درجة	الثالثة	٨٥
	٢	البرنامج الوطني للتطوير القيادي من اجل تمكين الإدارات العمانية الوسطى والعليا في القطاع الخاص	درجة	الثالثة	٨٥
ج	١	لأنه مصدر الالهام ومنبع تشريع , يهذب النفس والوجدان ويبني انسانا صالحا بكل زمان ومكان	درجتان	الرابعة	١٠٠
	٢	بني المدرجات الجبلية وعمر الواحات الصحراوية ومخر عباب البحار ليظل اسم عمان محفور في قلوب سكانها عبر الزمان	درجتان	الرابعة	١٠٢
		المجموع	٨ درجات		

س ١٩

يتبع (٨)

(٨)
نموذج إجابة الامتحان التجريبي / الصف الثاني عشر - مادة هذا وطني
للعام الدراسي ١٤٤٢/١٤٤٣ هـ - ٢٠٢١/٢٠٢٢ م
قناة حمزة التعليمية

ثانيا: إجابة الأسئلة المقالية:

الجزئية	المفردة	الإجابة	الدرجة	الوحدة	الصفحة
س ٢٠	أ		اربع درجات لكل مفردة درجة	الثالثة	٨٩
	ب	<p>١- تراجع الأسعار العالمية للنفط، وانخفاض الطلب العالمي.</p> <p>٢- عزوف المواطنين عن العمل في القطاع الخاص</p> <p>٣- قصور سوق العمل على عن استيعاب كافة الاناث الراغبات في العمل</p> <p>٤- تداعيات جائحة كورونا</p> <p><u>يكتفي بواحدة فقط</u></p>	درجة	الثالثة	٨٢
	٢	<p>١- فقدان نسبة كبيرة من الوظائف في العديد من المؤسسات</p> <p>- اهتمام المؤسسات بتعيين أصحاب الخبرة والمهارات الوظيفية</p> <p>اختزال عمليات الإنتاج والتوزيع في ظل الاعتماد على التقنيات الحديثة</p> <p><u>يكتفي بواحدة فقط</u></p>	درجة	الثالثة	٨٢
ج		هيئة تنمية المؤسسات الصغيرة والمتوسطة	درجتان	الثالثة	٨٨
		المجموع	٨ درجات		

يتبع (٩)

(٩)
 نموذج إجابة الامتحان التجريبي / الصف الثاني عشر - مادة هذا وطني
 للعام الدراسي ١٤٤٢/١٤٤٣ هـ - ٢٠٢١/٢٠٢٢ م
 قناة حمزة التعليمية

ثانيا: إجابة الأسئلة المقالية:

الصفحة	الوحدة	الدرجة	الإجابة	المفردة	الجزئية
١٠١	الرابعة	ثلاث درجات لكل مفردة درجة	الدين الإسلامي اللغة العربية التاريخ	-١ -٢ -٣	أ
٨٢	الثالثة	درجتان لكل مفردة درجة	- المعرفة هي العامل الرئيسي للإنتاج - المرونة - موارد متجددة - التنافسية المفتوحة - الابتكار - التكنولوجيا والرقمية <u>يكتفى باثنين فقط</u>	١	ب
٨٢	الثالثة	درجة	وزارة النقل والاتصالات وتقنية المعلومات	٢	
٨٣	الثالثة	درجتان	سعت السلطنة الى إيجاد سوق عمل جاذب للكفاءات ومواكب للتغيرات الديموغرافية والاقتصادية والمعرفية والتقنية .		ج
٨ درجات			المجموع		

مع ارق الامنيات بالنجاح والتوفيق
 مع تحيات قناة حمزة التعليمية
 أ / عبد النبي الفقى / واتس ٧٩٥١٧٤٤٥
 انتظروا النموذج الثاني حصريا