

شكراً لتحميلك هذا الملف من موقع المناهج العمانية



اختبارات قصيرة أولى

موقع المناهج ← المناهج العمانية ← الصف الثاني عشر ← هذا وطني ← الفصل الأول ← الملف

تاريخ نشر الملف على موقع المناهج: 08:22:53 2023-10-06 | اسم المدرس: عبد النبي الفقي

التواصل الاجتماعي بحسب الصف الثاني عشر



روابط مواد الصف الثاني عشر على تلغرام

[الرياضيات](#)

[اللغة الانجليزية](#)

[اللغة العربية](#)

[التربية الاسلامية](#)

المزيد من الملفات بحسب الصف الثاني عشر والمادة هذا وطني في الفصل الأول

نشاط تقويمي للدرس الأول إنجازات الأوائل طريق المستقبل	1
أسئلة وأجوبة على درس البيئة قضية عالمية وبقطة وطنية	2
أسئلة تدريبية على درس البيئة قضية عالمية وبقطة وطنية من الوحدة الثانية	3
أسئلة اختبارات قصيرة ونهائية للوحدة الأولى مع الإجابة	4
أسئلة مجمعة من الاختبارات النهائية للدرس الأول والثاني	5

اختبارات قصيرة تجريبية
الدرس الأول عمان في
عصر النباهنة



سلسلة التميز
هذا وطني

في العراقة والمجد
الصف الثاني عشر



واتس / ٧٩٥١٧٤٤٥


أ / عبدالنبي الفقي



سلسلة التميز هذا وطني

في العراق والمجد

الصف الثاني عشر



ت / ٧٩٥١٧٤٤٥

أ / عبدالنبي الفقي

اختبارات قصيرة تجريبية

المادة: هذا وطني

الصف: الثاني عشر

الفصل الدراسي الأول)

١٠

اسم الطالب:

اختبار قصير تجريبي (١)

السؤال الأول :- اختر الإجابة الصحيحة من بين البدائل المعطاة . (٤ درجات)



١- تشير الصور المقابلة الى حصن:-

- (أ) بيت المراح
- (ب) الأسود
- (ج) بركاء
- (د) مطرح

٢- من البلدان التي كانت على علاقة اضطراب مع ملوك النباهنة:-

- (أ) اليمن
- (ب) هرمز
- (ج) الهند
- (د) شرق افريقيا

٣- تبادل الملك النبهاني الهدايا مع ملك اليمن المظفر شمس الدين أزدمر

- (أ) سليمان بن سليمان بن المظفر النبهاني
- (ب) أبو المعالي كهلان بن عامر بن نبهان
- (ج) سلطان بن محسن النبهاني
- (د) فلاح بن محسن النبهاني

٤- من المدن العمانية التي ازدهرت في العصر النبهاني الأول

- (أ) مقنيات
- (ب) نزوى
- (ج) صحار
- (د) مسقط

(٣ درجات)



السؤال الثاني :-

من خلال الخريطة التي امامك

اجب عن الأسئلة الآتية :-

(أ) وقع على الخريطة الدولة

التي تنتمي اليها جزيرة **باتي** .

(ب) باستخدام الرمز (&)

حدد موقع بلد الملك الذي تبادل الهدايا مع الملك أبو المعالي كهلان

(ج) حدد مملكة هرمز على الخريطة باستخدام الرمز (#)

(٣ درجات)

السؤال الثالث:

اجب عن الأسئلة الآتية

(١) شهدت عمان في عصر النباهنة تجزئة واضحة غابت على إثرها

الوحدة الوطنية **"دلل على صحة العبارة السابقة تاريخيا "**

(٢) وصف ابن بطوطة عند زيارته لظفار بعض العادات والقيم التي تميز بها المجتمع العماني، فذكر:

أنه من عاداتهم إذا وصل مركب من الهند أو غيرها، خرج أهل ظفار فاستقبلوهم وقدموا لهم

الكسوة، ثم بعثوا لهم الضيافة لمدة ثلاثة أيام، وبعد الثلاث يأكلون بدار السلطان، كما وصفهم

بأنهم أهل تواضع وحسن أخلاق وفضيلة ومحبة للغرباء. (ابن بطوطة، ٢٠١٢م، بتصرف).

في ضوء العبارة السابقة..

استخرج القيم والعادات التي تميز بها المجتمع العماني واربطها بما هو قائم

بمجتمعنا في الوقت الحالي.

اختبارات قصيرة تجريبية

المادة: هذا وطني

الصف: الثاني عشر

الفصل الدراسي الأول (٢)

١٠

اسم الطالب:

اختبار قصير تجريبي (٢)

السؤال الأول :- اختر الإجابة الصحيحة من بين البدائل المعطاة . (٤ درجات)

١- الملك النبهاني الذي قرب العلماء واکرم الشعراء:-

(أ) فلاح بن محسن النبهاني

(ب) سلطان بن محسن

(ج) محمد بن عمر بن نبهان

(د) سليمان بن المظفر النبهاني

٢- تعود النونية الكبرى إلى مؤلفها:-

(أ) موسى الكيذاوي

(ب) سلطان بن محسن

(ج) محمد بن عمر بن نبهان

(د) أحمد بن ماجد

٣- جلب النباهنة الحرير من :-

(أ) شرق افريقيا

(ب) الصين

(ج) اليمن

(د) الهند

٤- وصل البرتغاليون إلى جزر الحلانيات في العام الميلادي

(أ) ١٥٠٥

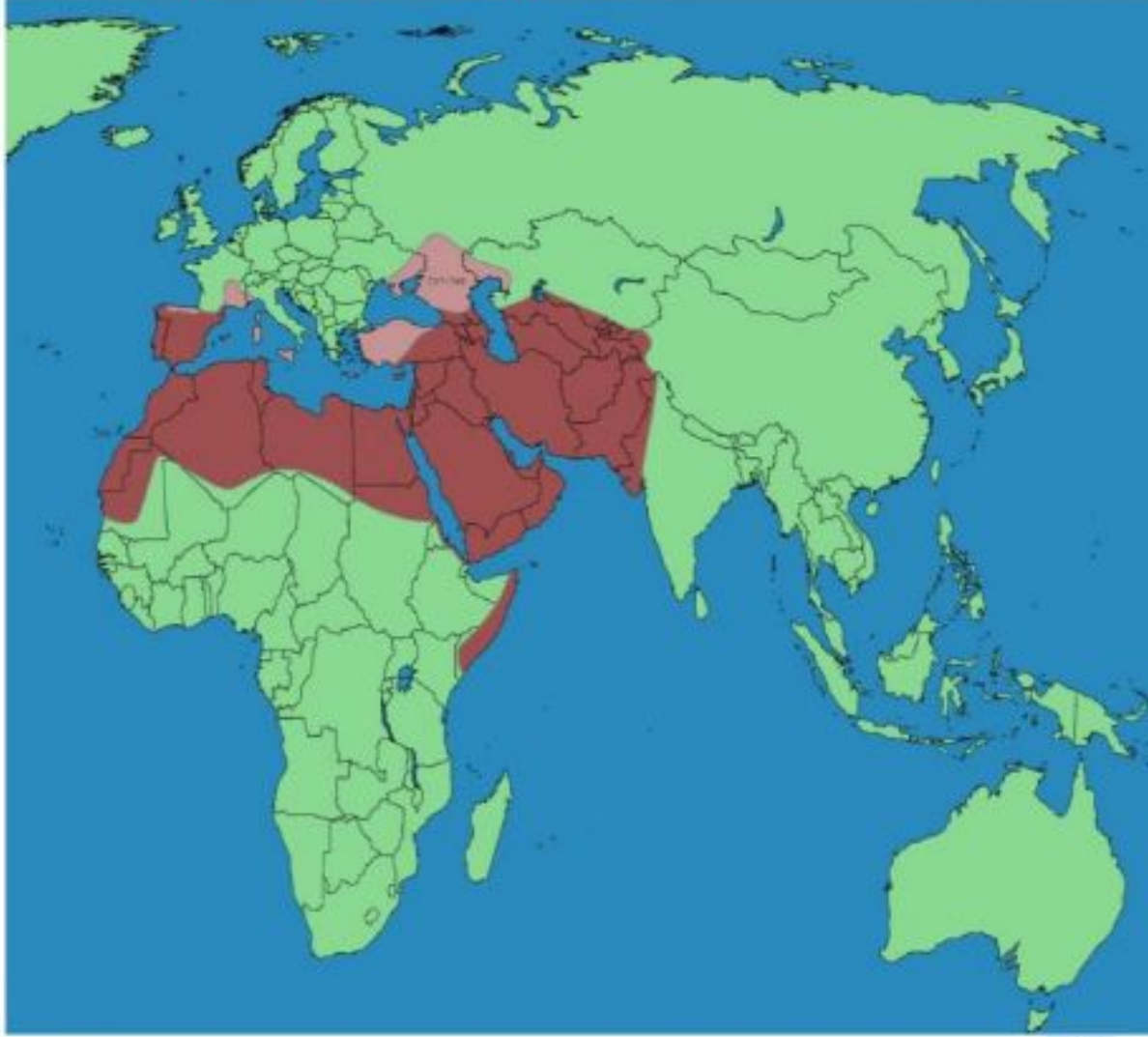
(ب) ١٥٠٦

(ج) ١٥٠٧

(د) ١٥٠٨

(٣ درجات)

السؤال الثاني :-



٤- انظر الى الخريطة التي امامك ثم اجب :-

(أ) ارسم على الخريطة خط سير

الاسطول البرتغالي وصولاً الى عمان

(ب) باستخدام الحرف (هـ) وقع

على الخريطة اثنين من الحصون التي

شيدها البرتغاليين في افريقيا

(ج) باستخدام الحرف (جـ)

وقع على الخريطة اثنين من الحصون التي شيدها البرتغاليين في اسيا

(٣ درجات)

السؤال الثالث :

اجب عن الأسئلة الآتية

" الوحدة الوطنية مسؤولية الجميع " في ضوء ذلك
(أ) عدد اثنين من ادوار الفرد والمجتمع في المحافظة على الوحدة الوطنية .

(ب) وضح العلاقة بين الوحدة الوطنية واستقرار الوطن.

(ج) اكمل العبارة الآتية :-

تقوم الوحدة الوطنية على عدة ركائز منها و

" انتهت الأسئلة "

مع ارق الامنيات بالنجاح والتوفيق "

اختبارات قصيرة تجريبية

المادة: هذا وطني



الصف: الثاني عشر

الفصل الدراسي الأول ١٠

(١٠)

اسم الطالب:

اختبار قصير (٣)

السؤال الأول :- اختر الإجابة الصحيحة من بين البدائل المعطاة . (٤ درجات)

١- وصل البرتغاليون الى السواحل العمانية في اوائل القرن:-

- (أ) الرابع عشر (ب) الخامس عشر
(ج) السادس عشر (د) السابع عشر

٢- تشير الصور المقابلة الى حصن:-

- (أ) بيت المراح
(ب) الأسود
(ج) بركاء
(د) مطرح



٣- تتبع جزيرة باتي حاليا لدولة :-

- (أ) كينيا (ب) تنزانيا
(ج) اثيوبيا (د) زامبيا

٤- استمر حكم النباهنة في عمان قرابة :-

- (أ) ثلاثة قرون (ب) اربعة قرون
(ج) خمسة قرون (د) سبعة قرون

السؤال الثاني :-

(٣ درجات)

كانت لعمان علاقات في عصر النباهنة علاقات تجارية مع الهند والصين وشرقي افريقيا ..
في ضوء العبارة السابقة وضح ...

- علاقة عمان التجارية مع الهند في زمن النباهنة
- علاقة عمان التجارية مع الصين في زمن النباهنة
- علاقة عمان التجارية مع شرق افريقيا في زمن النباهنة

علاقة عمان التجارية مع الهند	علاقة عمان التجارية مع الصين	علاقة عمان التجارية مع شرق افريقيا

السؤال الثالث :

(٣ درجات)



اجب عن الأسئلة الآتية :-

٢- انظر الى الصورة التي امامك ثم اجب:-

(أ) اسم الجزيرة التي تنتمي اليها هذه الاثار

(ب) من خلال هذه الاثار ماذا تستنتج

(ج) الى من تنسب العبارة الآتية :-

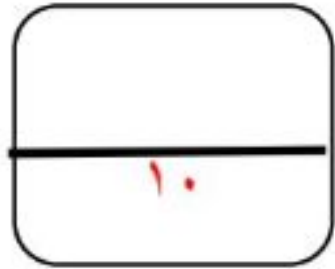
حاكم باقى الذى اتصف بالكرم وحسن التصرف ولقب بالعظيم (.....)

" انتهت الأسئلة "

مع ارق الامنيات بالنجاح والتوفيق "

اختبارات قصيرة تجريبية

المادة: هذا وطني



الصف: الثاني عشر

الفصل الدراسي الأول ()

()

١٠

اسم الطالب:

اختبار قصير (٤)

السؤال الأول :- اختر الإجابة الصحيحة من بين البدائل المعطاة . (٤ درجات)

١- الامام الذي كانت امامته إيذاناً بانتهاء العصر النبهاني الاول :-

- (أ) الامام أبي الحسين بن خميس ابن عامر الخروصي
- (ب) الإمام محمد بن اسماعيل الحاضري
- (ج) الامام ابي جابر موسى بن ابي المعالي
- (د) فلاح بن محسن الهنائي

٢- بلغت مملكة هرمز أوج ازدهارها في القرنين :-

- (أ) التاسع والعاشر
- (ب) العاشر والحادي عشر
- (ج) العاشر والثاني عشر
- (د) الحادي عشر والثاني عشر

٣- المدينة العمانية التي انتقلت منها زراعة المانجو الى سائر نواحي عمان :-

- (أ) مقنيات
- (ب) نزوى
- (ج) صحار
- (د) مسقط

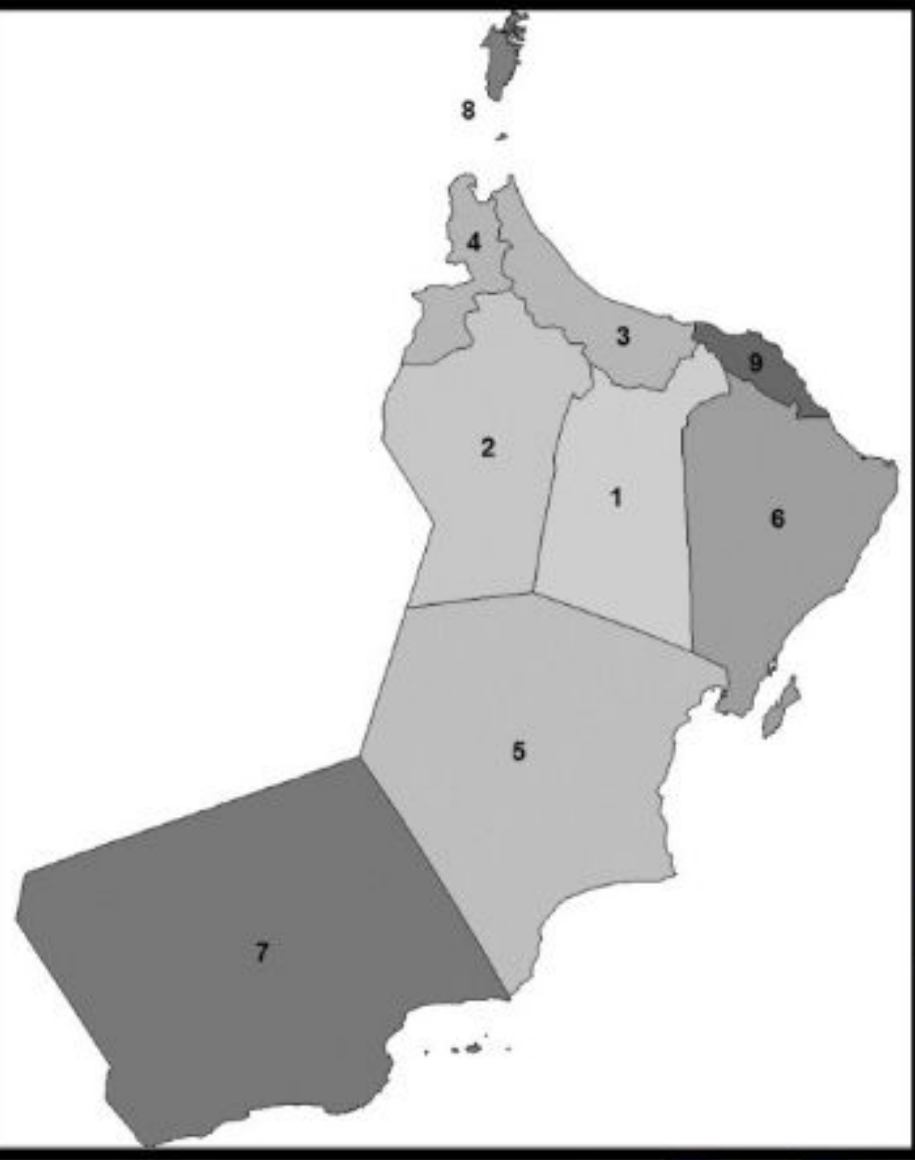
٤- بدأ عصر النباهنة في القرن الميلادي :-

- (أ) الحادي عشر
- (ب) الثاني عشر
- (ج) الثالث عشر
- (د) الرابع عشر

السؤال الثاني :-

(٣ درجات)

انظر الى خريطة عمان التي امامك ثم اجب :-



(أ) **استخرج** من الخريطة الرقم الذي يشير الى المحافظة التي يوجد بها حصن الأسود

.....

(ب) رقم **المحافظة** التي ازدهرت بها المدن العمانية في العصر النبهاني الأول

.....

(ج) **ظل** الموقع الذي وصف ابن بطوطة اهله بالتواضع وحسن الاخلاق والفضيلة ومحبة الغرباء

السؤال الثالث :

(٣ درجات)



تنوعت علاقات عمان الخارجية في العصر النبهاني توطدت العلاقة في مناطق و ساد الاضطراب مناطق اخرى

في ضوء العبارة السابقة اجب

أ:- **عدد** أهم البلدان والمناطق التي كانت على علاقات وطيدة مع ملوك النباهنة .

.....

ب :- **عدد** أهم البلدان والمناطق التي كانت على علاقات اضطراب مع ملوك النباهنة

.....

(ج) **تحدث** عن علاقة عمان في العصر النبهاني بدولة اليمن

.....

اختبارات قصيرة تجريبية

المادة: هذا وطني

الصف: الثاني عشر

الفصل الدراسي الأول ()

١٠

اسم الطالب:

اختبار قصير (٥)

السؤال الأول :- اختر الإجابة الصحيحة من بين البدائل المعطاة . (٤ درجات)

١- يرجع تاريخ بناء حصن الأسود الى العام: -

- (أ) ٨٧٧ هـ (ب) ٩٧٢ هـ
(ج) ٩٦٢ هـ (د) ٩٩٣ هـ

٢- جلب النباهنة خشب الساج والارز من :-

- (أ) شرق افريقيا (ب) الصين
(ج) اليمن (د) الهند

٣- الملك النبھانی الذي تميز بمهاراته في الشعر هو:-

- (أ) فلاح بن محسن النبھانی
(ب) سلطان بن محسن
(ج) محمد بن عمر بن نبھان
(د) سليمان بن سليمان بن المظفر النبھانی

٤- يقع حصن بيت المراح في ولاية:-

- (أ) عبرى (ب) مطرح
(ج) نخل (د) ينقل

(٣ درجات)

السؤال الثاني : -

قسم المؤرخون حكم النباهنة في عمان الى قسمين، في ضوء العبارة السابقة
أكمل الجدول التالي :-

وجه المقارنة	العصر النبھانی الأول	العصر النبھانی الثاني
الامتداد	من ٥٤٩ھ - من ١١٥٤م - ١٥٠٠م	٩٦٤ھ - ١٠٣٤ھ ١٥٥٦م -
أهم الملوك	١- سليمان بن المظفر النبھانی ٢ سليمان بن سليمان المظفر النبھانی	١- سلطان بن محسن النبھانی ٢-

(٣ درجات)

السؤال الثالث :

وصل البرتغاليين إلى جزر الحلانيات عام ١٥٠٧م وسيطروا على العديد من مدن الساحل العماني وكلما مروا على مدينة عاثوا فيها فساداً وانتهاكاً للمقدسات الدينية في ضوء العبارة السابقة وضح

أ- أسباب نجاح البرتغاليين في السيطرة على مدن الساحل العماني؟

.....

ب- كيف اثر الوجود البرتغالي في عمان على النشاط الاقتصادي؟

.....

ج- أكمل العبارات الآتية:- من أهم ثورات العمانيون ضد الغزو البرتغالي ثورة عام التي انطلقت شرارتها في ٣٠ نوفمبر وشملت اغلب مدن الساحل العماني .

" انتهت الأسئلة

مع ارق الامنيات بالنجاح والتوفيق "