

تم تحميل هذا الملف من موقع المناهج العمانية



مذكرة اختبارية لدرس سوق العمل مع نموذج الإجابة

[موقع المناهج](#) ← [المناهج العمانية](#) ← [الصف الثاني عشر](#) ← [هذا وطني](#) ← [الفصل الثاني](#) ← [الملف](#)

تاريخ إضافة الملف على موقع المناهج: 13-05-2024 17:01:32

إعداد: أحمد الجبوري

التواصل الاجتماعي بحسب الصف الثاني عشر



اضغط هنا للحصول على جميع روابط "الصف الثاني عشر"

روابط مواد الصف الثاني عشر على تلغرام

[الرياضيات](#)

[اللغة الانجليزية](#)

[اللغة العربية](#)

[التربية الاسلامية](#)

المزيد من الملفات بحسب الصف الثاني عشر والمادة هذا وطني في الفصل الثاني

[تقرير أحمد بن ماحد السعدي](#)

1

[تقرير الطبيب راشد بن عميرة](#)

2

[تقرير الهوية العمانية](#)

3

[تقرير الاقتصاد المعرفي](#)

4

[تقرير الخليل بن أحمد الفراهيدي](#)

5

سلطنة عمان

وزارة التربية والتعليم

المديرية العامة للتربية والتعليم لمحافظة شمال الباطنة

مدرسة صحار للبنين (10 - 12)

مذكرة اختبائية للدرس الأول

الفصل الدراسي الثاني

(سوق العمل)

الدراسات الاجتماعية للصف الثاني عشر

(هذا وطني)

إعداد المعلم الأول / أحمد الجبوري

معلم أول دراسات اجتماعية بمدرسة صحار للبنين

ملاحظة : عزيزي الطالب ستجد تكرار في بعض المعلومات ولكن بصيغ مختلفة وذلك بهدف تنوع صيغ الاسئلة

السؤال الأول : اختر الإجابة الصحيحة من بين البدائل المعطاة :

1. العبارة الصحيحة التي تمثل سوق العمل الراكد :

- أ- ارتفاع عدد الوظائف مقارنة بعدد الباحثين عن عمل .
- ب- ارتفاع عدد الباحثين عن عمل مقارنة بعدد الوظائف .
- ج- تساوي عدد الباحثين عن عمل مع عدد الوظائف .
- د- انخفاض عدد الباحثين عن عمل وعدد الوظائف .

2. العبارة الصحيحة التي تمثل سوق العمل المحكم :

- أ- انخفاض عدد الباحثين عن عمل وعدد الوظائف .
- ب- تساوي عدد الباحثين عن عمل مع عدد الوظائف .
- ج- ارتفاع عدد الوظائف مقارنة بعدد الباحثين عن عمل .
- د- ارتفاع عدد الباحثين عن عمل وعدد الوظائف .

3. تعتبر الخصائص السكانية المؤثرة على سوق العمل العماني من العوامل :

- أ- الديموغرافية
- ب- الاقتصادية
- ج- الثقافية والاجتماعية
- د- الجغرافية

4. تعتبر مشاركة المرأة في سوق العمل من العوامل :

- أ- الجغرافية
- ب- الديموغرافية
- ج- الاقتصادية
- د- الثقافية والاجتماعية

5. تعتبر الازمات المالية من العوامل التي تؤثر على سوق العمل في المجال :


- أ- الاقتصادي
- ب- الجغرافي
- ج- الديموغرافي
- د- السياسي والقانوني

6. جميع ما يلي من النتائج المترتبة على إعادة هيكلة المؤسسات الكبرى ماعدا :

- أ- اهتمام المؤسسات بتعيين أصحاب الخبرة والمهارة .
- ب- اختزال عمليات الإنتاج والتوزيع .
- ج- فقدان نسبة كبيرة من الوظائف .
- د- انخفاض اعداد الباحثين عن عمل .

7. من القطاعات الاستثمارية الواعدة في سوق العمل العماني :

- أ- السياحة
- ب- الثروة السمكية
- ج- التعدين
- د- كل ما ذكر صحيح

8. القطاع الاستثماري الواعد الذي يمثله الشكل التالي : 

أ- الصناعة التحويلية ب- السياحة ج- الثروة السمكية د- التعدين

9. الشكل الذي يمثل قطاع الخدمات اللوجستية في السلطنة :



10. من المشاريع الواعدة في سلطنة عمان مشروع محطة مسندم للطاقة الكهربائية ومعالجة الغاز بولاية :

أ- خصب ب- بخا ج- مدحا د- دبا

11. من الشركات التي تمثل الصناعة التحويلية في ولاية السنينة شركة :

أ- الصفا للألبان ب- النماء للدواجن ج- مزون للألبان د- الخمائل للألبان

12. من المشاريع الواعدة في السلطنة مشروع لوى للصناعات :

أ- البلاستيكية ب- التعدينية ج- البتروكيماوية د- الغذائية

13. الشكل التالي  يمثل أحد المشاريع الواعدة في سلطنة عمان في ولاية :

أ- صحار ب- مسقط ج- صور د- قريات

14. الولاية التي يمثلها الشكل التالي  كأحد المشاريع الواعدة في سلطنة عمان :

أ- محوت ب- المضبيي ج- صلالة د- الدقم

15. الشكل المناسب الذي يرمز إلى القطاع الذي يمثله مطار مسقط الدولي :



تابع السؤال الأول : اختر الإجابة الصحيحة من بين البدائل المعطاة :

16. من المشاريع الواعدة في سلطنة عمان مشروع صلالة ميثانول ل :

أ- الكبريت ب- الرصاص ج- الامونيا د- الزئبق

17. المشروع الذي يمثل الخدمات اللوجستية والذي يربط شمال عمان بمحافظة ظفار مشروع طريق :

أ- آدم - ثمرت ب- الباطنة السريع ج- بدبد - صور د- سناو - محوت - الدقم

18. من المبادرات والإجراءات التي تقوم بها السلطنة لتطوير سوق العمل العماني :

أ- إنشاء المديرية العامة للتشغيل ب- البرنامج الوطني للتطوير القيادي

ج- تطوير حزم حلول للقوى العاملة الوطنية د- كل ما ذكر صحيح

19. من المبادرات والإجراءات العمانية لتطوير سوق العمل إنشاء المديرية العامة للتشغيل ب وزارة :

أ- الداخلية ب- النقل والاسكان ج- التربية والتعليم د- العمل

20. الاجراء الذي يهدف إلى تمكين الإدارة العمانية الوسطى والعليا في القطاع الخاص :

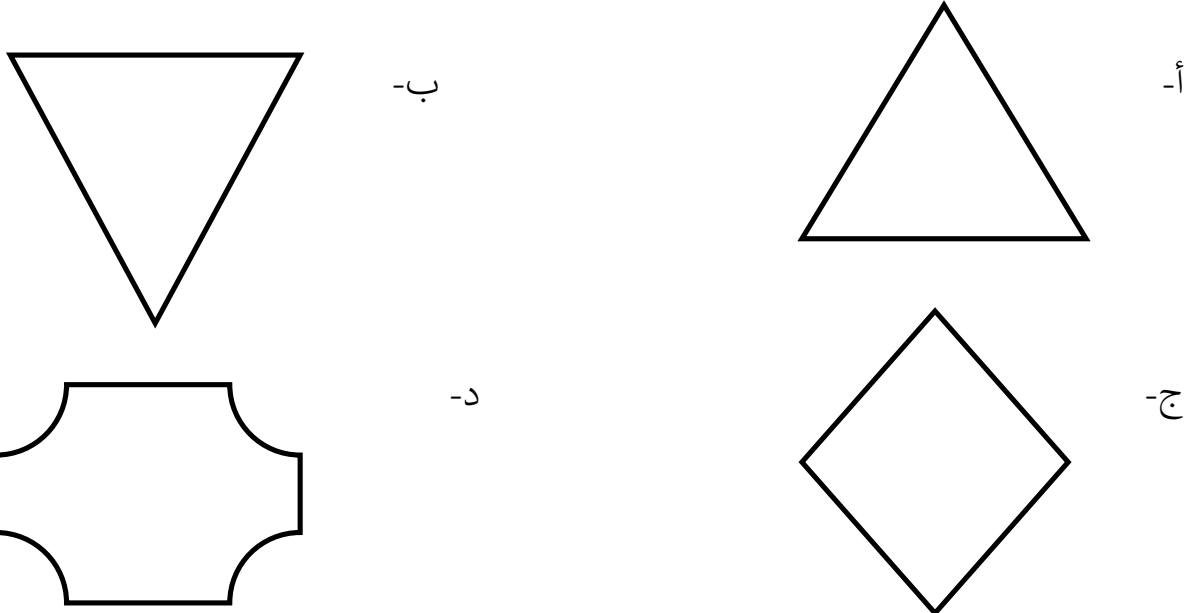
أ- إنشاء مديرية عامة للتشغيل ب- البرنامج الوطني للتطوير القيادي

ج- تنويع الاقتصاد د- منصة استثمر بسهولة

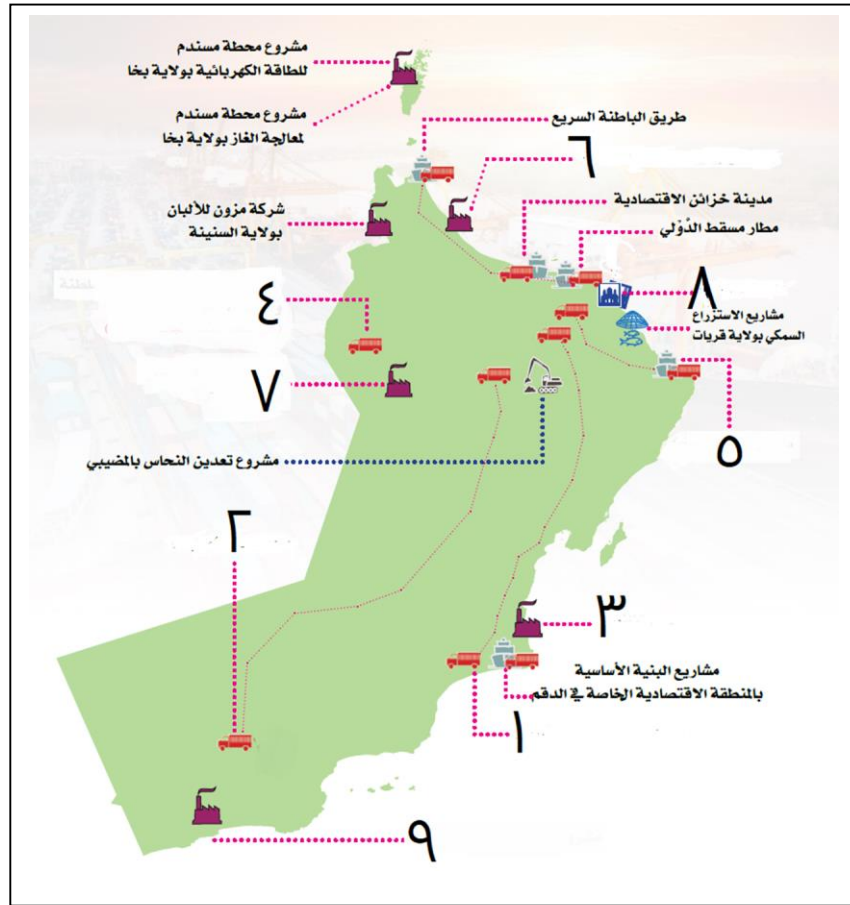
21. تم إنشاء وزارة العمل بالمرسوم السلطاني رقم :

أ- 2018 / 89 ب- 2019 / 89 ج- 2020 / 89 د- 2021 / 89

22. الشكل الذي يحاكي الهرم السكاني لسلطنة عمان لعام 1998 م :



-أدرس الخريطة التي أمامك ثم أجب عن ما يليها :



23. يشير الرقم (5) إلى طريق :

أ- سناو – محوت - الدقم ب- بدبد -صور ج- آدم - ثمرت د- الباطنة السريع

24. الطريق المشار إليه بالرقم (4) يربط بين سلطنة عمان و :

أ- دولة الامارات العربية المتحدة ب- جمهورية اليمن
ج- دولة قطر د- المملكة العربية السعودية

25- يوجد المشروع المشار إليه بالرقم (7) في محافظة :

أ- جنوب الباطنة ب- الظاهرة ج- البريمي د- الداخلية

26. الرقم الذي يشير إلى مشروع صلالة ميثانول للأومنيا :

أ- 1 ب- 2 ج- 9 د- 8

27. الرقم الذي يشير إلى مشروع مدينة العرفان :

أ- 8 ب- 6 ج- 7 د- 5

السؤال الثاني : أذكر اثنين من :

1- أنواع سوق العمل .

أ-
ب-

2- مكونات سوق العمل .

أ-
ب-

3- العوامل المؤثرة على سوق العمل العالمي .

أ-
ب-

4- العوامل الاقتصادية المؤثرة على سوق العمل العالمي .

أ-
ب-

5- العوامل الثقافية والاجتماعية المؤثرة على سوق العمل العالمي .

أ-
ب-

6- الأهداف التي تسعى المؤسسات الكبرى إلى تحقيقها عند إعادة الهيكلة .

أ-
ب-

7- الاثار الناتجة عن إعادة هيكلة المؤسسات الكبرى .

أ-
ب-

8- التحديات الناتجة عن إعادة هيكلة المؤسسات الكبرى .

أ-
ب-

تابع السؤال الثاني : أذكر اثنين من :

9- النتائج المأمول تحقيقها عند تنويع القطاعات الاقتصادية في سلطنة عمان .

أ-
ب-

10- القطاعات الاستثمارية الواعدة في سوق العمل العماني .

أ-
ب-

11- الإجراءات التي تقوم بها حكومة السلطنة لمواجهة التغيرات والتطورات التي تطرأ على المنظومة الاقتصادية العالمية .

أ-
ب-

السؤال الثالث : أكتب المصطلح أو التعريف المناسب لما يلي :

هو الذي يزيد فيه عدد الوظائف المتاحة عن عدد الباحثين عن عمل
هو الذي يزيد فيه عدد الباحثين عن عمل عن عدد الوظائف
.....	سوق العمل

السؤال الرابع : اعط مثالا واحدا على ما يلي :

1- المبادرات والإجراءات الحكومية لتطوير سوق العمل العماني.

.....

2- مشاريع قطاع الصناعات التحويلية بولاية بجا .

.....

3- أحد مشاريع قطاع الصناعات التحويلية في ولاية السنينة .

.....

4- أحد مشاريع التعدين في ولاية المضبيبي .

.....

تابع السؤال الرابع : اعط مثالا واحدا على ما يلي :

5- أحد مشاريع الصناعات التحويلية في ولاية عبري .

.....

6- أحد مشاريع قطاع الصناعات التحويلية في ولاية الدقم .

.....

السؤال الخامس : علل ما يلي (بم تفسر) :

1- تركز الجهات المعنية في السلطنة في الوقت الراهن على عدد من القطاعات الاقتصادية الواعدة .

.....

2- توجه المؤسسات الكبرى إلى إعادة هيكلتها.

.....

3- اهتمام السلطان هيثم بن طارق – حفظه الله ورعاه – بتطوير سوق العمل والتشغيل.

.....

السؤال السادس : ما الأثر المترتب على ما يلي :

1- فقدان نسبة كبيرة من الوظائف في العديد من المؤسسات الكبرى بعد إعادة هيكلتها .

.....

2- اهتمام المؤسسات بتعيين أصحاب الخبرة والمهارات الوظيفية بعد إعادة هيكلتها .

.....

3- تنوع القطاعات الاقتصادية والاستثمارية الواعدة في السلطنة .

.....

4- تأثر سوق العمل العماني بالتغيرات والتطورات التي تطرأ على المنظومة الاقتصادية العالمية .

.....

السؤال السابع :

1- قارن بين سوق العمل المحكم وسوق العمل الراكد من حيث : أ- الوظائف ب- عدد الباحثين عن عمل

سوق العمل الراكد	سوق العمل المحكم	
		الوظائف
		عدد الباحثين عن عمل

2- قارن بين سوق العمل المحكم وسوق العمل الراكد من حيث : أ- العرض ب- الطلب

سوق العمل الراكد	سوق العمل المحكم	
		العرض
		الطلب

السؤال الثامن : أجب عن التالي :

1- ناقش التالي : (تسعى حكومة السلطنة لتحقيق التنمية الاقتصادية المختلفة مع مراعاة العوامل الجغرافية)

.....

.....

2- (تسعى الحكومة لجعل القطاع الخاص أكثر جذبا للقوى العاملة العمانية) وضح ذلك .

.....

3- وضح الهدف من البرنامج الوطني للتطوير القيادي .

.....

4- أقترح عدد من الحلول لمواجهة التحديات في سوق العمل العماني .

.....

.....

5- اذكر أبرز التحديات التي تواجه سوق العمل العماني .

.....


السؤال التاسع : صنف المشاريع التالية بحسب القطاعات التي تنتمي إليها .

(مدينة العرفان – مشروع صلالة ميثانول للأمونيا – شركة مزون للألبان – طريق أدم ثمريت – مصفاة الدقم
– مشروع نما للدواجن – طريق الباطنة السريع – مدينة خزائن الاقتصادية)

قطاع الخدمات اللوجستية	قطاع السياحة	قطاع الصناعات التحويلية

السؤال العاشر : ادرس الاشكال التالية :

أ- الشكل التالي يمثل الاهرام السكانية لسلطنة عمان ادرسها جيدا ثم أجب عن ما يليها :



1- صف الوضع السكاني لسلطنة عمان بحسب الهرم السكاني لعام 1998 م .

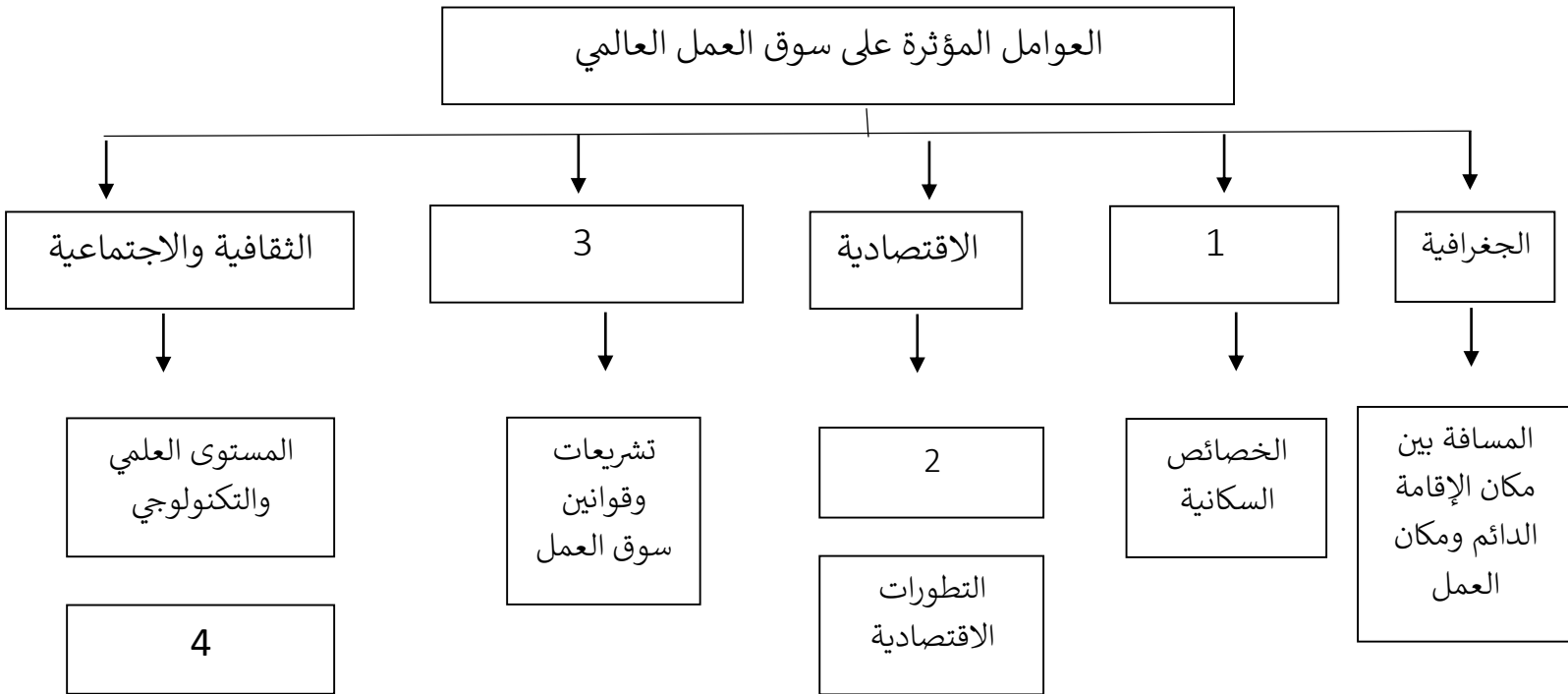
2- أكتب رقم الفئة السكانية التي شهدت تغير واضح بين الهرمين السكانيين.

3- برأيك ما أثر التغير السكاني بين الهرمين على سوق العمل العماني .

تابع السؤال العاشر : ادرس الاشكال التالية :

ب- أكتب ما تمثله الأرقام في الشكل التخطيطي التالي الذي يمثل العوامل المؤثرة على سوق العمل العالمي .

1 : 2 : 3 : 4 :



ج- الشكل التالي يمثل القطاعات الاستثمارية في سوق العمل العماني . أدرسه جيدا ثم أجب عن التالي :

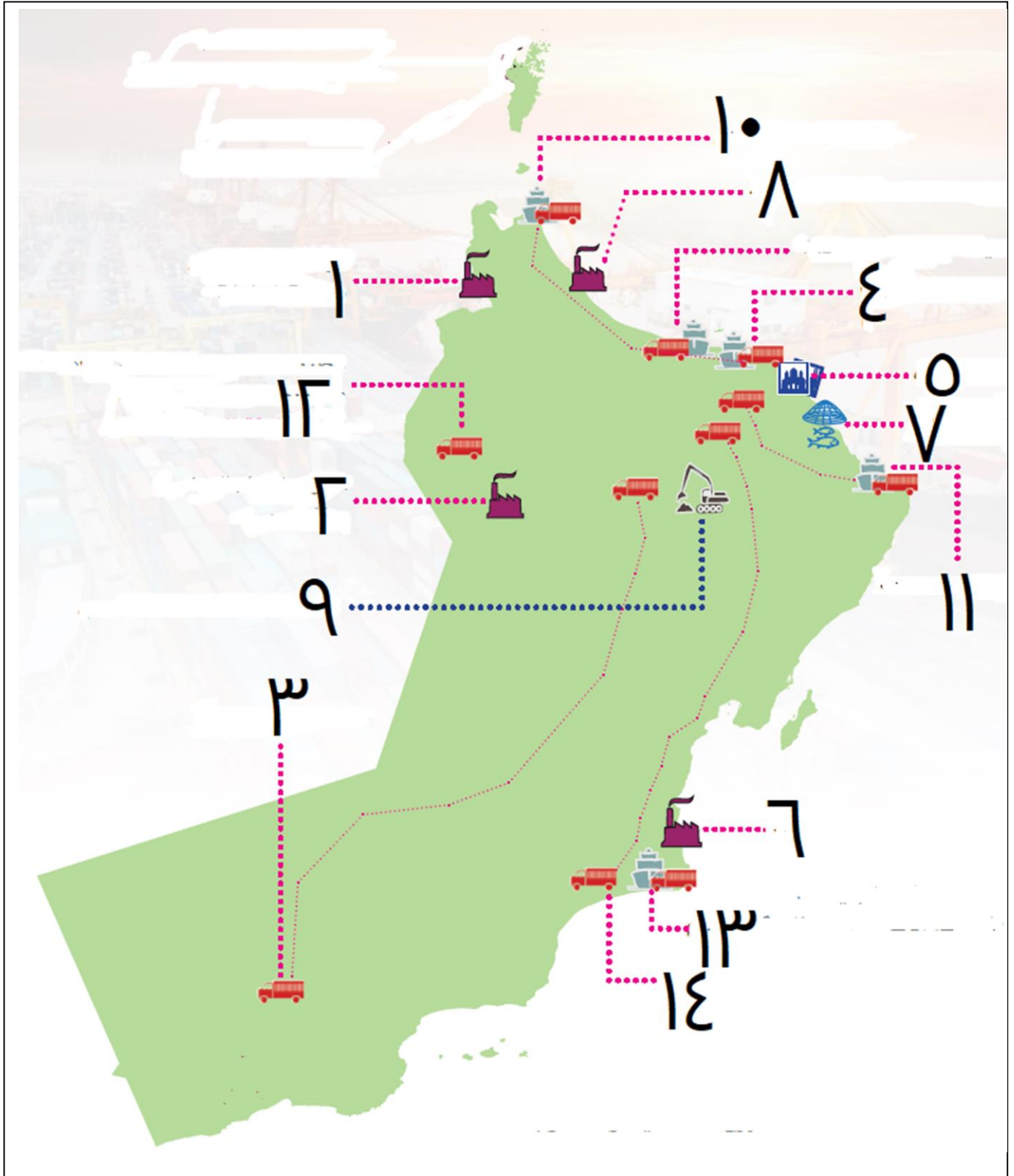
سم القطاعات المشار إليها بالأرقام التالية :

القطاع	الرقم
.....	1
.....	2
.....	3



السؤال الحادي عشر: أدرس الخريطة التالية :

1- بعد دراستك للخريطة التالية أجب عن ما يلي :



تابع السؤال الحادي عشر: أدرس الخريطة التالية :

أولا - أكتب ما تشير إليه الأرقام التالية على الخريطة :

1- شركة

2- مشروع

3- طريق

4- مطار

5- مدينة

ثانيا - وقع على الخريطة ما يلي مستخدما الرموز التالية :

1- مشروع صلالة ميثانول للأمونيا ▲

2- مشروع محطة مسندم للطاقة الكهربائية ●

ثالثا - سم المحافظات التي توجد بها المشاريع المشار إليها بالأرقام التالية :

المحافظة	رقم المشروع
.....	6
.....	8
.....	9
.....	7

نموذج الإجابة

السؤال الأول :

9	8	7	6	5	4	3	2	1	المفردة
ج	ب	د	د	أ	د	أ	ج	ب	الإجابة
-	السياحة	كل ماذكر صحيح	-	الاقتصادي	الثقافية والاجتماعية	الديموغرافية	-	-	

18	17	16	15	14	13	12	11	10	المفردة
د	أ	ج	ج	ب	د	أ	ج	ب	الإجابة
كل ماذكر صحيح	أدم - ثمرت	الأمونيا	-	المضبي	قريات	البلاستيكية	مزون للألبان	بخا	

27	26	25	24	23	22	21	20	19	المفردة
أ	ج	ب	د	ب	أ	ج	ب	د	الإجابة
8	9	الظاهرة	السعودية	بدبد صور	-	2020/89	-	العمل	

السؤال الثاني :

- 1- أ - سوق العمل المحكم ب- سوق العمل الراكد
- 2- أ- القوى العاملة ب- فرص العمل المتاحة
- 3- أ-العوامل الجغرافية ب-العوامل الديموغرافية ج-العوامل الاقتصادية د-العوامل السياسية والقانونية هـ -العوامل الثقافية والاجتماعية
- 4- أ-الازمات المالية ب-التطورات الاقتصادية
- 5- أ-المستوى العلمي والتكنولوجي ب-العادات والتقاليد ومشاركة المرأة
- 6- أ-تحقيق أرباح عالية ب-مواجهة المنافسة الدولية
- 7- أ-فقدان نسبة كبيرة من الوظائف ب-اهتمام المؤسسات بتعيين أصحاب الخبرة والمهارات ج-اختزال عمليات الإنتاج والتوزيع في ظل الاعتماد على التقنية الحديثة .

تابع السؤال الثاني :

- 8- أ- ارتفاع عدد الباحثين عن عمل ب- عدم امتلاك بعض المخرجات العلمية للمهارات الوظيفية
9- أ- تسهم في الناتج المحلي الاجمالي ب- تساعد على تنويع مصادر الدخل
10- أ-الصناعة التحويلية ب- السياحة ج- الثروة السمكية د- التعدين هـ - الخدمات اللوجستية
11- أ- تحسين القوانين والسياسات والأنظمة ب- تنمية وتدريب الموارد البشرية
ج- تقليل الفجوة بين السياسات والأنظمة ومتطلبات سوق العمل .

السؤال الثالث :

هو الذي يزيد فيه عدد الوظائف المتاحة عن عدد الباحثين عن عمل	<u>سوق العمل المحكم</u>
هو الذي يزيد فيه عدد الباحثين عن عمل عن عدد الوظائف	<u>سوق العمل الراكد</u>
<u>سوق افتراضي نظري يتضمن القوى العاملة وفرص العمل المتاحة</u>	سوق العمل

السؤال الرابع :

- 1- أ- تطوير حزم الحلول للقوى العاملة الوطنية في قطاع التنويع الاقتصادي المستهدفة
ب- جعل القطاع الخاص أكثر جذبا للقوى العاملة من خلال تطوير الاشتراطات والمعايير والمزايا لبيئة العمل
ج- إنشاء المديرية العامة للتشغيل بوزارة العمل .
د- البرنامج الوطني للتطوير القيادي من أجل تمكين الإدارات العمالية العليا والوسطى في القطاع الخاص .
2- أ- مشروع محطة مسندم للطاقة الكهربائية .
ب- محطة مسندم لمعالجة الغاز .
3- مشروع شركة مزون للألبان .
4- مشروع تعدين النحاس .
5- مشروع النماء للدواجن .
6- مصفاة الدقم .

السؤال الخامس :

- 1- تسهم في الناتج المحلي الاجمالي - تساعد على تنويع مصادر الدخل
- 2- بسبب التغيرات التي طرأت على سوق العمل العالمي - تحقيق أرباح عالية - مواجهة المنافسة الدولية
- 3- كونه ركيزة أساسية من ركائز الاقتصاد الوطني .

السؤال السادس :

- 1- ارتفاع عدد الباحثين عن عمل .
- 2- عدم امتلاك بعض المخرجات التعليمية للمهارات الوظيفية اللازمة لسوق العمل .
- 3- من المأمول أن تسهم في الناتج المحلي الاجمالي - تساعد على تنويع مصادر الدخل
- 4- دفع حكومة السلطنة إلى اتخاذ سلسلة من الإجراءات لمواكبة تلك التطورات .

السؤال السابع :

-1

سوق العمل المحكم	سوق العمل الراكد	
أكثر	أقل	الوظائف
أقل	أكثر	عدد الباحثين عن عمل

-2

سوق العمل المحكم	سوق العمل الراكد	
أقل	أكثر	العرض
أكثر	أقل	الطلب

السؤال الثامن :

- 1- من خلال طرح حزمة من المشاريع لتنميتها موزعة على مختلف محافظات السلطنة .
- 2- من خلال تطوير الاشتراطات والمعايير والمزايا المتعلقة ببيئة العمل في الشركات .
- 3- من أجل تمكين الإدارات العمالية الوسطى والعليا في القطاع الخاص .
- 4- تدريب وتأهيل الكوادر العمالية – دعم المشاريع الصغيرة والمتوسطة – التعمين – موائمة قوانين القطاع الخاص والقطاع الحكومي – تشجيع الاستثمار . (أو ما يفيد المعنى)
- 5- ارتفاع عدد الباحثين عن عمل – سيطرة العمالة الوافدة – انخفاض الأجور . (أو ما يفيد المعنى)

السؤال التاسع :

- (مدينة العرفان – مشروع صلالة ميثانول للأمونيا – شركة مزون للألبان – طريق آدم ثمرت – مصفاة الدقم – مشروع نماء للدواجن – طريق الباطنة السريع – مدينة خزائن الاقتصادية)

قطاع الخدمات اللوجستية	قطاع السياحة	قطاع الصناعات التحويلية
-طريق آدم ثمرت -طريق الباطنة السريع -مدينة خزائن الاقتصادية	-مدينة العرفان	-مشروع صلالة ميثانول للأمونيا -شركة مزون للألبان -مصفاة الدقم -مشروع نماء للدواجن

السؤال العاشر :

أ-

- 1- يتميز الهرم السكاني بالقاعدة العريضة التي تدل على ارتفاع نسبة صغار السن في المجتمع مقارنة ببقية الفئات السكانية .

2- (2)

- 3- زيادة فئة الشباب في الهرم السكاني لعام 2018 م مما أدى إلى الضغط على الوظائف وارتفاع نسبة الباحثين عن عمل .

تابع السؤال العاشر:

- ب- 1- العوامل الديموغرافية 2- الازمات الاقتصادية 3- العوامل السياسية والقانونية
4- العادات والتقاليد ومشاركة المرأة

ج-

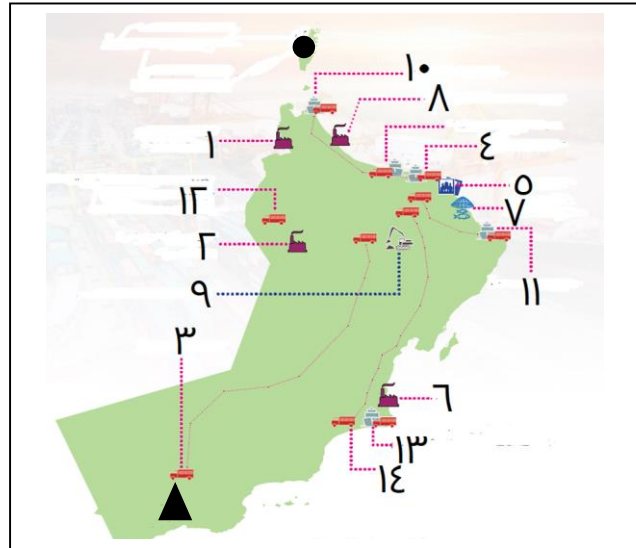
الرقم	القطاع
1	<u>الصناعات التحويلية</u>
2	<u>السياحة</u>
3	<u>التعدين</u>

السؤال الحادي عشر:

أولا - أكتب ما تشير إليه الأرقام التالية على الخريطة :

- 1- شركة مزون للألبان
- 2- مشروع النماء للدواجن
- 3- طريق آدم - ثمرت
- 4- مطار مسقط الدولي
- 5- مدينة العرفان

ثانيا -



ثالثا -

المحافظة	رقم المشروع
الوسطى	6
شمال الباطنة	8
شمال الشرقية	9
مسقط	7