

تم تحميل هذا الملف من موقع المناهج العمانية



الملف أوراق عمل مقارنة وترتيب الأعداد مع نشاط صفي

[موقع المناهج](#) ⇐ [المناهج العمانية](#) ⇐ [الصف الثاني](#) ⇐ [رياضيات](#) ⇐ [الفصل الثاني](#)

روابط مواقع التواصل الاجتماعي بحسب الصف الثاني



روابط مواد الصف الثاني على تلغرام

[الرياضيات](#)

[اللغة الانجليزية](#)

[اللغة العربية](#)

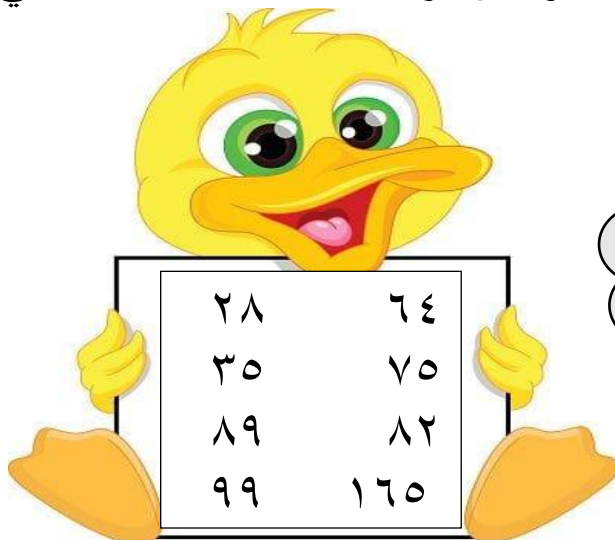
[التربية الاسلامية](#)

المزيد من الملفات بحسب الصف الثاني والمادة رياضيات في الفصل الثاني

كتاب التلميذ وفق منهج كامبردج	1
كتاب دليل المعلم وفق منهج كامبردج	2
كتاب النشاط وفق منهج كامبردج	3
كراسة المتميز في الرياضيات	4
مذكرة سلسلة تعلم وامرح التعليمية	5

اسمي :

مقارنة و ترتيب الأعداد



ساعد بطبوط في
المقارنة بين الأعداد
بوضع < أو >

١ - العدد الأكبر من ٤٥ هو :

٦١ ○ ٤٣ ○ ٢٨ ○ ٣٩ ○

٢ - العدد المناسب لإكمال العبارة التالية ٧١ < < ٦٣ هو :

٥٩ ○ ٧٢ ○ ٦٧ ○ ٦١ ○

٣ - أكتب ثلاث أعداد زوجية أكبر من ٣٧ و أصغر من ٤٩

.....

٤ - أكتب ثلاث أعداد أصغر من ٦٧ .

.....

٥ - أنا أكمل بوضع العدد المناسب :

..... < ٣٥ > < ٧٤ < < ٥٩ > > ٣٩ > ٥١

٦ - ضع إشارة < أو > أو =

٢٥ ... ١٩ ٧٤ ٤٩ ٧١ ٦٢

٧ - أنا أرتب الأعداد التالية من الأصغر إلى الأكبر

أ - ٨٥ ٣٩ ٢٧ ٧١ ٨٤

.....

ب - ٨٥ ٢٩١ ٧٧ ٣١٢ ١٠٤

.....



هل ما تقوله سعاد صحيح ؟

فسر :

..... < ٣١
العدد المناسب لوضعه في الفراغ هو
٢٩ لأن الرقم ٩ في ٢٩ أكبر من ١
في العدد ٣١ .


قام خالد بالمقارنة بين الأعداد بوضع < و > ولكنه أخطأ في
بعض العبارات . اكتشف مكان الإشارات الخطأ و صححه .

$$٢٥ > ٢٥$$

$$٩٥ < ٥٩$$

$$٦١ > ٦٣$$

$$٨١ > ٤٢$$



١١ - مراجعة الجمع و الطرح :

$$..... = ١٠ + ٣٨$$

$$..... = ١٢ + ٧$$

$$..... = ٤ + ٧٦$$

$$..... = ٧ + ٧٣$$

$$..... = ١٠ + ٦٣$$

$$..... = ٦ + ٢٨$$

$$..... = ١٠ - ٣٨$$

$$..... = ٧ - ١٢$$

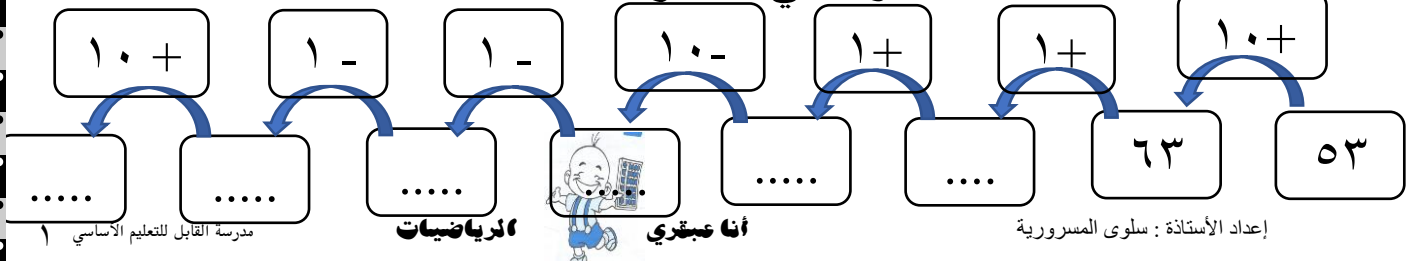
$$..... = ٤ - ٧٦$$

$$..... = ٧ - ٧٣$$

$$..... = ١٠ - ٦٣$$

$$..... = ٦ - ٢٨$$

١٢ - أكمل السلسلة حسب المطلوب في كل مرة :



اكبر من < معناها اكبر من مثل $33 < 45$

اقل من > معناها اقل من مثل $45 > 33$

عند المقارنة لابد ان نتأكد من تساوى المنازل أولاً ثم نبدا بالمنزلة الأكبر لانها هي التي تحدد هل الرقم اكبر ام اصغر.

1- قارن بين الاعداد الاتية بوضع < او > او =

34 ○ 67

36 ○ 45

50 ○ 40

99 ○ 90

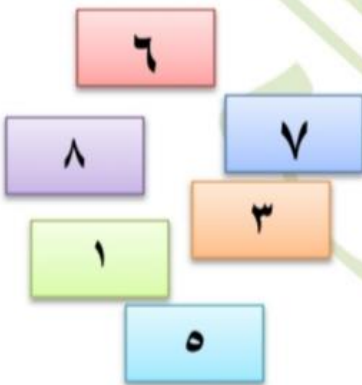
56 ○ 16

34 ○ 13

78 ○ 89

96 ○ 68

لدى حمزة البطاقات الاتية



كون اكبر عدد من رقمين من هذه الأرقام -----

كون اصغر عدد ممكن من منزلتين -----

اكبر عدد زوجى من منزلتين هو -----

اكبر عدد فردى من منزلتين هو -----

3- اجب عن الاتى (رفع اليدين)

اذكر عددا اكبر من 35 وعددا اقل من 68