

شكراً لتحميلك هذا الملف من موقع المناهج العمانية



أنشطة لدرس الضعف

[موقع المناهج](#) ⇨ [المناهج العمانية](#) ⇨ [الصف الثاني](#) ⇨ [رياضيات](#) ⇨ [الفصل الثاني](#) ⇨ [الملف](#)

تاريخ نشر الملف على موقع المناهج: 2023-04-03 06:51:47 | اسم المدرس: سندس الشكيلية

التواصل الاجتماعي بحسب الصف الثاني



روابط مواد الصف الثاني على تلغرام

[الرياضيات](#)

[اللغة الانجليزية](#)

[اللغة العربية](#)

[التربية الاسلامية](#)


المزيد من الملفات بحسب الصف الثاني والمادة رياضيات في الفصل الثاني

نموذج اختبار قصير	1
أنشطة لدرس الضعف	2
مراجعة درس العد أربعيات	3
مراجعة درس العد ثلاث	4
اختبار قصير أول	5

أنشطة لدرس الضعف


إعداد: أ. سندس الشكيلية
معلمة مجال ثانٍ

 @buram.om



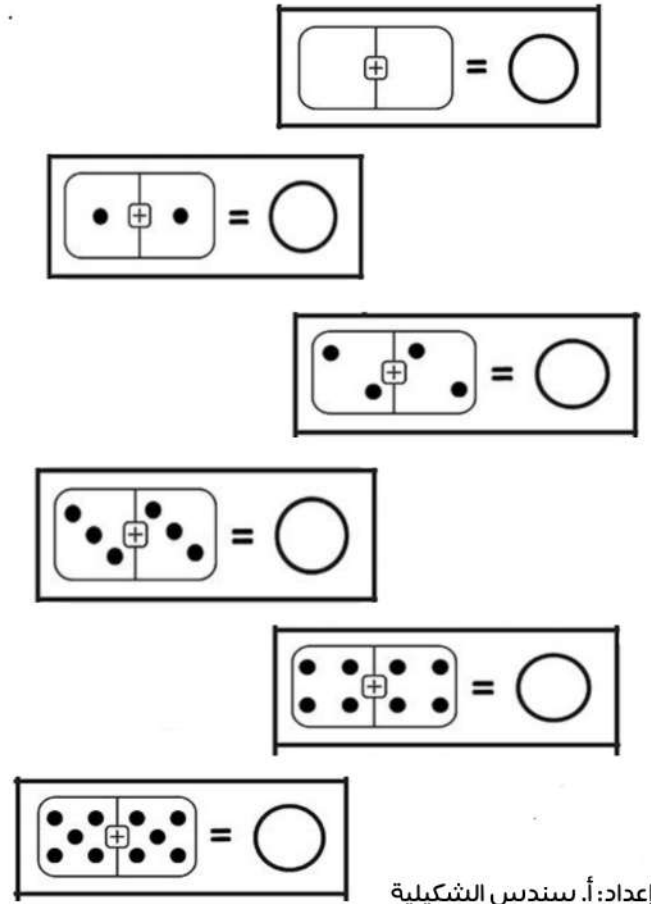
لَوْنِ يَا مُبَدِع

الضفدع الذي يمثل الجملة العددية الصحيحة للضعف



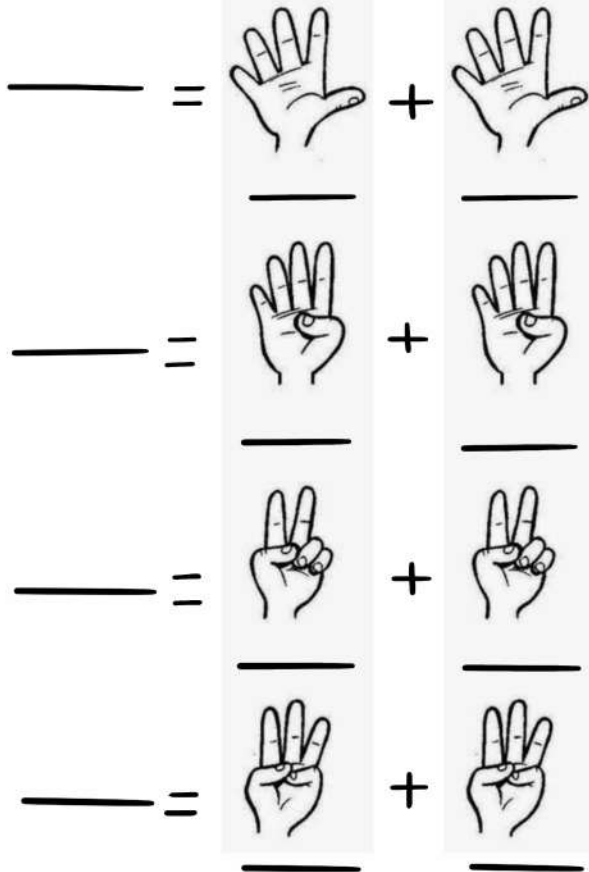
إعداد: أ. سندس الشكيلية

من خلال قطع الدومينو اكتب يا عبقرى ناتج الضعف




إعداد: أ. سندس الشكيلية

اكتب الجملة العددية الصحيحة :




هيا يا ذكي، ارسم الدوائر في النصف الآخر واكتب الجملة العددية الصحيحة للضعف



إعداد: أ. سندس الشكيلية

ساعدوا سالم في إكمال حل السؤال



إعداد: أ. سندس الشكيلية

قالت سعاد أن ضعف عدد البالونات التي
يحملها المهرج هي ٧
هل ما قالته سعاد صحيح؟

نعم لا

فسر إجابتك



إعداد: أ. سندس الشكيلية


عبارة الصف الأول، ساعدوا نور في إيجاد
ضعف الأعداد الموجودة لديها

٦

٤

١٠

٨





إعداد: أ. سندس الشكيلية

رسم كل من أحمد ومحمد ضعف
العدد 0، أيهما على صواب؟

محمد

أحمد



١٠ = 0 + 0 فسّر إجابتك

١٠ = ٦ + 0



أوجد ضعف عدد الكرات
التي لدى عمّر

إعداد: أ. سندس الشكيلية