

تم تحميل هذا الملف من موقع المناهج العُمانية



*للحصول على أوراق عمل لجميع الصفوف وجميع المواد اضغط هنا

<https://almanahj.com/om>

* للحصول على أوراق عمل لجميع مواد الصف الثاني اضغط هنا

<https://almanahj.com/om/2>

* للحصول على جميع أوراق الصف الثاني في مادة علوم ولجميع الفصول, اضغط هنا

<https://almanahj.com/om/2science>

* للحصول على أوراق عمل لجميع مواد الصف الثاني في مادة علوم الخاصة بـ الفصل الأول اضغط هنا

<https://almanahj.com/om./2science1>

* لتحميل كتب جميع المواد في جميع الفصول للـ الصف الثاني اضغط هنا

<https://almanahj.com/om./grade2>

* لتحميل جميع ملفات المدرس فاطمة المسكرية ، بثينة الراسبية ، نورة الراسبية ، مريم المشايخة ، مريم السندية اضغط هنا

للتحدث إلى بوت المناهج العمانية على تلغرام: اضغط هنا

https://t.me/omcourse_bot



سِاطَنَةُ عَمَّانَ
مَكْتَبَةُ التَّحْقِيقِ وَالتَّعْلِيمِ

ثانیا :

العلوم كتاب التلميذ

٢

الثاني

المعلومات المعدات لأدوات التقييم

أ. بثينة الراسبية / أ. نورة الراسبية

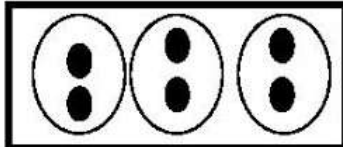
أ. مريم السعيدية / أ. مريم المشايخية

متابعة مشرفة التقييم / فاطمة المسكربة

الفصل الدراسي الأول

لغة العربية ١٤٢٨ هـ - ٢٠١٧ م

CAMBRIDGE
UNIVERSITY PRESS

المفردة	الاجابة	الدرجة	مستوى التعليم	الهدف
١	٢٠	١	معرفة	2Nn9
٢	<div style="border: 1px solid black; padding: 5px; display: inline-block; margin-bottom: 10px;">٤٠</div> <div style="border: 1px solid black; padding: 5px; display: inline-block;">٥٠</div>	2	معرفة	2Nn8
٣		١	تطبيق	2Nc16
4	$٢١ = ٦ + ٥ + ٧ + ٣$	١	تطبيق	2NC8

٥

١) ظلل الشكل البيضاوي يمين الاجابه الصحيحه (درجه):-

- من المواد التي يتم ثنيها بالتسخن:-

○ الصلصال ○ بالونه ○ الفوطه ○ الحديد

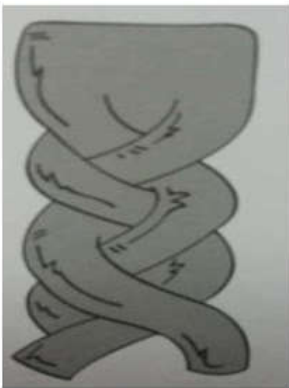
٢) أكمل الفراغ:- (درجتان)

أ) الماء يصبح ثلج بـ _____

ب) تذوب الشمعه بـ _____

٣) ادرس الصورة جيدا ثم اجب عن ما يلي : (درجتان)

أ) ما سبب التغير الحاصل في الصلصال ؟



ب) هل يمكن تغييره الى شكل اخر ؟

نموذج أجابة السؤال القصير (٢) لمادة العلوم للصف الثاني

المفردة	الاجابة	الدرجة	مستوى التعليم	الهدف
١	الحديد	١	معرفة	الثني والي
٢	أ)التبريد ب)التسخين	٢	معرفة	التسخين والتبريد
٣	أ)اللي ب)نعم	٢	تطبيق	تغير شكل المواد

٥

(١) ظل الشكل البيضاوي يمين الإجابة الصحيحة : (درجه)

- الرمز المستخدم في الطقس المثلج هو



(٢) أكمل الفراغ بكلمه واحده:- (درجتان)

أ) يعيش الجمل في البيئة _____


ب) تعتبر _____ من الطقس القاسي

(درجتان)

٣) صنف المواد التاليه (الزجاج - الخشب - الورق - الماء) الى مواد طبيعيه ومواد صناعيه

المواد الطبيعية	المواد الصناعية

نموذج أجابة السؤال القصير (١) لمادة العلوم للصف الثاني

الهدف	مستوى التعليم	الدرجة	الاجابة	الم فردة				
الطقس	معرفة	١		١				
البيئة الطقس (طقس قاسي)	معرفة	٢	(أ) الصحراء (ب) العاصف أو أعصار	٢				
المواد الطبيعية والمواد الصناعية	تطبيق	٢ إذا الكل صحيحة (صنف ٣ أو اثنتين يأخذ درجة واحدة/ إذا واحدة صحيحة يأخذ صفر	<table border="1"> <thead> <tr> <th>المواد الصناعية</th> <th>المواد الطبيعية</th> </tr> </thead> <tbody> <tr> <td>الزجاج الورق</td> <td>الخشب الماء</td> </tr> </tbody> </table>	المواد الصناعية	المواد الطبيعية	الزجاج الورق	الخشب الماء	٣
المواد الصناعية	المواد الطبيعية							
الزجاج الورق	الخشب الماء							