

أوراق عمل على درس الكسور (أجزاء من الكل _ الربع _ ثلاث أرباع)



تم تحميل هذا الملف من موقع المناهج العمانية

موقع فايلاتي ← المناهج العمانية ← الصف الثاني ← رياضيات ← الفصل الثاني ← ملفات متنوعة ← الملف

تاريخ إضافة الملف على موقع المناهج: 2025-04-02 16:10:35

ملفات اكتب للمعلم اكتب للطالب ا اختبارات الكترونية ا اختبارات ا حلول ا عروض بوربوينت ا أوراق عمل
منهج انجليزي ا ملخصات وتقارير ا مذكرات وبنوك ا الامتحان النهائي ا للمدرس

المزيد من مادة
رياضيات:

التواصل الاجتماعي بحسب الصف الثاني



صفحة المناهج
العمانية على
فيسبوك

الرياضيات

اللغة الانجليزية

اللغة العربية

التربية الاسلامية

المواد على تلغرام

المزيد من الملفات بحسب الصف الثاني والمادة رياضيات في الفصل الثاني

أوراق عمل على درس العد ثلاثات

1

أوراق عمل على درس العد اثنانات وخمسات وعشرات

2

ملخص شرح درس الأعداد المتجاورة مع أسئلة تدريبية

3



ملخص شرح درس الأعداد المجاورة

4

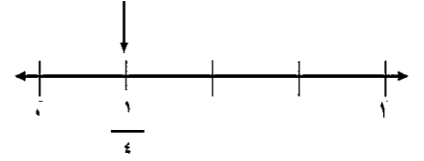
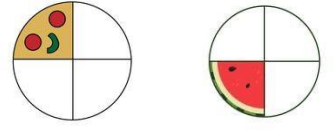
تمارين على درس العد ثلاثات

5

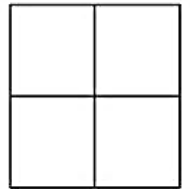
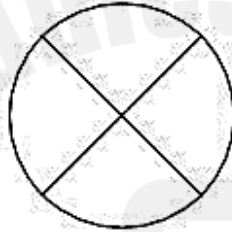
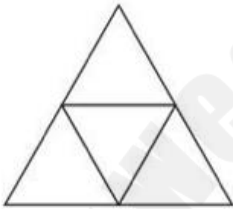
(ثلاثة أرباع : $\frac{3}{4}$)



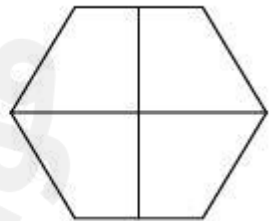
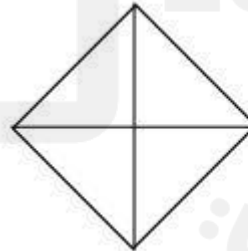
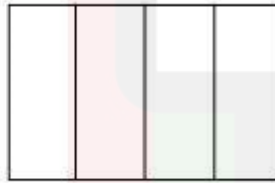
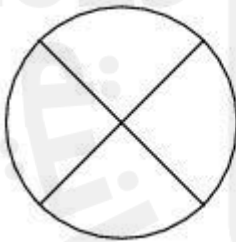
(الربع : $\frac{1}{4}$)



١ (لون الربع في الأشكال التالية ؟)



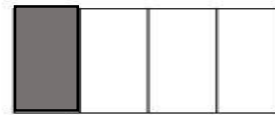
٢ (لون ثلاثة أرباع الشكل ؟)




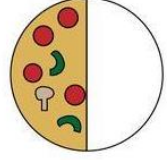



٣ (أكتب الكسر من الأشكال التالية :)



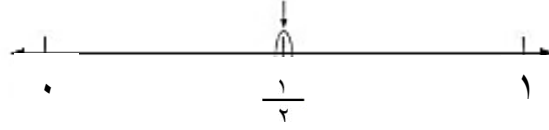




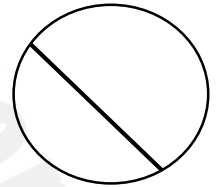
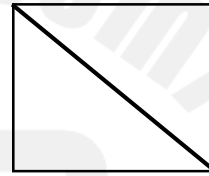
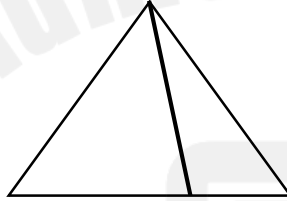
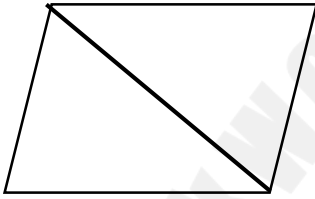




النصف هو جزء من شيء قسم الى قطعتين متساويتين ويكتب : $\frac{1}{2}$
النصف على خط الاعداد يقع في منتصف المسافة بين عددين كاملين صحيحين



١ (ضع علامة () تحت الشكل المقسم الى قسمين متساويين ؟)



٢ (قسم الأشكال التالية الى نصفين متساويين ثم أكتب الكسر نصف ؟)

