

تم تحميل هذا الملف من موقع المناهج العمانية



الملف أوراق عمل جمع الأعداد المكونة من منزلتين باستخدام خط الأعداد والتجزئة

[موقع المناهج](#) ⇐ [المناهج العمانية](#) ⇐ [الصف الثاني](#) ⇐ [رياضيات](#) ⇐ [الفصل الثاني](#)

روابط مواقع التواصل الاجتماعي بحسب الصف الثاني



روابط مواد الصف الثاني على تلغرام

[الرياضيات](#)

[اللغة الانجليزية](#)

[اللغة العربية](#)

[التربية الاسلامية](#)

المزيد من الملفات بحسب الصف الثاني والمادة رياضيات في الفصل الثاني

كتاب التلميذ وفق منهج كامبردج	1
كتاب دليل المعلم وفق منهج كامبردج	2
كتاب النشاط وفق منهج كامبردج	3
كراسة المتميز في الرياضيات	4
مذكرة سلسلة تعلم وامرح التعليمية	5

اسمي :

الجمع باستخدام خط الأعداد و التجزئة

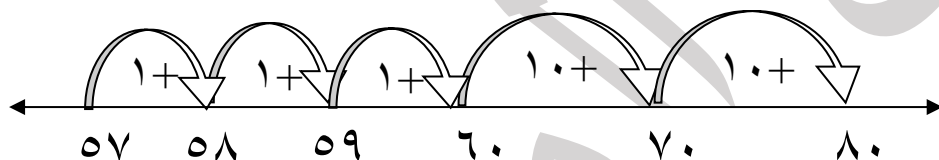


أولاً : الجمع باستخدام خط الأعداد :

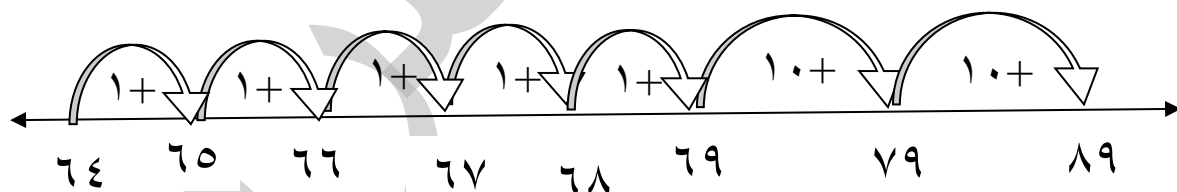
١ - قرأ خالد ٤٨ صفحة في اليوم الأول و ٢٧ صفحة في اليوم الثاني . كم عدد الصفحات التي قرأها خالد في اليومين؟
أوجد الناتج باستخدام خط الأعداد .

٢ - يحل أحمد مسائل الجمع باستخدام خط الأعداد و لكنه تسرع و لم ينتبه فأخطأ في الحل .
اكتشف مكان الخطأ و صححه .

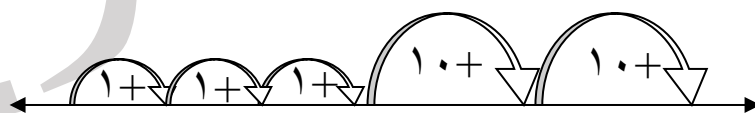
$$أ - ٥٧ + ٢٤$$



$$ب - ٦٤ + ٣٥ =$$



٣ - عملية الجمع التي يمثلها خط الأعداد التالي هي :



$$د - ٣٥ + ٣٣$$

$$ج - ٣٥ + ٥$$

$$ب - ٣٥ + ٢٣$$

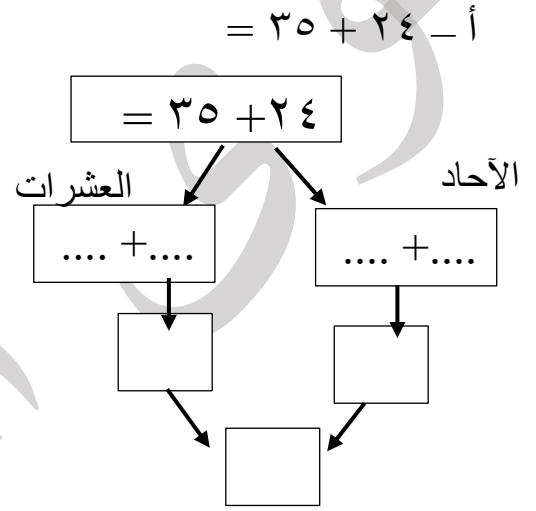
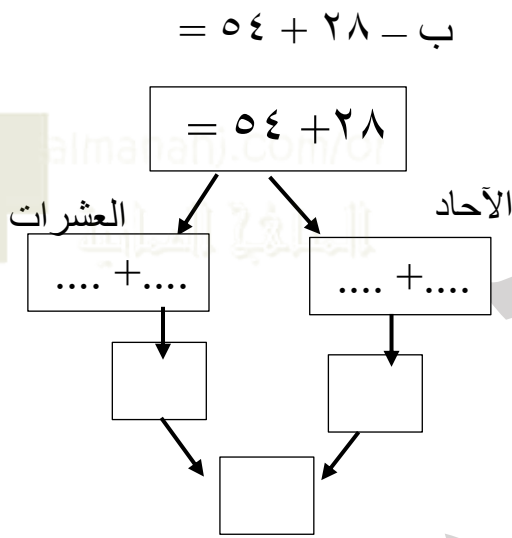
$$أ - ٢٥ + ٣٢$$



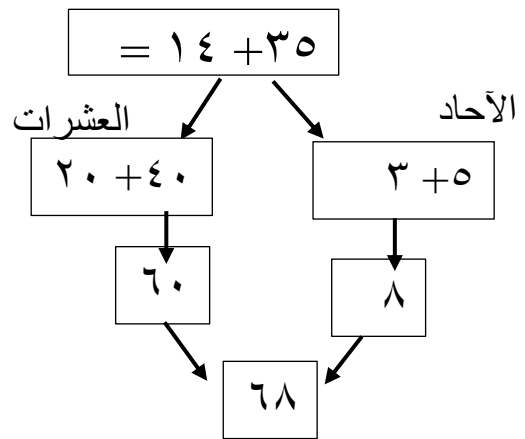
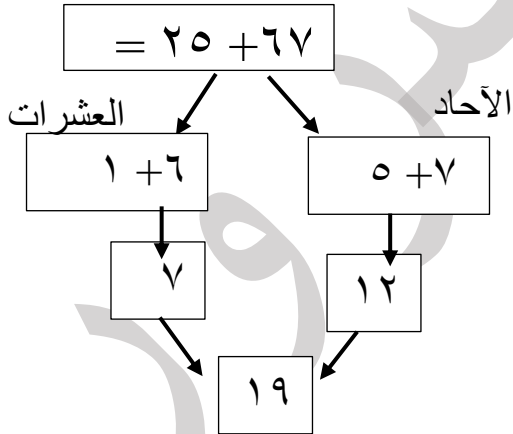
٤ - باع مقصف المدرسة يوم الأحد ٥٨ علبة عصير و باع يوم الاثنين ٢٥ علبة .
كم علبة باع المقصف يومي الأحد و الاثنين ؟

ثانيا : الجمع باستخدام التجزئة :

١ - أوجد حاصل الجمع باستخدام التجزئة :



١ - اكتشف الخطأ و صححه :



ثالثا : الجمع باستخدام الأزواج العددية للعشرة :

١ - أوجد حاصل الجمع باستخدام الأزواج العددية للعشرة . .

$28 + 26 =$

$48 + 24 =$

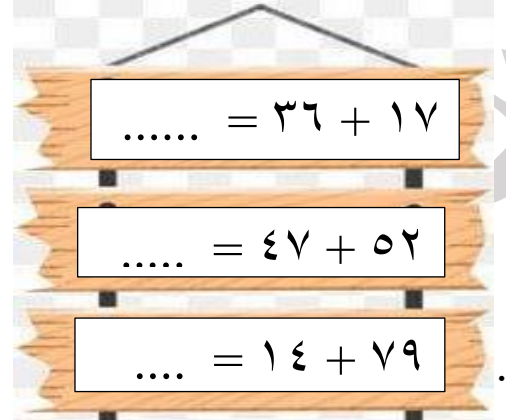
$36 + 17 =$




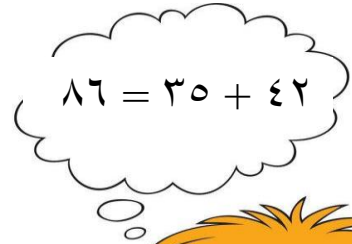
رابعاً : الجمع باستخدام لوحة المائة :

٥ - استخدم لوحة المائة
لحل مسائل الجمع التالية .

١٠	٩	٨	٧	٦	٥	٤	٣	٢	١
٢٠	١٩	١٨	١٧	١٦	١٥	١٤	١٣	١٢	١١
٣٠	٢٩	٢٨	٢٧	٢٦	٢٥	٢٤	٢٣	٢٢	٢١
٤٠	٣٩	٣٨	٣٧	٣٦	٣٥	٣٤	٣٣	٣٢	٣١
٥٠	٤٩	٤٨	٤٧	٤٦	٤٥	٤٤	٤٣	٤٢	٤١
٦٠	٥٩	٥٨	٥٧	٥٦	٥٥	٥٤	٥٣	٥٢	٥١
٧٠	٦٩	٦٨	٦٧	٦٦	٦٥	٦٤	٦٣	٦٢	٦١
٨٠	٧٩	٧٨	٧٧	٧٦	٧٥	٧٤	٧٣	٧٢	٧١
٩٠	٨٩	٨٨	٨٧	٨٦	٨٥	٨٤	٨٣	٨٢	٨١
١٠٠	٩٩	٩٨	٩٧	٩٦	٩٥	٩٤	٩٣	٩٢	٩١



١٠	٩	٨	٧	٦	٥	٤	٣	٢	١
٢٠	١٩	١٨	١٧	١٦	١٥	١٤	١٣	١٢	١١
٣٠	٢٩	٢٨	٢٧	٢٦	٢٥	٢٤	٢٣	٢٢	٢١
٤٠	٣٩	٣٨	٣٧	٣٦	٣٥	٣٤	٣٣	٣٢	٣١
٥٠	٤٩	٤٨	٤٧	٤٦	٤٥	٤٤	٤٣	٤٢	٤١
٦٠	٥٩	٥٨	٥٧	٥٦	٥٥	٥٤	٥٣	٥٢	٥١
٧٠	٦٩	٦٨	٦٧	٦٦	٦٥	٦٤	٦٣	٦٢	٦١
٨٠	٧٩	٧٨	٧٧	٧٦	٧٥	٧٤	٧٣	٧٢	٧١
٩٠	٨٩	٨٨	٨٧	٨٦	٨٥	٨٤	٨٣	٨٢	٨١
١٠٠	٩٩	٩٨	٩٧	٩٦	٩٥	٩٤	٩٣	٩٢	٩١



يستخدم سمير لوحة المائة لحل عملية
الجمع هل طريقته في اللوحة صحيحة ؟
نعم لا

فسر :

.....

خامساً : اختر الطريقة التي تفضلها و أوجد :

$$= ٢٤ + ٦٣$$

$$= ٢٣ + ٣٨$$

$$= ٥٢ + ٣٦$$



المسائل اللفظية

مكتبة مدرسية بها ٣٤ كتاب على الرف و يوجد في الصناديق ١٥ كتاب كم عدد الكتب بها ؟

اشترت امانى ٤٥ بالون لتزين الصف وزادت يارا ٥٥ اخرى كم عدد البالونات الان ؟

لدى محمد ٦٨ ريال اعطاه اياه ٣٥ ريال اخر كم معه الان ؟

عمر احمد ٤٥ عام وعمر محمود ١٣ عام ما مجموع عمريهما ؟

تناول ٢٢ طالب من الصف الأول الفطور اليوم و ٣٥ طالب من الصف الثانى كم عدد الطلاب الذين تناولوا الفطور اليوم ؟

يوجد داخل الصف ٣٦ ولد و ١٢ فتاه كم عدد الطلاب في الصف ؟

فى لعبه الكمبيوتر جمع راشد ٧٧ عمله معدنية وجمع عصام ٣٥ عمله ما مجموع العملات معهم .

الدرجة/

النشاط الاساسي / الجمع (اي قصص)

التاريخ/

نشاط (صفي حواجب منزلي)

لديك الجمل العددية الاتية

هيا نكتب قصص لهذه الجمل ؟

المنهج الدراسي
www.almanahj.com/or

$$69 = 24 + 45$$

$$80 = 12 + 67$$

$$70 = 60 + 10$$

اعداد/ سمر سمير صالح معلمة رياضيات ت/ ٧٩٠٩٢٢١٠