

تم تحميل هذا الملف من موقع المناهج العُمانية



*للحصول على أوراق عمل لجميع الصفوف وجميع المواد اضغط هنا

<https://almanahj.com/om>

* للحصول على أوراق عمل لجميع مواد الصف الثاني اضغط هنا

<https://almanahj.com/om/2>

* للحصول على جميع أوراق الصف الثاني في مادة رياضيات ولجميع الفصول, اضغط هنا

<https://almanahj.com/om/2math>

* للحصول على أوراق عمل لجميع مواد الصف الثاني في مادة رياضيات الخاصة بـ الفصل الثاني اضغط هنا


<https://almanahj.com/om/2math2>

* لتحميل كتب جميع المواد في جميع الفصول للـ الصف الثاني اضغط هنا

<https://almanahj.com/om/grade2>

للتحدث إلى بوت على تلغرام: اضغط هنا

https://t.me/omcourse_bot



$$\underline{\hspace{2cm}} = \underline{\hspace{1cm}} + \underline{\hspace{1cm}} + \underline{\hspace{1cm}} + \underline{\hspace{1cm}}$$

$$\underline{\hspace{2cm}} = \underline{\hspace{1cm}} \times \underline{\hspace{1cm}}$$

كم مرة
تكرر

الرقم
المتكرر






$$\underline{\quad\quad} = \underline{\quad} + \underline{\quad}$$

$$\underline{\quad\quad} = \underline{\quad} \times \underline{\quad}$$

كم مرة
تكرر

الرقم
المتكرر






$$\underline{\hspace{2cm}} = \underline{\hspace{2cm}} + \underline{\hspace{2cm}} + \underline{\hspace{2cm}}$$

$$\underline{\hspace{2cm}} = \underline{\hspace{2cm}} \times \underline{\hspace{2cm}}$$

كم مرة
تكرر

الرقم
المتكرر






_____ = _____ + _____

_____ = _____ + _____

كم مرة
تكرر

الرقم
المتكرر





$$\underline{\hspace{2cm}} = \underline{\hspace{2cm}} \times \underline{\hspace{2cm}}$$

كم مرة
تكرر

الرقم
المتكرر

$$\underline{\hspace{2cm}} = \underline{\hspace{2cm}} + \underline{\hspace{2cm}} + \underline{\hspace{2cm}} + \underline{\hspace{2cm}} + \underline{\hspace{2cm}}$$



ارسم العملية واوجد الناتج

$$\underline{\quad} = ٣ + ٣ + ٣ + ٣$$



ارسم العملية واوجد الناتج

$$\underline{\quad} = ٤ + ٤ + ٤$$





ارسم العملية و اوجد الناتج

$$\text{—} = 5 + 5 + 5$$

ارسم العملية واوجد الناتج

$$\underline{\quad} \quad \underline{\quad} + \underline{\quad} + \underline{\quad}$$



اكتب المصفوفة عملية الضرب



almanahj.com/om

كم يبلغ عدد الأرجل ل ٣ طيور؟



كم يبلغ عدد العجلات الموجودة في
٤ دراجات بعجلتين؟



كم يبلغ عدد العجلات الموجودة في
٦ دراجات بعجلتين؟

