

تم تحميل هذا الملف من موقع المناهج العُمانية



\* للحصول على أوراق عمل لجميع الصفوف وجميع المواد اضغط هنا

<https://almanahj.com/om>

\* للحصول على أوراق عمل لجميع مواد الصف الثاني اضغط هنا

<https://almanahj.com/om/2>

\* للحصول على جميع أوراق الصف الثاني في مادة رياضيات ولجميع الفصول, اضغط هنا

<https://almanahj.com/om/2math>

\* للحصول على أوراق عمل لجميع مواد الصف الثاني في مادة رياضيات الخاصة بـ الفصل الأول اضغط هنا

<https://almanahj.com/om/2math1>

\* لتحميل كتب جميع المواد في جميع الفصول للـ الصف الثاني اضغط هنا

<https://almanahj.com/om/grade2>

\* لتحميل جميع ملفات المدرس مدرسة وادي هكة للتعليم الأساسي اضغط هنا

للتحدث إلى بوت على تلغرام: اضغط هنا

[https://t.me/omcourse\\_bot](https://t.me/omcourse_bot)

اسم الطالب ..... الصف ( الثاني ) الدرجة الكلية ( ..... / 5 )	السؤال القصير ( 1 ) لمادة الرياضيات للصف الثاني	سلطنة عمان وزارة التربية والتعليم المديرية العامة بمحافظة ظفار مدرسة وادي هكة للتعليم الأساسي ( 1 - 10 )
--	--	---

1) ظل الشكل البيضاوي يمين الإجابة  
أنا عدد من الأعداد العقدية أقع بين 10 و 30 فمن أنا :


15

25


40

20

2) قرب ما يلي لأقرب عشرة :

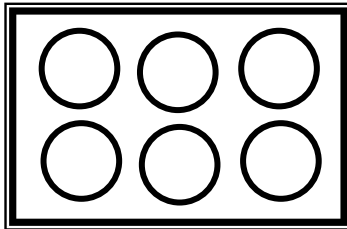


← 51 ،



← 37

3) أي من مصفوفات الضرب يمثلها الرسم المقابل



$3 \times 3$  (f)

$2 \times 2$  (t)

$3 \times 2$  (j)

$3 + 2$  (l)

4) لدى محمد مجموعة من المكعبات بألوان مختلفة 3 حمراء ، 7 صفراء ،

5 خضراء ، 6 زرقاء ساعد محمد في معرفة مجموع المكعبات ؟

.....

1) ظلل الشكل البيضاوي يمين الإجابة :  
المجسم الذي له وجهان وليس له رؤوس هو :

المخروط

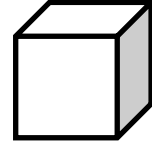
الهرم

المكعب


الإسطوانة

2) صل كل مجسم وإسمه :

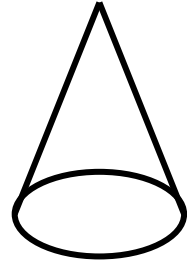
اسطوانة



هرم



مخروط



مكعب

3) ما هو المجسم الذي ليس له رؤوس أو أوجه ؟

.....

اسم الطالب ..... الصف (الثاني) الدرجة الكلية ( ..... / 5 )	الواجب المنزلي ( 1 ) لمادة الرياضيات للصف الثاني	سلطنة عمان وزارة التربية والتعليم المديرية العامة بمحافظة ظفار مدرسة وادي هكة للتعليم الأساسي ( 1 - 10 )
--	---	---

1) ظلل الشكل البيضاوي يمين الإجابة  
 أي من العمليات الحسابية التالية صحيحة :

$$6 = 10 - 4 \quad \bigcirc$$

$$4 = 4 - 6 \quad \bigcirc$$

$$10 = 6 - 3 \quad \bigcirc$$

$$6 = 4 - 10 \quad \bigcirc$$

2) حدد على خط الأعداد الأعداد من 70 إلى 80



3) أكمل الفراغ بكلمة واحدة مناسبة :

أ) نقطة المنتصف بين 40 و 50 هي .....

ب) العدد الذي يقع بين 6 و 8 هو .....