

تم تحميل هذا الملف من موقع المناهج العمانية



تمارين على درس العد ثلاثات

موقع فايلاتي ← المناهج العمانية ← الصف الثاني ← رياضيات ← الفصل الثاني ← ملفات متنوعة ← الملف

تاريخ إضافة الملف على موقع المناهج: 2025-02-22 11:37:48

ملفات اكتب للمعلم اكتب للطالب الاختبارات الكترونية | اختبارات | حلول | عروض بوربوينت | أوراق عمل
منهج انجليزي | ملخصات و تقارير | مذكرات و بنوك | الامتحان النهائي للمدرس

المزيد من مادة
رياضيات:

التواصل الاجتماعي بحسب الصف الثاني



صفحة المناهج
العمانية على
فيسبوك

الرياضيات

اللغة الانجليزية

اللغة العربية

التربية الاسلامية

المواد على تلغرام

المزيد من الملفات بحسب الصف الثاني والمادة رياضيات في الفصل الثاني

كتاب التلميذ

1

سؤال قصير ثاني

2

كتيب أنشطة المادة

3

مراجعة المادة من سلسلة أساس التميز

4

أسئلة تدريبية لدرس الأعداد المفقودة

5

العد ثلاثات

اسمي :

١ - العدد الناقص في السلسلة ٩ ١٢ ١٥ هو :
 ١٦٠ ١٧٠ ١٨٠ ١٩٠

٢ - السلسلة التي تمثل عد قفزي ثلاثات هي :

١٤ ١٦ - ١٨ - ٢٠ ١٢ ١٥ - ١٧ - ١٩ ١٨ ٢١ - ٢٤ - ٢٧ ١٥ ٢٠ - ٢٥ - ٣٠

٣ - عند العد قفزياً ثلاثت فإن العدد الذي يأتي بعد ٤٢ هو

٤ - عند العد قفزياً ثلاثت فإن العدد الذي يأتي قبل هو
 ٥ - كم عدد التفاح في الصحنون ؟

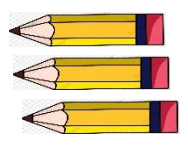
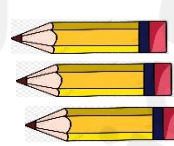

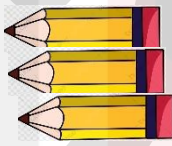



أكتب الحل بطريقتين :

الطريقة ١ هي

الطريقة ٢ هي

٦ تقول أسماء بأنه لا يمكن إيجاد عدد الأقلام بالعد القفزي ثلاثت .



ما رأيك ؟ ١ نعم ٢ لا

فسر

٩ - أكمل السلاسل بالعد القفزي ثلاثت :

٦ - - ١٢ - - - - -

..... - - - - - ٣٦ - ٣٣ - -

..... - - - - - ٦٦ - - ٦٠ -