

تم تحميل هذا الملف من موقع المناهج العمانية



تمارين ومراجعة دروس الوحدة الأولى المحيط من حولنا

موقع فايلاتي ← المناهج العمانية ← الصف الثاني ← علوم ← الفصل الأول ← ملفات متنوعة ← الملف

تاريخ إضافة الملف على موقع المناهج: 2024-10-27 08:53:58

ملفات اكتب للمعلم اكتب للطالب | اختبارات الكترونية | اختبارات | حلول | عروض بوربوينت | أوراق عمل
منهج انجليزي | ملخصات وتقارير | مذكرات وبنوك | الامتحان النهائي للمدرس

المزيد من مادة
علوم:

التواصل الاجتماعي بحسب الصف الثاني



صفحة المناهج
العمانية على
فيسبوك

الرياضيات

اللغة الانجليزية

اللغة العربية

التربية الاسلامية

المواد على تلغرام

المزيد من الملفات بحسب الصف الثاني والمادة علوم في الفصل الأول

ملخص شامل للمادة	1
ملخص الوحدة الثانية اكتشاف الصخور	2
ملخص درس الصخور	3
سؤال قصير ثاني نموذج حديث	4
اختبار قصير استقصاء علمي حديث مع نموذج الإجابة	5

الدرس الأول : أماكن مختلفة للعيش .



* البيئة هي المكان الذي تعيش فيه الكائنات الحية .

* أنواع البيئة :

(١) الصحراء (٢) المزرعة (٣) الماء

(٤) الغابة (٥) الجبال الثلجية

* هناك بيئات متشابهة وأخرى مختلفة .

* تعيش الحيوانات والنباتات المختلفة في بيئات مختلفة .

ظلل الدائرة الدالة على الإجابة الصحيحة :

(١) يعيش البطريق في _____ .

الجبال الثلج المزرعة

(٢) _____ هي المكان الذي تعيش فيه الكائنات الحية .

الهواء المنزل البيئة

(٣) تحتاج الحيوانات لكي تعيش إلى _____ .

الماء الغذاء الاثنين معا

صل من المجموعة (أ) ما يناسبه من المجموعة (ب) :

المجموعة (ب)

(أ) الماء

(ب) المزرعة

(ج) الصحراء

(د) الجليد

(هـ) الغابة

المجموعة (أ)

١- الجمل

٢- الحوت

٣- الماعز

٤- الفهد

٥- الدب القطبي



ماذا يحتاج النبات لكي يعيش ؟

ماذا يحتاج الحيوان لكي يعيش ؟

ما هي الكائنات التي يمكنها العيش في عدة بيئات ؟ ما هي الكائنات الحية التي تستطيع أن تعيش في بيئات معينة فقط ؟
قص الصور وأصقها في المكان المناسب .

تعيش فقط في بيئات معينة

تعيش في عدة بيئات



أكمل ما يلي :

(١) _____ هي مكان بارد وبه ثلج .

(٢) يعيش الماعز في _____ .

(٣) _____ هي مكان حار وجاف يعيش فيه القليل من الحيوانات .

(٤) يوجد نبات الصبار في _____ .

ساعد مريم في تصنيف الحيوانات والنباتات التالية



إلى الأماكن التي تعيش فيها سواء جافة أو رطبة .

(الطيور - الديدان - الصبار - الحززون - البطة -

النحلة - الماعز - الجمل - السلحفاة)

الأماكن الجافة

الأماكن الرطبة

انظر إلى الصورة المقابلة وأجب عن الأسئلة :

(١) ما اسم البيئة ؟

(٢) حدد نوعها :

(أ) جافة أم رطبة ؟

(ب) ظليلة أم مشمسة ؟



الدرس الثاني : هل يمكننا العناية ببيئتنا ؟



* بعض الأشكال التي تؤذي البيئة: إلقاء النفايات في الشارع والبحر ، صب مياه المجاري في المياه ، قطع الأشجار ، دخان المصانع والسيارات .

* الضرر بالبيئة يؤدي الإنسان والحيوان والنبات .

* يمكنك العناية بالبيئة والمحافظة عليها بغدة طرق منها : عدم رمي النفايات في الشارع أو البحر ، زرع الأشجار ، زيادة صناديق القمامة في الشارع ، عمل مجموعات بيئية .

أكمل ما يلي :

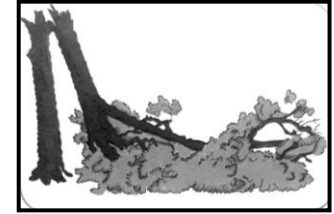
(١) من أشكال الضرر بالبيئة _____ و _____ .

(٢) _____ تضر الأسماك الموجودة في البحار .

(٣) المجموعات البيئية هي مجموعات من الأفراد _____ البيئة .

(٤) دخان السيارات والمصانع يؤدي _____ .

صل الصورة بالجملة المناسبة :



(أ) تضر بصحة الإنسان

(١)



(ب) تضر الطيور

(٢)



(ج) تضر بالأسماك

(٣)

ظلل الدائرة الدالة على الإجابة الصحيحة :

(١) مياه _____ تضر بالبيئة عندما تصب في البحار .

○ الأمطار ○ البحار ○ المجاري

(٢) إلقاء النفايات على الشاطئ _____ البيئة .

○ يضر ○ لا يؤثر على ○ يفيد

(٣) _____ هم مجموعات من الأفراد يعتنون بالبيئة .

○ الرجال ○ النساء ○ المجموعات البيئية

ضع علامة (✓) أمام التصرف السليم أو (✗) أمام التصرف الخطأ :

()



(١) علي يأكل ويرمي بقايا الطعام على الأرض .

()



(٢) أمنة تقطف الأزهار .

()



(٣) أحمد وخليفة يساعدان في لم النفايات من الشاطئ .

()



(٤) حمدان يشرب العصير ويرمي العلبة في مياه البحر .

أرسم أو أكتب عن الأعمال التي يمكن القيام بها بالاعتاية بالبيئة ؟

انظر إلى الصورة التي أمامك :

(١) أذكر اثنين من أشكال

الضرر بالبيئة ؟



(٢) أذكر ثلاث طرق لتحسين هذا الضرر ؟



انضم حمد إلى المجموعات البيئية :

(١) ماذا تصنع المجموعات البيئية ؟

(٢) حاول مساعدة حمد في عمله بطريقتين ؟

الدرس الثالث : طقسنا



- * الطقس هو حالة الجو .
- * يتغير الطقس كل يوم بتغير درجة الحرارة والرياح وكمية الأمطار وأشعة الشمس .
- * الطقس يحدد الملابس التي نرتديها .
- * قوس المطر أو قوس قزح يتكون عندما يسقط المطر الشمس مشرقة .

أكمل ما يلي :



- (١) _____ هو حالة الجو .
- (٢) تتساقط الأمطار في فصل _____ .
- (٣) نرى _____ عندما تشرق الشمس ويتساقط المطر في نفس الوقت .
- (٤) ترتفع درجة الحرارة في فصل _____ .
- (٥) يتغير الطقس بتغير _____ و _____ .

انظر إلى الصورة التي أمامك :



(١) ماذا ترى في هذه الصورة ؟

(٢) متى يحدث ؟

ظلل الدائرة الدالة على الإجابة الصحيحة :

- (١) يمكننا اللعب على الشاطئ ونزول البحر في فصل _____ .
 الصيف الشتاء الخريف
- (٢) تتكون السحب والأمطار والرياح في فصل _____ .
 الصيف الشتاء الاثنين معا
- (٣) _____ هي حركة الهواء بقوة .
 الأمطار الرياح درجة الحرارة

صل الصورة بالجملة المناسبة :

(أ) الجو المثلج




(١)

(ب) الجو الممطر



(٢)

(ج) الجو العاصف



(٣)

(د) الجو الغائم



(٤)

(هـ) الجو المشمس




































(٥)



انظر إلى الصورة التي أمامك

واكتب عليها حالة الجو ؟

قام بعض التلاميذ بتسجيل حالة الطقس لشهر احد ، أنظر إلى تمثيل الطقس بالمصورات وأجب عن الأسئلة التالية :

										
										
										
										
١١	١٠	٩	٨	٧	٦	٥	٤	٣	٢	١

الطقس

عدد الأيام

الطقس في مدرستنا لشهر واحد :

(١) في كم يوم لم يكن هناك سحب ؟ _____

(٢) في كم يوم تساقطت الأمطار ؟ _____

(٣) في أي فصل كان هذا الشهر : الشتاء أم الصيف ؟ أذكر السبب .



ماذا يكون الطقس في فصل الصيف ؟

الدرس الرابع : الطقس القاسي



* هناك أنواع مختلفة من الطقس القاسي ، مثل : العاصفة الثلجية و الإعصار أو الزوبعة و الأمطار الغزيرة والعاصفة الرعدية وموجات الحر الشديدة .

* مراقب الطقس هو الشخص المختص الذي يخبرنا بحالة الطقس .

* الأقمار الصناعية تدور في الفضاء الخارجي وتجمع معلومات عن الأرض و تساعدنا في معرفة حالة الطقس .



أكمل ما يلي :

(١) مراقب الطقس يخبرنا كيف ستكون حالة _____ .

(٢) يجب ارتداء الملابس _____ عند التعرض للعاصفة الثلجية .

(٣) يجب شرب الكثير من الماء عدم التعرض للشمس في موجات _____ الشديدة .

(٤) تدور الأقمار الاصطناعية في _____ .

انظر إلى الصورة التي أمامك :



(١) اذكر اسم الشكل المقابل .

(٢) ما أهميته ؟

ظلل الدائرة الدالة على الإجابة الصحيحة :

(١) الأقمار الاصطناعية تجمع معلومات عن _____ .

الأشخاص النجوم الأرض

(٢) _____ هي عاصفة مصحوبة بالرعد أو البرق .

العاصفة الرعدية العاصفة الرملية العاصفة الثلجية


(٣) تساعدنا _____ في معرفة حالة الطقس .

النجوم الكواكب الأقمار الاصطناعية

اكتب حالة الطقس القاسي في كل صورة .



صل صورة الطقس بصورة الملابس الصحيحة :



اذكر طريقة للحفاظ على سلامتنا من :

(أ) موجات الحر الشديدة .

(ب) العاصف الرعدية .