

شكراً لتحميلك هذا الملف من موقع المناهج العمانية



سؤال قصير أول

[موقع المناهج](#) ← [المناهج العمانية](#) ← [الصف الثاني](#) ← [علوم](#) ← [الفصل الأول](#) ← [الملف](#)

تاريخ نشر الملف على موقع المناهج: 05:46:34 2023-10-12

التواصل الاجتماعي بحسب الصف الثاني



روابط مواد الصف الثاني على تلغرام

[الرياضيات](#)

[اللغة الانجليزية](#)

[اللغة العربية](#)

[التربية الاسلامية](#)

المزيد من الملفات بحسب الصف الثاني والمادة علوم في الفصل الأول

[ملخص الوحدة الأولى المحيط من حولنا](#)

1

[كتيب أسئلة المادة](#)

2

[شرح إكتشاف الصخور](#)

3

[دليل تقويم في الفصل الأول حسب منهاج كامبريدج](#)

4

[كراسة أنشطة وتمارين الوحدة الأولى](#)

5

السؤال القصير (١) في مادة العلوم للصفالثاني

٥





الصف:

اسم الطالب:

(١ درجة)

السؤال الأول: ظلل الإجابة الصحيحة من بين البدائل المعطاة:

الحيوان الذي يعيش في بيئات مختلفة هو:

السؤال الثاني: الضرر بالبيئة يؤدي الإنسان والحيوان والنبات.

(١ درجة)

في ضوء هذه العبارة أجب بنعم أم لا:

لا	نعم	العبارة
		إلقاء النفايات على الشاطئ لا تضر بالبيئة
		دخان المصانع والسيارات يصنف من تلوث اليابسة

(١ درجة)

السؤال الثالث: زاوج بين حالة الطقس القاسي والصورة المناسبة له.

عاصفة ثلجية



إعصار

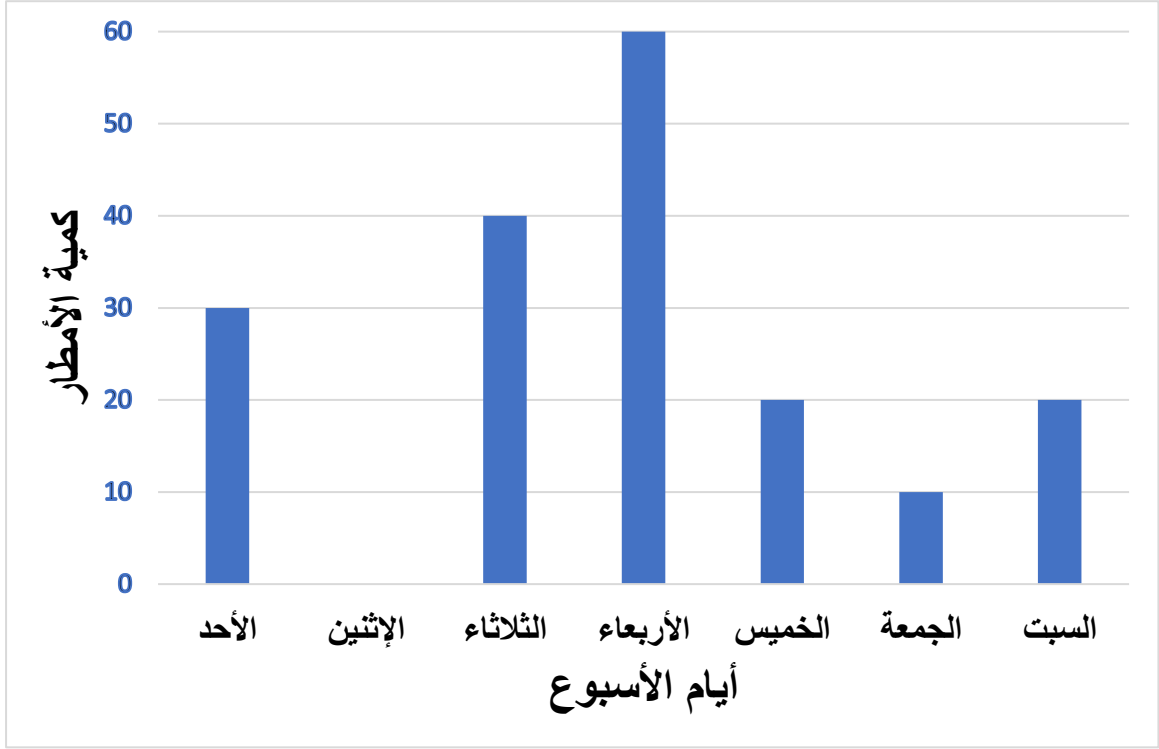


السؤال الرابع:

(٢ درجة)

قامت مجموعة من الطلاب بقياس كمية الأمطار في كل يوم لمدة أسبوع ومثلوها بالرسم البياني الآتي،

من خلال الرسم أجب عما يلي:



أ) ما هي الأيام التي تساوت فيها كمية الأمطار؟

.....

ب) يقول علي أن الطقس حار جدا يوم الأربعاء لذلك سيرتدي ملابس خفيفة.

هل توافقه الرأي؟

لا

نعم

فسر إجابتك؟

.....

بالتوفيق لكم يا عبقرتي الصغار