

شكراً لتحميلك هذا الملف من موقع المناهج العمانية



سؤال قصير ثالث نموذج ثاني

[موقع المناهج](#) ← [المناهج العمانية](#) ← [الصف الثالث](#) ← [رياضيات](#) ← [الفصل الثاني](#) ← [الملف](#)

تاريخ نشر الملف على موقع المناهج: 2024-04-20 05:52:59

التواصل الاجتماعي بحسب الصف الثالث



[اضغط هنا للحصول على جميع روابط "الصف الثالث"](#)

روابط مواد الصف الثالث على تلغرام

[الرياضيات](#)

[اللغة الانجليزية](#)


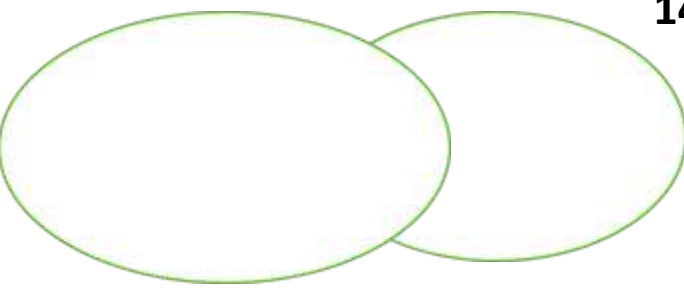

[اللغة العربية](#)

[التربية الاسلامية](#)

المزيد من الملفات بحسب الصف الثالث والمادة رياضيات في الفصل الثاني

نموذج اختبار قصير ثالث	1
سؤال قصير ثالث	2
اختبار قصير ثالث محلول	3
أوراق عمل شاملة للمادة	4
كتيب الفاقد التعليمي	5

الاسم الصف: ٣ /

الدرجة	الأسئلة	الرقم									
١	<p>قيمة النفود</p>  <p>100 بيسة 2 ريال 1 ريال</p>	١									
٢	<p>أكمل مايلي : 7 ريال =بيسة5</p>	2									
١	<p>صنف الأعداد التالية في مخطط فن 14 - 20 - 15 - 40 - 45 - 8</p>  <p>أكمل الجدول باستخدام علامات العدد :</p> 	3									
	<table border="1" data-bbox="542 1624 1380 1870"> <thead> <tr> <th>العلامات العد</th> <th>العدد</th> <th>الشكل</th> </tr> </thead> <tbody> <tr> <td></td> <td></td> <td>★</td> </tr> <tr> <td></td> <td></td> <td>●</td> </tr> </tbody> </table>	العلامات العد	العدد	الشكل			★			●	٤
العلامات العد	العدد	الشكل									
		★									
		●									

الجمعة	الخميس	الأربعاء	الثلاثاء	الاثنين	الأحد	السبت
٤	٣	٢	١	٢٨	٢٧	٢٦
١١	١٠	٩	٨	٧	٦	٥
١٨	١٧	١٦	١٥	١٤	١٣	١٢
٢٥	٢٤	٢٣	٢٢	٢١	٢٠	١٩
١	٣١	٣٠	٢٩	٢٨	٢٧	٢٦

تأمل التقويم السابق وأجب عن الأسئلة التالية:

1- في أي يوم يبدأ هذا الشهر؟

2- كم جمعة في هذا الشهر؟

