

شكراً لتحميلك هذا الملف من موقع المناهج العمانية



سؤال قصير ثالث

[موقع المناهج](#) ⇨ [المناهج العمانية](#) ⇨ [الصف الثالث](#) ⇨ [رياضيات](#) ⇨ [الفصل الثاني](#) ⇨ [الملف](#)

تاريخ نشر الملف على موقع المناهج: 06:42:03 2023-04-06

التواصل الاجتماعي بحسب الصف الثالث



روابط مواد الصف الثالث على تلغرام

[الرياضيات](#)

[اللغة الانجليزية](#)

[اللغة العربية](#)

[التربية الاسلامية](#)

المزيد من الملفات بحسب الصف الثالث والمادة رياضيات في الفصل الثاني

[كراسة الأنشطة والاختبارات القصيرة والنهائية](#)

1

[أنشطة شاملة لدروس المادة](#)

2

[اختبار قصير ثالث نموذج ثاني](#)

3


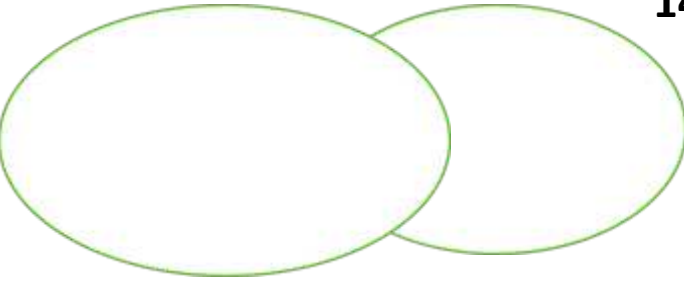







[سؤال قصير ثالث](#)

4

[اختبار قصير ثالث](#)

5

الاسم الصف: ٣ /

الدرجة	الأسئلة	الرقم									
١	<p>قيمة النفود</p>  <p>100 بيسة 2 ريال 1 ريال</p>	١									
٢	<p>أكمل مايلي : 7 ريال = بيسة 5</p>	2									
١	<p>صنف الأعداد التالية في مخطط فن 14 - 20 - 15 - 40 - 45 - 8</p>  <p>أكمل الجدول باستخدام علامات العدد :</p> 	3									
	<table border="1" data-bbox="542 1624 1380 1870"> <thead> <tr> <th>الشكل</th> <th>العدد</th> <th>علامات العد</th> </tr> </thead> <tbody> <tr> <td></td> <td></td> <td></td> </tr> <tr> <td></td> <td></td> <td></td> </tr> </tbody> </table>	الشكل	العدد	علامات العد							٤
الشكل	العدد	علامات العد									
											
											

الجمعة	الخميس	الأربعاء	الثلاثاء	الاثنين	الأحد	السبت
٤	٣	٢	١	٢٨	٢٧	٢٦
١١	١٠	٩	٨	٧	٦	٥
١٨	١٧	١٦	١٥	١٤	١٣	١٢
٢٥	٢٤	٢٣	٢٢	٢١	٢٠	١٩
١	٣١	٣٠	٢٩	٢٨	٢٧	٢٦

تأمل التقويم السابق وأجب عن الأسئلة التالية:

1- في أي يوم يبدأ هذا الشهر؟

2- كم جمعة في هذا الشهر؟

