

تم تحميل هذا الملف من موقع المناهج العُمانية



*للحصول على أوراق عمل لجميع الصفوف وجميع المواد اضغط هنا

<https://almanahj.com/om>

* للحصول على أوراق عمل لجميع مواد الصف الثالث اضغط هنا

<https://almanahj.com/om/3>

* للحصول على جميع أوراق الصف الثالث في مادة رياضيات ولجميع الفصول, اضغط هنا

<https://almanahj.com/om/3math>

* للحصول على أوراق عمل لجميع مواد الصف الثالث في مادة رياضيات الخاصة بـ الفصل الثاني اضغط هنا

<https://almanahj.com/om./3math2>

* لتحميل كتب جميع المواد في جميع الفصول للـ الصف الثالث اضغط هنا

<https://almanahj.com/om./grade3>

* لتحميل جميع ملفات المدرس هنا حمودة اضغط هنا

للتحدث إلى بوت المناهج العمانية على تلغرام: اضغط هنا

https://t.me/omcourse_bot

يجيب عن سؤال من الحياة الواقعية من خلال جمع البيانات وتنظيمها وتفسيرها
يستخدم التمثيل بعلامات العد، وجداول التكرار

الزمن

:

ملخص الدرس



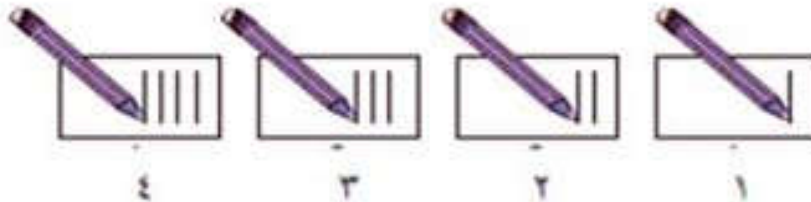
الإحصاء بعلامات العد : هي طريقة لتسجيل المعلومات، ومن السهل استخدامها، وذلك عبر وضع العلامات على ورقة

جدول التكرار : هي الجدوال التي تستخدم علامات العد لتسجيل عدد مرات حدوث الشيء

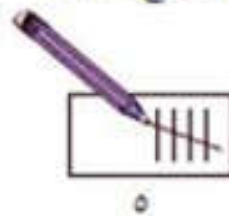
التمثيل بعلامات العد : هو مخطط يستخدم إشارات لتسجيل العد، يتم جمع كل ٥ إشارات بعضها مع بعض عبر الرمز



للعدد ١، ارسم علامة واحدة؛ وللعدد ٢، ارسم علامتين اثنتين؛ وللعدد ٣، ارسم ثلاث علامات؛ وبالنسبة للعدد ٤، فارسم أربع علامات.



بالنسبة للعلامة الخامسة ارسم خطاً يعرض العلامات الأربع السابقة.

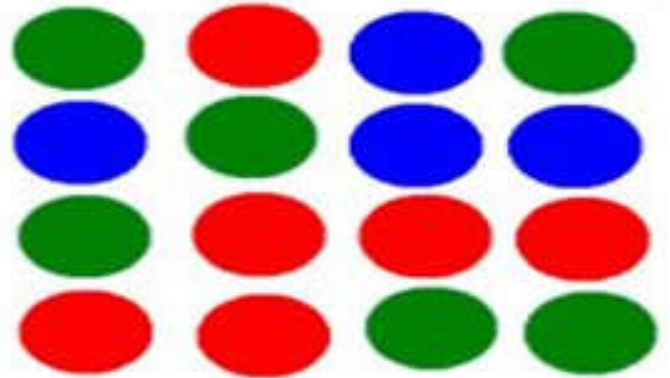


العدد ١١

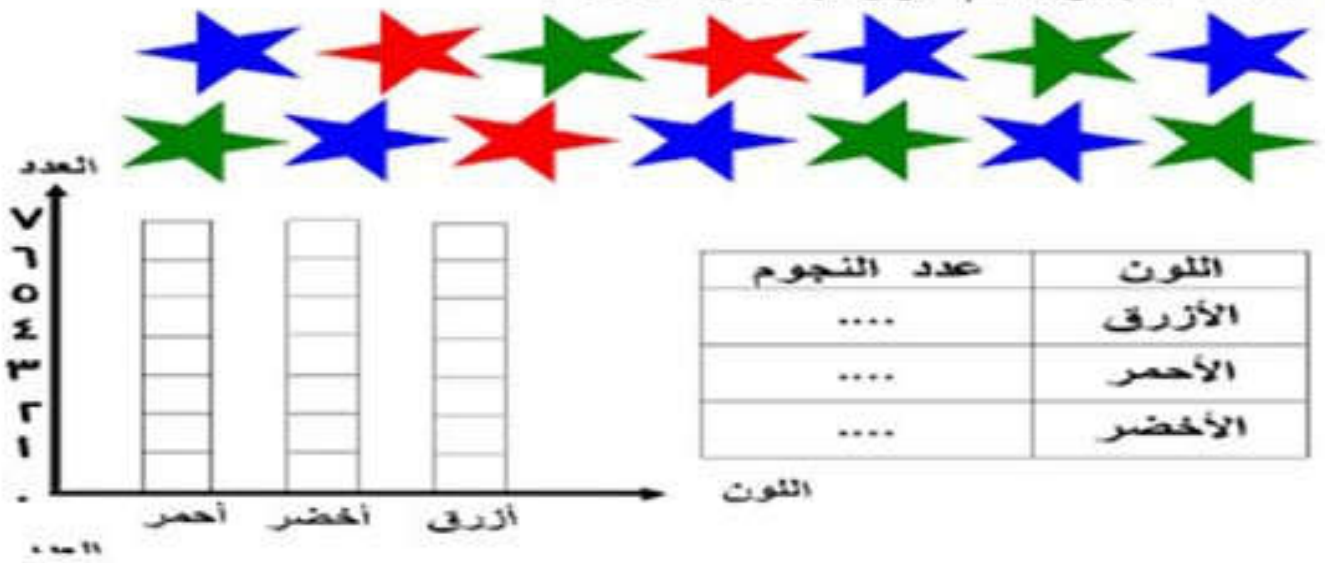
العدد ١٠

١ أكمل الجدول باستخدام علامات العد

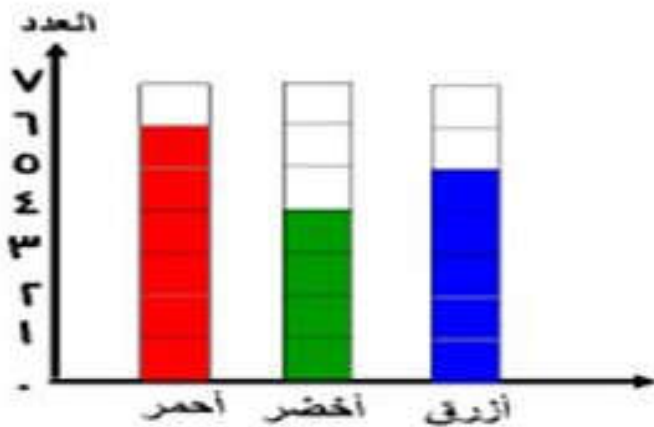
عدد الدوائر	اللون
	الأزرق
	الأحمر
	الأخضر



(٣) أكمل الجدول ثم لون بحسب العدد :



(٢) لاحظ و أكمل الجدول :



اللون	العدد
الأزرق
الأحمر
الأخضر

اللون

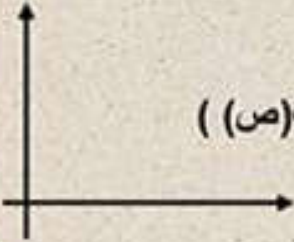


التمثيل بالمصورات: رسم بياني يستخدم الصور لتمثيل الكميات

التمثيل بالأعمدة: شكل به أعمدة يعبر عن الكميات

المحاور: جمع محور (محور أفقي محور السينات) (س)، محور رأسي محور الصادات (ص))

التي تتقاطع في زوايا قائمة لتعمل الشكل البياني



أنواع تمثيل البيانات

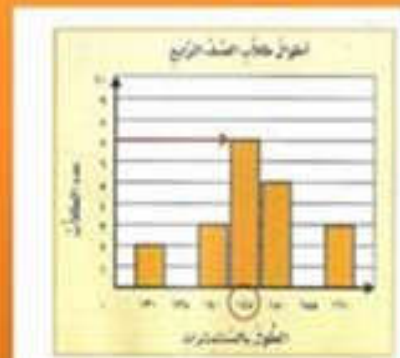


التمثيل بالمصورات

الكتاب	التكرار
الكتاب الأول	10
الكتاب الثاني	8
الكتاب الثالث	12
الكتاب الرابع	5
الكتاب الخامس	7
الكتاب السادس	9
الكتاب السابع	6
الكتاب الثامن	11
الكتاب التاسع	4
الكتاب العاشر	13

ملاحظة: كل علامة تمثل 2 كتاباً

التمثيل بالأعمدة



أعمال ذات

احدول التام بعن عدد الطالبات المتشاركات فم مهرحان الطفق الختري النظم فم مخرسة السلام
اصوف الرابع والخاص والساسي واستخدم ■ لعبر عن عشر طالبات

أعمال التام

يمكن تمثيل البيانات السابقة باستخدام صور ($\frac{10}{100}$) لعبر عن طبقة واحدة

العدد	الطالبات	اصف
٤٠		الرابع
٢٥		الخاصي
٤٥		الساسي

نوع الفاكهة	الطالبات
برتقال	٤٠
فراولة	٢٥
تفاح	٤٥
توت	٤٥

انظر إلى المحور الرأسي. ما العنوان الذي يناسبه
ما العنوان الذي يناسب الشكل البياني؟
ماذا يمثل أطول العمود في الشكل البياني؟

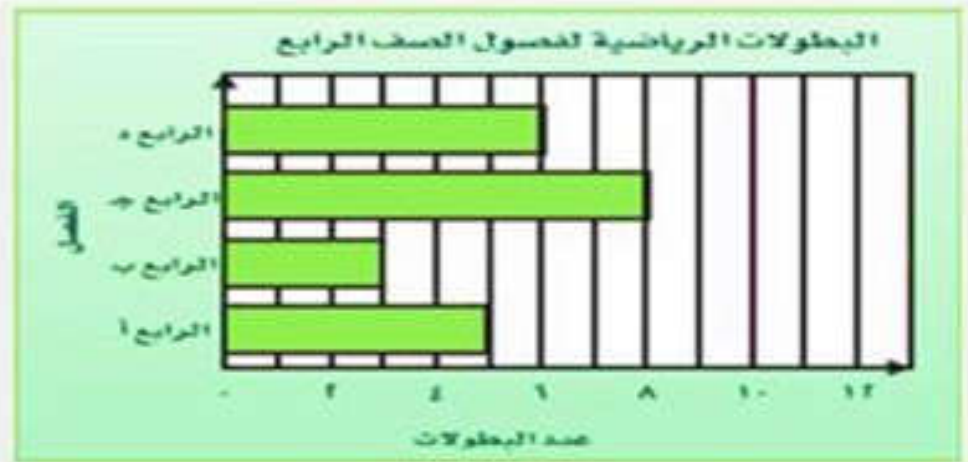


التمثيل بالاعمدة لاطوال الطلاب



قراءة: يبين الجدول المجاور عدد الصفحات التي قرأها خمسة طلاب من كتاب. من أكمل الجدول

الطلاب	عدد الصفحات
محمد	
خالد	
حسام	
فادي	
نواف	



تدريب التمثيل بالاعمدة

أكمل الفراغات فيما يلي:

- الفصل الرابع د حصل على بطولات عددها
- عدد البطولات التي حصل عليها الفصل الرابع أ
- الفصل الذي حصل على أكبر عدد من البطولات هو.....
- الفصل الذي حصل على أصغر عدد من البطولات هو.....