

تم تحميل هذا الملف من موقع المناهج العُمانية



*للحصول على أوراق عمل لجميع الصفوف وجميع المواد اضغط هنا

<https://almanahj.com/om>

* للحصول على أوراق عمل لجميع مواد الصف الثالث اضغط هنا

<https://almanahj.com/om/3>

* للحصول على جميع أوراق الصف الثالث في مادة اجتماعيات ولجميع الفصول, اضغط هنا

<https://almanahj.com/om/3social>

* للحصول على أوراق عمل لجميع مواد الصف الثالث في مادة اجتماعيات الخاصة بـ الفصل الأول اضغط هنا

<https://almanahj.com/om/3social1>

* لتحميل كتب جميع المواد في جميع الفصول للـ الصف الثالث اضغط هنا

<https://almanahj.com/om/grade3>

للتحدث إلى بوت على تلغرام: اضغط هنا

https://t.me/omcourse_bot

الاسم: الصف: 3/

أولا المعرفة والفهم (15 درجة):

(1) أكمل ما يلي:

- 1- الأسرة تتكون بـ
- 2- بني البيت القديم من.....
- 3- يحتاج المريض إلى رعاية حتى
- 4- نصف من يطيع والديه
- 5- الرقصات الشعبية العمانية موروثة عن

(2) صل بين المجتمع وما يميزه:

مجتمع القرية

مجتمع البادية

مجتمع المدينة

- 1- يمتاز بالتجارة والصناعة
- 2- يمتاز بالأفلاج العذبة
- 3- يعمل أهله بالزراعة
- 4- يعيش أهله في الخيام
- 5- ينتج اللحوم والأصواف والألبان

(3) أذكر واحدة لكل ما يأتي :

- 1- واجبات الوالدين نحو الأبناء.....
- 2- واجبات الأبناء تجاه أفراد الأسرة.....
- 3- الأعمال التي تقوم بها أسرته في صباح يوم العيد.....
- 4- مناسبة يلبس فيها العماني الخنجر العماني.....
- 5- من الأكلات العمانية.....

ثانياً المهارات العملية والعقلية (5 درجات) :

(2) أكتب اسم الحرفة أو المهنة التي

تستخدم فيها الأدوات التالية:

(1) ارسم شجرة نسب لأسرة كبيرة:



.....

أولا المعرفة والفهم:

5

1- ضع علامة () أو () فيما يلي:

- () أ- الكتابة على الجدران تشوه بالمنظر العام.
 () ب- أحافظ على اللوحات الإرشادية لأنها ترشدنا إلى الاتجاه الصحيح.
 () ج- العبث بالقمامة يشعرني بالسعادة والسرور.
 () د- يعمل المهندس على تنميتنا عقليا وروحيا وجسديا.
 () هـ - تحمي البحرية السلطانية العمانية سواحل السلطنة وبحارها.

4

2- أكمل :

أ- من الخدمات التي تقدمها الدولة للمواطنين:

_____ ، _____ ، _____

ب- تساعد الطبيب في إعطاء التطعيمات لحماية أجسامنا من الأمراض _____

3- اربط المهنة أو الحرفة بالعمل والتخصص المناسب لها:

6

باطني

جندي

تصميم المباني

معماري

طبيب

الدفاع عن الوطن

الجيش السلطاني العماني

مهندس




معالجة المرضى

15

امتحان قصير في مادة الدراسات الاجتماعية للصف الثالث الأساسي

1- لون الصور الدالة على الممتلكات العامة:

5



2- ارسم سلوك صحيح يساهم في خدمة المجتمع الذي تعيش فيه.

امتحان قصير في مادة الدراسات الاجتماعية للصف الثالث الأساسي

أولا المعرفة والفهم:

1- ضع علامة () أو () فيما يلي:

- () 1- يقوم الجندي بتنظيم السير وإخماد الحرائق.
 () 2- تقوم شرطة الخيالة بحفظ الأمن في المناطق الصحراوية.
 () 3- يعمل النجار في صناعة الأبواب والنوافذ الخشبية.
 () 4- يبيع القصاب الأقمشة.
 () 5- يقوم العامل بتنظيف المباني والشوارع والحدائق.

5

2- أكمل الجدول الآتي:

فواكه تزرع في بلادي	خضروات تزرع في بلادي	فواكه لا تزرع في بلادي	من أنواع الأسماك العمانية	حيوان يربى في بلادي

5

3- ضع دائرة حول رمز الإجابة الصحيحة:

1- ولد الرسول صلى الله عليه وسلم في :

ج- الحجاز

أ- المدينة المنورة
ب- مكة المكرمة

2- ولد الرسول صلى الله عليه وسلم في عام:

ج- الفرج

أ- الفيل
ب- الحزن

3- ينتسب سيدنا محمد صلى الله عليه وسلم إلى قبيلة :

ج- هوازن

أ- تميم
ب- قريش

4- أم سيدنا محمد صلى الله عليه وسلم هي:

ج- آمنة بنت وهب

أ- خديجة بنت خويلد
ب- حليلة السعدية

5- نشأ الرسول صلى الله عليه وسلم في:


ج- البادية

أ- مكة المكرمة
ب- المدينة المنورة

ثانياً المهارات العملية والعقلية:

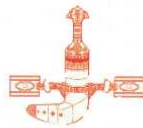
ضع دائرة حول رمز الإجابة الصحيحة:

1- عمل الرسول صلى الله عليه وسلم في:



5

2- من منتجات الصائغ:



إعداد المعلمة/ مارية الهناني