

تم تحميل هذا الملف من موقع المناهج العمانية



ملخص شرح درس الأشكال الثنائية الأبعاد

موقع فايلاتي ← المناهج العمانية ← الصف الثالث ← رياضيات ← الفصل الأول ← ملخصات وتقارير ← الملف

تاريخ إضافة الملف على موقع المناهج: 2024-12-24 10:29:56

ملفات اكتب للمعلم اكتب للطالب | اختبارات الكترونية | اختبارات | حلول | عروض بوربوينت | أوراق عمل
منهج انجليزي | ملخصات وتقارير | مذكرات وبنوك | الامتحان النهائي للمدرس

المزيد من مادة
رياضيات:

التواصل الاجتماعي بحسب الصف الثالث



صفحة المناهج
العمانية على
فيسبوك

الرياضيات

اللغة الانجليزية

اللغة العربية


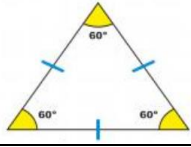
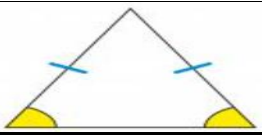
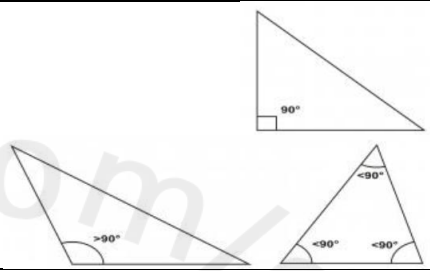






التربية الاسلامية

المواد على تلغرام

المزيد من الملفات بحسب الصف الثالث والمادة رياضيات في الفصل الأول

تمارين على درس الأشكال الثنائية الأبعاد	1
ملخص شامل للمادة من سلسلة التفوق	2
الواجب التقييمي الأول	3
أنشطة في درس الضعف والنصف	4
اختبار قصير ثالث	5

ملخص الأشكال الثنائية الأبعاد

اسم الشكل	الشكل	هل الشكل مضلع؟ هل الشكل منتظم؟	عدد الأضلاع	عدد الزوايا	عدد خطوط التماثل
الدائرة		غير مضلع	١	٠	لا نهائي
مثلث متطابق الأضلاع		مضلع منتظم	٣	٣	٣
مثلث متطابق الضلعين		مضلع غير منتظم	٣	٣	١
مثلث غير متطابق الأضلاع		مضلع غير منتظم	٣	٣	٠
مربع		مضلع منتظم	٤	٤	٤
مستطيل		مضلع غير منتظم	٤	٤	٢
مضلع خماسي منتظم		مضلع منتظم	٥	٥	٥
مضلع سداسي منتظم		مضلع منتظم	٦	٦	٦
متوازي الأضلاع		مضلع غير منتظم	٤	٤	٠
معين		مضلع غير منتظم جميع أضلاعه متساوية بينما زواياه غير متساوية	٤	٤	٢

اعداد وتنفيذ أ. عزه البوسعيدية