

شكراً لتحميلك هذا الملف من موقع المناهج العمانية



كراسة أنشطة

موقع المناهج ← المناهج العمانية ← الصف الثالث ← اجتماعيات ← الفصل الثاني ← الملف

التواصل الاجتماعي بحسب الصف الثالث



روابط مواد الصف الثالث على تلغرام

[الرياضيات](#)

[اللغة الانجليزية](#)

[اللغة العربية](#)

[التربية الاسلامية](#)

المزيد من الملفات بحسب الصف الثالث والمادة اجتماعيات في الفصل الثاني

اختبار قصير	1
نشاط صفي في درس تنوع اشكال السطح في بلادي	2
سؤال قصير أول	3
مراجعة شاملة للمادة	4
كراسة أنشطة	5

تم تحميل هذا الملف من موقع المناهج العمانية



موقع المناهج العمانية

www.alManahj.com/om

الملف كراسة أنشطة

[موقع المناهج](#) ⇨ [المناهج العمانية](#) ⇨ [الصف الثالث](#) ⇨ [اجتماعيات](#) ⇨ [الفصل الثاني](#)

روابط مواقع التواصل الاجتماعي بحسب الصف الثالث



روابط مواد الصف الثالث على تلغرام

[الرياضيات](#)

[اللغة الانجليزية](#)

[اللغة العربية](#)

[التربية الاسلامية](#)

المزيد من الملفات بحسب الصف الثالث والمادة اجتماعيات في الفصل الثاني

ملخص المادة	1
كراسة أنشطة	2
تجميع مراجعات نهائية مع الإجابات	3
كراسة المعين	4
كتاب الطالب الجديد	5

سلطنة عمان

وزارة التربية والتعليم

المديرية العامة للتربية والتعليم

محافظة الداخلية "نزوى"



مدرسة رواد المستقبل الخاصة

كراسة أنشطة

موقع المناهج العُمانية
في

مادة الدراسات الاجتماعية

الصف الثالث

الفصل الدراسي الثاني

معلم المادة:

إسماعيل عبد اللطيف صالح أحمد

إهداء على روح أبي وأمي

المحور الأول: عُماننا الجميلة

الدرس الأول: أشكال السطح في بلادي

أولاً: أكمل الجمل الآتية بكلمة مناسبة:

- ١ - الجبل كتل من الصخور عما حولها، وفي أعلاها.....
- ٢ - السهل أرض قليلة.....
- ٣ - الصحراء أرض واسعة قليلة الأمطار و..... تغطيها الرمال أو.....
- ٤ - الواحة أرض خصبة في وسط الصحراء ترويه مياه أو.....
- ٥ - الوادي أرض منخفضة محصورة بين تجري فيها المياه عند سقوط.....
- ٦ - أعلى قمة جبلية في بلادي عُمان ويقع في محافظة.....
- ٧ - من صحاري بلادي التي تتميز بجمال كثبانها الرملية وتوجد في محافظة.....
- ٨ - البحر مساحة واسعة من المياه..... والخليج جزء من البحر ممتد داخل.....
- ٩ - المضيق ممر مائي طبيعي يصل بين أو خليجين أو.....
- ١٠ - الجزيرة مساحة من تحيط بها المياه من الجهات.....
- ١١ - شبه الجزيرة مساحة من تحيط بها المياه من جهات.....
- ١٢ - أكبر جزر بلادي عُمان..... وتوجد في محافظة.....
- ١٣ - تطلُّ بلادي عُمان على بحر عُمان وبحر..... والخليج.....
- ١٤ - تُشرف بلادي عُمان على مضيق الذي يربط بين.....
- ١٥ - يوجد الجبل الأخضر في ولاية وهو مكان يقصده.....
- ١٦ - ولاية بدبد هي واحة في الصحراء تشتهر بسياحة و.....
- ١٧ - تتميز ولاية صلالة بسهولها..... الذي يُمارس السكان فيه الزراعة و.....

١٨- تقع ولاية خَصب في شمال.....في محافظة.....

١٩- يستخدم ميناء خَصب لـ..... ونقل.....

ثانيًا: اختر الإجابة الصحيحة من بين البدائل المعطاة:

١- كتل من الصخور مرتفعة عما حولها، وفي أعلاها قمة:

أ - الجبل ب - السهل ج - الوادي د - الجزيرة

٢- أرض مستوية قليلة الارتفاع.

أ - الصحراء ب - السهل ج - الواحة د - شبه الجزيرة

٣ - أرض واسعة قليلة الأمطار والنباتات تغطيها الرمال أو الحصى:

أ - الوادي ب - الواحة ج - السهل د - الصحراء

٤- أرض خِصبَة وسط الصحراء، تروىها مياه العيون أو الآبار:

أ - السهل ب - الوادي ج - الصحراء د - الواحة

٥- أرض منخفضة محصورة بين منطقتين مرتفعتين، تجري فيها المياه عند سقوط الأمطار:

أ - الواحة ب - الجزيرة ج - الوادي د - السهل

٦- أعلى قمة جبلية في بلادي عُمان هي:

أ - جبال ظفار ب - الجبل الأخضر ج - جبل شمس د - جبل القمر

٧- مساحة واسعة من المياه المالحة:

أ - الخليج ب - المضيق ج - البحر د - الجزيرة

٨- جزء من البحر ممتد داخل اليابس:

أ - الجزيرة ب - الخليج ج - المضيق د - البحر

٩ - ممر مائي طبيعي يصل بين بحرين أو خليجين أو بحر وخليج:

أ - شبه الجزيرة ب - الخليج ج - الجزيرة د - المضيق

١٠ - مساحة من اليابسة تحيط بها المياه من جميع الجهات:

أ - الجزيرة ب - شبه الجزيرة ج - المضيق د - الخليج

١١ - مساحة من اليابسة محاطة بالمياه من ثلاث جهات:

أ - الخليج ب - المضيق ج - الجزيرة د - شبه الجزيرة

١٢ - أكبر الجزر في بلادي عُمان:

أ - جزيرة مصيرة ب - جزر الحلايبات ج - جزر الديمانيات د - جزيرة طناب الصغرى

١٣ - تطل بلادي عُمان على بحر عُمان وبحر:

أ - الأحمر ب - المتوسط ج - العرب د - الادرياتي

١٤ - تُشرف بلادي عُمان على مضيق:

أ - باب المندب ب - جبل طارق ج - هرمز د - البوسفور

١٥ - يقع الجبل الأخضر في ولاية:

أ - منح ب - آدم ج - نزوى د - بُهلا

١٦ - الولاية التي تشتهر بسياسة المغامرات والتخييم:

أ - سمائل ب - بدبد ج - آدم د - منح

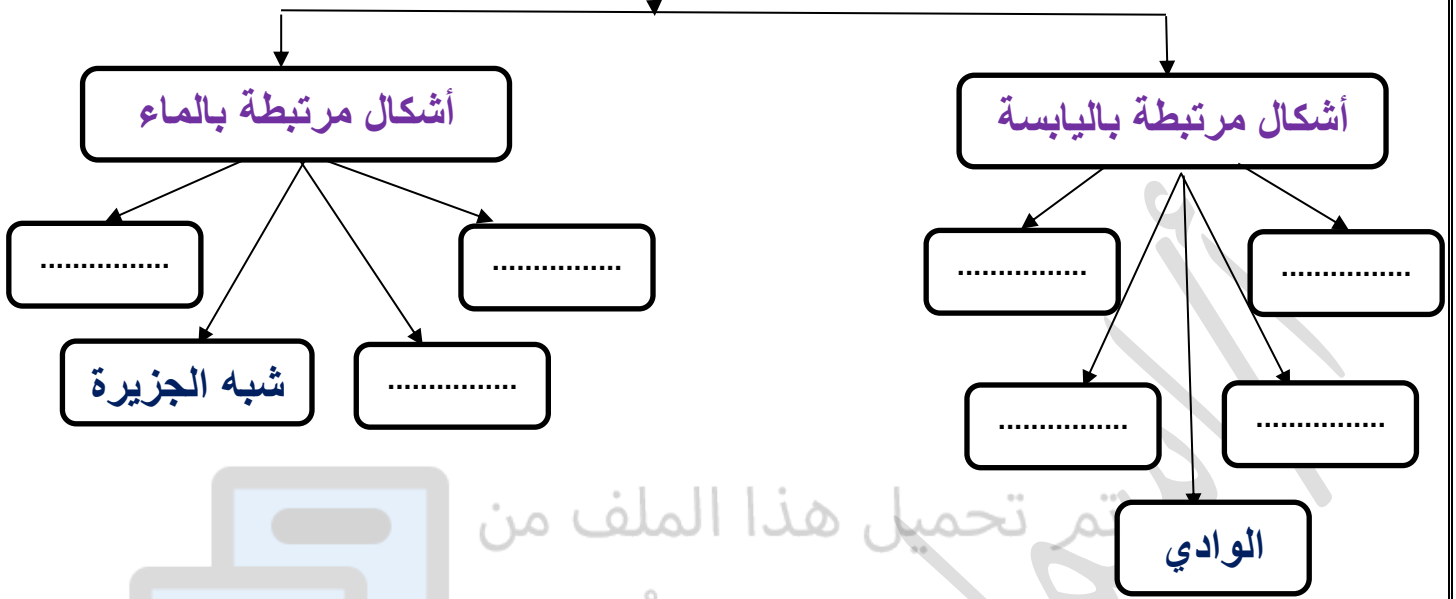
١٧ - الولاية التي تتميز بسهولة الأخضر الذي يمارس فيه الزراعة والرعي:

أ - منح ب - إزكي ج - سمائل د - صلاة

١٨ - الولاية التي تشتهر بصيد الأسماك وتوجد في شمال عُمان:

أ - خصب ب - منح ج - إزكي د - نزوى

ثالثًا - أكمل المخطط التالي بأشكال السطح في بلادي عُمان"



رابعًا: اكتب أسفل الصور التالية شكل السطح المرتبط باليابسة:



خامساً: (١) اكتب أسفل الصور التالية شكل السطح المرتبط بالماء:



(٢) اكتب أسفل الأشكال التالية الاسم الصحيح الدال عليه ، مستعيناً بما بين القوسين:

(الجبل الأخضر - ولاية بدبد - ولاية خصب - ولاية صلالة)



(٣) ادرس الخريطة التي أمامك، ثم اكتب دلالات

الأرقام التالية:

- ١- بحر.....
- ٢- مسطح مائي.....
- ٣- بحر.....



٤) صل من العمود (أ) ما يناسب العمود (ب) :

(أ)

(ب)

- ليما

- الديمانيات

- آتين

- الربع الخالي

- سمحان

- دربات



تم تحميل هذا الملف من
موقع المناهج العُمانية

alManahj.com/om

٥) صل من العمود (أ) ما يناسب العمود (ب) .

(أ)

- تستخرج منها بعض المعادن

- تُبنى فيها السدود لحفظ الماء

- يتركز فيها السكان بسبب خصوبتها

- ووفرة مياهها

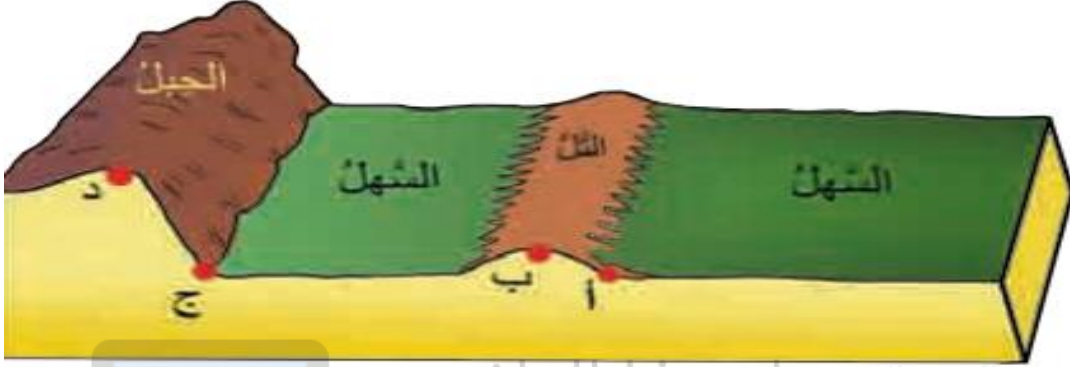
- تُنقل عبره البضائع إلى الدول المختلفة

- دلل على تنوع مظاهر السطح في البيئة العُمانية:

(ب)



أضف إلى معلوماتك:



أ- تخيل أنك تمشي من السهل إلى التل :

صاعداً إلى الأعلى

هابطاً إلى الأسفل

خفيف

شديد

شديد

خفيف

● الميل (الانحدار) من النقطة ب إلى النقطة أ

● الميل (الانحدار) من النقطة د إلى النقطة ج

ب- تخيل أنك تمشي من الجبل إلى السهل :

هابطاً إلى الأسفل

صاعداً إلى الأعلى

● أمشي من الجبل إلى السهل

ج- تخيل أنك تمشي من التل إلى السهل :

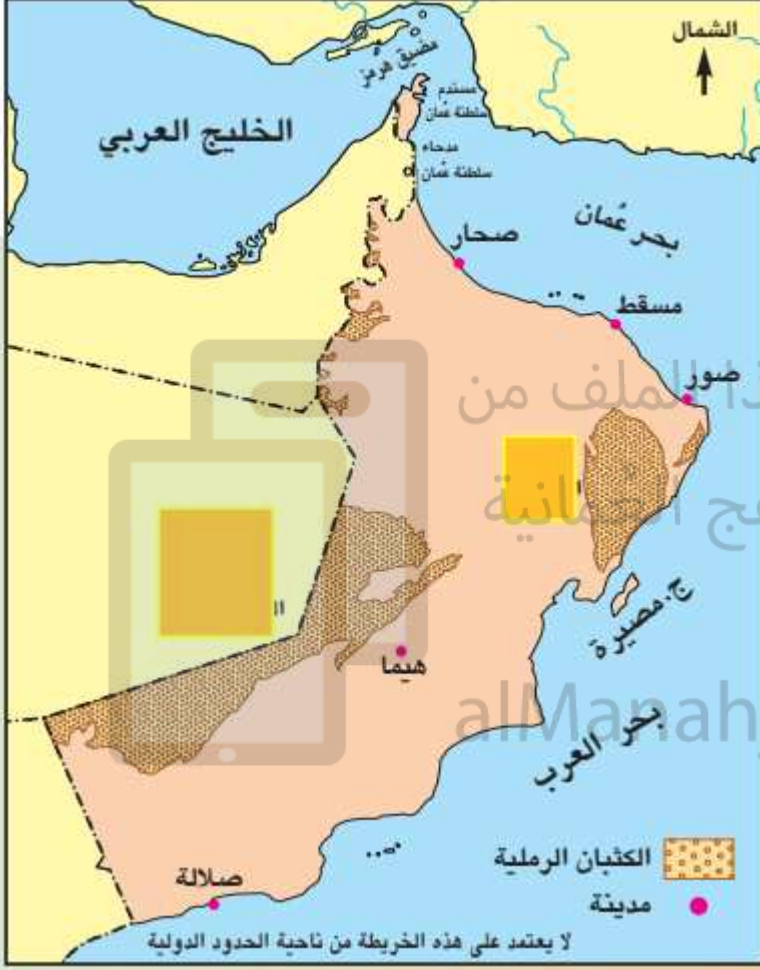
هابطاً إلى الأسفل

صاعداً إلى الأعلى

● أمشي من التل إلى السهل

أضف إلى معلوماتك:

- أنظر وأربط بخط بين صورة الصحراء وموقعها على الخريطة:



رمال الربع الخالي.



رمال الشرقية ورمال آل وهيبة.

اكتب الرمز الصحيح بداخل المربع الذي يُناسبه :

- البحر ☐
- المحيط ☐
- الخليج ☐
- المضيق ☐

- أ- جزء من البحر داخل في اليابسة .
- ب- ممر مائي طبيعي يصل بين بحرين أو خليجين أو بحر وخليج .
- ج- مساحة واسعة من المياه المالحة .
- د- بحر كبير يحيط بمساحات واسعة من اليابسة .

أضف إلى معلوماتك:

بعض فوائد الجبال



الجبال مصدرٌ لحجارة البناء .



تزدهر الزراعة على سفوح الجبل الأخضر .



تُستخرج المعادن من بعض المناطق الجبلية .



تمثل الجبال مناطق جذب للسياح لجمالها .



ترعى الحيوانات الأعشاب في المناطق الجبلية .

- صل الجزر وأشباه الجزر بموقعهم الصحيح على الخريطة:

alManahj.com/om



شبه جزيرة مسندم



جزيرة مصيرة



جزر الحلايب

أضف إلى معلوماتك:

- أصل بخط بين موقع الميناء أو المرفأ البحري على الخريطة، وصورة ذلك الميناء أو المرفأ



ميناء السلطان قابوس.



مرفأ الصيد بصور.



ميناء صلالة .

الدرس الثاني: عَالَمٌ من بلادي

الخليل بن أحمد الفراهيدي

أولاً: أكمل الجمل الآتية بكلمة مناسبة:

- ١- ولد الخليل بن أحمد عام هـ، في إحدى قرى ساحل
- ٢- يُنسب الخليل بن أحمد إلى قبيلة العُمانية، وقد نشأ محباً لـ
- ٣- رحل الخليل بن أحمد إلى موطن العلماء، و
- ٤- حضر الخليل بن أحمد حلقات في البصرة.
- ٥- أصبح الخليل بن أحمد من المشهورين، وقصده المتعلمون ليأخذوا عنه
- ٦- طلب العلم يحتاج إلى و
- ٧- من أشهر مؤلفات الخليل بن أحمد و
- ٨- يُعتبر الخليل بن أحمد من أشهر علماء وإليه يرجع اكتشاف
- ٩- عِلْمُ العَرُوضِ هو عِلْمٌ مرتبط بـ وقد توصل إليه الخليل بن أحمد عندما كان يسير في سوق النحاسين بـ

ثانياً: اختر الإجابة الصحيحة من بين البدائل المعطاة:

- ١- ولد الخليل بن أحمد عام:
أ - ٨٠ هـ ب - ٩٠ هـ ج - ١٠٠ هـ د - ١١٠ هـ
- ٢- المحافظة التي نشأ فيها الخليل بن أحمد الفراهيدي هي:
أ - جنوب الباطنة ب - جنوب الشرقية ج - الظاهرة د - البريمي
- ٣- المدينة التي رحل إليها الخليل بن أحمد:
أ - بغداد ب - البصرة ج - الفسطاط د - الرباط

٤- من أشهر مؤلفات الخليل بن أحمد الفراهيدي:

أ - النقط والشكل ب - الفوائد والقواعد ج - قصيدة السّفالية د - جامع البيان

٥ - من أشهر مؤلفات الخليل بن أحمد الفراهيدي:

أ - جامع البيان ب - قصيدة السّفالية ج - مُعجم العين د - آداب المناسك

٦- من أشهر العلوم التي اكتشفها أو وضعها الخليل بن أحمد الفراهيدي علم:

أ - الصرف ب - العروض ج - النحو د - البلاغة

٧- يُعتبر الخليل بن أحمد الفراهيدي من أشهر علماء اللغة:

أ - العربية ب - الفارسية ج - الإنجليزية د - الإغريقية

٨- عِلْمُ العَرُوضِ هو عِلْمٌ مرتبط بـ:

أ - البلاغة ب - الشعر ج - الخطابة د- الصرف

٩- اكتشف الخليل بن أحمد عِلْمُ العَرُوضِ عندما كان يسير في سوق النحاسين بمدينة:

أ - بغداد ب - الكوفة ج - الأندلس د- البصرة

- ثالثاً: (١) علل:

(أ) رحيل الخليل بن أحمد الفراهيدي إلى البصرة؟

(ب) لقب الخليل بن أحمد بالفراهيدي؟

(٢) من خلال دراستك لدرس (الخليل بن أحمد الفراهيدي)، ما رأيك في هذه الشخصية؟ ولماذا؟

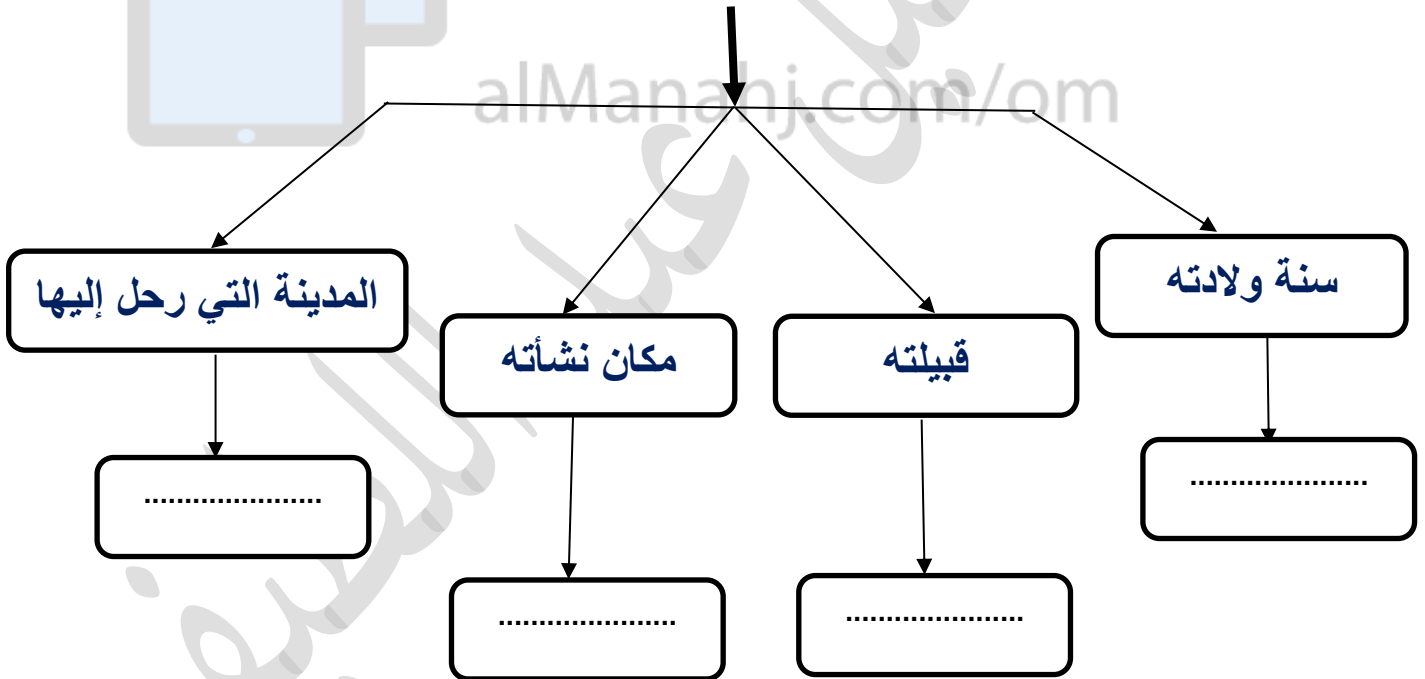
رأيك:

السبب:

٣) دلل على: كان الخليل بن أحمد محباً لطلب العلم:

رابعاً: صمم خريطة ذهنية لأهم مؤلفات الخليل بن أحمد الفراهيدي.

خامساً: أكمل المخطط التالي عن الخليل بن أحمد الفراهيدي، مستعيناً بما بين القوسين:
(جنوب الباطنة - الظاهرة - ١٠٠هـ - ١١٠هـ - الأزدي - النباهنة - البصرة - بغداد)



سادساً: ادرس الخريطين التاليتين، ثم أجب عن الأسئلة التي تليهما:

(١)



(٢)



١- ما الرقم الصحيح الدال على المحافظة التي نشأ فيها الخليل بن أحمد في الخريطة رقم (١)؟


٢- ضع دائرة على المدينة التي رحل إليها الخليل بن أحمد في الخريطة رقم (٢) .

أولاً: أكمل الجمل الآتية بكلمة مناسبة:

- ١- يُحتفل بالعيد الوطني في من كل عام، ويستقبله العُمانيون بكل
- ٢- أرسى دعائم النهضة المباركة وواصل مسيرتها
- ٣- من مظاهر الاحتفال بالعيد الوطني و
- ٤ - من أنواع الفنون الشعبية التي تقام في العيد الوطني و

ثانياً:

- ١- صمم خريطة ذهنية لبعض مظاهر الاحتفال بالعيد الوطني.



موقع المناهج العُمانية

alManahj.com/om

- ٢- صمم خريطة ذهنية لبعض إنجازات مؤسس نهضة بلادي السلطان قابوس طيب الله ثراه.

- ٣- صمم خريطة ذهنية لبعض إنجازات قائد النهضة المتجددة السلطان هيثم حفظه الله ورعاه.

ثالثًا: دلل على بعض إنجازات النهضة المباركة:

رابعًا: ما دورك كمواطن في المحافظة على إنجازات النهضة المباركة؟

خامسًا: أكتب كل جملة من الجمل الآتية أسفل الصور التي تناسبها:

(الألعاب النارية - عرض طلابي - فن الرزحة - سباق الخيل - سباق الهجن - فن العازي)



الدرس الرابع: السياحة والتجارة في بلادي

أولاً: أكمل الجمل الآتية بكلمة مناسبة:

- ١- السياحة هي انتقال فرد أو من الأفراد لزيادة معينة داخل أو خارج الدولة.
- ٢- من أنواع السياحة في بلادي عُمان وسياحة
- ٣- تمتلك بلادي العديد من المواقع السياحية الـ والـ التي جعلتها مقصداً للسياح
- ٤- التجارة هي عملية المنتجات و.....
- ٥- تعمل الحكومة على تشجيع التجارة، من خلال إنشاء العديد من و.....
- ٦- تُعرف التجارة عن طريق شبكة المعلومات (الإنترنت) بالتجارة.....

ثانياً: اختر الإجابة الصحيحة من بين البدائل المعطاة:

١ - المفهوم الصحيح لانتقال فرد أو مجموعة من الأفراد لزيارة أماكن معينة:

- أ - التجارة ب - الزراعة ج - الصناعة د - السياحة

٢ - الشخص الذي يقوم بتعريف السياح بالمواقع السياحية وإعطائهم معلومات عنها هو:

- أ - المرشد السياحي ب - المضيف ج - الطبيب د - المهندس

٣ - الشخص الذي يتولى مسؤولية الفندق والعاملين به هو:

- أ - المضيف ب - المدير ج - المهندس د - الطبيب

٤ - الشخص الذي يقوم بالمحافظة على الأمن في الطائرة، وتقديم الضيافة لهم هو:

- أ - الطيار ب - المهندس ج - المضيف د - الطبيب

٥ - المفهوم الصحيح لعملية بيع المنتجات وشرائها:

- أ - التجارة ب - الصناعة ج - السياحة د - الزراعة

٦ - الطريق الذي يتم من خلاله نقل المنتجات عبر المطارات:

- أ - البحري ب - البري ج - الجوي د - النهري

٧- الطريق الذي يتم من خلاله نقل المنتجات عبر السيارات والشاحنات:

د- الجوي

ج - النهري

ب - البحري

أ - البري

ثالثًا: اكتشف نوع السياحة (داخلية، خارجية) من خلال الصور الآتية:



تم تحميل هذا الملف من

موقع المناهج العُمانية

رابعًا: أجب عما يأتي:

١- ما رأيك فيما تقوم به الحكومة الرشيدة في بلادي عُمان، لتنشيط قطاع السياحة؟ ولماذا؟

رأيك:

السبب:

٢- دلل على: دور الحكومة الرشيدة في بلادي عُمان في تنشيط قطاع السياحة.

.....

.....

٣- اكتب مقترحاتك لتطوير قطاع السياحة في بلادي عُمان:

.....

.....

٤- رأيت زميلاً لك يعبث بالمعالم السياحية، ما رأيك؟ ولماذا؟

رأيك:

السبب:

خامساً: أكتب أسفل الصور الآتية، نوع الجذب السياحي، مستعيناً بما بين القوسين:
(المواقع الأثرية - التنوع المناخي - الخدمات السياحية - المحميات الطبيعية)



سادساً: صل المفهوم الصحيح في العمود (أ) بما يناسب الصورة في العمود (ب).

(ب)

(أ)



- أقوم بتعريف السياح بالمواقع السياحية وإعطائهم معلومات عنها.



- أقوم بالمحافظة على أمن الركاب وراحتهم وتقديم الضيافة لهم



- أتولى مسؤولية الفندق والعاملين به.

أضف إلى معلوماتك:

أهمية السياحة

تشكل مصدرًا مهمًا لدخل الدولة

توفر فرص عمل لعدد كبير من السكان

تتمي العلاقات والتبادل الثقافي بين الشعوب

أضف إلى معلوماتك:

مقومات السياحة

مقومات بشرية

وسائل النقل والاتصالات

الأمن والأمان

تنوع الآثار التاريخية

العادات والتقاليد

وفرة المنشآت السياحية

مقومات طبيعية

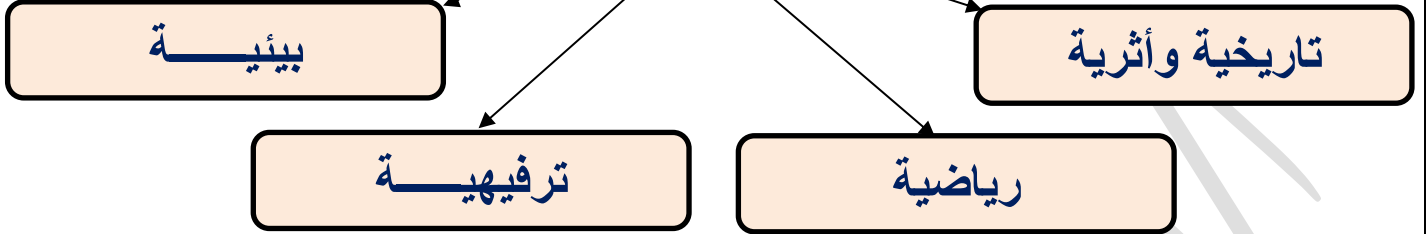
الطبيعة الخلابة

المناخ المعتدل

الموقع

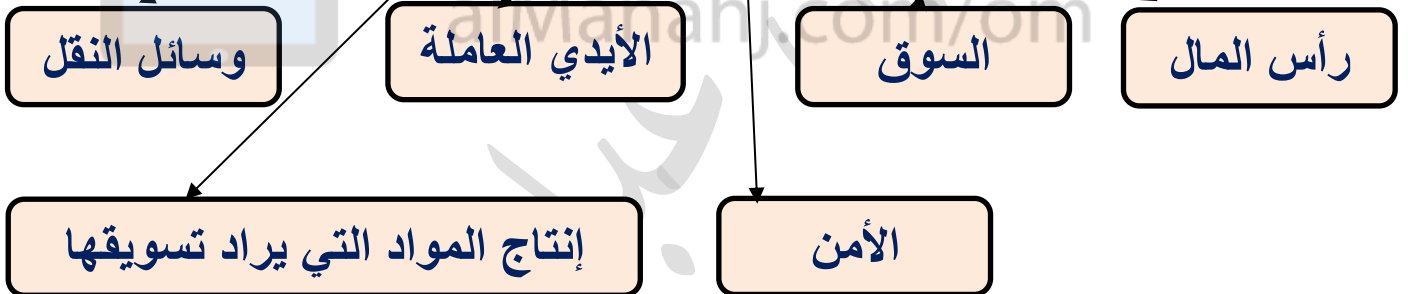
أضف إلى معلوماتك:

أنواع السياحة في سلطنة عُمان



أضف إلى معلوماتك:

مقومات التجارة



سابعًا ١- أكمل الفراغ بوضع كلمة (تصدير - استيراد) فيما يأتي:

أ- يُسمى بيع السلطنة للأسماك واللبن والنفط للدول الأخرى

ب - يُسمى شراء السلطنة للحبوب والآلات والسكر والأرز من الخارج

٢- أكتب ثلاث سلع تصدرها السلطنة للدول الأخرى.

.....

٣ - ماذا نسمي الإنسان الذي يمارس مهنة البيع والشراء؟

ثامناً: أجب عما يأتي:

١- ما رأيك فيما تقوم به الحكومة الرشيدة في بلادي عُمان، لتشجيع التجارة؟ ولماذا؟

رأيك:

السبب:

٢- دلل على: دور الحكومة الرشيدة في بلادي عُمان، على تشجيع التجارة.

.....

.....

٣ - اكتب مقترحاتك لتطوير وتشجيع التجارة في بلادي عمان.

.....

.....

٤- ما أهمية الطرق البرية والمطارات، والموانئ بالنسبة للتجارة؟

.....

.....

٥- ماذا تعرف عن التجارة الإلكترونية؟

.....

٦- أضع عبارة "قطاع عام" أو "قطاع خاص" في الفراغات حسبما تدلُّ العبارات الآتية:

١- الدكان الذي أشتري منه حاجتي من الدفاتر. ()

٢- المستشفى السلطاني. ()

٣- قطاع الكهرباء. ()

٤- المزارع التي يملكها المواطنون ()

المحور الثاني: أحب بلادي

الدرس الأول: معالم من بلادي

أولاً: أكمل الجمل الآتية بكلمة مناسبة:

- ١- المدينة تجمع سكاني كبير تتميز الكثيرة والمرتفعة وشوارعها
- ٢- تتميز المدينة بأسواقها ويعمل أهلها في أو
- ٣- تكثر في المدينة المؤسسات و
- ٤- تُعد مدينة أبرز مدن سلطنة عُمان، وهي بلادي.
- ٥- تقع قرية (وكان) في ولاية بمحافظة
- ٦- القرية تجمع سكاني من المدينة، تتميز بمبانيها وطرقها
- ٧- يعمل أهل القرية في الزراعة و أو

ثانياً: اختر الإجابة الصحيحة من بين البدائل المعطاة:

- ١- تجمع سكاني كبير تتميز بمبانيها الكثيرة والمرتفعة وشوارعها المعبدة:
أ - القرية ب - المدينة ج - الحي د - الحارة
- ٢- أسواقها كبيرة ويعمل أهلها في الصناعة أو التجارة أو غيرها:
أ - الحارة ب - القرية ج - المدينة د - الحي
- ٣- تكثر بها المؤسسات الحكومية والخاصة:
أ - القرية ب - الحارة ج - الحي د - المدينة
- ٤- المدينة التي تعتبر من أبرز مدن سلطنة عُمان وهي عاصمة بلادي:
أ - البريمي ب - مسقط ج - ظفار د - صلالة

٥- تقع قرية (وكان) في ولاية:

أ - شناس ب - صحار ج - السويق د - نخل

٦- تقع قرية (وكان) في محافظة:

أ - جنوب الباطنة ب - جنوب الشرقية ج - الظاهرة د - البريمي

٧- تجمع سكاني تتميز بمبانيها وطرقها الضيقة:

أ - القرية ب - الحارة ج - الحي د - المدينة

٨ - يعمل أهلها بالزراعة، وتربية الحيوانات أو صيد الأسماك وتتوافر فيها بعض الخدمات:

أ - الحارة ب - القرية ج - المدينة د - الحي

أضف إلى معلوماتك:

ثالثًا: (١) صل من العمود (أ) ما يناسب العمود (ب).

(أ)

- اللحوم والألبان والصوف

(ب)

- مجتمع المدينة

- الحبوب والخضروات والفواكه

- مجتمع البادية

- المصنوعات ويعمل بالتجارة

- مجتمع القرية

(٢) ما المقصود بالمجتمع؟

- مجموعة من الناس يعيشون معًا بروابط مشتركة.

رابعًا: أجب عما يأتي:

(تتعاون المجتمعات مع بعضها ولا يستطيع أي مجتمع أن يعيش في معزل عن الآخر؛

فمجتمع البادية يحتاج إلى مجتمع القرية، ومجتمع القرية يحتاج إلى مجتمع المدينة)

١- اقرأ الفقرة السابقة جيدًا، ثم أجب عما يأتي:

أ - ما الصفة التي تتحلى بها المجتمعات الثلاث؟

ب - ما رأيك في الصفة التي تحلت بها المجتمعات الثلاث؟ ولماذا؟

رأيك:

السبب:

خامسًا: ١- قارن في الجدول التالي بين مجتمع المدينة والقرية، مستعينًا بما بين القوسين:

(مبانيها كثيرة ومرتفعة - مبانيها وطرقها ضيقة - يعمل أهلها بالصناعة والتجارة - يعمل أهلها بالزراعة وتربية الحيوانات أو صيد الأسماك - تكثر بها المؤسسات الحكومية والخاصة - تتوفر بها بعض الخدمات).

القرية	المدينة

٢- صمم خريطة ذهنية لمميزات المدينة.

المحور الثاني: أحب بلادي

الدرس الثاني: أسد البحار العُماني

أولاً: أكمل الجمل الآتية بكلمة مناسبة:

- ١- أشهر البحارة العمانيين هو..... وولد في مدينة..... العُمانية.
- ٢- نشأ أسد البحار على حب..... منذ طفولته، وعندما بلغ..... من عمره رافق والده في رحلته البحرية لكي يتعلم منه علوم.....
- ٣- كان أسد البحار يجلس مع الرّبابنة أي..... فيستمع ل.....
- ٤- من إنجازات أحمد بن ماجد اختراع..... التي تستخدم في.....
- ٥- من أشهر مؤلفات أحمد بن ماجد..... و.....
- ٦- استخدمت..... لقياس ارتفاع.....
- ٧- وصل أحمد بن ماجد في رحلاته البحرية إلى..... و..... و.....

ثانياً: اختر الإجابة الصحيحة من بين البدائل المعطاة:

١- المدينة التي ولد بها أحمد بن ماجد هي:

- أ - جلفار ب - صحار ج - مسقط د - قلّهات

٢- رافق أحمد بن ماجد والده في رحلته البحرية وكان عمره:

- أ - ٥ سنوات ب - ٧ سنوات ج - ٩ سنوات د - ١٠ سنوات

٣- من أهم إنجازات أحمد بن ماجد اختراع:

- أ - الإبرة المغناطيسية ب - الترمومتر ج - البارومتر د - الباروجراف

٤- من أشهر مؤلفات أحمد بن ماجد:

- أ - النقط والشكل ب - العروض ج - معجم العين د - الفوائد والقواعد

٥- استخدمت خَشَبَاتُ ابن ماجد لقياس ارتفاعات:

أ- الأرض ب- النجوم ج- البحار د- الكواكب

٦- البلدة التي خرج منها أحمد بن ماجد في رحلاته البحرية:

أ- عُمان ب- البصرة ج- بغداد د- الكوفة

٧- المناطق التي وصل إليها أحمد بن ماجد في رحلاته البحرية:

أ- بلاد الأندلس وبلاد فارس ب- الهند والصين وشرقي أفريقيا

ج- بلاد ما وراء النهر د- بلاد فارس وبلاد الشام

ثالثاً: ١- صمم خريطة ذهنية للأخطار التي واجهت أحمد بن ماجد في رحلاته البحرية.

alManahj.com/om

أضف إلى معلوماتك:

أشهر مؤلفات أحمد بن ماجد



أضف إلى معلوماتك:

رابعًا - ادرس الخريطة التي أمامك جيدًا، ثم أجب عن الأسئلة التي تليها:



١- ضع دائرة على المدينة العُمانية التي نشأ فيها أحمد بن ماجد.

٢- ما المناطق التي وصل إليها أحمد بن ماجد في رحلاته البحرية، حسب ما تدل عليه الأرقام الموضحة على الخريطة؟

١- ٢- ٣-

خامسًا: ١- علل: تسمية أحمد بن ماجد بأسد البحار؟

٢- دلل على : إنجازات أحمد بن ماجد.

سادساً: صل من العمود (أ) ما يناسب العمود (ب).

(أ)

(ب)

- أرشد البحارة لمعرفة
الاتجاهات في البحر

خَشَبَاتُ ابن ماجد

- أُعطي معلوماتٍ عن
علم البحار

البوصلة

كتاب (الفوائد في أصول
علم البحر والقواعد)

- أساعد البحارة في معرفة
ارتفاع النجوم

تم تحميل هذا الملف من
موقع المناهج العُمانية
alManahj.com/om

سابعاً:

١- ما رأيك في الأعمال التي قام بها أحمد بن ماجد؟ ولماذا؟

رأيك:

السبب:

أضف إلى معلوماتك: ولد أحمد بن ماجد سنة (٨٣٨هـ / ١٤٣٥م)
وتوفي سنة (٩٠٥هـ / ١٥٠٠م)

المحور الثاني: أحب بلادي

الدرس الثالث: مناسبات وطنية

أولاً: أكمل الجمل الآتية بكلمة مناسبة:

- ١- تحتفل شرطة عُمان السلطانية في اليوم..... من شهر..... من كل عام بيومها السنوي.
- ٢- من أدوار شرطة عُمان السلطانية نشر..... وحفظ..... في ربوع بلادي عُمان.
- ٣- تحتفل بلادي عُمان في اليوم..... من شهر..... من كل عام بيوم القوات المسلحة
- ٤- تحتفل بلادي عُمان بيوم المُعَلِّم في اليوم..... من شهر..... من كل عام.
- ٥- من أدوار المعلم..... الأجيال وتعليمهم، وغرس..... في نفوسهم.
- ٦- المعلم الأول للمسلمين هو.....

ثانياً: اختر الإجابة الصحيحة من بين البدائل المعطاة:

- ١- تحتفل شرطة عُمان السلطانية بيومها السنوي في:

أ - ٤ يناير ب - ٥ يناير ج - ٦ يناير د - ٧ يناير

- ٢- تحتفل بلادي عُمان بيوم القوات المسلحة في:

أ - ٨ ديسمبر ب - ٩ ديسمبر ج - ١٠ ديسمبر د - ١١ ديسمبر

- ٣- تحتفل بلادي عُمان بيوم المُعَلِّم في:

أ - ٢٢ فبراير ب - ٢٣ فبراير ج - ٢٤ فبراير د - ٢٥ فبراير

- ٤ - المعلم الأول للمسلمين وقودتهم هو:

أ - سيدنا محمد ﷺ ب - أبو بكر الصديق ؓ ج - عمر بن الخطاب ؓ د - عثمان بن عفان ؓ

- ٥ - الشخص الذي يدافع عن الوطن ويحمي منجزاته هو:

أ - الشرطي ب - الجندي ج - المعلم د - المهندس

٦- الشخص الذي يربي الأجيال ويُعلمهم هو:

أ - المعلم ب - الجندي ج - الشرطي د - المهندس

٧- الشخص الذي يقوم بحماية الممتلكات والحفاظ عن النظام هو:

أ - الشرطي ب - المهندس ج - المعلم د - الجندي

ثالثاً: أجب عما يأتي:

١- علل: أ) تحتفل شرطة عُمان السلطانية في الخامس من يناير من كل عام بيومها السنوي؟

ب) تحتفل بلادي عُمان في الحادي عشر من ديسمبر من كل عام بيوم القوات المسلحة؟

ج) تحتفل بلادي عُمان في ٢٤ من فبراير من كل عام بيوم المُعلِّم؟

٢ - أ) صمم خريطة ذهنية لبعض أدوار الشرطة العُمانية.

ب - صمم خريطة ذهنية لبعض أدوار القوات المسلحة العُمانية.

ج - صمم خريطة ذهنية لبعض أدوار المُعلِّم.

٣- أ) ما رأيك فيما تقوم به شرطة عُمان السلطانية؟ ولماذا؟

رأيك:

السبب:

ب) ما رأيك فيما تقوم به القوات المسلحة العُمانية؟ ولماذا؟

رأيك:

السبب:

ج) ما رأيك فيما يقوم به المُعلِّم؟ ولماذا؟

رأيك:

السبب:

٤- برهن على جهود شرطة عُمان السلطانية في نشر الأمن وحفظ النظام وتقديم الخدمات للمواطنين في ربوع بلادي.

٥- برهن على أدوار القوات المسلحة في حماية بلادي عُمان.

٦- برهن على جهود الحكومة الرشيدة في الاهتمام بالتعليم في ربوع بلادي عُمان.

٧- ما الواجب عليك تجاه قواتنا المسلحة العُمانية؟

٨- ما الواجب عليك تجاه بلادي عُمان؟

٩- ما الواجب عليك تجاه معلمك أو معلمتك؟

رابعاً: (١) أكتب أسفل كل صورة واجبات كلاً (الجندي - الشرطي - المعلم) مستعيناً بما بين القوسين.

(حفظ الأمن ونشر النظام - تنمية عقلياً وجسدياً وروحياً - حماية الوطن والدفاع عنه)



٢) ماذا تريد أن تكون في المستقبل؟ ولماذا؟

السبب:

خامساً: صنف العبارات التالية التي تعبر عن السلوك الصحيح والتي تعبر عن السلوك الخاطئ

في الجدول التالي:

- ١- أسلم على معلمتي عند الدخول إلى الفصل.
- ٢- أدعو لمعلمتي بالخير.
- ٣- أقاطع زميلي عند إجابته عن أسئلة المعلمة.
- ٤- أخرج من الصف دون استئذان.
- ٥- أنصت لمعلمتي في أثناء شرحها للدرس.
- ٦- أعبت بلوحات الفصل.

السلوكيات الصحيحة	السلوكيات الخاطئة
تم تحميل هذا الملف من موقع المناهج العمانية	

سادساً: عبر بأسلوبك عن الصور التي أمامك.



الدرس الرابع: منتجات وطني

أولاً: أكمل الجمل الآتية بكلمة مناسبة:

- ١- يُقصد بالمنتجات العُمانية هي التي في بلادي عُمان، وهناك
- يُميزها عن غيرها من المنتجات.
- ٢- تتنوع المنتجات في بلادي عُمان منها و..... و.....
- ٣- من المنتجات الغذائية في بلادي عُمان و.....
- ٤- من المنتجات المعدنية في بلادي عُمان و.....
- ٥- من المنتجات البلاستيكية في بلادي عُمان و.....
- ٦- من جهود الحكومة الرشيدة لتطوير المنتج العُماني
- و.....

ثانياً: أجب عما يأتي: ١) صمم خريطة ذهنية لبعض المنتجات الغذائية في بلادي عُمان.

٢- صمم خريطة ذهنية لبعض المنتجات الكهربائية في بلادي عُمان.

٣- صمم خريطة ذهنية لبعض المنتجات المعدنية في بلادي عُمان.

٤- صمم خريطة ذهنية لبعض المنتجات البلاستيكية في بلادي عُمان.

alManahj.com/om

ثالثاً: أجب عما يأتي: (١) برهن على تنوع المنتجات في بلادي عُمان.

(٢) علل: تنوع المنتجات في بلادي عُمان؟

رابعًا: أجب عما يأتي:

١- ما رأيك فيما تقوم به الحكومة الرشيدة في بلادي عُمان للاهتمام بالمنتجات العُمانية؟ ولماذا؟

رأيك:

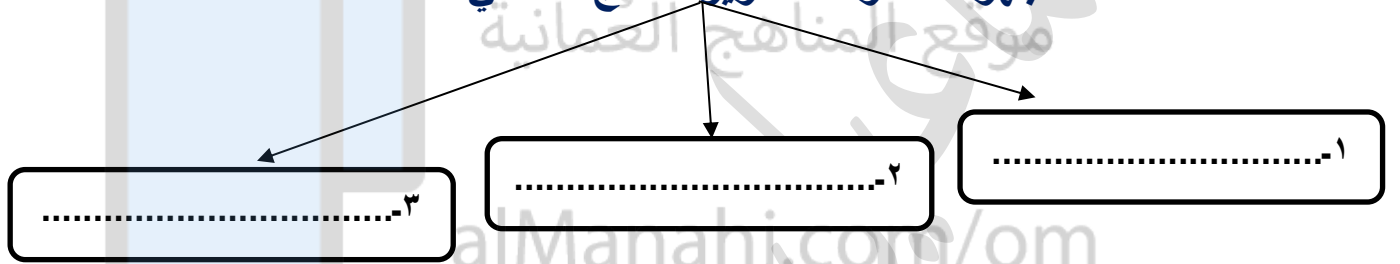
السبب:

٢ - ما الواجب عليك تجاه المنتجات التي صنعت في بلادي عُمان؟

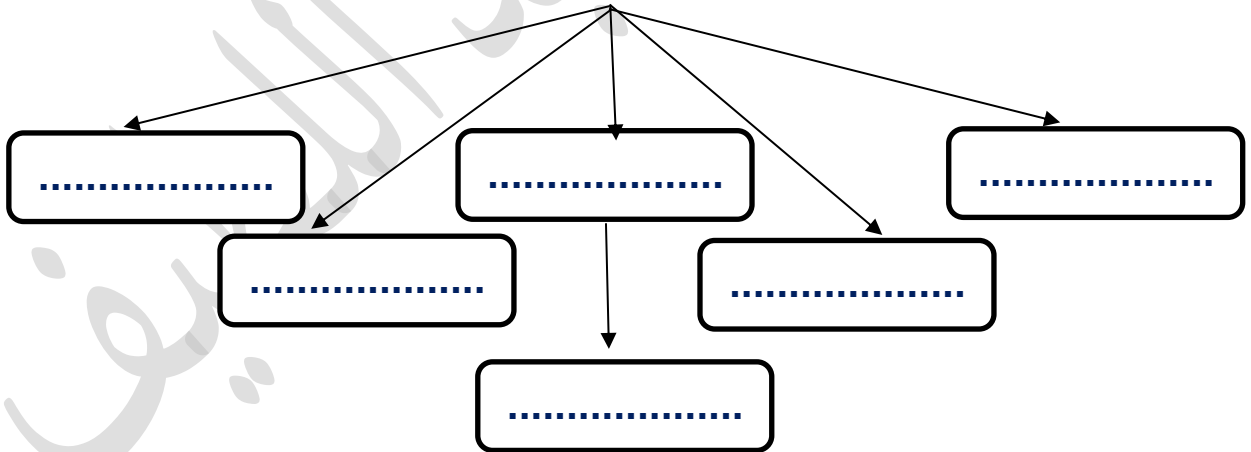
.....

٣- أكمل المخطط التالي:


جهود الحكومة لتطوير المنتج العُماني



٤- أكمل المخطط التالي ببعض المنتجات العُمانية الموجودة في منزلك.



خامساً: صنف المنتجات الآتية إلى منتجات (غذائية - معدنية - بلاستيكية) أسفل كل صورة:



سادساً: (١) كيف تتعرف على المنتجات التي صنعت في بلادي عُمان عن غيرها من المنتجات؟

(٢) اكتب مقترحاتك لتشجيع المنتجات العُمانية.

أسألكم الدعاء لأبي وأمي بالرحمة

ولي ولأهل بيتي بالستر

في الدنيا والآخرة وتفريج الكرب وتيسير الأمور وحسن الخاتمة

والسلام عليكم ورحمة الله وبركاته

أخوكم / إسماعيل عبد اللطيف صالح

هاتف / 94519850

مدرسة رواد المستقبل الخاصة

معلم الدراسات الاجتماعية