

تم تحميل هذا الملف من موقع المناهج العُمانية



*للحصول على أوراق عمل لجميع الصفوف وجميع المواد اضغط هنا

<https://almanahj.com/om>

* للحصول على أوراق عمل لجميع مواد الصف الثالث اضغط هنا

<https://almanahj.com/om/3>

* للحصول على جميع أوراق الصف الثالث في مادة علوم ولجميع الفصول, اضغط هنا

<https://almanahj.com/om/3science>

* للحصول على أوراق عمل لجميع مواد الصف الثالث في مادة علوم الخاصة بـ الفصل الأول اضغط هنا

<https://almanahj.com/om./3science1>

* لتحميل كتب جميع المواد في جميع الفصول للـ الصف الثالث اضغط هنا

<https://almanahj.com/om./grade3>

* لتحميل جميع ملفات المدرس نافجة الهاشمية وراية البلوشية و مريم الطاعونية و رحمة الحربية و فاطمة المسكرية اضغط هنا

للتحدث إلى بوت المناهج العمانية على تلغرام: اضغط هنا

https://t.me/omcourse_bot



الرياضيات

كتاب النشاط

٣

ثالثا:

الصف

الثالث

المعلمات المعدات لأدوات التقويم

أ. نافجة الهاشمية / أ. راية البلوشية

أ. مريم الطاعونية / أ. رحمة الحربية

الفصل الدراسي الأول

الطبعة التجريبية ١٤٣٨ هـ - ٢٠١٧ م

مشرفة التقويم / فاطمة المسكوية

CAMBRIDGE
UNIVERSITY PRESS

السؤال القصير (١)لمادة العلوم للصف الثالث

اسم الطالب / ة :

الصف : ٣ /

الدرجة الكلية / / ٥

ظلل الشكل البيضاوي يمين الإجابة الصحيحة : (درجة)

(١) المجموعة الغذائية التي يجب أن نأكل منها بأقل كمية هي :

النشويات البروتينات الدهون الخضروات والفواكه

(٢) أكمل الفراغ بالكلمة واحدة مناسبة : (٢ درجة)

(أ) تناول السكريات بكثرة يضر ب _____

(ب) تناول الكثير من الدهون والملح يضر ب _____

(٣) صنف الأكلات التالية (كولا ، برتقال ، كيك ، أرز) إلى غذاء صحي وغير صحي : (٢ درجة)

غير صحي	صحي

نموذج الإجابة السؤال القصير ١ للعلوم للصف الثالث

المفردة	الإجابة	الدرجة	مستوى التعليم	الهدف						
١	الدهون	١	معرفة	<u>الوحدة الثانية / الاعتناء بأنفسنا</u> نظام غذائي غير صحي						
٢	أ	٢	تطبيق	<u>الوحدة الثانية / الاعتناء بأنفسنا</u> (نظام غذائي غير صحي)						
	ب									
٣	<table border="1"> <tr> <td>صحي</td> <td>غير صحي</td> </tr> <tr> <td>برتقال</td> <td>كولا</td> </tr> <tr> <td>أرز</td> <td>كيك</td> </tr> </table>	صحي	غير صحي	برتقال	كولا	أرز	كيك	٢ (إذا الكل صحيح) درجة () إذا صنف كلمتين أو ٣ كلمات () صفر () إذا واحدة صحيحة	تطبيق	<u>الوحدة الثانية / الاعتناء بأنفسنا</u> (نظام غذائي صحي وغير صحي)
صحي	غير صحي									
برتقال	كولا									
أرز	كيك									

اسم الطالب / ة :

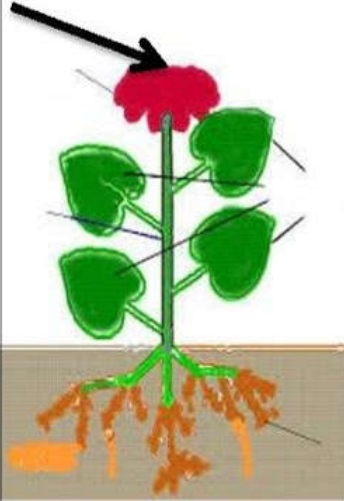
الصف : ٣ /

الدرجة الكلية /

الواجب المنزلي (١)لمادة العلوم للصف الثالث

ظلل الشكل البيضاوي يمين الإجابة الصحيحة : (معرفة ، درجة)

(١) يشير السهم إلى جزء من أجزاء النبات هو

 الأوراق الجذور الازهار الساق


(٢) أكمل فيما يلي (معرفة ، ٢ درجة)

يحتاج النبات لكي ينمو ؟

أ-

ب -

(٣) صل العمود الأول (أجزاء النبات) بوظيفته في العمود الثاني : (معرفة ، درجة)

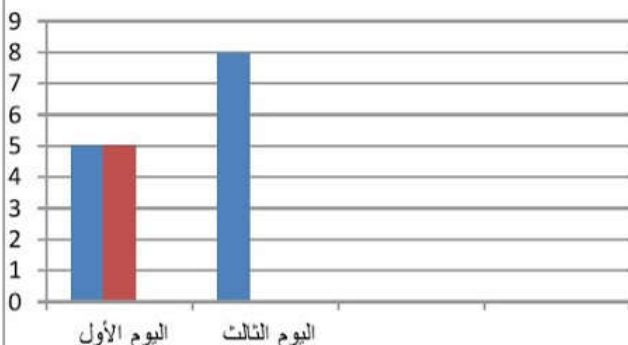
العمود الثاني
الوظيفة
تمتص الماء من التربة
تنتج البذور
تصنع الغذاء للنبات
ينقل الماء إلى الأوراق والازهار

العمود الأول
أجزاء النبات
الأوراق
الجذور
الساق
الازهار

(٣) لدى أحمد نبتتان متشابهتان قام بري واحدة ولم يرو الأخرى ومن ثم قام بقياس طول النبتتين كل يوم .

هذه نتائج اليوم الأول والثالث . (أرسم التمثيل البياني بالأعمدة لليوم الثالث) بدون

(الماء)



■ مع الماء
■ بدون ماء
■ عموداً

اليوم	مع الماء (سم)	بدون ماء (سم)
اليوم الأول	٥	٥
اليوم الثالث	٨	٤

نموذج الإجابة الواجب المنزلي ١ للعلوم للصف الثالث

الهدف	مستوى التعليم	الدرجة	الإجابة	الم فر دة
<u>الوحدة الأولى / الاعتناء بالنباتات</u> <u>النباتات وأجزاؤها</u>	معرفة	١	الازهار	١
<u>الوحدة الأولى / الاعتناء بالنباتات</u> <u>(النباتات بحاجة إلى الضوء والماء)</u>	معرفة	١	الضوء	أ
		١	الماء	ب
<u>الوحدة الأولى / الاعتناء بالنباتات</u> <u>(نقل الماء)</u>	معرفة	١	الأوراق : صنع الغذاء للنبات الجذور: تمتص الماء من التربة الساق : ينقل الماء إلى الأوراق والازهار الازهار : تنتج البذور	٣
<u>الوحدة الأولى / الاعتناء بالنباتات</u> <u>(النباتات بحاجة إلى الضوء والماء)</u>	تطبيق	١	<p>مع الماء بدون ماء عموداً</p> <p>اليوم الأول اليوم الثالث</p>	٤

نموذج الإجابة الواجب المنزلي ١ للعلوم للصف الثالث

الهدف	مستوى التعليم	الدرجة	الإجابة	الم فر دة
<u>الوحدة الأولى / الاعتناء بالنباتات</u> <u>النباتات وأجزاؤها</u>	معرفة	١	الازهار	١
<u>الوحدة الأولى / الاعتناء بالنباتات</u> <u>(النباتات بحاجة إلى الضوء والماء)</u>	معرفة	١	الضوء	أ
		١	الماء	ب
<u>الوحدة الأولى / الاعتناء بالنباتات</u> <u>(نقل الماء)</u>	معرفة	١	الأوراق : صنع الغذاء للنبات الجذور: تمتص الماء من التربة الساق : ينقل الماء إلى الأوراق والازهار الازهار : تنتج البذور	٣
<u>الوحدة الأولى / الاعتناء بالنباتات</u> <u>(النباتات بحاجة إلى الضوء والماء)</u>	تطبيق	١	<p>مع الماء بدون ماء عموداً</p> <p>اليوم الأول اليوم الثالث</p>	٤

اختبار مادة العلوم (١)للف الثالث

ظل الشكل البيضاوي يمين الإجابة الصحيحة :

١- لعظام وأسنان قوية تحتاج إلى : (درجة)

○ الحلويات ○ مشتقات الالبان ○ النشويات ○ البروتينات

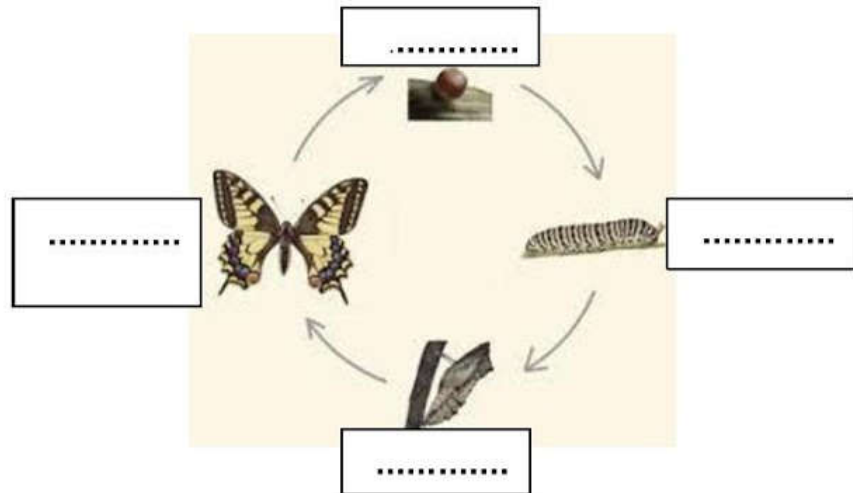
٢- عندما نعيش من دون ماء لأيام قليلة فإن . (درجة)

ضع الرمز (√) داخل المربع الصحيح لكل عبارة .

خطأ	صواب	العبارة
<input type="checkbox"/>	<input type="checkbox"/>	أ) نصاب بالجفاف عندما ينقص الماء من أجسامنا .
<input type="checkbox"/>	<input type="checkbox"/>	ب) الماء من النظام الغير الصحي.

٣- ممارسة التمارين الرياضية مفيدة للقلب والعظام و (درجة)

٤) أكتب المصطلحات على دورة حياة الفراشة التالية (٢ درجة)



٥) صنف الأشياء التالية إلى كائنات حية وأشياء غير حية : (٢ درجة)
(نبات ، كرة ، جمل ، طاولة)

كائنات حية	أشياء غير حية


ظل الشكل البيضاوي يمين الإجابة الصحيحة : (درجة)

١- قام محمد بوضع وردة بيضاء ذات ساق في وعاء الماء ثم أضاف قطرات قليلة من الصبغة الحمراء ، فأن ما سيحدث للنبتة هو ؟



يصبح لونها أزرق تموت يصبح لونها أحمر لا يحدث شيء

٢- خطط فيصل وجاسم للقيام باستقصاء



أ) أي النبتتين ستتمو بشكل أفضل ؟ _____

ب) ماذا سيحدث اذا وضعت النبتة رقم ٢ في مكان مظلم ؟

(٢ درجة)

تمنياتى لكم بالتوفيق و النجاح ...