

تم تحميل هذا الملف من موقع المناهج العمانية



اختبار قصير ثالث مع نموذج الإجابة

[موقع المناهج](#) ← [المناهج العمانية](#) ← [الصف الثالث](#) ← [علوم](#) ← [الفصل الثاني](#) ← [الملف](#)

تاريخ إضافة الملف على موقع المناهج: 20:06:14 2024-05-16

التواصل الاجتماعي بحسب الصف الثالث



اضغط هنا للحصول على جميع روابط "الصف الثالث"

روابط مواد الصف الثالث على تلغرام

[الرياضيات](#)

[اللغة الانجليزية](#)

[اللغة العربية](#)

[التربية الاسلامية](#)

المزيد من الملفات بحسب الصف الثالث والمادة علوم في الفصل الثاني

اختبار قصير	1
مراجعة شاملة لوحدة حواسنا الخمس	2
مراجعة الوحدة الرابعة الحواس	3
اختبار قصير ثالث نموذج اول	4
اختبار قصير في وحدة حواسنا الخمس	5

سلطنة عمان
وزارة التربية والتعليم
المديرية العامة للتربية والتعليم بشمال الباطنة
مدرسة النسائم للتعليم الأساسي (١-٤)

	المعرفة والفهم (٧)	الاختبار القصير (٣) في مادة العلوم للصف الثالث الأساسي	
	الاستقصاء العلمي (٣)	الاسم: _____	الصف: ٣ /
	الدرجة الكلية (١٠)		

أجب عن الأسئلة التالية :

ظل رمز الإجابة الصحيحة

١- أحد المواد التالية لامعة :

① طوب ② قطعة ثلج ③ قلم ④ قميص قطني

٢- شيء واحد لا يجذبه المغناطيس هو :

① مشبك ② مسمار ③ مفتاح ④ كوب زجاجي

٣- اكتب خاصيتين من خصائص الزجاج؟ _____

٤ - صنف المواد التالية حسب الخاصية المناسبة لها في الجدول التالي :

الدرجة

معرفة

درجة


درجة


درجة


تطبيق

درجتين

صلب	مرن

دبوس 

بالون 

كرة مطاطية 

٥- تحقق من صحة العبارات التالية التي كتبتها ريم في دفتر العلوم بوضع علامة (√) في المكان المناسب :

درجتين

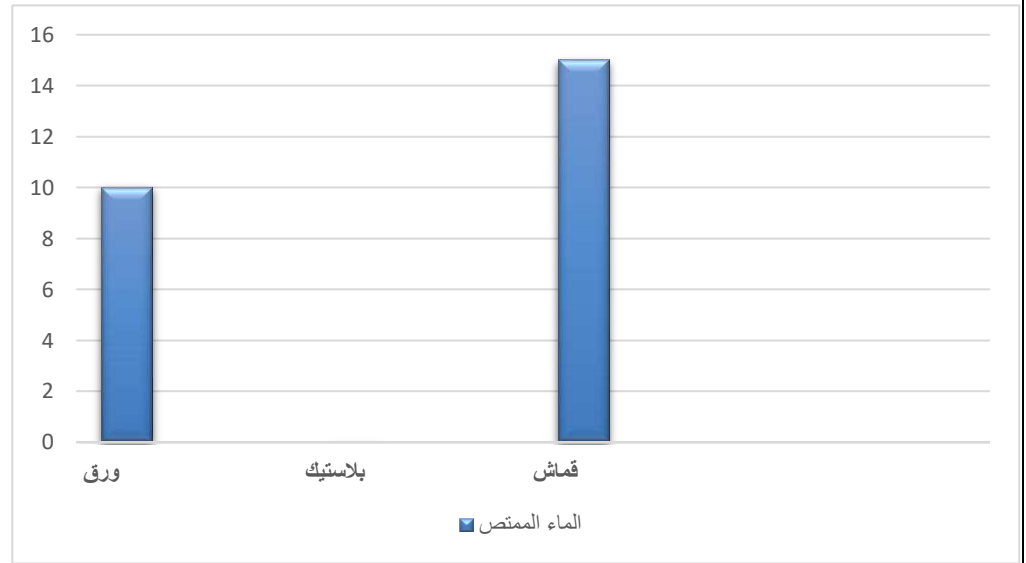
خطأ	صواب	العبارات
		المسطرة البلاستيكية قابلة للمغطة.
		ينجذب المغناطيس بحائط الصف.
		المواد التي تنجذب للمغناطيس هي مواد غير قابلة للمغطة.

استقصاء

٣ درجات

٦- اختبر خالد مجموعة من المواد المختلفة الأكثرها امتصاصا للماء ،

ثم قام بعرض النتائج حسب التمثيل البياني التالي :



أ - اكتب كمية الماء التي امتصها الورق ؟ _____

ب- ما المادة الأفضل لصنع المظلة ؟ _____

ج-كتب خالد الإستنتاج التالي :

المادة الأفضل لصنع المظلة يجب أن تكون مواد _____ للماء .

نموذج الإجابة للاختبار القصير للصف الرابع

رقم السؤال	رمز الهدف	الدرجة	الإجابة	عنصر التقويم	معلومات إضافية
١		١		تطبيق	
٢		١	بسبب امتلاكه للسان خش	تطبيق	
٣		٣	أ) الحقل ٢ ب) التربة الرطبة الغنية بالمواد النباتية ج) لكثرة الماء بها	استقصاء علمي	درجة لكل سؤال
٤		٢	صح خطأ صح	معرفة	درجتان إذا أجاب على ٣ مفردات ودرجة إذا أجاب على مفردتين وصفر إذا أجاب عن مفردة واحدة فقط
٥		٢	دجاجة - فطة - سمكة - ثعبان	تطبيق	درجتان إذا أجاب إجابة صحيحة كاملة ودرجة إذا أجاب عن ٣ أو ٢ من المفردات وصفر إذا أجاب عن مفردة واحدة فقط
٦		١	عصفور	استدلال	