

## شكراً لتحميلك هذا الملف من موقع المناهج العمانية



## اختبار قصير ثالث محلول

[موقع المناهج](#) ← [المناهج العمانية](#) ← [الصف الثالث](#) ← [رياضيات](#) ← [الفصل الثاني](#) ← [الملف](#)

تاريخ نشر الملف على موقع المناهج: 2024-04-20 05:29:20

## التواصل الاجتماعي بحسب الصف الثالث



اضغط هنا للحصول على جميع روابط "الصف الثالث"

## روابط مواد الصف الثالث على تلغرام

[الرياضيات](#)

[اللغة الانجليزية](#)

[اللغة العربية](#)

[التربية الاسلامية](#)

## المزيد من الملفات بحسب الصف الثالث والمادة رياضيات في الفصل الثاني

<a href="#">أوراق عمل شاملة للمادة</a>	1
<a href="#">كتيب الفاقد التعليمي</a>	2
<a href="#">كراسة الأنشطة والاختبارات القصيرة والنهائية</a>	3
<a href="#">أنشطة شاملة لدروس المادة</a>	4
<a href="#">اختبار قصير ثالث نموذج ثاني</a>	5

سلطنة عمان  
وزارة التربية والتعليم  
مدرسة الثقافة للتعليم الاساسي للصفوف (٤-١)  
أختبار قصير (٣) في مادة الرياضيات للصف الثالث

الصف : ثالث/.....

اسم العبقري.....

معرفة وفهم : ٧ درجات  
اختياري

( ٣ درجات )

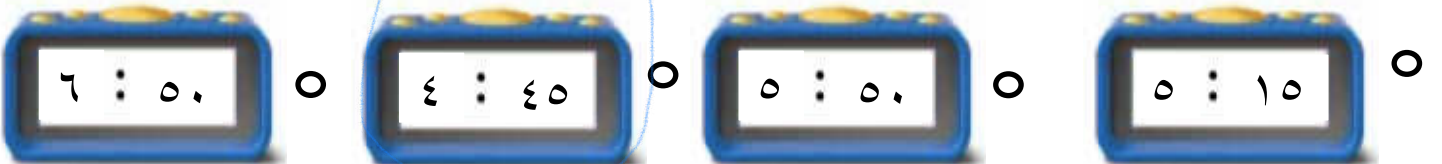
١- العدد الذي يقرب إلى ٨٠ عند تقريبه لأقرب عشرة هو :

٨٥ ○      ٨٩ ○      ٧٨ ○      ٨٦ ○

٢-  $26 \times 10$  :

٢٦٠٠ ○      ٢٦٠ ○      ٢٦ ○      ٦٢٠ ○

٣- الساعة الرقمية التي تمثل الساعة الخامسة لإربع هي :

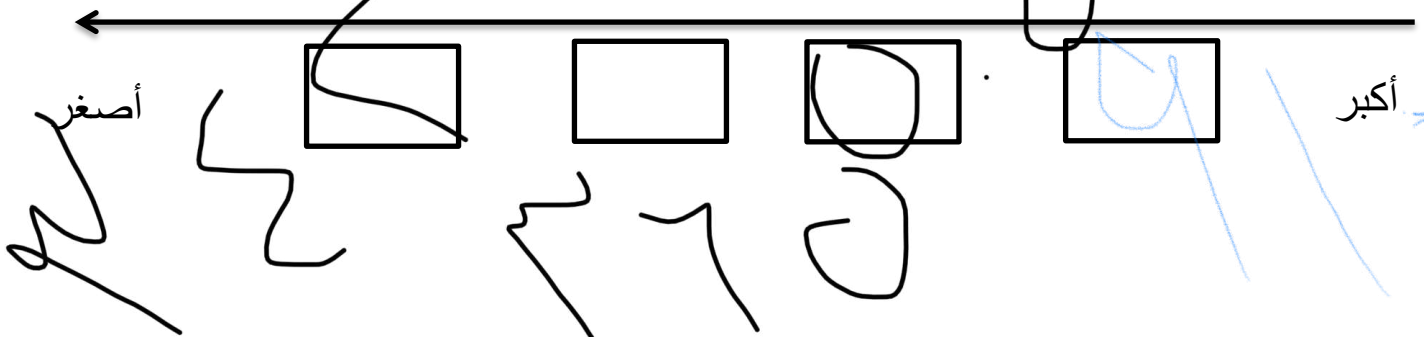


(درجة)

ترتيب

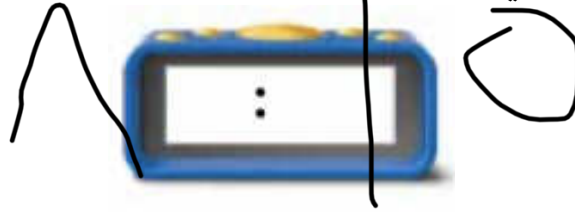
٤- لدى أسالم ٤ بطاقات أعداد أراد أن يرتبها من الأكبر إلى الأصغر ، ساعد سالم في ترتيب البطاقات بالترتيب الصحيح

910      365      505      342



٥- عند تقريب العدد ٢٦٨ لأقرب ١٠٠ يعطي العدد .....

٦- الوقت التي سيظهر في الساعة الرقمية عندما تكون الساعة الثامنة والرابع هو :



٧- قارن بين العددين التاليين بوضع الإشارة المناسبة :

٩٧ ~~٤٥~~

حل مشكلات : ٣ درجات

١- أراد أحمد أن يعرف الوقت من خلال الساعة الرقمية ولكنه وجد أن عقرب الدقائق قد سقط من الساعة ، ساعد أحمد في معرفة الموقع الصحيح لعقرب الدقائق



٢- إذا كان الصندوق الواحد يحتوي على ١٠ حبات فراولة ، فكم عدد حبات الفراولة في ٦ صناديق ؟



٣- زارت ريم صديقتها سعاد عند الساعة ١:١٥ واستغرقت زيارتها ٢:١٠ ، في أي ساعة غادرت ريم منزل صديقتها؟

