

اختبار قصير في وحدة حواسنا الخمس



تم تحميل هذا الملف من موقع المناهج العمانية

موقع فايلاتي ← المناهج العمانية ← الصف الثالث ← علوم ← الفصل الثاني ← اختبارات ← الملف

تاريخ إضافة الملف على موقع المناهج: 2026-04-04 13:09:16

ملفات اكتب للمعلم اكتب للطالب | الاختبارات الالكترونية | اختبارات | حلول | عروض بوربوينت | أوراق عمل
منهج انجليزي | ملخصات وتقارير | مذكرات وبنوك | الامتحان النهائي للمدرس

المزيد من مادة
علوم:

التواصل الاجتماعي بحسب الصف الثالث



صفحة المناهج
العمانية على
فيسبوك




المزيد من الملفات بحسب الصف الثالث والمادة علوم في الفصل الثاني

ورقة عمل ملخص نشاط صفي حاسة البصر والتذوق واللمس غير محلول	1
مذكرة مراجعة شاملة تضم الحواس الخمس وخصائص المواد واستخداماتها	2
مذكرة إثرائية في الوحدة الرابعة حواسنا الخمسة بطريقة الأسئلة والأجوبة	3
مذكرة الطالب الذكي (منهج كامبريدج)	4
كتاب النشاط	5

اختبار قصير في مادة العلوم وحدة حواسنا الخمس للصف الثالث

الإسم: _____ الصف: ٣/

معرفة وفهم (٧ درجات)
إستقصاء علمي (٣ درجات)
المجموع

الدرجة	السؤال	م							
٢	صل كل حاسة في العمود الأول بالعضو المسؤول عنها في العمود الثاني:	-١							
	<table border="1" style="display: inline-table; margin-right: 20px;"> <tr><td>اللسان</td></tr> <tr><td>الأنف</td></tr> <tr><td>الأذن</td></tr> <tr><td>الجلد</td></tr> </table> <table border="1" style="display: inline-table;"> <tr><td>السمع</td></tr> <tr><td>اللمس</td></tr> <tr><td>الشم</td></tr> </table>	اللسان	الأنف	الأذن	الجلد	السمع	اللمس	الشم	
اللسان									
الأنف									
الأذن									
الجلد									
السمع									
اللمس									
الشم									
١	ضع دائرة حول مصدر الصوت الأكثر قوة	-٢							
	   								
١	المهمة التي تحتاج لحاسة البصر :	-٣							
	<input type="radio"/> تذوق الطعام <input type="radio"/> النوم <input type="radio"/> الاستماع للمذياع <input type="radio"/> عبور الطريق								
١	ضع علامة (✓) أو (X) أمام العبارات الآتية:	-٤							
	<p>- عندما أصاب بالزكام لا أستطيع تذوق الطعام بشكل جيد ()</p> <p>- الليمون ذو مذاق مر ()</p>								

-٥

حدد ملمس هذه الأشياء عندما تتحسسها بيدك:

(خشن - ناعم - بارد - حار)



-٦

يرفع أحمد من مستوى الصوت أثناء استخدامه لساعات الأذن.
برأيك هل ما يقوم به صحيح؟-----
فسّر إجابتك.

-٧

٢ تلاميذ الصف الثالث تعجبهم بعض الأصوات ولكن لا تعجبهم أصوات أخرى كما بالجدول

الصوت الذي تصدره	مرغوب به	غير مرغوب به
السيارات	٦	١٢
القطعة	١٦	٢
التلفاز	١٨	٠
الرعد	٤	١٤

أ) ما الصوت الأكثر رغبة به؟ _____

ب) لماذا برأيك ١٤ طالب لا يعجبهم صوت الرعد؟ _____

انتهت الأسئلة

طلابي العباقرة الحواس نعمة عظيمة تستحق الشكر وبالشكر تدوم النعم