

شكراً لتحميلك هذا الملف من موقع المناهج العمانية



نشاط الوقت

موقع المناهج ← المناهج العمانية ← الصف الثالث ← رياضيات ← الفصل الثاني ← الملف

التواصل الاجتماعي بحسب الصف الثالث



روابط مواد الصف الثالث على تلغرام

[الرياضيات](#)

[اللغة الانجليزية](#)

[اللغة العربية](#)

[التربية الاسلامية](#)

المزيد من الملفات بحسب الصف الثالث والمادة رياضيات في الفصل الثاني

كراسة الأنشطة والاختبارات القصيرة والنهائية	1
أنشطة شاملة لدروس المادة	2
اختبار قصير ثالث نموذج ثاني	3
سؤال قصير ثالث	4
اختبار قصير ثالث	5

نشاط عن الوقت (٢) للصف الثالث رياضيات

اكتب الساعة بالصيغة الرقمية

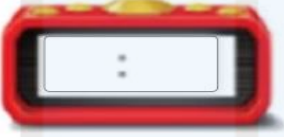
5.




6.



7.



8.



9.



10.



ارسم عقرب الدقائق حسب الوقت:




٤



٣



٢



١



يستغرق علي مدة ربع ساعة من منزله إلى عمله. إذا وصل عمله الساعة السابعة والنصف. فما الوقت الذي خرج فيه من منزله؟



الإجابة:

نشاط عن الوقت (٢) للصف الثالث رياضيات



طالبتي الرائعة .. اختاري القراءة المناسبة لكل من الساعات التالية :

٧:٣٠	
٨:٣٠	
٧:٦	

١٢:٠٩	
٩:٠٠	
٩:١٢	

٦:٠٢	
٦:١٠	
٢:٣١	

٢:٣	
٣:١٠	
٢:١٥	

٥:٤٥	
٤:٠٩	
٤:٤٥	

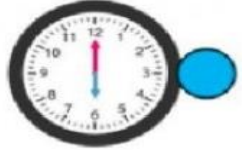
١٠:٠٥	
١٠:٥	
١:٥٠	

س١: أصل بخط بين القراءة على الساعة الرقمية و ما يناسبه من القراءة على ساعة العقارب:



نشاط عن الوقت (٢) للصف الثالث رياضيات

اربط بين الكلمة والساعة



الساعة السادسة

الساعة الرابعة

الساعة العاشرة

اكتب الوقت

 [] : []	 [] : []	 [] : []
 [] : []	 [] : []	 [] : []

أرسم عقرب الدقائق الذي يدل على الوقت المعطى:

٣:٣٠



٣:١٥



٣:٤٥



٩:٤٥



٩:١٥



٩:٣٠

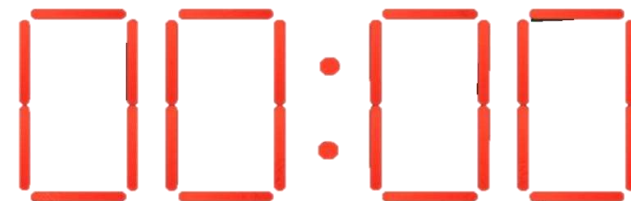


نشاط عن الوقت (٢) للصف الثالث رياضيات


كم عدد المرات التي تستطيع أن ترى خطوات التماثل خلال ١٢ ساعة ارسمها على النقاط المضيئة؟



ارسم الساعة الخامسة والنصف على الساعة الرقمية باستخدام النقاط المضيئة



كتب سعيد الساعة العقارب بالصيغة الرقمية كالتالي ما كتبه سعيد صحيح فسر اجابتك؟

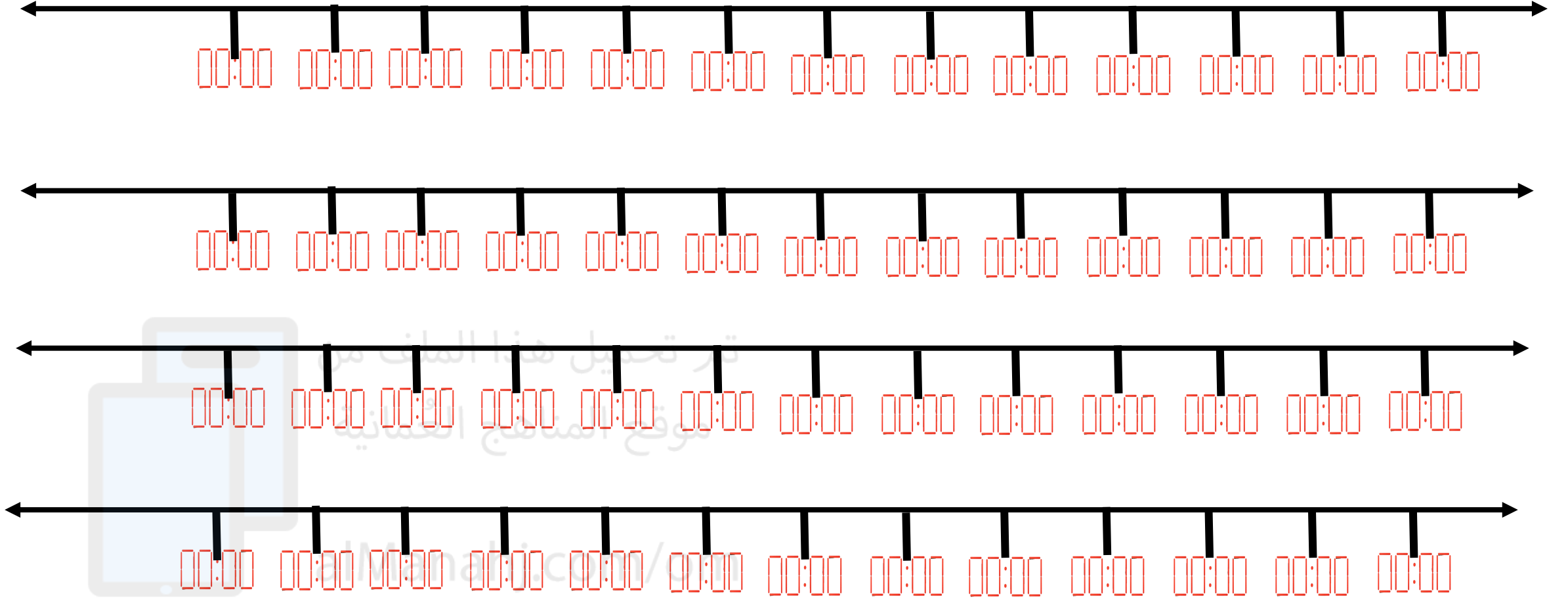


الإجابة



نشاط عن الوقت (٢) للصف الثالث رياضيات

خط أعداد الساعة الرقمية



استخدم الكرتون في عمل ساعة رقمية وساعة عقارب واختر ساعة وحددها على كل منهما واكتب قراءة هذه الساعة