

شكراً لتحميلك هذا الملف من موقع المناهج العمانية



تحفيظ جدول الضرب

[موقع المناهج](#) ⇨ [المناهج العمانية](#) ⇨ [مرحلة ابتدائية](#) ⇨ [رياضيات](#) ⇨ [الفصل الثاني](#) ⇨ [الملف](#)

تاريخ نشر الملف على موقع المناهج: 05:16:26 2024-01-09

التواصل الاجتماعي بحسب مرحلة ابتدائية



المزيد من الملفات بحسب مرحلة ابتدائية والمادة رياضيات في الفصل الثاني




جدول

الضرب



للأطفال



ملازمین



جداول ضرب العد



مازمتي 



- = ٧
- = ٣
- = ٦
- = ١
- = ٩
- = ٥
- = ٢
- = ١٠
- = ٨
- = ٤

لون من الأشكال التالية ما يوافق نتائج عملية الضرب كما المثال الأول:

$$٦ = ٦ \times ١$$




٢




$$= ٤ \times ١$$

٣


$$= ٨ \times ١$$



جداول ضرب العدده




ملازمه مع 




- = ٦
- = ٢
- = ٨
- = ١٦
- = ٤
- = ١٠
- = ١٨
- = ١٢
- = ٢٠
- = ١٤


لون الصورة التي تحمل الإجابة الصحيحة لحاصل الضرب تحتها:



$$= 3 \times 2$$




$$= 5 \times 2$$




$$= 7 \times 2$$



جملوں ضرب العد





- = ٦
- = ٢١
- = ٣٠
- = ٣
- = ١٥
- = ٢٧
- = ١٨
- = ١٢
- = ٢٤
- = ٩

لون الصورة التي تحمل الإجابة الصحيحة لحاصل الضرب تحتها:

١٢



٦



٣



$$= ٢ \times ٣$$

٣٠



١٨

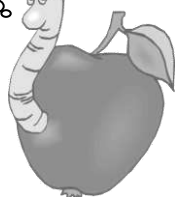


٢٤

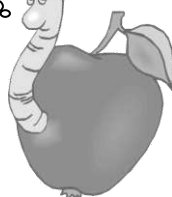


$$= ٦ \times ٣$$


٢٤



٢٧




٦



$$= ٨ \times ٣$$













جداول ضرب العدده




مازمتي 




-  = ٢٨
-  = ٤٠
-  = ٨
-  = ١٦
-  = ٤
-  = ٣٢
-  = ٢٤
-  = ١٢
-  = ٢٠
-  = ٣٦

لون الصورة التي تحمل الإجابة الصحيحة لحاصل الضرب تحتها:



$$= 4 \times 4$$



$$= 6 \times 4$$



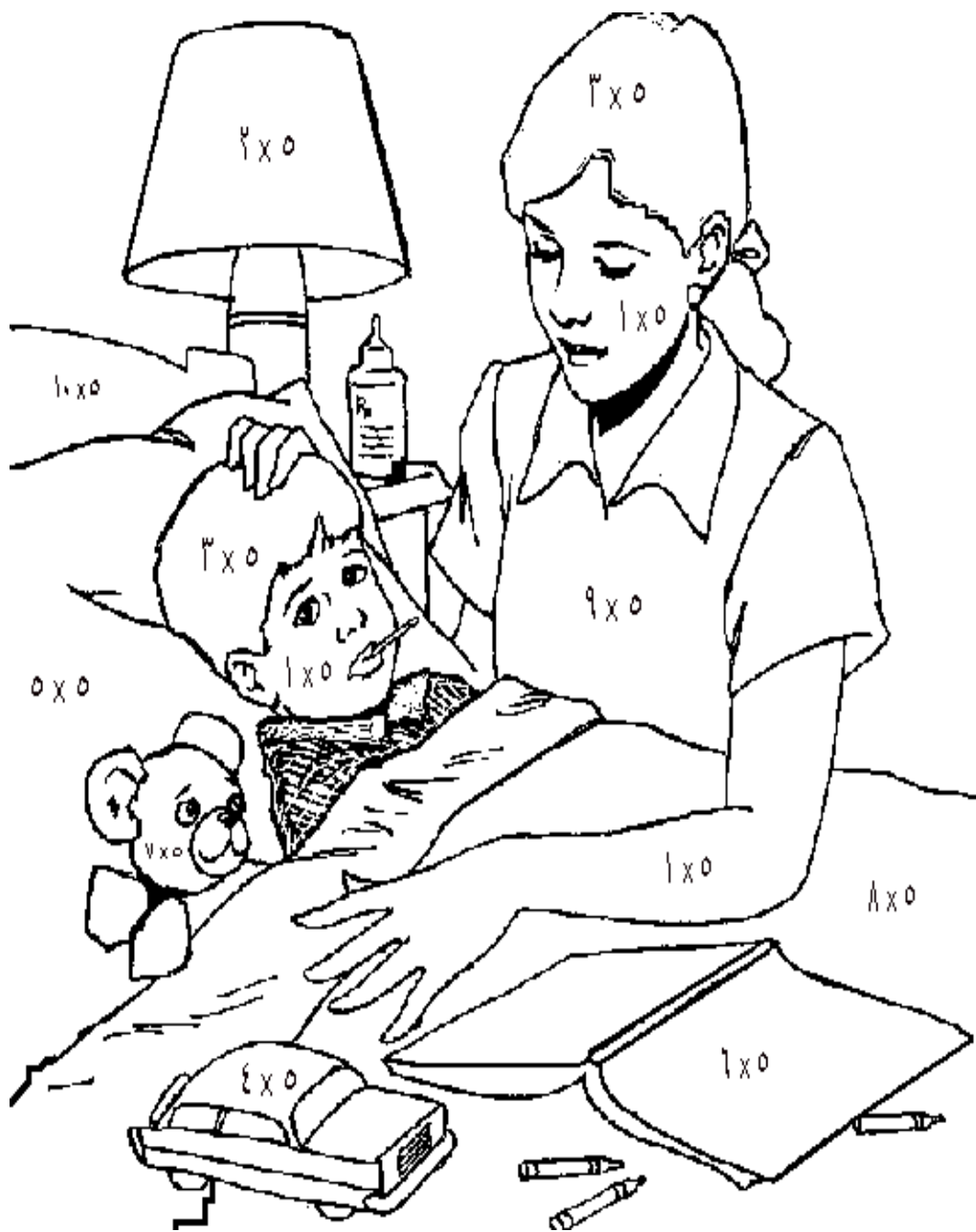
$$= 9 \times 4$$

جداول ضرب العد




مزمع






- = ۳۰
- = ۱۰
- = ۴۰
- = ۵۰
- = ۵
- = ۳۰
- = ۲۰
- = ۱۵
- = ۴۵
- = ۲۵


لون الصورة التي تحمل الإجابة الصحيحة لحاصل الضرب تحتها:



$$= 1 \times 5$$



$$= 4 \times 5$$



$$= 9 \times 5$$

جدول ضرب العدد



ملازمین 



- = ١٨
- = ٣٦
- = ٦
- = ٤٨
- = ١٢
- = ٦٠
- = ٢٤
- = ٤٢
- = ٥٤
- = ٣٠

لون الصورة التي تحمل الإجابة الصحيحة لحاصل الضرب تحتها:



$$= 5 \times 6$$



$$= 7 \times 6$$




$$= 10 \times 6$$



جداول ضرب العدد




ملازمین 




- = ۳۵
- = ۶۳
- = ۱۴
- = ۲۸
- = ۴۹
- = ۷
- = ۵۶
- = ۲۱
- = ۷۰
- = ۴۲

لون الصورة التي تحمل الإجابة الصحيحة لحاصل الضرب تحتها:



$$= 2 \times 7$$



$$= 5 \times 7$$



$$= 7 \times 7$$

جدول ضرب العدد



ملازمین 



- = 06
- = 32
- = 8
- = 16
- = 80
- = 48
- = 24
- = 64
- = 72
- = 40

لون الصورة التي تحمل الإجابة الصحيحة لحاصل الضرب تحتها:

56 40 24

$= 3 \times 8$

40 72 32

$= 5 \times 8$

72 48 16

$= 9 \times 8$



جدول ضرب العدد




مازمتي 



- = ۲۷
- = ۶۳
- = ۷۲
- = ۹
- = ۴۵
- = ۹۰
- = ۳۶
- = ۵۴
- = ۱۸
- = ۸۱


لون الصورة التي تحمل الإجابة الصحيحة لحاصل الضرب تحتها:



$$= 2 \times 9$$




$$= 4 \times 9$$



$$= 7 \times 9$$




جدول ضرب العدد




ملازمین





- = ٦ .
- = ٢ .
- = ٨ .
- = ١ .
- = ٤ .
- = ١ . .
- = ٧ .
- = ٩ .
- = ٣ .
- = ٥ .


لون الصورة التي تحمل الإجابة الصحيحة لحاصل الضرب تحتها:



$$= 4 \times 10$$



$$= 6 \times 10$$



$$= 9 \times 10$$