

تم تحميل هذا الملف من موقع المناهج العمانية



## حصاد الإِسبوع الثاني

موقع فايلاتي ← المناهج العمانية ← أخبار ← رياضيات ← الفصل الأول ← ملفات متنوعة ← الملف

تاريخ إضافة الملف على موقع المناهج: 2024-10-02 23:20:48

ملفات اكتب للمعلم اكتب للطالب | اختبارات الكترونية | اختبارات | حلول | عروض بوربوينت | أوراق عمل  
منهج انجليزي | ملخصات وتقارير | مذكرات وبنوك | الامتحان النهائي للمدرس

المزيد من مادة  
رياضيات:

إعداد: شمساء المري

## التواصل الاجتماعي بحسب أخبار



صفحة المناهج  
العمانية على  
فيسبوك

المزيد من الملفات بحسب أخبار والمادة رياضيات في الفصل الأول

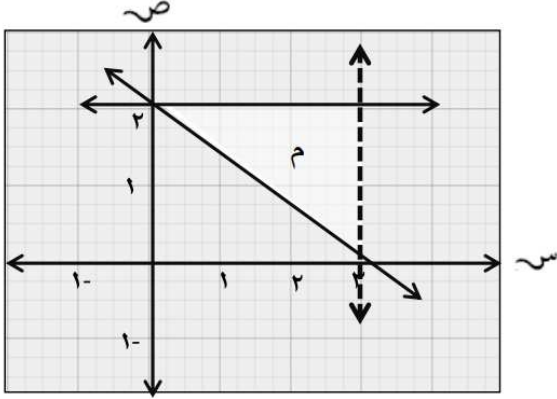
حصاد الإِسبوع الثاني

1

حصار الأسبوع (٢) للصف العاشر في مادة الرياضيات

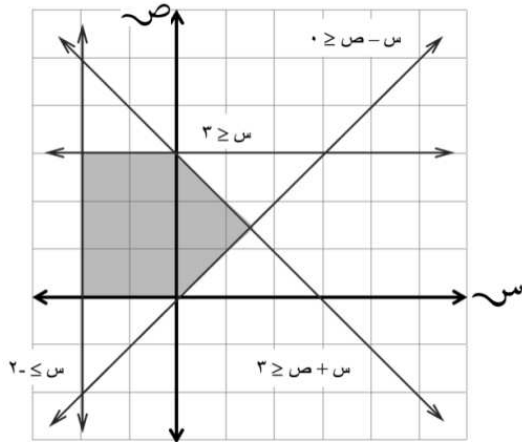
طالبتي أجميلت : ..... الصف: العاشر ( )

اكتب ثلاث متباينات تعرف المنطقة المثلثة (م) غير المظللة في الرسم المقابل



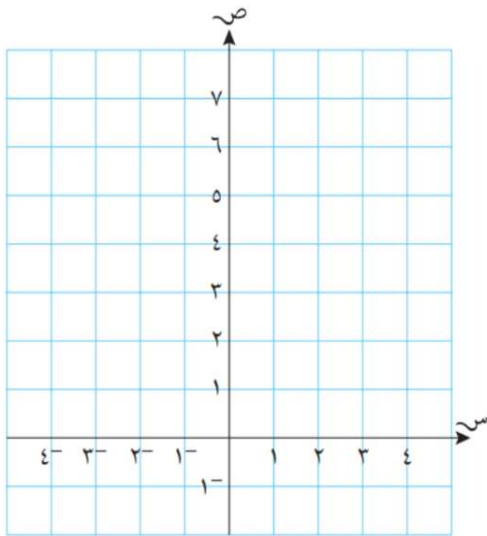
١

من الشكل المجاور أوجد أصغر قيمة للعبارة الجبرية (س + ص) التي تحقق المتباينات.



٢

ظل المنطقة التي لا تمثل المتباينات  $v \geq 2$  ،  $s \geq 4$  ،  $s + v \leq 4$



٢

لا بأس بأن تخطئي، لأن النجاح هو أن لا تكرري نفس الخطأ مرتين 😊