

تم تحميل هذا الملف من موقع المناهج العُمانية



*للحصول على أوراق عمل لجميع الصفوف وجميع المواد اضغط هنا

<https://almanahj.com/om>

* للحصول على أوراق عمل لجميع مواد الصف الرابع اضغط هنا

<https://almanahj.com/om/4>

* للحصول على جميع أوراق الصف الرابع في مادة رياضيات ولجميع الفصول, اضغط هنا

<https://almanahj.com/om/4math>

* للحصول على أوراق عمل لجميع مواد الصف الرابع في مادة رياضيات الخاصة بـ الفصل الأول اضغط هنا

<https://almanahj.com/om/4math1>

* لتحميل كتب جميع المواد في جميع الفصول للـ الصف الرابع اضغط هنا

<https://almanahj.com/om/grade4>

للتحدث إلى بوت على تلغرام: اضغط هنا

https://t.me/omcourse_bot

اختبار قصير 1 في مادة الرياضيات للصف الرابع (معرفة وفهم+حل المشكلات) (10 درجة)

الإسم : الصف: الدرجة:

1- ظلل الإجابة الصحيحة من بين البدائل: (3 درجات)
أ- يُكتب العدد ثلاثة آلاف وسبعة بالصورة الرياضية:

3039 3070 3007 3050

ب- العدد الأقرب لـ 900 هو:

1050 980 880 1220

ج- $67 - 8 = 39$ ، فإن $8 - 67 = \dots$

1 2 3 4

2- أكمل: (درجتان)


أ- $3900 \div 10 = \dots$ ، $10 \div \dots = 10$

ب- أنا عدد من 4 أرقام، أكبر من 2000 وأصغر من 2500، مئتي = 3،
وعشراتي أقل من مئتي باثنان، وأحادي = 9، أنا هو العدد

3- أوجد مايلي موضعا الخطوات بطريقة التجزئة: (درجة)

$$= 546 + 482$$

.....
.....
.....
.....




تابع الأسئلة في الخلف

4- ضع علامة (√) في المربع المناسب: (درجتان)

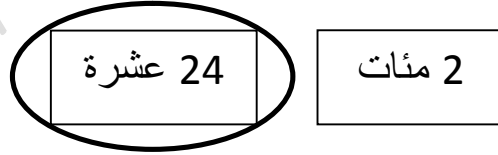
خطأ	صواب	العبارة
		أ- مسافة رحلة بحرية 657 كم ، قطعت السفينة منها 493 كم المسافة المتبقية للسفينة = 146 كم
		ب- وُزعت وجبات صحية على 4 فصول، في كل فصل 37 طالباً، عدد كامل الوجبات المُوزعة = 41 وجبة

5- حل ما يلي: (درجتان)



أ- لدى أحمد 3 بطاقات تُمثل متممات العدد 1000،
انسكب الحبر على أحد تلك البطاقات،
تُرى كم قيمة البطاقة المفقودة؟.....

ب- قارنت سلوى بين البطاقتين التاليتين، وحوطت على البطاقة الأكبر.



هل إجابة سلوى صحيحة أم خاطئة؟.....
فسر:

.....
.....

مع خالص أمنيّاتي بالتوفيق والتميز