

شكراً لتحميلك هذا الملف من موقع المناهج العمانية



اختبار قصير في الوحدة الأولى

[موقع المناهج](#) ← [المناهج العمانية](#) ← [الصف الرابع](#) ← [علوم](#) ← [الفصل الأول](#) ← [الملف](#)

تاريخ نشر الملف على موقع المناهج: 08:48:24 2023-12-08

التواصل الاجتماعي بحسب الصف الرابع



روابط مواد الصف الرابع على تلغرام

[الرياضيات](#)

[اللغة الانجليزية](#)

[اللغة العربية](#)

[التربية الاسلامية](#)


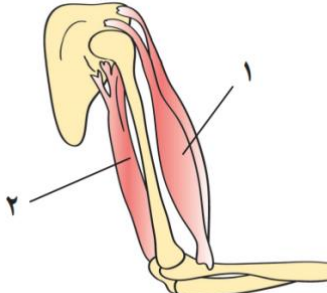
المزيد من الملفات بحسب الصف الرابع والمادة علوم في الفصل الأول

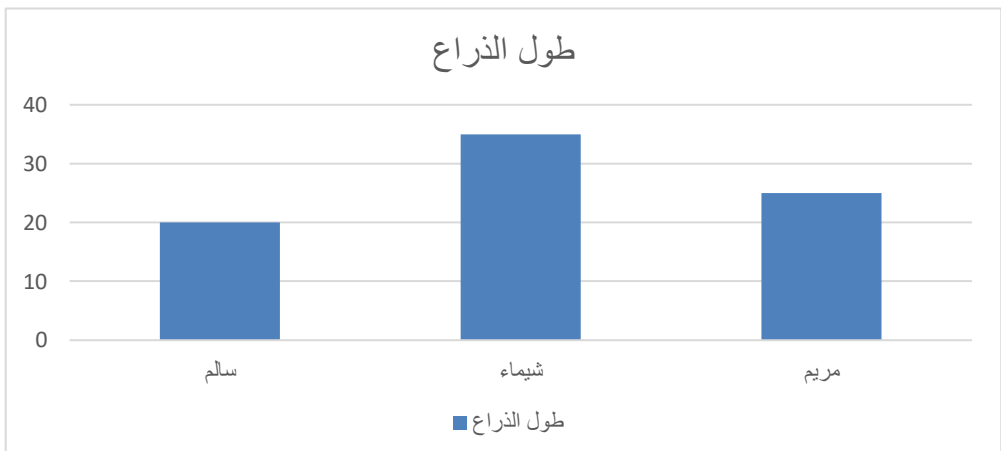
ملخص للدروس بطريقة سؤال وحواب	1
اختبار أول معرفة وفهم واستقصاء علمي	2
ملخص الوحدة الثالثة المواد الصلبة والسائلة والغازية	3
اختبار قصير ثاني	4
اختبار قصير ثالث مع نموذج الإجابة	5

الاسم :

الصف :

اختبار قصير في مادة العلوم للصف الرابع

درجة	<p>1 ظلل الشكل البيضاوي يمين الإجابة الصحيحة:</p> <p>- الهيكل العظمي للطير هو :</p> 										
درجة	<p>2 أكمل :</p> <p>الجزء من الجسم الذي يسمح بحركة العظام هو</p>										
درجتين	<p>3 صل بين نوع العظام فالعمود الأول بما يناسبه من العظام فالعمود الثاني:</p> <table border="1" style="width: 100%; text-align: center;"> <thead> <tr> <th>اسم العظم</th> <th>نوع العظام</th> </tr> </thead> <tbody> <tr> <td>الكتف</td> <td>العظام الطويلة</td> </tr> <tr> <td>العمود الفقري</td> <td>العظام المسطحة</td> </tr> <tr> <td>الفخذ</td> <td>العظام الغير المنتظمة</td> </tr> <tr> <td>الأذن</td> <td></td> </tr> </tbody> </table>	اسم العظم	نوع العظام	الكتف	العظام الطويلة	العمود الفقري	العظام المسطحة	الفخذ	العظام الغير المنتظمة	الأذن	
اسم العظم	نوع العظام										
الكتف	العظام الطويلة										
العمود الفقري	العظام المسطحة										
الفخذ	العظام الغير المنتظمة										
الأذن											
درجتين	<p>4 من الرسم أجب على الأسئلة التالية:</p> <p>1 - اكتب رقم العضلة التي تثني الذراع</p> <p>2 - ماذا يحدث للعضلة الأخرى عند ثني الذراع؟</p> 										

درجة	<p>5 محمد مصاب بمرض الربو ويعاني من صعوبة فالتنفس وصف له الطبيب دواء.</p> <p>- ما اسم الدواء الذي من الممكن أن يصفه له الطبيب؟</p> <p>جهاز الاستنشاق <input type="checkbox"/></p> <p>قطرة أنف <input type="checkbox"/></p> <p>اشرح كيف يمكن لهذا الدواء جعل محمد أفضل؟</p> <p>.....</p>	5
درجة	<p>6 ظل الشكل البيضاوي يمين الإجابة الصحيحة:</p> <p>- أصيب خالد ذو التسع السنوات ووالده بكسر اثر حادث. استغرق خالد وقت أقل في التعافي من الكسر. ما السبب برأيك؟</p> <p>○ عظامه أقوى</p> <p>○ عظامه ما زالت تنمو</p> <p>○ عظامه أكبر حجما</p> <p>○ جميع ما سبق</p>	6
درجتين	<p>7 قاس سالم وشيماء ومريم طول عظم ذراعهم . جاءت النتائج كما هو موضح فالرسم البياني:</p>  <p>أ (من الشخص البالغ باعتقادك ؟ كيف عرفت؟</p> <p>ب) من هو الطفل باعتقادك ؟ كيف عرفت؟</p>	7
10	المجموع الكلي	

