

تم تحميل هذا الملف من موقع المناهج العُمانية



*للحصول على أوراق عمل لجميع الصفوف وجميع المواد اضغط هنا

<https://almanahj.com/om>

* للحصول على أوراق عمل لجميع مواد الصف الرابع اضغط هنا

<https://almanahj.com/om/4>

* للحصول على جميع أوراق الصف الرابع في مادة رياضيات ولجميع الفصول, اضغط هنا

<https://almanahj.com/om/4math>

* للحصول على أوراق عمل لجميع مواد الصف الرابع في مادة رياضيات الخاصة بـ الفصل الأول اضغط هنا

<https://almanahj.com/om/4math1>

* لتحميل كتب جميع المواد في جميع الفصول للـ الصف الرابع اضغط هنا

<https://almanahj.com/om/grade4>

للتحدث إلى بوت على تلغرام: اضغط هنا

https://t.me/omcourse_bot

اختبار قصير ٢ رياضيات صف ٤ ف ١

الاسم:

المدرسة:



عقارب الساعة المقابلة إلى:

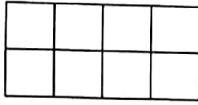
*تشير

٠٢:٠٨

٠٢:٤٠

٠٨:٠٢

٠٨:١٠



*المستطيل المرسوم أمامك مقسم إلى سنتيمترات مربعة.

فكم تبلغ مساحته؟

*احسب محيط المربع المقابل:



اسم

العلوم	الرياضيات	
/// ###	###	أحمد
### ###	////	سعيد

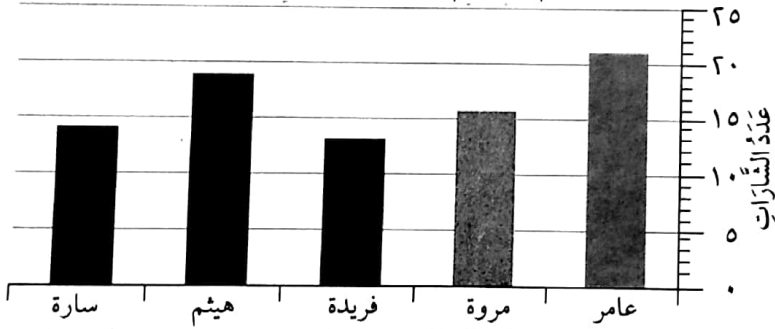
*الجدول المرفق يبين درجات أحمد وسعيد في مادتي

الرياضيات والعلوم في أحد الاختبارات. فما هو مجموع

درجتني سعيد في كلا المادتين؟

*حدد عدد الشارات التي حصل عليها

عامر باستخدام التمثيل المبين بالأعمدة.



*أكمل مخطط كارول الآتي:

اسم ولد	اسم بنت

ثلاثة أحرف

أربعة أحرف

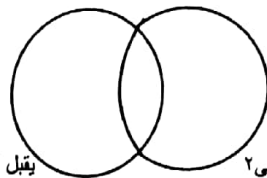
*ضع الأرقام الآتية في المكان المناسب

بمخطط فن المقابل:

٩،٨،٧،٦،٥،٤

*عشرة ريالات وخمسمائة بيسة تكتب عدديا بالريالات كما يلي:

١٠٥،٠٠٠ ١٠،٥٠٠٠ ٥٠،١٠٠ ١٠٥٠٠٠



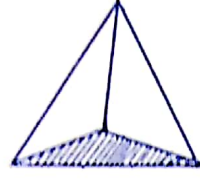
يقبل القسمة على ٣

يقبل القسمة على ٢

اختبار قصير ٢ رياضيات صف ثالث ف ١


الاسم:

مدرسة:



*الشكل الثلاثي الأبعاد في الرسم المقابل هو:

○ مخروط ○ كرة ○ منشور ○ هرم



*ارسم جميع خطوط التماثل

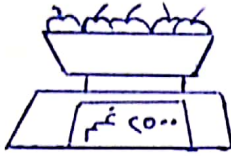
للمربع المرسوم أمامك.

*أوجد ناتج جمع: ٥ ريالات + ١٠ ريالات =




*تشير عقارب الساعة المبينة بالرسم إلى:

٣:١٠ ○ ٢:١٥ ○ ٣:٠٢ ○ ٢:٠٣



*قراءة الميزان في الصورة بالغرام.

فما وزن الفاكهة بالكيو غرام؟



*استخدم المسطرة في قياس طول

كل من النبتة والقلم بالرسم.



*زاوج بين كل شكل واسمه فيما يأتي:

دائرة

خماسي

مثلث

مستطيل

