

تم تحميل هذا الملف من موقع المناهج العُمانية



\* للحصول على أوراق عمل لجميع الصفوف وجميع المواد اضغط هنا

<https://almanahj.com/om>

\* للحصول على أوراق عمل لجميع مواد الصف الرابع اضغط هنا

<https://almanahj.com/om/4>

\* للحصول على جميع أوراق الصف الرابع في مادة رياضيات ولجميع الفصول, اضغط هنا

<https://almanahj.com/om/4math>

\* للحصول على أوراق عمل لجميع مواد الصف الرابع في مادة رياضيات الخاصة بـ الفصل الأول اضغط هنا

<https://almanahj.com/om/4math1>

\* لتحميل كتب جميع المواد في جميع الفصول للـ الصف الرابع اضغط هنا

<https://almanahj.com/om/grade4>

\* لتحميل جميع ملفات المدرس رحاب محمد جلال اضغط هنا

للتحدث إلى بوت على تلغرام: اضغط هنا

[https://t.me/omcourse\\_bot](https://t.me/omcourse_bot)

سلطنة عمان

وزارة التربية والتعليم

محافظة شمال الشرقية



مراجعة حول الوقت و التقويم

الصف الرابع

(رياضيات)

إعداد معلمة المادة : رحاب محمد جلال

أنا أستطيع قراءة الوقت بثلاث  
طرق :

1- ساعة العقارب

2- ساعة الأرقام

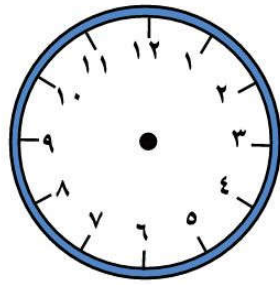
3- كتابة بالكلمات

أنا أستطيع أيضا معرفة شهور  
السنة الميلادية وفهم التقويم

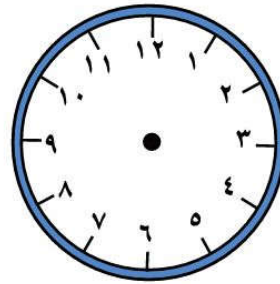
تدريبات حول الوقت والتقويم

هيا لأصير متمكنا في ذلك

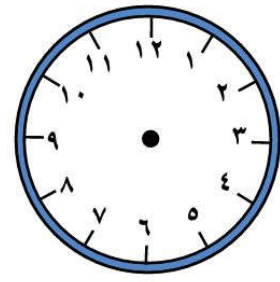
أولاً : ارسم العقارب في الحالات التاليه. واكتب الوقت  
بساعة الأرقام أسفل ساعة العقارب



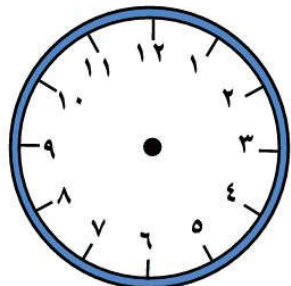
1- الساعه السابعه و الربع



2- الساعه التاسعه إلا الربع

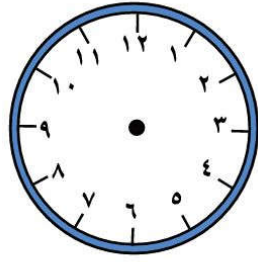


3- الساعه العاشره إلا الربع

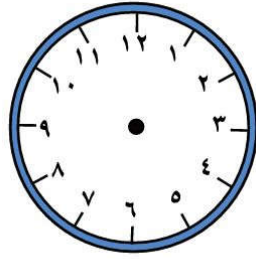


4- الساعه الثامنه إلا

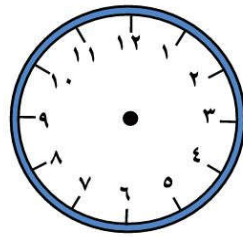
ثلاث عشر دقيقه



5- الساعة التاسعة و عشرون دقيقة

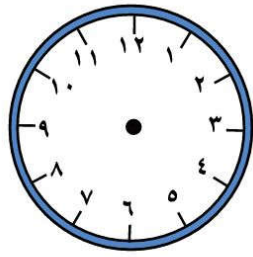


6- الساعه الرابعه إلا ربع

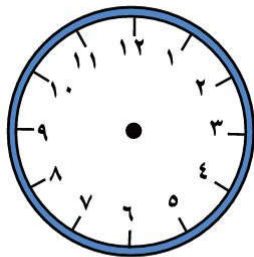


7- الساعه خامسه والنصف

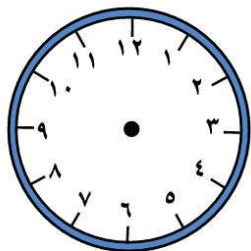
والخمس دقائق



8- الساعهالتاسعهاً عشر دقائق



9- الساعهالرابعهاً خمس دقائق

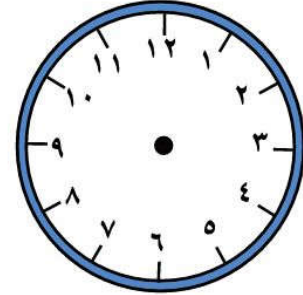
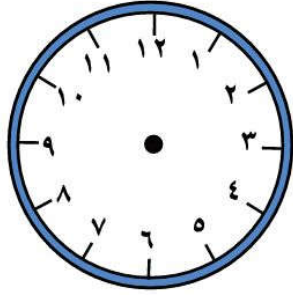


10- الساعهالسادسهاً ثلاث دقائق

ثانياً :

الفترة الزمنية المستغرقة بين وقتين :

1- خرج سالم من منزله في تمام الساعة الخامسة و الربع وعاد في تمام الساعة السابعة إلا ربع ما المدة التي قضاها خارج المنزل



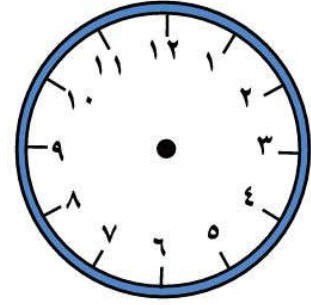
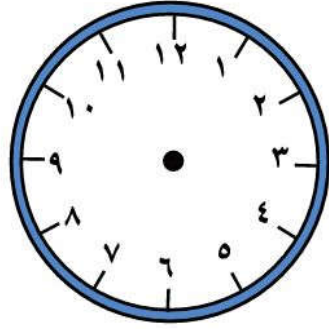
وقت العودة.....

وقت الخروج.....

الفترة الزمنية المستغرقة.....

2- خرجت مزون في التاسعة إلا ثلث مساء وعادت في الثانية عشر صباحا .

ما المدة الزمنية التي قضتها خارج المنزل ؟

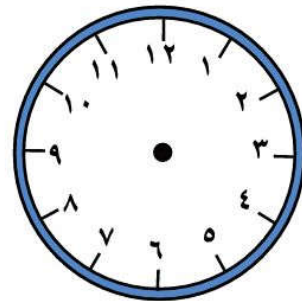
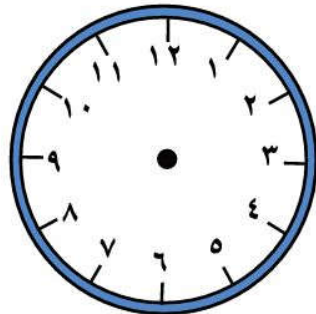


وقت العودة .....

وقت الخروج .....

المدة المستغرقة .....

3- خرجت في الثالثهالا 10 دقائق و عادت في الخامسة والنصف مساء ما المدة الزمنية المستغرقة بين الزمنين ؟



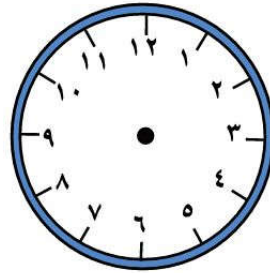
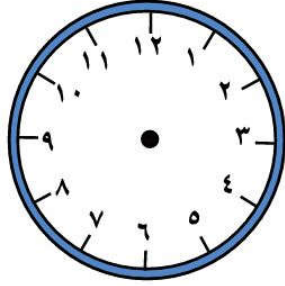


وقت العودة .....

وقت الخروج .....

الفترة الزمنية المستغرقة .....

4- خرجت هنا في الثالثة عصرا وعادت في السابعة مساءً  
الفرق بين وقتي الذهاب والعودة ؟

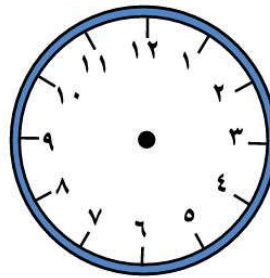
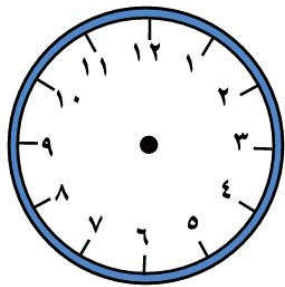


وقت العودة .....

وقت الخروج .....

الفترة الزمنية المستغرقة .....

5- خرجت هيا في التاسعة و الثلث صباحا , وعادت في  
الواحدة ظهرا ما مدة الوقت المستغرق بين الخروج  
والعودة

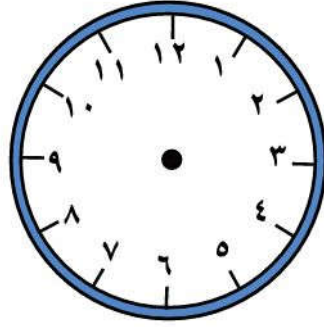
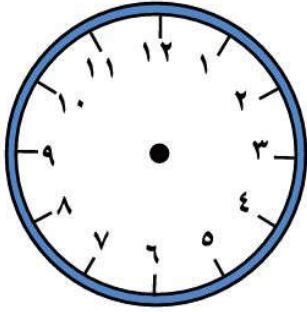


وقت العودة .....

وقت الخروج .....

الفترة الزمنية المستغرقة .....

6- خرجت هيا في الثامنة والنصف صباحا و عادت في العاشرة إلا ربع ما الفترة الزمنية التي قضتها خارج المنزل ؟



وقت العودة .....

وقت الخروج .....

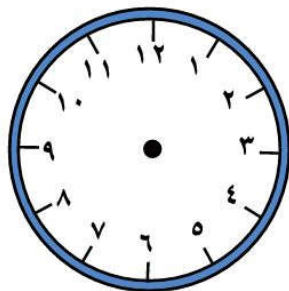
- الفترة الزمنية المستغرقة .....

7- خرجت في التاسعة و خمسة و أربعون دقيقة, و عادت

عشر إلا

كم من

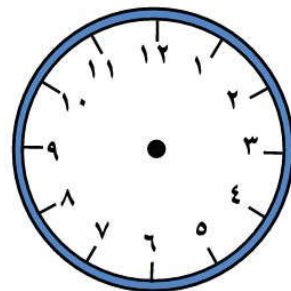
خارج



الثانية

دقيقة

ظلت



في

13

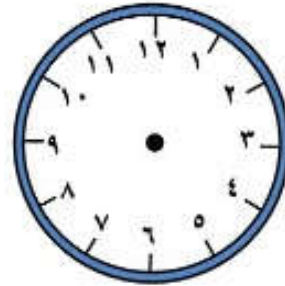
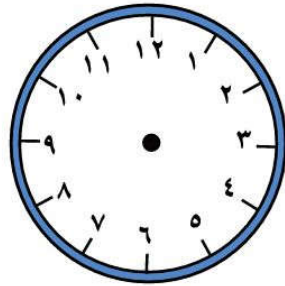
الوقت

## المنزل ؟

وقت الخروج ..... وقت العودة .....

- الفترة الزمنية المستغرقة .....

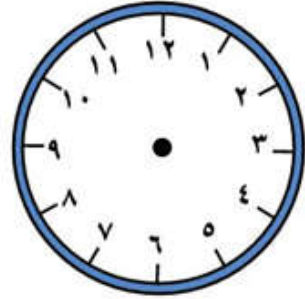
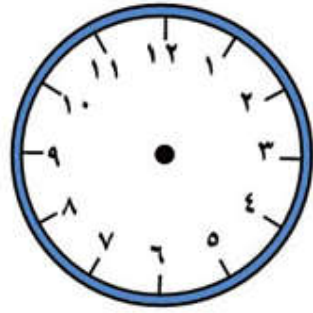
8-جلست ساعتين مع أصدقائي و عدت في تمام الساعة السادسة و الربع مساء فمتي خرجت من المنزل ؟



وقت الخروج ..... وقت العودة .....

الفترة الزمنية المستغرقة .....

9- ذهبت لزيارة عمي الذي يجاورنا تماما في السكن, وجلست ساعتين و 15 دقيقة, ووصلت منزلي في تمام الساعة التاسعة مساء متي خرجت من منزلي ؟



وقت العودة .....

وقت الخروج .....

- الفتره الزمنية المستغرقة .....

10- ذهبت في رحلة الي الحديقة ومكثت هناك ثلاث ساعات

وعدت

الثلاث

إلا

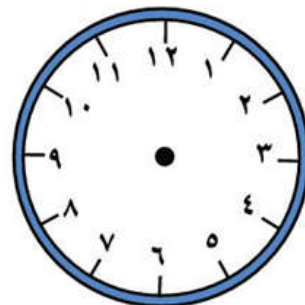
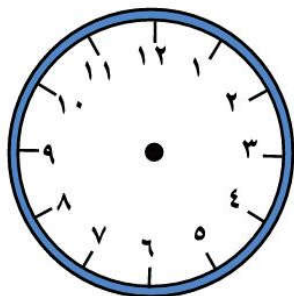
الساعة

تمام

في

مساء

السادسة

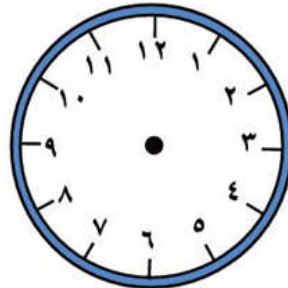
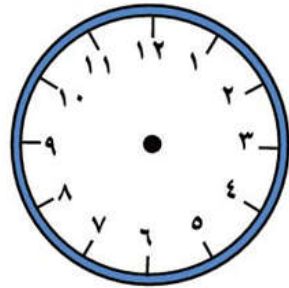


## متي خرجت من المنزل ؟

وقتا الخروج ..... وقتا العودة .....

الفترة الزمنية المستغرقة .....

11-أخذت الرحلة 3 ساعات من مسقط إلى صلالة , ووصلت مطار صلالة تمام الرابعة مساء متي بدأت الرحلة؟

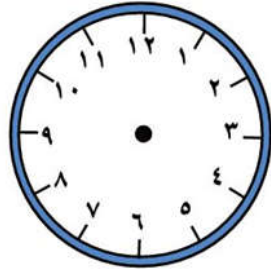


وقتا العودة .....

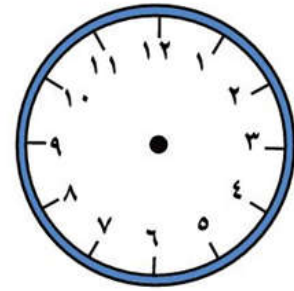
وقتا الخروج .....

- الفترة الزمنية المستغرقة .....

12- خرجت من المدرسة الساعة الواحدة والنصف  
وجلست في المحل التجاري ساعه إلا ربع اشترى اغراضا  
متى وصلت المنزل



وقتا العودة.....



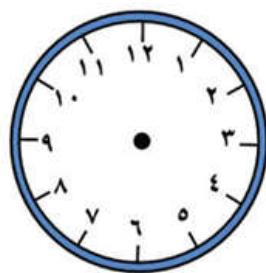
وقتا الخروج.....

- الفترة الزمنية المستغرقة.....

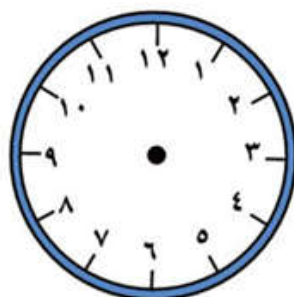
ثالثا :

تقديم الساعة وتأخيرها :

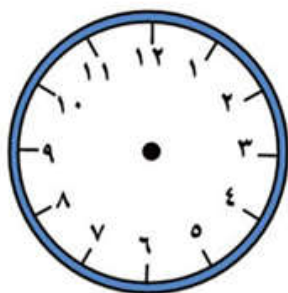
1- عندما تكون الساعة هي الحادية عشر و عشرون دقيقة  
و لكنها متأخرة ثلث ساعة فإن الوقت بها يكون.....



2- عندما تكون الساعه الواحدة و الربع ولكنها متأخرة 7 دقائق الوقت الذي يظهر بها يكون .....

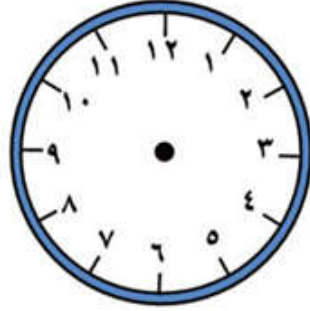


3- يجب أن تكون ساعتي الثالثه والربع و لكنها متقدمة 5 دقائق لذلك الوقت الذي يظهر بها هو .....



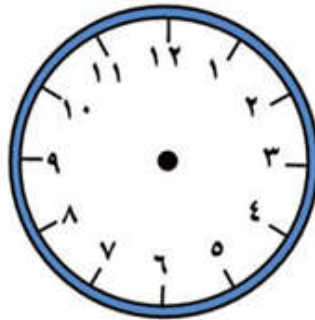
4-ساعه والدي متقدمه 17 دقيقة و الساعه الآن هي  
الثامنة إلا ثلث و الوقت متقدم بها 15 دقيقة لذلك فإن  
الوقت الظاهر بها

هو .....



\_\_\_\_\_

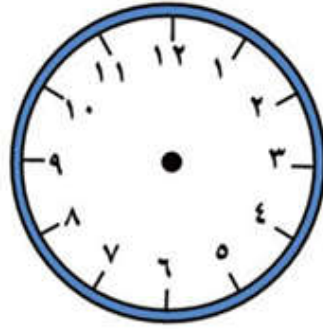
5-الساعه الآن السابعة و الربع ولكن ساعه الحائط متقدمة  
ربع ساعه كم سيكون الوقت الذي يظهر بها؟ .....



\_\_\_\_\_



6- الساعة الآن الثانية عشر إلا الثلث ولكنها متقدمة خمسة و عشرون دقيقة لذلك الوقت الذي يظهر بها هو.....



رابعا :

التقويم:

1- كم يوما بالأسبوع؟ .....

2- كم يوما في الشهر؟ .....

3- كم شهرا في السنة؟ .....

4- كم أسبوعا في السنة ؟ .....

5- شهر مارس بدأ يوم الأربعاء ولذلك فإن يوم 31 مارس سيكون يوم: .....

6- شهر فبراير بدأ يوم الخميس لذلك فإن يوم 29 فبراير سيكون يوم: .....

7- شهر مايو بدأ يوم الخميس, لذلك يوم 31 مايو سيكون موافقا ليوم: .....

8- شهر سبتمبر بدأ يوم الثلاثاء لذلك آخر أيام الشهر هو: .....

9- ما اليوم الذي يوافق يوم 17 مايو إذا علمت أن أول أيام شهر مايو هو يوم الأربعاء؟  
.....

10- ما اليوم الذي يوافق يوم 23 أبريل إذا علمت أن آخر أيام شهر أبريل هو يوم السبت؟  
.....

11- ما اليوم الموافق 16 أكتوبر إذا علمت أن آخر أيام شهر أكتوبر هو يوم الأربعاء؟  
.....

12- إذا كان شهر أكتوبر يدا يوم الثلاثاء فإن عدد الأيام الثلاثاء بالشهر هي؟  
.....

13- إذا علمت أن شهر مارس انتهى يوم الأربعاء فإن عدد أيام الأربعاء هي؟  
.....

14- ما هي عدد أيام الأربعاء في شهر فبراير و الذي انتهى بالخميس الموافق 29 فبراير؟  
.....

15- شهر مارس بدأ يوم الخميس لذلك بدأ يوم؟ .....

16- شهر مايو انتهى يوم الجمعة لذلك بدأ يوم  
.....؟


17- انتهى شهر فبراير 28 فبراير بالخميس لذلك أول  
أيامه؟ .....

18- انتهى شهر مارس يوم الجمعة لذلك كانت أول أيامه هي  
.....؟

19- انتهى شهر سبتمبر يوم السبت لذلك كانت أول أيامه هي  
.....

20- ما عدد أيام الإثنين بشهر سبتمبر الذي بدأ يوم  
الجمعة؟ .....

# بالتوفيق يا أبطال الغد



موقع

amanahj.com/om