

تم تحميل هذا الملف من موقع المناهج العُمانية



\* للحصول على أوراق عمل لجميع الصفوف وجميع المواد اضغط هنا

<https://almanahj.com/om>

\* للحصول على أوراق عمل لجميع مواد الصف الرابع اضغط هنا

<https://almanahj.com/om/4>

\* للحصول على جميع أوراق الصف الرابع في مادة رياضيات ولجميع الفصول, اضغط هنا

<https://almanahj.com/om/4math>

\* للحصول على أوراق عمل لجميع مواد الصف الرابع في مادة رياضيات الخاصة بـ الفصل الأول اضغط هنا

<https://almanahj.com/om/4math1>

\* لتحميل كتب جميع المواد في جميع الفصول للـ الصف الرابع اضغط هنا

<https://almanahj.com/om/grade4>

\* لتحميل جميع ملفات المدرس رحاب محمد جلال اضغط هنا

للتحدث إلى بوت المناهج العُمانية على تلغرام: اضغط هنا

[https://t.me/omcourse\\_bot](https://t.me/omcourse_bot)

# موقع المناهج العمانية

[alManahj.com/om](http://alManahj.com/om)

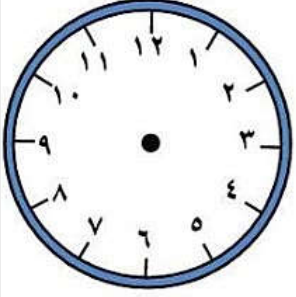
مراجعته حول الوقت و التقوم

الصف الرابع

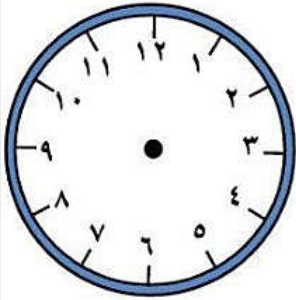
(رياضيات)

اعداد الاستاذة: رحاب محمد جلال

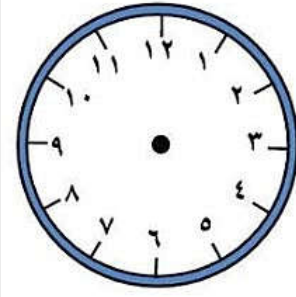
ارسم العقارب في الحالات التاليه.



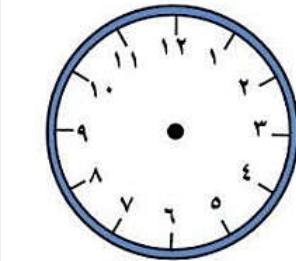
الساعه السابعه و الربع



الساعه التاسعه الا الربع

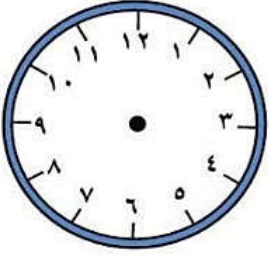


الساعه العاشره الا الربع

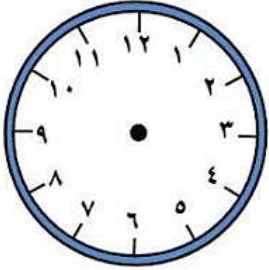


الساعه الثامنه الا ثلاث عشر دقيقه

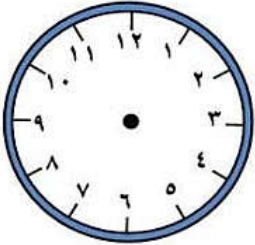
الساعة التاسعة و عشرون دقيقة



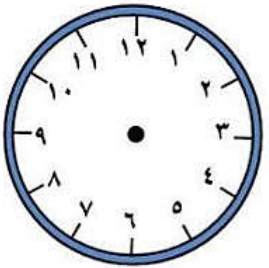
الساعة الرابعة الا ربع



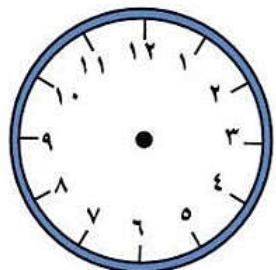
الساعة الخامسة والنصف والخمس دقائق



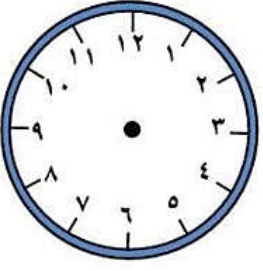
الساعة التاسعة الا عشر دقائق



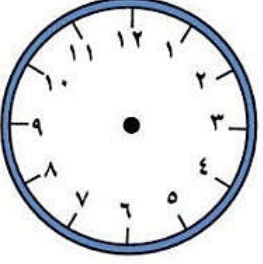
الساعة الرابعة الا خمس دقائق



الساعة السادسة الا ثلاث دقائق

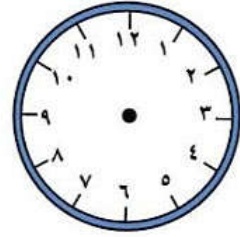
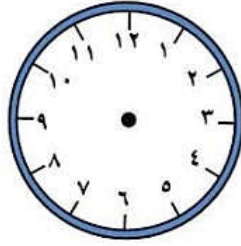


الساعة الرابعه و اثنان و خمسون دقيقه



٢- خرج سالم من منزله في تمام الساعه الخامسه و  
الربع و عاد في تمام الساعه السابعه الا ربع ما

المده التي قضاها خارج المنزل

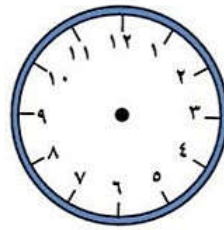
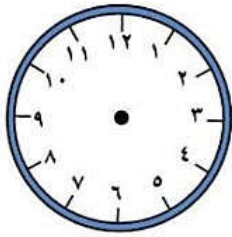


وقت العوده .....

وقت الخروج .....

- الفتره الزمنيه المستغرقه .....

خرجت في التاسعه الا ثلث مساء عدت في الثانيه  
عشر صباحا

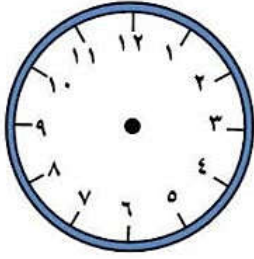


وقت العوده .....

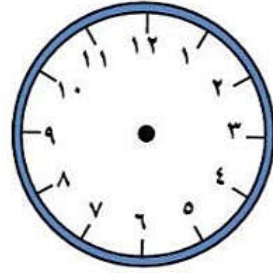
وقت الخروج .....

- الفتره الزمنيه المستغرقه .....

## خرجت في الثالثه الا ١٠ دقائق و عدت في الخامسه و النصف مساء



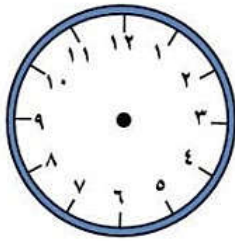
..... وقت العوده



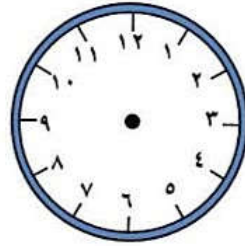
..... وقت الخروج

..... - الفتره الزمنيه المستغرقه

## خرجت في الثالثه عصرا و عادت في السابعه مساء



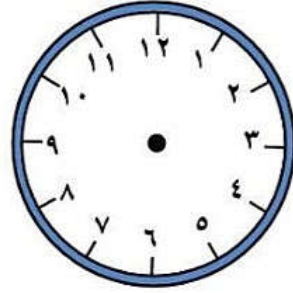
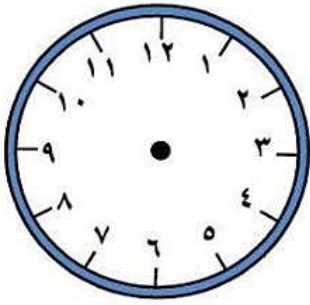
..... وقت العوده



..... وقت الخروج

..... - الفتره الزمنيه المستغرقه

خرجت في التاسعه و ثلث وعادت في الواحده  
ظهرا

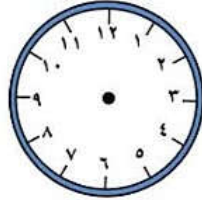
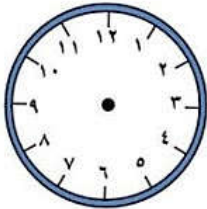


وقت العوده.....

وقت الخروج.....

- الفتره الزمنيه المستغرقه.....

خرجت الثامنه و نصف صباحا و عادت في  
العاشره الا ربع



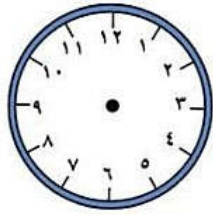
وقت العوده.....

وقت الخروج.....

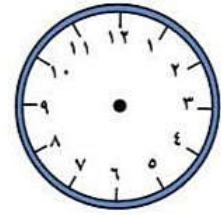
- الفتره الزمنيه المستغرقه.....



ذهبت لزياره عمي وجلست ساعتين و ١٥  
دقيقه ووصلت منزلي في تمام الساعه التاسعه  
مساء متي خرجت من منزلي



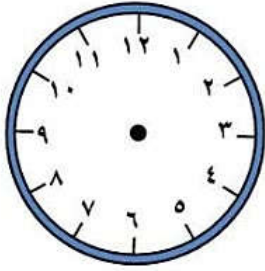
وقت العوده .....



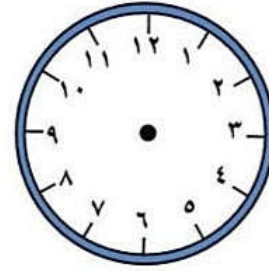
وقت الخروج .....

- الفتره الزمنيه المستغرقه .....

ذهبت في رحله الي الحديقه ومكثت هناك ثلاث  
ساعات الا التث و عدت في تمام الساعه  
السادسه مساء متي خرجت من المنزل



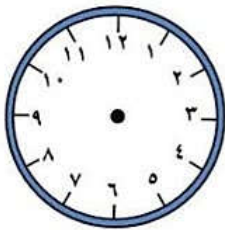
وقت العوده .....



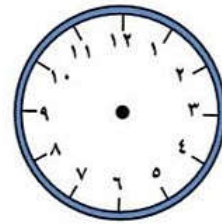
وقت الخروج .....

- الفتره الزمنيه المستغرقه .....

اخذت الرحله ٣ ساعات من مسقط الاردن ووصلت في  
مطار الاردن الرابعه مساء متي بدأت الرحله



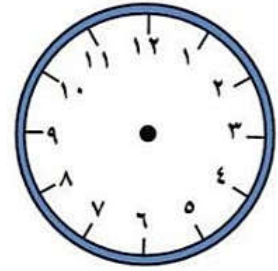
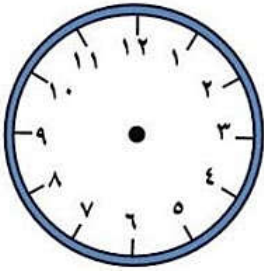
وقت العوده .....



وقت الخروج .....

- الفتره الزمنيه المستغرقه .....

خرجت من المدرسه الساعه الثالثه وجلست في  
المحل التجاري ساعه الا ربع اشترى اغراضا  
متى وصلت المنزل

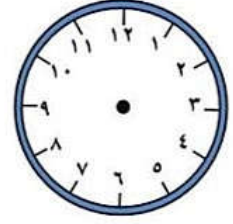
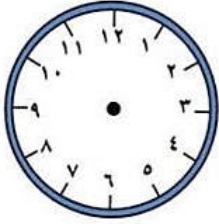


وقت العوده .....

وقت الخروج .....

- الفتره الزمنيه المستخرقه .....

عندما تكون الساعه هي الحاديه عشر و  
عشرون دقيقه و لكنها متاخره ثلث ساعه فان  
بها يكون .....



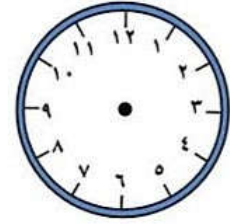
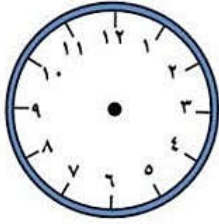
وقت العوده .....

وقت الخروج .....

- الفتره الزمنيه المستخرقه .....

عندما تكون الساعه الواحده و الربع ولكنها  
متاخره ٧ دقائق الوقت الذي يظهر بها يكون

.....



وقت العوده .....

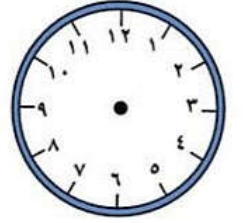
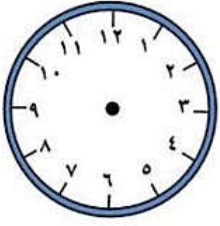
وقت الخروج .....

- الفتره الزمنيه المستخرقه .....

.....

٥- يجب ان تكون ساعتى الثالثه و ربع و لكنها متقدمه ٥ دقائق لذلك الوقت الذي يظهر بها هو

.....

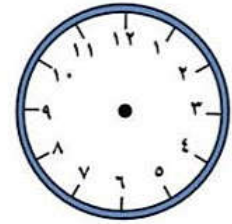
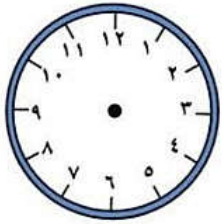


وقت العوده .....

وقت الخروج .....

- الفتره الزمنيه المستغرقه.....

ساعه والدي متقدمه ١٧ دقيقه و الساعه الان هي الثامنه الا ثلث و الوقت متقدم بها ١٥ دقيقه لذلك فان الوقت الظاهر عليها .....

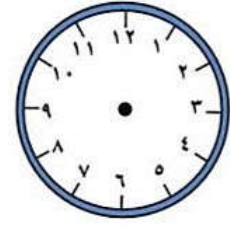
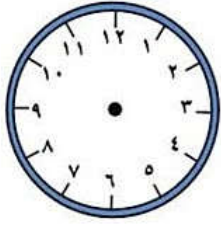


وقت العوده .....

وقت الخروج .....

- الفتره الزمنيه المستغرقه.....

الساعة الان السابعة و الربع ولكن ساعه الحائط  
متقدمه ربع ساعه كم ستكون الوقت الذي يظهر  
بها هو .....

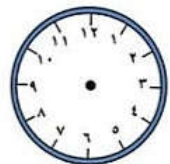
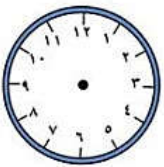


وقت العوده .....

وقت الخروج .....

- الفتره الزمنيه المستغرقه .....

الساعة الان الثانيه عشر الا الثالث ولكنها متقدمه خمسه  
و عشرون دقيقه لذلك الوقت الذي يظهر هو .....



وقت العوده .....

وقت الخروج .....

- الفتره الزمنيه المستغرقه .....

١- كم يوم بالاسبوع ؟

.....

٢- كم يوم في الشهر؟

.....

٣- كم شهرا في السنه؟

.....

٤- كم اسبوع في السنه ؟

.....

٥- شهر مارس بدأ يوم الاربعاء ولذلك فان يوم ٣١  
مارس سيكون يوم ؟

.....

٦- شهر فبراير بدأ يوم الخميس لذلك فان يوم ٢٩  
فبراير سيكون يوم؟

.....

٧- شهر مايو بدأ يوم الخميس لذال كيو ٣١ مايو  
سيكون يوم؟

.....



٨- شهر سبتمبر بدأ يوم الثلاثاء لذلك اخر ايام الشهر هو؟

.....

١- ما اليوم الذي يوافق يوم ١٧ مايو اذا علمت ان اول ايام شهر مايو هو يوم الاربعاء؟

.....

٢- ما اليوم الذي يوافق يوم ٢٣ ابريل اذا علمت ان اخر ايام شهر ابريل هو يوم الاربعاء؟

.....

٣- ما اليوم الموافق ١٦ أكتوبر اذا علمت ان اخر ايام شهر اكتوبر هو يوم الاربعاء؟

.....

٤- اذا كان شهر اكتوبر بدأ يوم الثلاثاء فان عدد ايام الثلاثاء بالشهر هي؟

.....

٥- اذا علمت ان شهر مارس انتهى يوم الاربعاء فان عدد ايام الاربعاء هي؟

.....

٦- ما هي عدد ايام الاربعاء في شهر فبراير و الذي  
انتهي بالخميس الموافق ٢٩ فبراير؟

.....

١- شهر مارس بدأ يوم الخميس لذلك بدأ يوم ؟

.....

٢- شهر مايو انتهى يوم الجمعة لذلك بدأ يوم ؟

.....

٣- انتهى شهر فبراير ٢٨ فبراير بالثلاثاء لذلك اول  
ايامه ؟

.....

٤- انتهى شهر مارس يوم الجمعة لذلك كانت اول  
ايامه هي ؟

.....

٥- انتهى شهر سبتمبر يوم السبت لذلك كانت اول ايامه؟

.....