

تم تحميل هذا الملف من موقع المناهج العُمانية



*للحصول على أوراق عمل لجميع الصفوف وجميع المواد اضغط هنا

<https://almanahj.com/om>

* للحصول على أوراق عمل لجميع مواد الصف الرابع اضغط هنا

<https://almanahj.com/om/4>

* للحصول على جميع أوراق الصف الرابع في مادة رياضيات ولجميع الفصول, اضغط هنا

<https://almanahj.com/om/4math>

* للحصول على أوراق عمل لجميع مواد الصف الرابع في مادة رياضيات الخاصة بـ الفصل الثاني اضغط هنا

<https://almanahj.com/om/4math2>

* لتحميل كتب جميع المواد في جميع الفصول للـ الصف الرابع اضغط هنا

<https://almanahj.com/om/grade4>

* لتحميل جميع ملفات المدرس أحمد علي المصري و عبد الفتاح مصطفى اضغط هنا

للتحدث إلى بوت المناهج العمانية على تلغرام: اضغط هنا

https://t.me/omcourse_bot



مدرسة أجيال الإبداع الخاصة



سلطنة عمان

وزارة التربية والتعليم

محافظة جنوب الشرقية



الاختبارات الوطنية

١٧ - ١٨ أبريل ٢٠١٩ م

طلاب الصف الرابع



الاختبار التدريبي لمادة الرياضيات للصف الرابع ٢٠١٨ - ٢٠١٩

مدير المدرسة:

أ/ عبد الله سعد

إشراف:

د/ عبد الفتاح مصطفى

عداد:

أحمد علي المصري

أوجد ناتج:

$$= 195 + 842$$

قرب الأعداد التالية حسب المطلوب منك

العدد ٦٤٢٩ لأقرب مائة هو _____

العدد ٤٥٦٧ لأقرب عشرة هو _____

٣,٧٥ ريال لأقرب ريال _____

يقرأ سعيد كتاباً به ٤٧٥ صفحة فإذا قرأ منه ٢٧ صفحة كم صفحة تبقت لينتهي سعيد

من قراءة الكتاب؟

أكمل شبكة الضرب الآتية

٣	٥.	×
		٤

ب عملية الضرب الموضحة بالشبكة مع ناتج الضرب

أجب بعدد واحد

قيمة الرقم ٤ في العدد ٩٦٤٢ هو _____

قيمة الرقم ٣ في العدد ٣٤٨٧ هو _____

قيمة الرقم ٧ في العدد ١٤٨٧ هو _____

إذا كان $٦٧٠ = ١٠ \times ٧٦ = ١٠ \div ٧٦٠$ فإن

ظل الشكل يمين الإجابة الصحيحة

٧٦٠٠

٧٠٦٠

٧٦٠

٧٦

يدعي فهد أن مجموع عددين زوجيين هو عدد زوجي

لا

نعم

هل ادعاء فهد صحيح ؟

فسر _____

أجب بعدد واحد

ضعف العدد ٤٦ هو _____

ضعف العدد ٧٢ هو _____

ما العدد الناتج من إضافة ٩ عشرات إلى ٨ عشرات؟

ظل الدائرة يمين الإجابة الصحيحة

١٧٠٠

١٧٠

٨٠

٩٠

[٢]

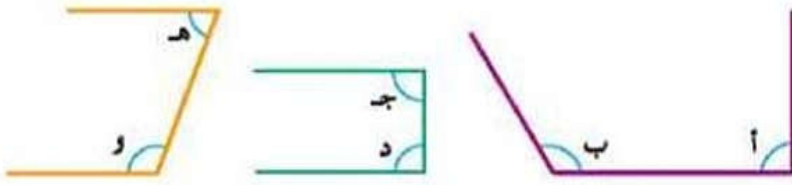
رتب الأعداد الآتية تصاعدياً

١٧ ، ١- ، ١٢- ، ٩ ، ٨- ، ٣ ، ٠ ، ٥-

--	--	--	--	--	--	--	--

[١]

ادرس الأشكال المقابلة

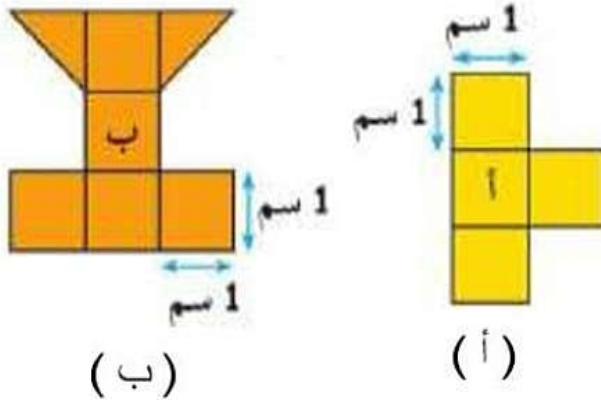


علامة ✓ أمام كل عبارة من العبارات الآتية:

خطأ	صواب	العبارة
		د الزوايا القائمة في الأشكال المقابلة ؛ زوايا
		س الزاوية (و) أكبر من قياس الزاوية (هـ)

[١]

أجب بعدد واحد



محيط الشكل (أ) _____ سم

مساحة الشكل (ب) _____ سم^٢

[١]

بدأ كريم في تنظيف بيته الساعة ٩:٤٥ مساءً وانتهى في الساعة ١٠:٥٥ مساءً.

لا

نعم

هل استغرق كريم في تنظيف البيت أكثر من ساعة ؟

ضع علامة ✓ داخل مربع واحد للإشارة على الإجابة الصحيحة

سر

٢] إذا كان عدد البط في حظيرة سالم ١٥ بطة وعدد الأحصنة ١٢ حصان فكم عدد الأرجل؟

١] مع مريم ٤٨ مشبك وتريد توزيعهم على ٦ من أصدقائها بالتساوي كم يكون نصيب كل واحدة منهم؟

١] يدعي حازم أنه عند التحرك من الموقع (ب ، ٧) إلى الموقع (د ، ٣) يجب أن نتحرك

لليمين خطوتين ثم للأعلى ٤ خطوات

هل ادعاء حازم صحيح؟

فسر

٧									
٦									
٥									
٤									
٣									
٢									
١									
	أ	ب	ج	د	هـ	و	ز	ح	ط

لا

نعم

امتحان تدريبي للاختبارات الوطنية ٢٠١٨ / ٢٠١٩

المادة / رياضيات

الزمن / ساعة

الدرجة الكلية

٣٠

اسم التلميذ:

ما العدد الذي صيغته التحليلية $5 + 70 + \dots + 4$ ؟

ظل الدائرة يمين الاجابة الصحيحة

٤٧٥٠٠

٤٧٥٠

٤٧٠٥

٤٠٧٥

١] أجب بعدد واحد

ي العدد ٤٧٥,٦٩ الرقم الذي يقع في منزلة جزء من عشرة هو _____

٢] اكتب أي الوحدات المناسبة من بين الوحدات الآتية (كغم , غم , م , سم)

طول قلم رصاص = ١٥ _____

وزن كيس من الفاكهة = ٤ _____

وزن خاتم ذهب = ٣ _____

طول ملعب المدرسة = ١٥ _____

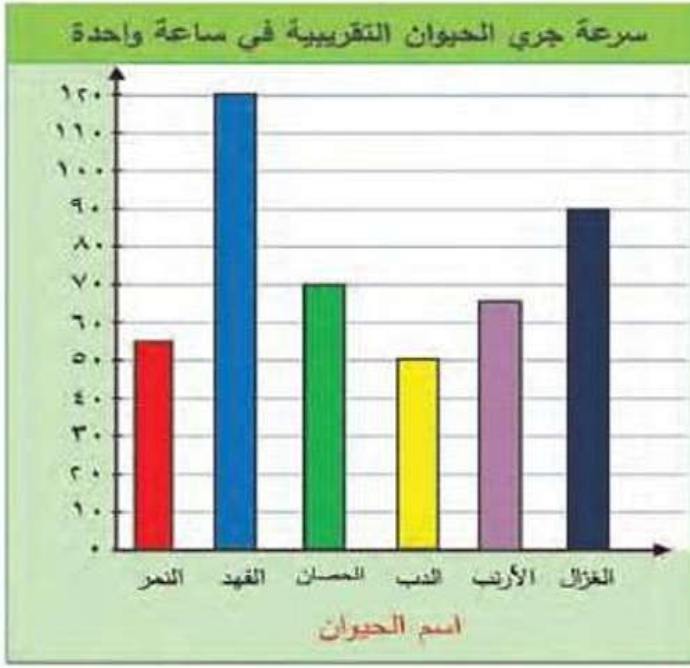
١] أجب بعدد واحد

$$\frac{1}{5} + \frac{4}{5} = \underline{\hspace{2cm}}$$

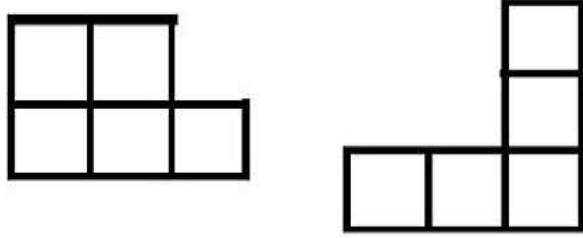
١] مع طارق ٢ ريال اشترى ٣ قمصان سعر القميص ٤ ريالات كم ريالاً تبقى مع طارق؟

من الشكل المقابل

ما الفرق بين سرعة الفهد وسرعة الحصان؟



1]

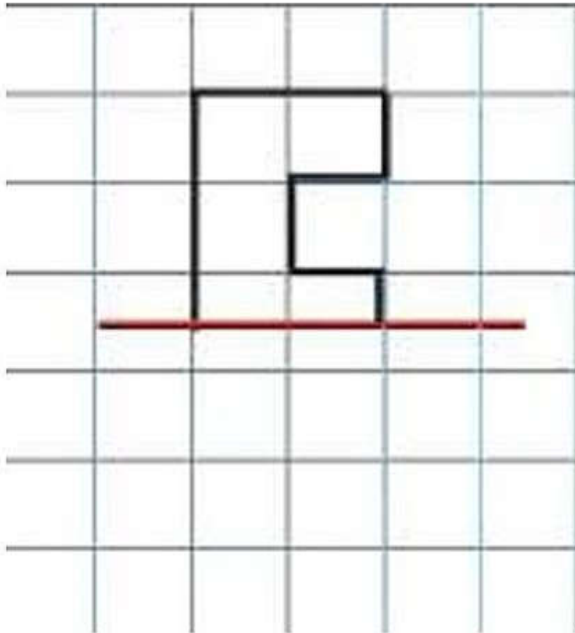


ادرس الشكلين التاليين جيداً

ضع علامة ✓ في مكانها المناسب

خطأ	صواب	العبرة
		الشكلين لهما نفس المساحة
		الشكلين لهما نفس المحيط

1]



أكمل الشكل التالي معتمداً على خط التماثل