

شكراً لتحميلك هذا الملف من موقع المناهج العمانية



مذكرة إثرائية سؤال وجواب في الوحدة الأولى وطني عمان أرض وتراث

[موقع المناهج](#) ⇨ [المناهج العمانية](#) ⇨ [الصف الرابع](#) ⇨ [اجتماعيات](#) ⇨ [الفصل الثاني](#) ⇨ [الملف](#)

تاريخ نشر الملف على موقع المناهج: 2024-04-04 18:52:39

إعداد: [علي بن محمد الحسان](#)

التواصل الاجتماعي بحسب الصف الرابع



روابط مواد الصف الرابع على تلغرام

[الرياضيات](#)

[اللغة الانجليزية](#)

[اللغة العربية](#)

[التربية الاسلامية](#)

المزيد من الملفات بحسب الصف الرابع والمادة اجتماعيات في الفصل الثاني

كراسة أنشطة المادة	1
كراسة الأنشطة	2
ملخص شرح درس أفلاج وطني	3
ملخص شرح درس أسواق وطني	4
ملخص شرح درس محافظات وطني	5

سؤال
9
جواب

مذكرة
اثرائية



الصف الرابع

دروس الوحدة الأولى

افلاج بلادي

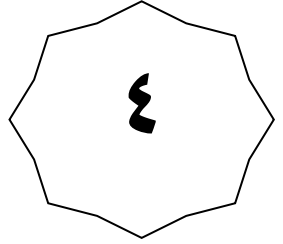
محافظات وطني

عاداتي وتقاليدي العمانية
(٢)

2023-2024

99493923

علي بن محمد الحسان



الصف الرابع

الفصل الدراسي الثاني

الوحدة الأولى

درس : محافظات وطني (أجوبة)

٢٠٢٣-٢٠٢٤

٩٩٤٩٣٩٢٣

علي بن محمد الحسان

درس : محافظات وطني

السؤال الأول : ضع علامة (✓) أو (X) أمام العبارة المناسبة مع تصحيح ما تحته خط اذا كانت العبارة خطأ

- ١- (✓) اول مكان تشرق عليه الشمس في وطني سلطنة عمان يوجد في محافظة جنوب الشرقية .
- ٢- (X) يمتد وطني سلطنة عمان على مساحة ضيقة من الارض . واسعة
- ٣- (✓) تم وضع النطاق الإداري لوطني سلطنة عمان من اجل تسهيل إدارة البلاد .

السؤال الثاني : أكمل العبارات التالية بكلمات مناسبة من عندك .

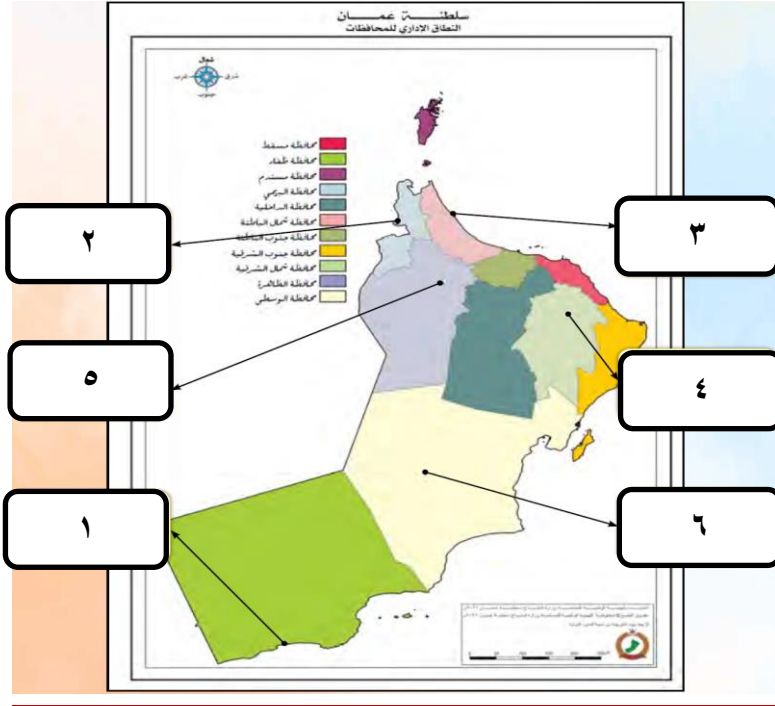
- ١- لكل محافظة من محافظات وطني سلطنة عمان مركزا إداريا تمثله إحدى الولايات .
- ٢- محافظة في وطني سلطنة عمان يوجد فيها قلعة مطرح وقصر العلم العامر هي محافظة مسقط .
- ٣- عاصمة وطني سلطنة عمان هي ولاية مسقط .

السؤال الثالث : ظلل الإجابة الصحيحة من بين البدائل المعطاة .

- ١- يتكون وطني سلطنة عمان من ... محافظة .
 ١٠ ١١ ١٢
- ٢- محافظة تقع في أقصى شمال وطني سلطنة عمان تتمتع بطبيعتها الخلابة ومناظرها البحرية الرائعة هي ...
 مسندم مسقط ظفار
- ٣- محافظة تقع في أقصى جنوب وطني سلطنة عمان تتميز بأشجار اللبان وتشتهر بطقسها الموسمي المعروف بالخريف هي ...
 مسندم مسقط ظفار

السؤال الرابع : ضع دائرة حول الإجابة الصحيحة فيما يلي :

- ١- اول مكان تشرق عليه الشمس في وطني سلطنة عمان هو (رأس الحد - رأس الجمز) .
- ٢- تضم كل محافظة من محافظات وطني سلطنة عمان عددا من الولايات يصل عددها (٦٠ - ٦١) ولاية
- ٣- عاصمة وطني سلطنة عمان توجد في محافظة (مسندم - مسقط) .

السؤال الخامس : اكتب رقم المركز الإداري للمحافظات التالية في مكانها الصحيح .

ولاية صلالة	١
ولاية البريمي	٢
ولاية صحار	٣
ولاية ابراء	٤
ولاية عبري	٥
ولاية هيماء	٦

السؤال السادس : اكتب اسم المحافظة او الولاية من خلال التعريفات التالية :

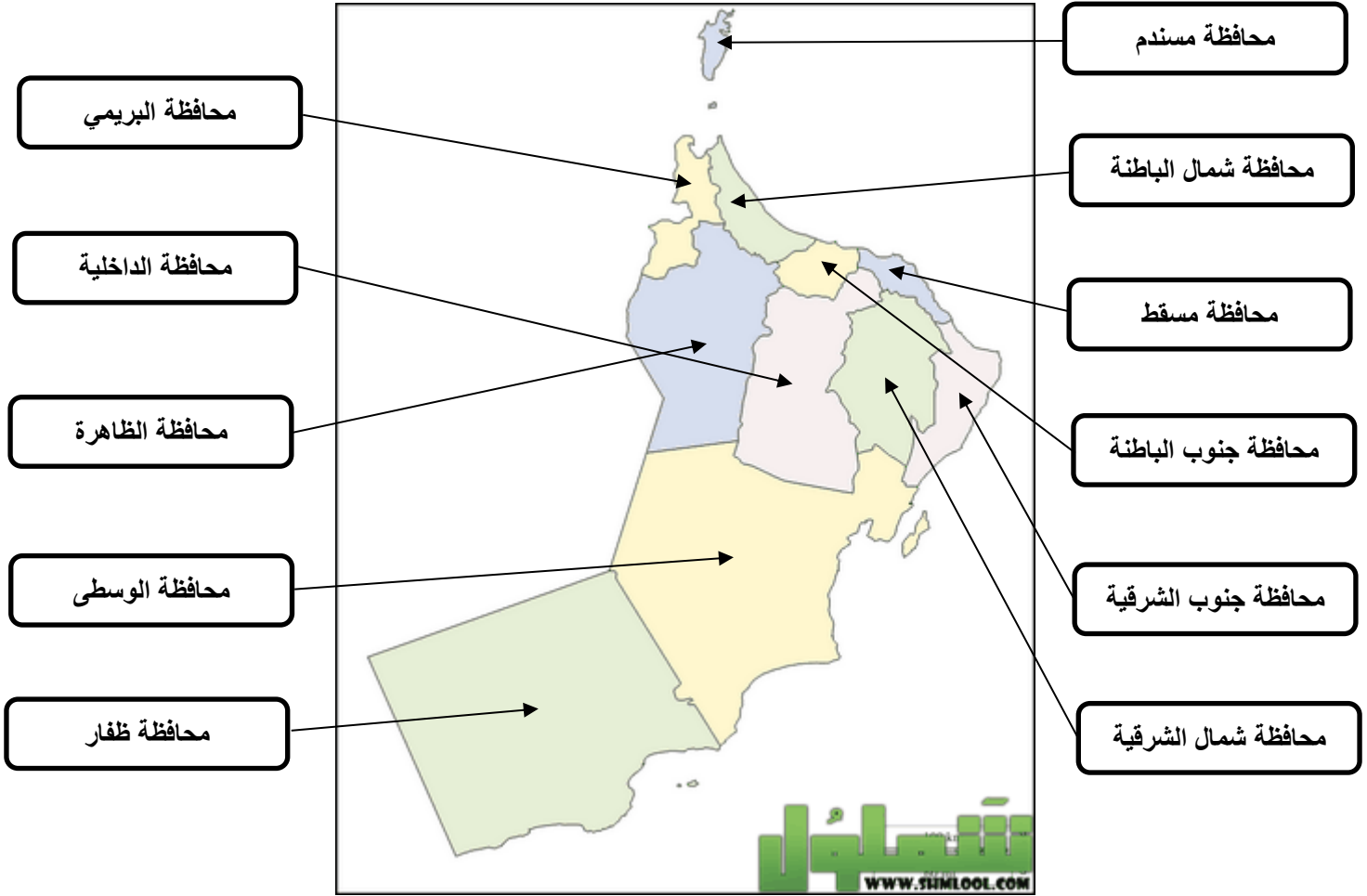
تطل على بحر العرب ويوجد فيها رأس
الحد الذي يعد اول مكان تشرق عليه
الشمس في وطني سلطنة عمان وتعد ولاية
صور مركزها الإداري .
انها محافظة
جنوب الشرقية

تقع في جهة الغرب من وطني سلطنة عمان
من ابرز معالمها مقابر بات الاثرية ويوجد
فيها حوض المسرات ، مركزها الإداري
ولاية عبري .
انها محافظة
الظاهرة

تقع في محافظة شمال الباطنة وتعد مركزها
الإداري تشتهر بقلعتها المطلة على بحر
عمان وتنتشر على سهولها أشجار النخيل
والمانجو والموز .
انها ولاية
صحار

تعد المركز الإداري لمحافظة الداخلية
تحتضن قلعة الشهباء التاريخية وتشتهر
بسوقها التقليدي القديم .
انها ولاية
نزوى

السؤال السابع : صل بخط بين اسم المحافظة وموقعها الصحيح في الخريطة :



السؤال الثامن : اجب عن السؤال التالي :

س ١ : ما أهمية النطاق الإداري لوطني سلطنة عمان ؟

ج ١ : - لتسهيل إدارة البلاد .

- رعاية مصالح المواطنين .

- تقديم الخدمات المختلفة لهم بشكل أفضل .

السؤال الثامن : اكتب رقم المركز الإداري للمحافظات التالية في مكانها الصحيح في الخريطة .

٢

حصن الخندق

محافظه الوسطى

١




١

محمية المها العربي

محافظه البريمي

٢



٣

شلالات وادي دريات

محافظه ظفار

٣



٥

عين الكسفة

محافظه شمال الشرقية

٤

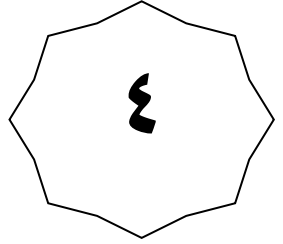


٤

وادي بني خالد

محافظه جنوب الباطنة

٥



الصف الرابع

الفصل الدراسي الثاني

الوحدة الأولى

درس : محافظات وطني (أسئلة)

٢٠٢٣-٢٠٢٤

٩٩٤٩٣٩٢٣

علي بن محمد الحسان

درس : محافظات وطني

السؤال الأول : ضع علامة (✓) أو (X) أمام العبارة المناسبة مع تصحيح ما تحته خطأ اذا كانت العبارة خطأ

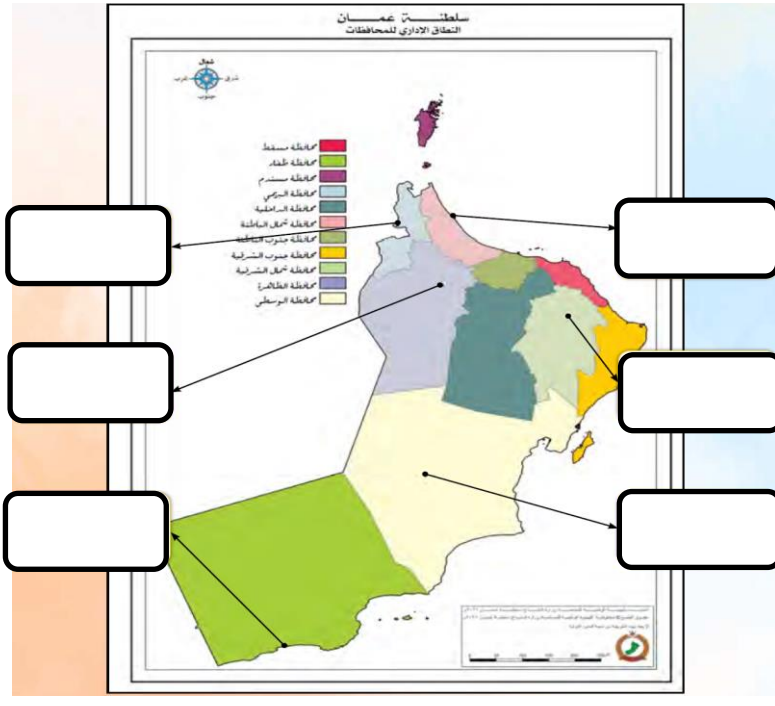
- ١- () اول مكان تشرق عليه الشمس في وطني سلطنة عمان يوجد في ولاية صور .
٢- () يمتد وطني سلطنة عمان على مساحة ضيقة من الارض .

السؤال الثاني : أكمل العبارات التالية بكلمات مناسبة من عندك .

- ١- لكل محافظة من محافظات وطني سلطنة عمان مركزا إداريا تمثله إحدى
٢- محافظة في وطني سلطنة عمان يوجد فيها قلعة مطرح وقصر العلم العامر هي

السؤال الثالث : ظلل الإجابة الصحيحة من بين البدائل المعطاة .

- ١- يتكون وطني سلطنة عمان من ... محافظة .
 ١٠ ١١ ١٢
- ٢- تضم كل محافظة من محافظات وطني سلطنة عمان عددا من الولايات يصل عددها ... ولاية .
 ٦٠ ٦١ ٦٢
- ٣- محافظة تقع في أقصى شمال وطني سلطنة عمان تتمتع بطبيعتها الخلابة ومناظرها البحرية الرائعة هي ...
 مسندم مسقط ظفار
- ٤- محافظة تقع في أقصى جنوب وطني سلطنة عمان تتميز بأشجار اللبان وتشتهر بطقسها الموسمي المعروف بالخريف هي ...
 مسندم مسقط ظفار

السؤال الرابع : اكتب رقم المركز الإداري للمحافظات التالية في مكانها الصحيح في الخريطة .

ولاية صلالة	١
ولاية البريمي	٢
ولاية صحار	٣
ولاية ابراء	٤
ولاية عبري	٥
ولاية هيماء	٦

السؤال الخامس : اكتب اسم المحافظة او الولاية من خلال التعريفات التالية :

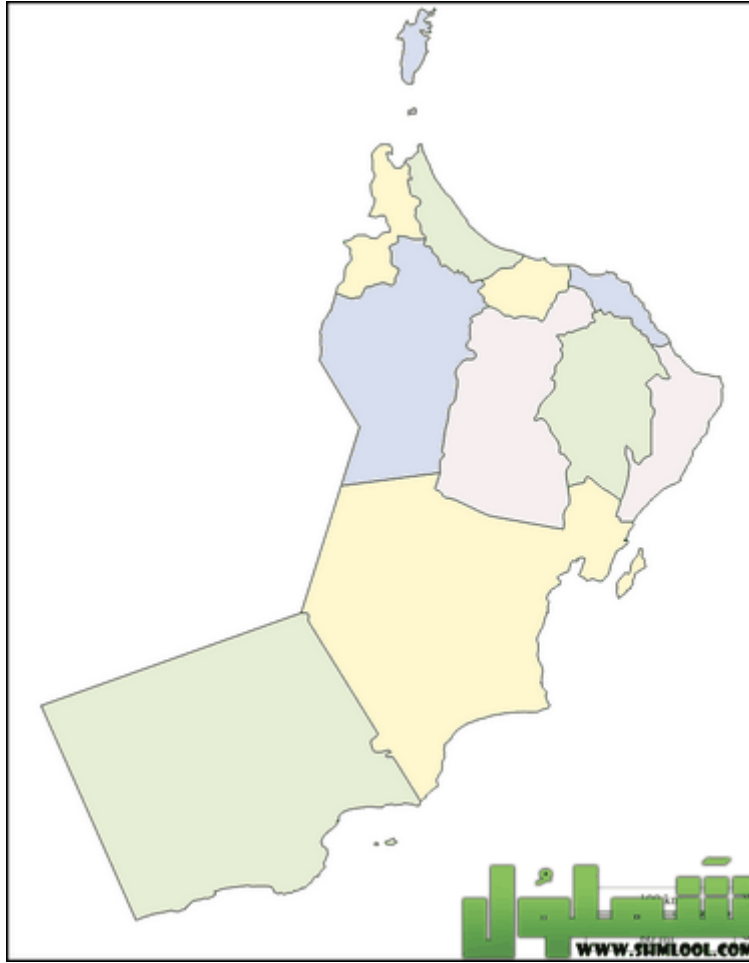
تطل على بحر العرب ويوجد فيها رأس
الحد الذي يعد اول مكان تشرق عليه
الشمس في وطني سلطنة عمان وتعد ولاية
صور مركزها الإداري .
انها محافظة
.....

تقع في جهة الغرب من وطني سلطنة عمان
من ابرز معالمها مقابر بات الاثرية ويوجد
فيها حوض المسرات ، مركزها الإداري
ولاية عبري .
انها محافظة
.....

تقع في محافظة شمال الباطنة وتعد مركزها
الإداري تشتهر بقلعتها المطلة على بحر
عمان وتنتشر على سهولها أشجار النخيل
والمانجو والموز .
انها ولاية
.....

تعد المركز الإداري لمحافظة الداخلية
تحتضن قلعة الشهباء التاريخية وتشتهر
بسوقها التقليدي القديم .
انها ولاية
.....

السؤال السادس : صل بخط بين اسم المحافظة وموقعها الصحيح في الخريطة :



محافظة البريمي

محافظة الداخلية

محافظة الظاهرة

محافظة الوسطى

محافظة ظفار

محافظة مسندم

محافظة شمال الباطنة

محافظة مسقط

محافظة جنوب الباطنة

محافظة جنوب الشرقية

محافظة شمال الشرقية

السؤال السابع : اجب عن السؤال التالي :

س ١ : ما أهمية النطاق الإداري لوطني سلطنة عمان ؟

ج ١ :

.....
.....

السؤال الثامن : ضع ارقام المحافظات التالية امام الصورة المنتمية اليها :

محافظه الوسطى

١

حصن الخندق



محافظه البريمي

٢

محمية المها العربي



محافظه ظفار

٣

شلالات وادي دريات



محافظه شمال الشرقية

٤

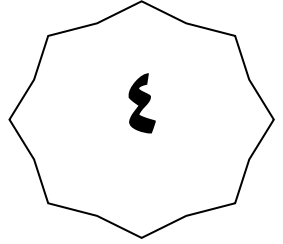
عين الكسفة



محافظه جنوب الباطنة

٥

وادي بني خالد



الصف الرابع

الفصل الدراسي الثاني

الوحدة الأولى

درس : افلاج بلادي (أجوبة)

٢٠٢٣-٢٠٢٤

٩٩٤٩٣٩٢٣

علي بن محمد الحسان

درس : افلاج بلادي**السؤال الأول : ضع علامة (✓) أو (X) أمام العبارة المناسبة مع تصحيح ما تحته خطأ اذا كانت العبارة خطأ**

- ١- (✓) تعد الافلاج سببا للاستقرار السكاني منذ القدم .
- ٢- (✓) تعد الافلاج من المصادر المهمة للمياه التي تقوم عليها الحضارات .
- ٣- (✓) اهتمت حكومة سلطنة عمان في المحافظة على الافلاج والعمل على صيانتها .

السؤال الثاني : أكمل العبارات التالية بكلمات مناسبة من عندك .

- ١- اشتهر وطني سلطنة عمان منذ القدم بالافلاج التي بناها اجدادنا .
- ٢- تتكون الافلاج من قنوات " سواقي " تحت الأرض او على سطحها .
- ٣- عدد الافلاج العمانية التي أدرجت في قائمة التراث العماني هي خمسة افلاج .

السؤال الثالث : ظلل الإجابة الصحيحة من بين البدائل المعطاة .

١- يعتمد نظام الري بالافلاج على توزيع المياه على الأراضي الزراعية وفق نظام يعتمد على التقسيم ...

- السنوي ● الزمني ○ الشهري

٢- يشرف على إدارة نظام الافلاج شخص يسمى ...

- وكيل الفلج ○ شيخ الفلج ○ مدير الفلج

٣- نظم الري القديمة التي أظهرت براعة العمانيين منذ القدم يطلق عليها ...

- البساتين ○ القنوات ● الافلاج

السؤال الرابع : ضع دائرة حول الإجابة الصحيحة .

- ١- الافلاج احد نظم الري (الحديثة - القديمة) التي أظهرت براعة العمانيين منذ القدم .
- ٢- يبلغ عدد الافلاج في وطني سلطنة عمان حوالي (٣١١٢ - ٤١١٢) فلجا .
- ٣- يطلق اسم الفلج في اللغة العربية على النهر (الصغير - الكبير) .

السؤال الخامس : اكمل الشكل بكتابة مرور قطرة الماء

انا قطرة الماء انزل من **الغيمة** واجري في **الاوودية** ثم اسير في قنوات تسمى **الافلاج**

السؤال السادس : ادرج في قائمة التراث العماني خمسة افلاج اكمل الشكل بكتابة اسم الناقص منها

الخطمين دارس الملكي
الميسر الجيلة

السؤال السابع : صل بخط بين الفلج والمحافظة المنتمي اليها .

The map shows the following connections:

- الازكي** (Azki) is connected to the highlighted area in the north-eastern part of the map.
- الصور** (Suwayr) is connected to the highlighted area in the south-eastern part of the map.
- الخطمين** (Al-Khatmeen) is connected to the highlighted area in the north-western part of the map.
- الريسة** (Al-Raysa) is connected to the highlighted area in the north-western part of the map.
- الريسة** (Al-Raysa) is connected to the highlighted area in the north-western part of the map.

The photo cards contain the following information:

- الريسة** (Al-Raysa): 100 سنة / 1910, Falaj Al-Muyassar, Baita
- الريسة** (Al-Raysa): 100 سنة / 1910, Falaj Al-Khatmeen, Baita
- الريسة** (Al-Raysa): 500 سنة / 1500, Falaj Daris, Baita
- الازكي** (Azki): 100 سنة / 1910, Falaj Al-Mulki, Baita
- الصور** (Suwayr): 500 سنة / 1500, Falaj Al-Jaila, Baita

السؤال الثامن : اجب عن الأسئلة التالية :

س ١ : ما فائدة القنوات المائية التي تتكون منها الأفلاج ؟

ج ١ : تعمل على تجميع المياه ونقلها الى أماكن بعيدة لسقي المزروعات وتلبية احتياجات الانسان اليومية .

س ٢ : ما سبب ادراج افلاج سلطنة عمان في قائمة التراث العالمي ؟

ج ٢ : بسبب أهميتها الحضارية والتراثية .

س ٣ : للأفلاج في وطني سلطنة عمان أهمية كبيرة " اذكر اربع من فوائد الأفلاج ؟

ج ٣ : ١- تمثل اختراعا هندسيا ابداعيا يعمل على استخراج المياه من باطن الأرض الى سطحها .

٢- تستخدم في ري الأراضي الزراعية وتعد مصدرا للشرب .

٣- تعد سببا للاستقرار السكاني منذ القدم .

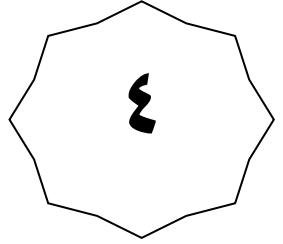
٤- تعد تراثا ثقافيا نعز به ومعلما سياحيا .

س ٤ : تواجه الأفلاج في سلطنة عمان العديد من التحديات " اذكر اهم ثلاث تحديات ؟

ج ٤ : ١- انخفاض منسوب المياه في الأفلاج .

٢- تعرضها للتلوث والاهمال .

٣- تسرب المياه المالحة لبعض الأفلاج القريبة من البحر .



الفصل الدراسي الثاني



الوحدة الأولى



درس : افلاج بلادي (أسئلة)



درس : افلاج بلادي**السؤال الأول : ضع علامة (✓) أو (X) أمام العبارة المناسبة مع تصحيح ما تحته خطأ اذا كانت العبارة خطأ**

- ١- () يطلق اسم الفلج في اللغة العربية على النهر الصغير .
- ٢- () تعد الافلاج من المصادر المهمة للمياه التي تقوم عليها الحضارات .
- ٣- () اهتمت حكومة سلطنة عمان في المحافظة على الافلاج والعمل على صيانتها .
- ٤- () الافلاج اد نظم الري الحديثة التي أظهرت براعة العمانيين منذ القدم .

السؤال الثاني : أكمل العبارات التالية بكلمات مناسبة من عندك .

- ١- اشتهر وطني سلطنة عمان منذ القدم التي بناها اجدادنا .
- ٢- تتكون الافلاج من " سواقي " تحت الأرض او على سطحها .
- ٣- عدد الافلاج العمانية التي أدرجت في قائمة التراث العماني هي افلاج .

السؤال الثالث : ظلل الإجابة الصحيحة من بين البدائل المعطاة .

١- يعتمد نظام الري بالافلاج على توزيع المياه على الأراضي الزراعية وفق نظام يعتمد على التقسيم ...

- السنوي ○ الزمني ○ الشهري

٢- يشرف على إدارة نظام الافلاج شخص يسمى ...

- وكيل الفلج ○ شيخ الفلج ○ مدير الفلج

٣- نظم الري القديمة التي أظهرت براعة العمانيين منذ القدم يطلق عليها ...

- البساتين ○ القنوات ○ الافلاج

٤- يبلغ عدد الافلاج في وطني سلطنة عمان حوالي ... فلجا

- ٣١١٢ ○ ٤١١٢ ○ ٥١١٢


السؤال الرابع : اكمل الشكل بكتابة مرور قطرة الماء

انا قطرة الماء انزل من واجري في ثم اسير في قنوات تسمى

السؤال الخامس : ادرج في قائمة التراث العماني خمسة افلاج اكمل الشكل بكتابة اسم الناقص منها

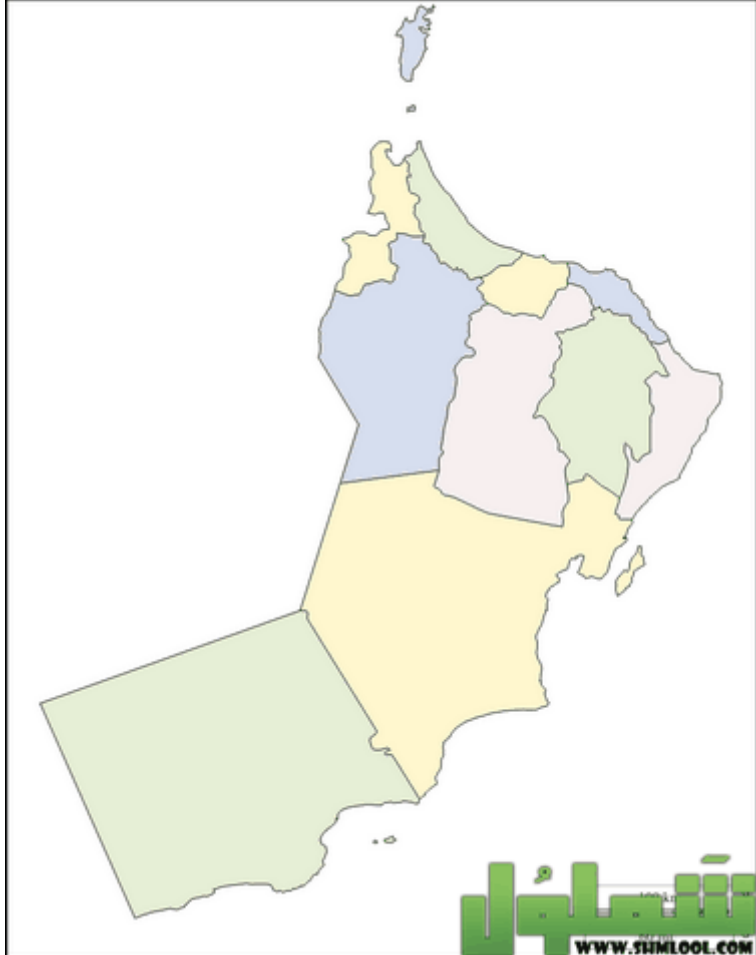
السؤال السادس : صل بخط بين الفلج والمحافظة المنتمي اليها .

الريستاق




الريستاق

فلاج المصنوع
100
Baia Falaj Al-Muassar
2019



www.sijmlool.com


ازكي



ازكي

فلاج الملك
100
Baia Falaj Al-Malki
2019


نزوى



نزوى

فلاج الختمين
100
Baia Falaj Al-Khatmeen
2019


صور



صور

فلاج الذيلة
500
Baia Falaj Al-Dhaila
2019

بركة الموز



بركة الموز

فلاج داريس
500
Baia Falaj Daris
2019

السؤال السابع : اجب عن الأسئلة التالية :

س ١ : ما فائدة القنوات المائية التي تتكون منها الأفرج ؟

ج ١ :

س ٢ : ما سبب ادراج افلاج سلطنة عمان في قائمة التراث العالمي ؟

ج ٢ :

س ٣ : للأفلاج في وطني سلطنة عمان أهمية كبيرة " اذكر اربع من فوائد الأفلاج ؟

- ج ٣ : ١-
- ٢-
- ٣-
- ٤-

س ٤ : تواجه الأفلاج في سلطنة عمان العديد من التحديات " اذكر اهم ثلاث تحديات ؟

- ج ٤ : ١-
- ٢-
- ٣-



الفصل الدراسي الثاني

الوحدة الأولى

درس : عاداتي وتقاليدي العمانية "٣" (أجوبة)

٢٠٢٣-٢٠٢٤

٩٩٤٩٣٩٢٣

علي بن محمد الحسان

درس : عاداتي وتقاليدي العمانية (2)**السؤال الأول : ضع علامة (✓) أو (X) أمام العبارة المناسبة مع تصحيح ما تحته خطأ اذا كانت العبارة خطأ**

- ١- (X) حبا لله سبحانه وتعالى وطننا سلطنة عمان شواطئ قصيرة متنوعة الخيرات . طويله
- ٢- (✓) موسم حصاد التمور في وطني سلطنة عمان يعرف بالقيظ .
- ٣- (✓) تهتم حكومتي سلطنة عمان بالحفاظ على العادات والتقاليد العمانية .
- ٤- (✓) فن تقليدي عماني يؤديه رعاة الابل ومربو الخيل بشكل فردي او جماعي يسمى التغروود

السؤال الثاني : ظلل الإجابة الصحيحة من بين البدائل المعطاة .

- ١- يبدأ صيد السردين في معظم محافظات سلطنة عمان في شهر ... من كل عام
- سبتمبر ● اكتوبر ○ نوفمبر

- ٢- مزاد علني لبيع بعض المحاصيل الزراعية قبل حصادها يسمى ...
- البيع ○ المزايمة ● الطناء

- ٣- يسمى الشخص الذي يقوم بالمناداة على أشجار النخيل المراد بيع ثمارها بـ

- الدلال ○ المنادي ○ البائع

- ٤- فن تقليدي عماني تؤديه النساء للتسلية في اثناء رعي الاغنام يسمى

- التغروود ● التعويب ○ العازي

السؤال الثالث : أكمل العبارات التالية بكلمات مناسبة من عندك .

- ١- يتم صيد السردين من خلال قيام الصيادين برمي شباكهم في البحر ثم سحبها الى الشاطئ .
- ٢- يمتد موسم صيد السردين في وطني سلطنة عمان بين شهري أكتوبر وفبراير .
- ٣- قد تستغرق عملية الطنى ساعات عديدة او أيام حسب عدد أشجار النخيل .
- ٤- عملية طبخ البسر في وعاء خاص استعدادا لتجفيفه وبيعه بالأسواق تسمى التبسيل .

السؤال الرابع : ضع دائرة حول الإجابة الصحيحة .

- ١- يبدأ الطنى مع نضج الثمار في أوائل فصل (الصيف - الشتاء)
- ٢- يجتمع الأهالي مع بداية (الصباح - المساء) لحضور عملية المزايدة على بيع النخيل .
- ٣- يمتلك وطني سلطنة عمان مساحات واسعة من المراعي ساهمت في ممارسة العمانيين حرفة (الصناعة - الرعي) منذ القدم .
- ٤- يعرف الموسم الذي يلي الخريف في محافظة ظفار بموسم (القيظ - الصرب)

السؤال الخامس : " مارس العمانيون منذ القدم ثلاث أنشطة اقتصادية مختلفة " ماهي ؟

صيد الاسماك	الرعي	الزراعة
-------------	-------	---------

السؤال السادس : من خلال الصورة التالية ضع دائرة على الإجابة الصحيحة من بين القوسين :

في المزرعة سعد (الاب - الجد) الى النخلة وبداء بعملية (القطف - الجداد) وذلك بقطع العذوق التي تحمل (الغصون - الثمار) بينما اخذ محمد ونورة يجمعان ما يتساقط من الثمار في سلة من (السعف - البلاستيك) .

السؤال السابع : ضع تحت الصورة الرقم الدال عليها من معنى :

١	الجداد	٤	التبسيل	٣	الفرز	٢	جمع التمور	٥	تجفيف التمور
---	--------	---	---------	---	-------	---	------------	---	--------------



٣

١

٤

٢

٥

السؤال الثامن : اكتب تحت الصورة ماتمثلة من العادات العمانية القديمة :



موسم تبسيل التمور



فن المنادة في البيع والشراء



موسم حصاد الورد

السؤال التاسع : اجب عن الأسئلة التالية :

س ١ : في ماذا يستخدم السردين ؟

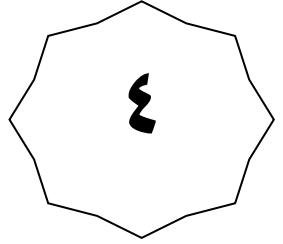
ج ١ : - للأكل .

- علف للحيوانات .

- سماد للمحاصيل الزراعية .

س ٢ : هل للأسر دور في تجهيز السردين ؟ كيف ذلك ؟

ج ٢ : نعم للأسر دور في تجهيز السردين ، وذلك من خلال وضع السردين في أماكن خاصة حتى تجف ثم وضعها في أكياس خاصة .



الفصل الدراسي الثاني

الوحدة الأولى

درس : عاداتي وتقاليدي العمانية "٣" (أسئلة)

٢٠٢٣-٢٠٢٤

٩٩٤٩٣٩٢٣

علي بن محمد الحسان

درس : عاداتي وتقاليدي العمانية (2)**السؤال الأول : ضع علامة (✓) أو (X) أمام العبارة المناسبة مع تصحيح ما تحته خطأ اذا كانت العبارة خطأ**

- ١- () حبا الله سبحانه وتعالى وطننا سلطنة عمان شواطئ طويله متنوعة الخيرات .
- ٢- () موسم حصاد التمور في وطني سلطنة عمان يعرف بالقيظ .
- ٣- () تهتم حكومتي سلطنة عمان بالحفاظ على العادات والتقاليد العمانية .
- ٤- () فن تقليدي عماني يؤديه رعاة الابل ومربو الخيل بشكل فردي او جماعي يسمى التغرود

السؤال الثاني : ظلل الإجابة الصحيحة من بين البدائل المعطاة .

- ١- يبدأ صيد السردين في معظم محافظات سلطنة عمان في شهر ... من كل عام
- سبتمبر ○ اكتوبر ○ نوفمبر
- ٢- مزاد علني لبيع بعض المحاصيل الزراعية قبل حصادها يسمى ...
- البيع ○ المزايده ○ الطناء
- ٣- يسمى الشخص الذي يقوم بالمناداة على أشجار النخيل المراد بيع ثمارها بـ
- الدلال ○ المنادي ○ البائع
- ٤- فن تقليدي عماني تؤديه النساء للتسلية في اثناء رعي الاغنام يسمى
- التغرود ○ التعويب ○ العازي

السؤال الثالث : أكمل العبارات التالية بكلمات مناسبة من عندك .

- ١- يتم صيد السردين من خلال قيام الصيادين برمي في البحر ثم سحبها الى
- ٢- يمتد موسم صيد السردين في وطني سلطنة عمان بين شهري أكتوبر و.....
- ٣- قد تستغرق عملية الطنى عديدة او حسب عدد أشجار النخيل .
- ٤- عملية طبخ البسر في وعاء خاص استعدادا لتجفيفه وبيعه بالأسواق تسمى

السؤال الرابع : ضع دائرة حول الإجابة الصحيحة .

- ١- يبدأ الطنى مع نضج الثمار في أوائل فصل (الصيف - الشتاء)
- ٢- يجتمع الأهالي مع بداية (الصباح - المساء) لحضور عملية المزايذة على بيع النخيل .
- ٣- يمتلك وطني سلطنة عمان مساحات واسعة من المراعي ساهمت في ممارسة العمانيين حرفة (الصناعة - الرعي) منذ القدم .
- ٤- يعرف الموسم الذي يلي الخريف في محافظة ظفار بموسم (القيظ - الصرب)

السؤال الخامس : " مارس العمانيون منذ القدم عدة أنشطة مختلفة " اكتب اهم ثلاث أنشطة مارسوها ؟

--	--	--

السؤال السادس : من خلال الصورة التالية ضع دائرة على الإجابة الصحيحة من بين القوسين :

في المزرعة سعد (الاب - الجد) الى النخلة وبداء بعملية (القطف - الجداد) وذلك بقطع العذوق التي تحمل (الغصون - الثمار) بينما اخذ محمد ونورة يجمعان ما يتساقط من الثمار في سلة من (السعف - البلاستيك) .

السؤال السابع : ضع تحت الصورة الرقم الدال عليها من معنى :

١	الجداد	٤	التيسيل	٣	الفرز	٢	جمع التمور	٥	تجفيف التمور
---	--------	---	---------	---	-------	---	------------	---	--------------



السؤال الثامن : اكتب تحت الصورة ما تمثله من العادات العمانية القديمة :**السؤال التاسع : اجب عن الأسئلة التالية :**

س ١ : في ماذا يستخدم السردين ؟

ج ١ :

.....

س ٢ : هل للأسر دور في تجهيز السردين ؟ كيف ذلك ؟

ج ٢ :

.....