

تم تحميل هذا الملف من موقع المناهج العمانية



اختبار قصير ثاني في الوحدة الثانية مع نموذج الإجابة

موقع فايلاتي ← المناهج العمانية ← الصف الرابع ← علوم ← الفصل الأول ← اختبارات ← الملف

تاريخ إضافة الملف على موقع المناهج: 11:16:45 2024-12-18

ملفات اكتب للمعلم اكتب للطالب | اختبارات الكترونية | اختبارات | حلول | عروض بوربوينت | أوراق عمل
منهج انجليزي | ملخصات وتقارير | مذكرات وبنوك | الامتحان النهائي للمدرس

المزيد من مادة
علوم:

التواصل الاجتماعي بحسب الصف الرابع



صفحة المناهج
العمانية على
فيسبوك

الرياضيات

اللغة الانجليزية

اللغة العربية

التربية الاسلامية

المواد على تلغرام

المزيد من الملفات بحسب الصف الرابع والمادة علوم في الفصل الأول

اختبار قصير ثاني في الوحدة الثانية

1

ملخص ثاني للوحدة الثانية

2

اختبار قصير ثاني في وحدة المواد الصلبة والسائلة والغازية مع نموذج الإجابة

3

ملخص شرح درس الهيكل العظمي للإنسان

4

ملخص الوحدة الأولى الإنسان والحيوان

5

المعرفة والفهم	٨
الاستقصاء العلمي	٣
الدرجة النهائية	١٠

سلطنة عمان
وزارة التربية والتعليم
المديرية العامة للتربية والتعليم بمحافظة جنوب الباطنة
مدرسة ودام الغاف للتعليم الأساسي (٨-١)
العام الدراسي ٢٠٢٢/٢٠٢٣م

الاسم : الصف : رابع /

الاختبار الثاني في مادة العلوم للصف الرابع الأساسي

أولاً : المعرفة والفهم (٨ درجات)

١- الموطن المناسب لعيش البطريق : (ظلل الإجابة الصحيحة)



(درجة واحدة)

○ الصحراء ○ البحر ○ الغابة ○ المناطق المتجمدة

٢- قدم البطة المسطحة تساعدها على : (ظلل الإجابة الصحيحة)



(درجة واحدة)

○ الطيران ○ السباحة ○ القفز ○ المشي

٣- ظلل دائرة واحدة فقط مقابل كل عبارة :

العبارة	صحيحة	خاطئة
أ تصبح النفايات مفيدة إذا تم رميها في البحار	○	○
ب طمر النفايات يلوث التربة	○	○
ج يمكن إعادة تدوير المواد النباتية إلى سماد عضوي	○	○

(درجتين)

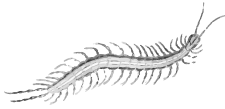
٤- صنف الحيوانات في المفتاح التعريفي التالي :



فراشة



دودة الأرض



أم أربعة وأربعين



نحلة

هل هو حيوان يطير ؟

هل له عدة أرجل ؟

هل له أجنحة مزخرفة ؟


لا

نعم

لا

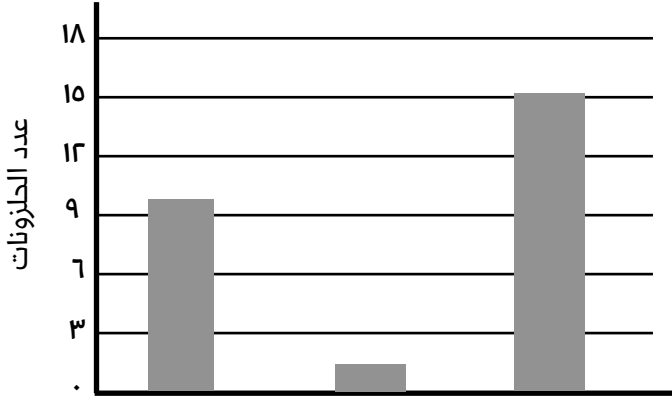
نعم

(درجتين)



٥- تتسائل ريم كيف يستطيع الجمل التكيف في موطن الصحراء . ساعد ريم في الإجابة على سؤالها .

(درجة واحدة)



٦- بحث محمد وأصدقائه عن الحلزونات وأماكن تواجدها ثم سجلوا النتائج في التمثيل البياني التالي :

أ- أين تتواجد الحلزونات بكثرة ؟

تحت الحطب الرطب على الأغصان تحت الأحجار

ب- فسر سبب تواجدها بكثرة في هذا المكان؟

(درجة واحدة)

ثانياً : الاستقصاء العلمي (درجتين)

قرر طلاب الصف الرابع القيام بحملة لتنظيف الشواطئ من النفايات ووضعها في حاويات إعادة التدوير ، وقام بتسجيل عدد النفايات في كل حاوية كما في الجدول التالي :



الحاوية	عدد النفايات
حاوية إعادة تدوير البلاستيك	١٢
حاوية إعادة تدوير الزجاج	٥

٧- مثل بيانياً عدد النفايات التي وضعوها في كل حاوية . (درجة واحدة)

٨- كيف يمكن أن تؤثر النفايات البلاستيكية على الحياة البحرية ؟

(درجة واحدة)

نموذج إجابة الاختبار الأول في مادة العلوم للصف الرابع الأساسي

أولاً : المعرفة والفهم

الدرجة	هدف التقويم	هدف التعلم	الإجابة	رمز السؤال
١	معرفة وفهم	4Be1	المناطق المتجمدة	١
١	معرفة وفهم	4Be1	السباحة	٢
٣	معرفة وفهم	4Be3	<p>أ خاطئة</p> <p>ب صحيحة</p> <p>ج صحيحة</p>	٣
٣	تطبيق	4Be1	لديه سنام لتخزين الماء ، حوافر تساعد على المشي على الرمال ، رموش طويلة تمنع دخول الغبار ، شفاه عليا مشقوفة ليأكل النباتات الشوكية	٤
١	تطبيق	4Be2	يكتب بالترتيب من اليمين فراشة ، نحلة ، أم أربعة وأربعين ، دودة الأرض	٥
	استدلال	4Be1	أ. تحت الحطب الرطب ب. بسبب البرودة والرطوبة	

ثانياً : الاستقصاء العلمي

الدرجة	هدف التقويم	هدف التعلم	الإجابة	رمز السؤال
١	تطبيق	4Ec1	يمثل بيانيا برسم الأعمدة بشكل صحيح للعدد النفايات لكل حاوية	٧
١	استدلال	4Ec3	البلاستيك من المواد التي لا تتحلل ، تلوث البحر ، تسبب بموت الكائنات الحية عند تناولها ، تعيق بعض الحيوانات عن الحركة مما يسبب موتها	٨