

شكراً لتحميلك هذا الملف من موقع المناهج العمانية



اختبار قصير ثالث

موقع المناهج ← المناهج العمانية ← الصف الرابع ← رياضيات ← الفصل الثاني ← الملف

تاريخ نشر الملف على موقع المناهج: 11:02:33 2024-03-30

التواصل الاجتماعي بحسب الصف الرابع



روابط مواد الصف الرابع على تلغرام

[الرياضيات](#)

[اللغة الانجليزية](#)

[اللغة العربية](#)






[التربية الاسلامية](#)

المزيد من الملفات بحسب الصف الرابع والمادة رياضيات في الفصل الثاني

اختبار قصير ثالث	1
اختبار قصير ثاني مع نموذج الإجابة	2
أسئلة وتدريبات التقييم التكويني	3
كراسة أنشطة المادة	4
مذكرة علاجية لحفظ جدول الضرب	5

الاختبار القصير الثالث في مادة الرياضيات للصف الرابع

الاسم: الصف:

الدرجة	اولا: أسئلة المعرفة والفهم	م
١	اختر الاجابة الصحيحة من بين البدائل المعطاه: الكسر المكافئ للكسر $\frac{1}{3}$: أ) $\frac{2}{10}$ ب) $\frac{3}{4}$ ج) $\frac{3}{6}$ د) $\frac{1}{5}$	١
١	العدد الكسري الذي تمثله الأشكال الآتية:  أ) $1\frac{1}{4}$ ب) $2\frac{3}{4}$ ج) $4\frac{3}{4}$ د) $2\frac{1}{4}$	٢
١	تملك فاطمة ٣٥ قطعة حلوى، أعطت صديقتها $\frac{1}{5}$ عدد الحلوى، فكم عدد قطع الحلوى التي أعطتها لصديقتها: أ) ٣ ب) ٧ ج) ٦ د) ٨	٣
١	أي الأشكال الآتية ظلل ثلثه: أ)  ب)  ج)  د) 	٤

٥	<p>أكمل المتباينة الآتية بوضع الإشارة المناسبة لتكون متباينة صحيحة ($=$ ، $>$ ، $<$):</p> <p>(أ) $\frac{3}{4}$ <input type="text"/> $\frac{2}{6}$</p> <p>(ب) $\frac{1}{2}$ <input type="text"/> $\frac{4}{6}$</p>
٦	<p>أكل علي $\frac{1}{2}$ بطيخة وأكل أحمد نفس الكمية من البطيخة المقسمة إلى أسداس، كم قطعة أكل أحمد؟.....</p> <p>فسر إجابتك.....</p>
٧	<p>يملك سعيد ال $\frac{1}{4}$ من ٢٠ ريالاً ويملك خالد ال $\frac{1}{6}$ من ٣٠ ريالاً، أيهم يملك المبلغ الأكبر:</p> <p>(أ) سعيد (ب) خالد</p> <p>فسر إجابتك.....</p>
٨	<p>سمحت الأم لابنها ناصر بمشاهدة التلفاز لمدة $\frac{1}{3}$ من الساعة فقط لكنه استغرق ٢٥ دقيقة في مشاهدة التلفاز.</p> <p>هل المدة التي استغرقها ناصر صحيحة؟</p> <p>(أ) نعم (ب) لا</p> <p>فسر إجابتك.....</p>
٩	<p>رتب محمد الأعداد الكسرية الآتية على خط الأعداد، لكنه أخطأ، اكتشف الخطأ ثم صححه:</p>

انتهت الأسئلة، كل التوفيق يا عباقرة،،،