

شكراً لتحميلك هذا الملف من موقع المناهج العمانية



سؤال قصير أول مع نموذج الإجابة

[موقع المناهج](#) ← [المناهج العمانية](#) ← [الصف الرابع](#) ← [علوم](#) ← [الفصل الأول](#) ← [الملف](#)

تاريخ نشر الملف على موقع المناهج: 20-10-2023 07:44:12

التواصل الاجتماعي بحسب الصف الرابع



روابط مواد الصف الرابع على تلغرام

[الرياضيات](#)

[اللغة الانجليزية](#)

[اللغة العربية](#)

[التربية الاسلامية](#)

المزيد من الملفات بحسب الصف الرابع والمادة علوم في الفصل الأول

[سؤال قصير وواحد منزلي مع نموذج الإجابة](#)

1

[امتحان قصير أول](#)

2

[حل أسئلة كتابي التلميذ والنشاط](#)

3

[مراجعة الوحدة الثانية الكائنات الحية والبيئات](#)

4

[ملخص الدرسين الحيوانات اللاقارية والماء الرائع](#)

5

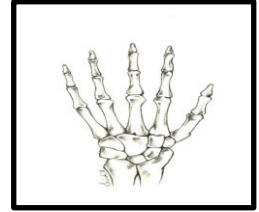
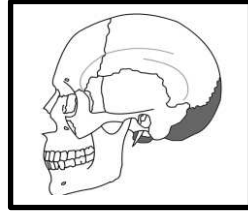
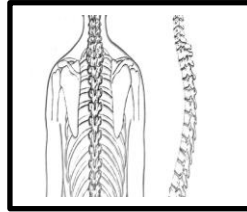
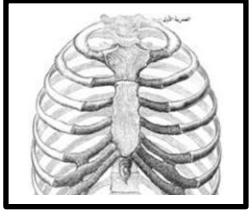
سؤال قصير (١) معرفة وفهم في مادة العلوم للصف الرابع:

		الاسم:	
		الصف:	

(١) ظلل الشكل أمام الإجابة الصحيحة:

(أ) خلق الله العظام في الهيكل العظمي لحماية أعضاء الجسم

- الجزء الذي يحمي الدماغ:



[١]

(ب) يستخدم لمعالجة مرضى الربو جهاز:

التنفسي الضغط الاستنشاق التقطير

[١]

(٢) يقول محمد أن الأرنب من الحيوانات التي تمتلك عضلات.

- هل توافقه الرأي؟

لا نعم

- فسر إجابتك:

[١]


٣) صل بين العبارة في العمود الأول، و طريقة تناول الدواء في العمود الثاني:

طريقة تناول الدواء
سائل مقطر
الشراب
القطور
المرهم

العبارة
أ- يستخدم في التخفيف من آلام الأذن.
ب- يستخدم لعلاج الحروق والحساسية في الجلد.
ج- يعطى لعلاج السعال لدى الأطفال.
د- أداة تسرع من وصول الدواء إلى الدم عند الأشخاص شديدي المرض.

[٢]

٤) يعمل قاسم في عمل إنشاءات معمارية ووظيفته حمل مواد البناء المختلفة.



أ) ماذا يحدث لعضلة ذراع قاسم التثائية الرؤوس عند رفعة للطوب؟..... [١]

ب) متى ترتخي العضلة تثائية الرؤوس في ذراع قاسم؟..... [١]

نموذج التصحيح للسؤال القصير (١) معرفة وفهم

ملاحظات	هدف التقويم	الهدف المنتهي	إرشادات إضافية	الإجابة	الدرجة	رقم السؤال
-	معرفة	٢ Bh٤ : يميز أن الهيكل العظمي ينمو مع نمو الإنسان وأنه يدعم ويحمي الجسم.	- إذا اختار صورة الجمجمة له درجة. -إذا وضع أي إشارة على الشكل البيضاوي بجانب الإجابة الصحيحة له درجة. -إذا اختار غيرها صفر.	صورة الجمجمة	١	أ-١
-	معرفة	٩ Bh٤ : يميز طرق استهلاك الأدوية.	- إذا اختار الاستنشاق له درجة. -إذا وضع أي إشارة على الشكل البيضاوي بجانب الإجابة الصحيحة له درجة. -إذا اختار غيرها صفر.	الاستنشاق	١	ب-١
-	تطبيق	٣- Bh٤ : يستنتج أن الحيوانات ذات الهيكل العظمي تمتلك عضلات مرتبطة بالعظام.	-إذا كتب نعم مع التفسير بشكل صحيح له درجة. -إذا أجاب واحدة صحيحة له صفر.	- نعم - لأن الأرنب حيوان فقاري به عضلات متصلة بالعظام	١	٢
-	تطبيق	٨ Bh٤ : يستنتج أن الأدوية تحمي وتشفي وتخفف من أعراض المرض.	أ-إذا وصل الأربعة إجابات صحيحة له درجتان. - إذا أجاب ٣ إجابات صحيحة له درجة. - إذا أجاب ٢ إجابات صحيحة له درجة. -إذا أجاب ١ إجابات صحيحة له صفر.	أ-القطور ب-المرهم ج-الشراب د-سائل مقطر	١	٣
-	استدلال	٤ a Bh٤ : يستنتج أن انقباض العضلة يؤدي إلى حركة العظام.	أ-إذا كتب الإجابة صحيحة له درجة. - غير ذلك له صفر. ب- إذا كتب الإجابة صحيحة له درجة.	أ-تنقبض ب- عند إنزاله للطوب	١	٤