

شكراً لتحميلك هذا الملف من موقع المناهج العمانية



اختبار قصير ثاني بمحافظة شمال الشرقية

[موقع المناهج](#) ⇨ [المناهج العمانية](#) ⇨ [الصف الرابع](#) ⇨ [رياضيات](#) ⇨ [الفصل الثاني](#) ⇨ [الملف](#)

تاريخ نشر الملف على موقع المناهج: 20-04-2024 06:14:23

[إعداد: مدرسة الرؤيا للتعليم الأساسي](#)

التواصل الاجتماعي بحسب الصف الرابع



[اضغط هنا للحصول على جميع روابط "الصف الرابع"](#)

روابط مواد الصف الرابع على تلغرام

[الرياضيات](#)

[اللغة الانجليزية](#)

[اللغة العربية](#)

[التربية الاسلامية](#)

المزيد من الملفات بحسب الصف الرابع والمادة رياضيات في الفصل الثاني

[اختبار قصير ثالث](#)

1

[اختبار قصير ثاني مع نموذج الإجابة](#)

2

[اختبار قصير ثالث](#)

3

[اختبار قصير ثالث](#)

4

المزيد من الملفات بحسب الصف الرابع والمادة رياضيات في الفصل الثاني

[اختبار قصير ثاني مع نموذج الإجابة](#)

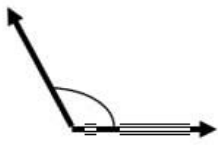
5

اختبار قصير ٢ للصف الرابع مادة الرياضيات

الاسم/

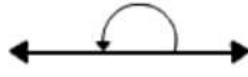
| | | |
|---|---|----|
| | | |
| ٣ | ٧ | ١٠ |

١) لديك أربعة زوايا (أ) ، (ب) ، (ج) ، (د) رتب الزوايا بحسب قياسها بدءا من الزاوية (درجتان) الصغرى الى كبرى



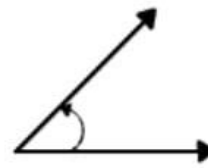
(د)

.....



(ج)

.....



(ب)

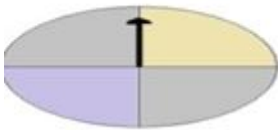
.....



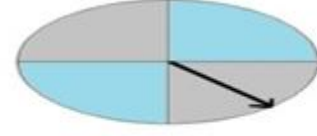
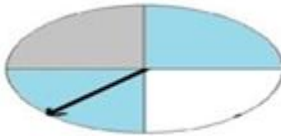
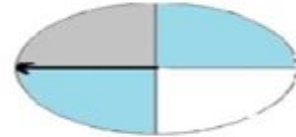
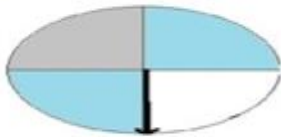
(أ)

.....

(ب) حوط على الزاوية القائمة



٢- ظلل الدائرة على يمين الإجابة الصحيحة: (درجة)
دار السهم الآتي ١٣٥ باتجاه عقارب الساعة الموقع الجديد للسهم هو؟



| | | | | | |
|---|---|---|---|---|---|
| | | | | | |
| ٦ | | | | | |
| ٥ | | | | | |
| ٤ | | | | | |
| ٣ | | | | | |
| ٢ | | | | | |
| ١ | | | | | |
| | ٢ | ٣ | ٤ | ٥ | ٦ |


٣- في شبكة المربعات ٦ x ٦ التالية:

ظلل المربعات الآتية على الشبكة

(٥ ، ٥) ، (٤ ، ٤) ، (٤ ، ٣) ، (٣ ، ٢)

(درجتان)

(درجة)



٤- كم عدد خطوط التماثل لهذا الشكل؟

(درجة)

٥- ملعب المنزل مربع الشكل , ويبلغ طول الملعب ١٠ متر, تمشي مريم حول حافة الملعب كلها مرة يوميا. تقول مريم ان المسافه التي تقطعها كل يوم ١٠٠ متر مربع . هل توافق مريم ؟ نعم لا .
فسر رأيك؟

(درجتان)

٦ (اكمل مخطط كارول من خلال وضع العدد في مكانه المناسب ١٣ ، ١٨ ، ٢٥ ، ٣٥ ، ٤٢)

| | | |
|----------------|------------|----------|
| ليس اصغر من ٢٠ | اصغر من ٢٠ | |
| | | فردى |
| | | ليس فردى |

٥

٧- عندما غادر مروان المدرسة كانت درجة الحرارة ناقص ٣ درجات



في فترة الاستراحة كانت درجة الحرارة ٥ درجات

كم درجة ارتفعت الحرارة؟

(أ) درجتان

(ب) ٣ درجات

(ج) ٥ درجات

(د) ٨ درجات

(درجة)