

تم تحميل هذا الملف من موقع المناهج العُمانية



\*للحصول على أوراق عمل لجميع الصفوف وجميع المواد اضغط هنا

<https://almanahj.com/om>

\* للحصول على أوراق عمل لجميع مواد الصف الرابع اضغط هنا

<https://almanahj.com/om/4>

\* للحصول على جميع أوراق الصف الرابع في مادة علوم ولجميع الفصول, اضغط هنا

<https://almanahj.com/om/4science>

\* للحصول على أوراق عمل لجميع مواد الصف الرابع في مادة علوم الخاصة بـ الفصل الأول اضغط هنا

<https://almanahj.com/om/4science1>

\* لتحميل كتب جميع المواد في جميع الفصول للـ الصف الرابع اضغط هنا

<https://almanahj.com/om/grade4>

للتحدث إلى بوت على تلغرام: اضغط هنا

[https://t.me/omcourse\\_bot](https://t.me/omcourse_bot)

اسمك الجميل : .....

صفك النظيف: .....

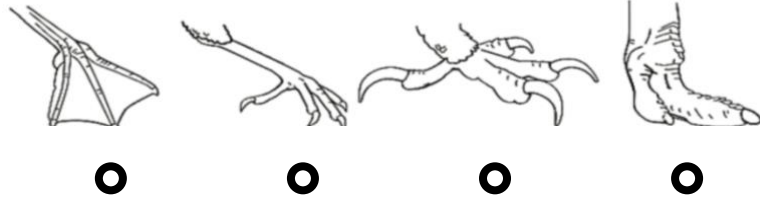
اختبار قصير في مادة العلوم للصف الرابع للعام الدراسي 2018 / 2019

1

(معرفة)

1- ظلل الاجابة الصحيحة

أ- أي شكل من هذه الأقدام لطائر يعيش في المناطق الاستوائية :



1

(تطبيق)

2- ضع علامة ( √ ) أمام كل عبارة من العبارات في الجدول التالي :

| خطأ | صح | العبارة   |
|-----|----|---|
|     |    | تستطيع النسور اصطياد وحمل الغنم الصغير باستخدام مخالبه الحادة |
|     |    | البجعه تستطيع الطيران على ارتفاع 170 كم /ساعة                 |

1

(معرفة)

3 - اجب بكلمة واحدة :

- يتغذى الحلزون على .....

- عندما تتعرض البيئة للجفاف يلجأ الحلزون إلى .....

2

(تطبيق)



4- بين الحيوان وبيئته :

حيوان يعيش في البركة

حيوان يعيش في الصحراء

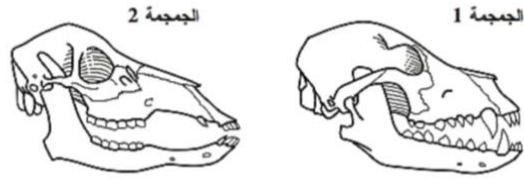
حيوان يعيش في الغابة

حيوان يعيش في المرزعة

- 5

|   |
|---|
|   |
| 2 |

(استقصاء علمي)



- تظهر صورتان أعلاه جمجمتين لحيوانين :

أحدهما تتغذى على النبات فقط... بينما الآخر لم يأكل سوى فصائل أخرى من الحيوانات عرف أي جمجمة تابعه لكل من الحيوانين

أ- الحيوان الذي يتغذى على النبات لديه الجمجمة .....  
ب- الحيوان الذي أكل فصائل أخرى من الحيوانات لديه الجمجمة .....

فسر إجابتك معتمداً على معلوماتك حول الأسنان ؟

.....  
.....

|   |
|---|
|   |
| 1 |

(استقصاء علمي)

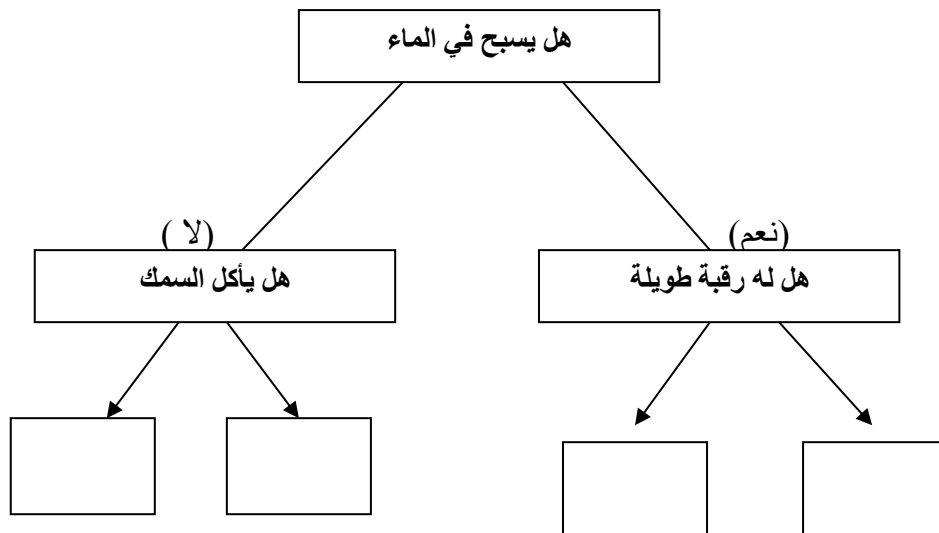
6 - اذكر ما يحدث للنباتات والأسماك في النهر عند قيام المصانع بإلقاء كميات هائلة من الماء الساخن في النهر؟

.....

|   |
|---|
|   |
| 2 |

(تطبيق)

7 - اكمل المخطط



| رقم السؤال | الدرجة | الأجابة   | ارشادات اضافية  | عنصر التقييم | المخرج التعليمي   |  |   |   |   |  |  |  |       |   |
|------------|--------|---|---|--------------|---|--|---|---|---|--|--|--|-------|---|
| 1          | 1      |    |   | معرفة        | يتعرف على طرق تكيف الكائن الحي مع بيئته                                   |  |   |   |   |  |  |  |       |   |
| 2          | 1      | <table border="1"> <thead> <tr> <th>خطأ</th> <th>صح</th> <th>العبارة</th> </tr> </thead> <tbody> <tr> <td></td> <td>√</td> <td>تستطيع النسور اصطياد وحمل الغنم الصغير باستخدام مخالبه الحادة</td> </tr> <tr> <td>√</td> <td></td> <td>البجعه تستطيع الطيران على ارتفاع 170 كم ساعة</td> </tr> </tbody> </table> | خطأ   | صح           | العبارة   |  | √ | تستطيع النسور اصطياد وحمل الغنم الصغير باستخدام مخالبه الحادة | √ |  | البجعه تستطيع الطيران على ارتفاع 170 كم ساعة | <p>- درجة واحدة في حالة الاجابة عن العبارتين بشكل صحيح</p> <p>- صفر في حالة اجابة واحده صحيحة او اجابتين خطأ</p> | تطبيق | يتحرى حول انواع الحيوانات في الموطن وطرق ملاءمتها في البيئة الموجودة فيها |
| خطأ        | صح     | العبارة   |   |              |   |  |   |   |   |  |  |  |       |   |
|            | √      | تستطيع النسور اصطياد وحمل الغنم الصغير باستخدام مخالبه الحادة   |   |              |   |  |   |   |   |  |  |  |       |   |
| √          |        | البجعه تستطيع الطيران على ارتفاع 170 كم ساعة  |   |              |   |  |   |   |   |  |  |  |       |   |
| 3          | 1      | أ- النباتات<br>ب- القوقعه   | <p>- درجة واحدة في حالة الاجابة عن العبارتين بشكل صحيح</p> <p>- صفر في حالة اجابة واحده صحيحة او اجابتين خطأ</p>                                  | معرفة        | يتحرى حول انواع الحيوانات المتنوعة في مواطن مختلفة وطرق تلاءمها           |  |   |   |   |  |  |  |       |   |
| 4          | 2      |   | <p>- درجتين في حالة الاجابة بشكل صحيح</p> <p>- درجة واحد في حالة توصيل مفردتين او ثلاثة</p> <p>- صفر في حالة اجابة واحده صحيحة او اجابتين خطأ</p> | تطبيق        | يتحرى حول انواع الحيوانات في الموطن وطرق ملاءمتها في البيئة الموجودة فيها |  |   |   |   |  |  |  |       |   |
| 5          | 2      | أ- 2<br>ب- 1<br>الجمجمة رقم 1 يملك اسنان ذات انياب حادة تساعد على تمزيق واكل فريسته   | تقبل الاجابة ذات صلة  | استقصاء علمي | يميز نمطا مبسطا في النتائج ويقدم شرحا لها                                 |  |   |   |   |  |  |  |       |   |
| 6          | 1      | تموت النباتات والاسماك بسبب التلوث  |   | استقصاء علمي | يوضح خصائص البيئة والتغيرات التي تحدث فيها                                |  |   |   |   |  |  |  |       |   |

|                                |       |  |   |   |
|--------------------------------|-------|--|---|---|
| يستخدم مفتاحاً تعريفياً مبسطاً | تطبيق | - درجتين<br>في حالة الاجابة بشكل صحيح<br>- درجة واحد في حالة توصيل<br>مفردتين او ثلاثة<br>- صفر في حالة اجابة واحده<br>صحيحة او الكل خطأ | 2 | 7 |
|--------------------------------|-------|--|---|---|

نموذج الأجابة