

شكراً لتحميلك هذا الملف من موقع المناهج العمانية



## اختبار قصير أول

موقع المناهج ← المناهج العمانية ← الصف الرابع ← اجتماعيات ← الفصل الأول ← الملف

## التواصل الاجتماعي بحسب الصف الرابع



## روابط مواد الصف الرابع على تلغرام

[الرياضيات](#)

[اللغة الانجليزية](#)

[اللغة العربية](#)

[التربية الاسلامية](#)

## المزيد من الملفات بحسب الصف الرابع والمادة اجتماعيات في الفصل الأول

<a href="#">اختبار أول</a>	1
<a href="#">أسئلة درس موقع وطني الجغرافي</a>	2
<a href="#">سؤال قصير أول</a>	3
<a href="#">اختبار قصير أول</a>	4
<a href="#">ملخص دروس المادة</a>	5

درجة الطالب:  
الدرجة الكلية: 15

مدرسة الأجيال للتعليم الأساسي (1-4)

الاختبار القصير الأول

المادة: دراسات اجتماعية

الاسم .....

الصف .....

أولاً : التذكر والفهم والتطبيق (8 درجات)

س1- (مستوى التذكر) أكمل العبارات الآتية (أربع درجات)

أ - من عناصر الخريطة مقياس الرسم و..... و.....

ب - تجاور سلطنة عُمان ثلاث دول هي السعودية و..... و.....

س2 (مستوى الفهم) اختر الإجابة الصحيحة من بين البدائل (درجتان)

أ- معلم أثري تاريخي كان يسكن بها الجنود قديمًا هي :-

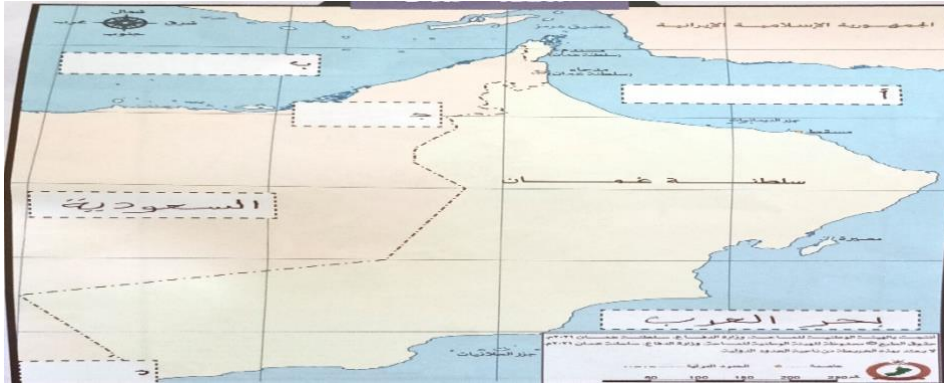
1- القلعة 2- الحصن 3- المسجد

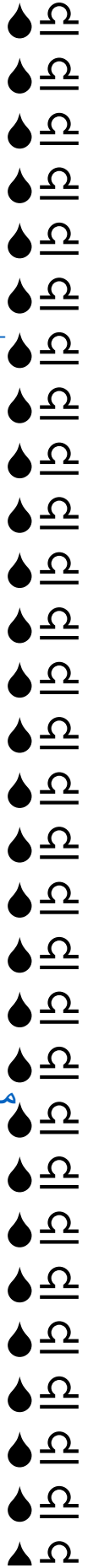
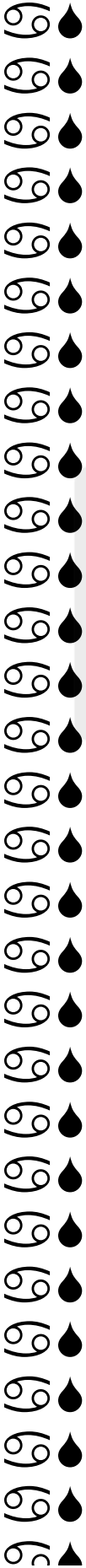

ب - بيوت أثرية متراسة على سفوح الجبال وضاف الوديان تتميز

بالنوافذ والأبواب الزخرفة يسكنها عامة الشعب هي :-

1- الشارع 2- الحارة 3- النهر

س3- (مستوى التطبيق) انظر إلى الخريطة التي أمامك وأكمل (درجتان)





- أ- بحر.....
- ب -الخليج.....
- ج- دولة.....
- د- دولة.....

ثانياً المستويات العليا: (سبع درجات)

س1- مستوى التحليل (درجتان)

قارن بين استخدامات المسجد قديماً وحديثاً؟

موقع المناهج العمانية

..... قديماً

..... حديثاً

س2 – مستوى التركيب (درجتان)

من خلال دراستك للحصن أجب عمّا يلي :-

أ – مما يتكون الحصن؟

.....

ب – مَنْ كان يسكن بالحصن؟

.....

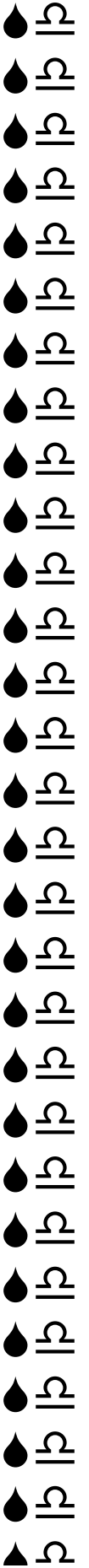
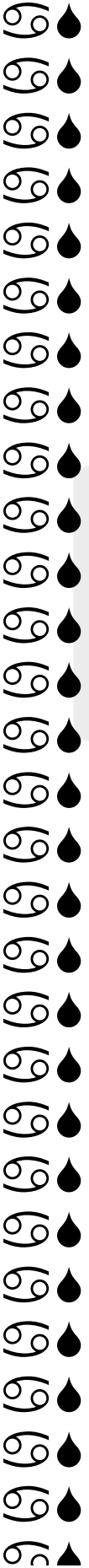

س3 – مستوى التقويم (ثلاث درجات)

من وجهة نظرك ، هل كان للقلاع والحصون دوراً قديماً وضح ذلك؟

.....

.....

انتهت الأسئلة مع تمنياتي بالنجاح والتفوق



تم تحميل هذا الملف من  
موقع المناهج العُمانية

[alManahj.com/om](http://alManahj.com/om)