

تم تحميل هذا الملف من موقع المناهج العمانية



الملف ملخص أسئلة وأجوبة لدرس موقع الوطن العربي من الوحدة الأولى

[موقع المناهج](#) ← [المناهج العمانية](#) ← [الصف الخامس](#) ← [اجتماعيات](#) ← [الفصل الأول](#)

روابط مواقع التواصل الاجتماعي بحسب الصف الخامس



روابط مواد الصف الخامس على تلغرام

[الرياضيات](#)

[اللغة الانجليزية](#)

[اللغة العربية](#)

[التربية الاسلامية](#)

المزيد من الملفات بحسب الصف الخامس والمادة اجتماعيات في الفصل الأول

امتحان وإجابة الأسئلة الرسمية للفصل الدراسي الأول الدور الأول 2017/2016	1
امتحان وإجابة الأسئلة التدريبية في محافظة شمال الباطنة للفصل الدراسي الأول الدور الأول 2017/2016	2
امتحان وإجابة الأسئلة الرسمية في محافظة الظاهرة للفصل الدراسي الأول الدور الثاني 2015/2016	3
امتحان وإجابة الأسئلة الرسمية في محافظة جنوب الشرقية للفصل الدراسي الأول الدور الثاني 2015/2016	4
امتحان وإجابة الأسئلة الرسمية في محافظة شمال الباطنة للفصل الدراسي الأول الدور الأول 2015/2016	5

الصف الخامس

الدراسات الاجتماعية

2021-2022

الفصل الدراسي الأول

الوحدة الأولى

درس

(موقع الوطن العربي)

إعداد :

علي بن محمد الحسان

للتواصل :

99493923

Ali 47536@moe.om

درس : موقع للوطن العربي (أسئلة واجوبة)

السؤال الأول : ضع علامة (√) أو (X) أمام العبارة المناسبة مع تصحيح ما تحته خط إذا كانت العبارة خطأ .

- ١- (X) دوائر العرض وخطوط الطول هي خطوط حقيقية على الكرة الأرضية . " وهمية "
- ٢- (X) تقع سلطنة عمان من الوطن العربي في أقصى الشمال . الشرق
- ٣- (X) تشرف سلطنة عمان على مدخل الخليج العربي عبر مضيق باب المندب . " هرمز "
- ٤- (√) يمر بسلطنة عمان مدار السرطان .

السؤال الثاني : ضل الإجابة الصحيحة من بين البدائل المعطاه .

- ١- تقدر مساحة الوطن العربي حوالي ... مليون كم ٢
- ١٣,٥ ● ١٤,٥ ○ ١٥,٥ ○
- ٢- يضم الوطن العربي دولة عربية .
- ٢٠ ○ ٢١ ○ ٢٢ ●
- ٣- دوائر العرض هي دوائر مكتملة يبلغ عددها
- ١٨٠ ● ١٦٠ ○ ١٤٠ ○
- ٤- خطوط الطول عبارة عن أنصاف دوائر يبلغ عددها
- ٣٨٠ ○ ٣٦٠ ● ٣٤٠ ○
- ٥- درجة دائرة الاستواء وخط غرينتش هو
- صفر ● ١٠ ○ ٢٠ ○

السؤال الثالث : أكمل الجدول التالي بعمل مقارنه بين خطوط الطول ودوائر العرض في المجالات التالية :

مجال المقارنة	خطوط الطول	دوائر العرض
شكلها	انصاف دوائر	دوائر مكتملة
عددها	٣٦٠	١٨٠
الدائرة الرئيسية	خط غرينتش	دائرة الاستواء
الدرجة	صفر	صفر
الاتجاه	شرقي وغربي	شمالي وجنوبي
فائدته	تحديد الوقت	معرفة المناخ

السؤال الرابع : أكمل ما يلي بعبارات مناسبة من عندك .

- ١- يعيش العرب على مساحة واسعة من الأرض تعرف بـ الوطن العربي .
- ٢- من الخصائص والسمات المشتركة بين أبناء الوطن العربي الدين الإسلامي واللغة العربية والتاريخ المشترك .
- ٣- المحيطان اللذان يطل عليهما الوطن العربي هما المحيط الأطلسي و المحيط الهندي .
- ٤- البحار التي يطل عليها الوطن العربي بحر عمان و بحر العرب و البحر الأحمر و البحر المتوسط و الخليج العربي .
- ٥- المضائق التي يشرف عليها الوطن العربي مضيق هرمز و مضيق باب المندب و مضيق جبل طارق و من الممرات المائية قناة السويس .

السؤال الخامس : أكمل الجدول التالي بأهمية موقع الوطن العربي في المجالات التالية :

جغرافيا	اقتصاديا	حضاريا
يعتبر الوطن العربي حلقة وصل بين قارات آسيا واوربا وإفريقيا	ساعد موقع الوطن العربي على إقامة العلاقات التجارية مع العالم	سهل موقع الوطن العربي التواصل بين حضارات الوطن العربي والحضارات الأخرى في العالم

السؤال السادس : " يعتبر الوطن العربي حلقة وصل بين ثلاث قارات " اكتبها في الشكل التالي

أفريقيا

أوروبا

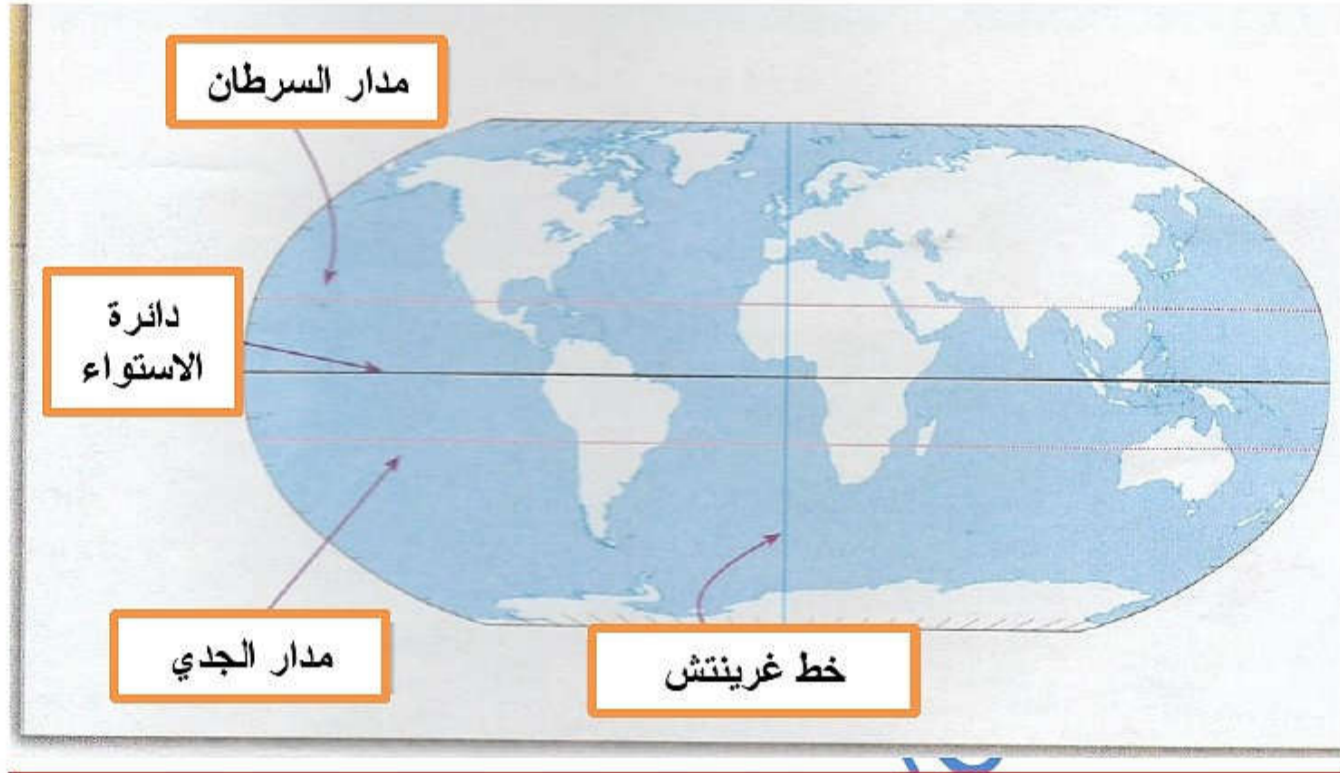
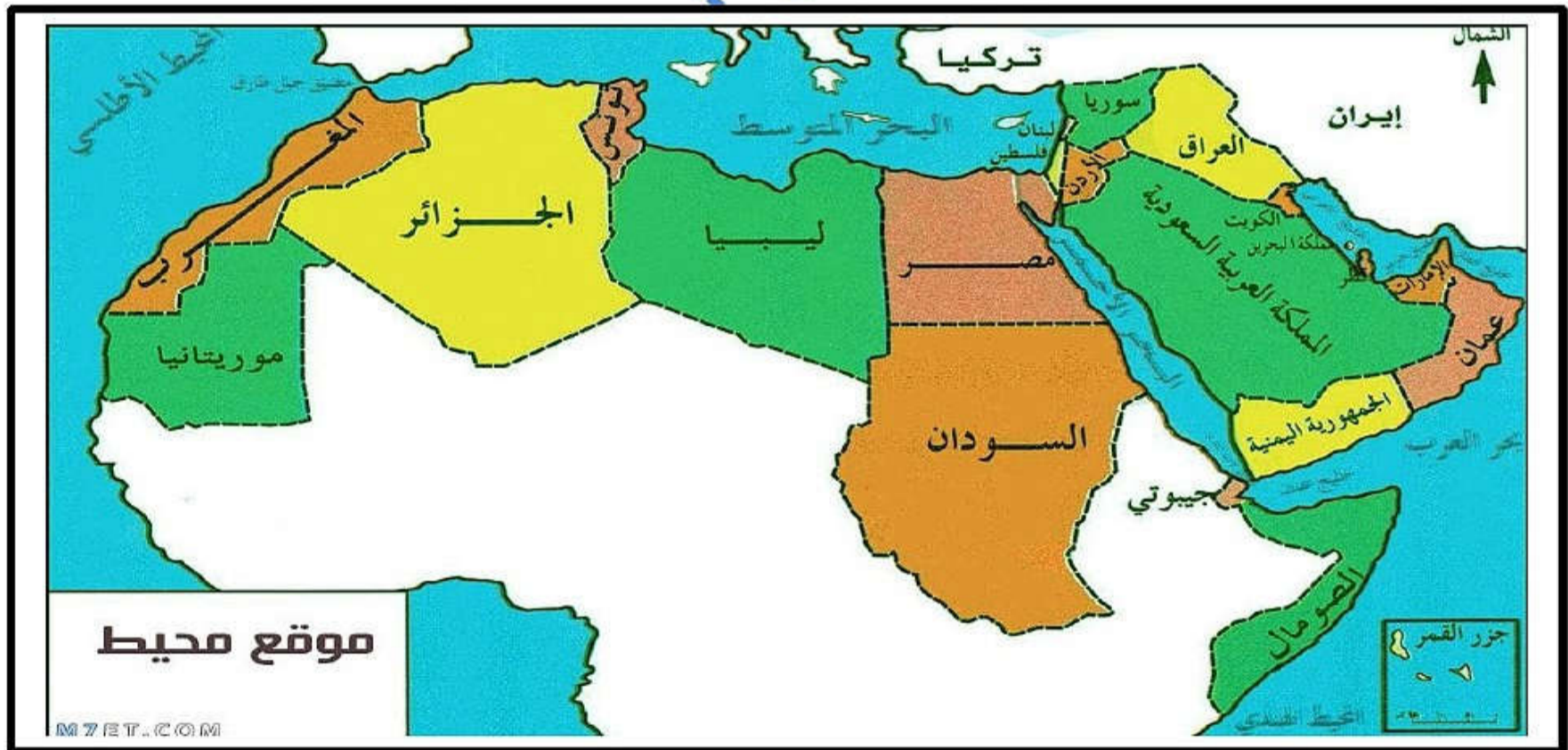
آسيا

السؤال السابع : اجب عن الأسئلة التالية :

- س ١: ماذا يقصد بالموقع الجغرافي ؟
ج ١: يقصد به موقع المكان بالنسبة لليابس والماء .
- س ٢: ماذا يقصد بالموقع الفلكي ؟
ج ٢: يقصد به موقع المكان بالنسبة لخطوط الطول ودوائر العرض .
- س ٤: " تطل سلطنة عمان على ثلاثة مسطحات مائية " ماهي ؟
ج ٤: بحر العرب و بحر عمان و المحيط الهندي

السؤال الثامن : من خلال الخريطة التي أمامك ضع البيانات التالية في أماكنها الصحيحة

(دائرة الإستواء - مدار السرطان - مدار الجدي - خط غرينتش)

**السؤال التاسع : من خلال الخريطة التي أمامك أكمل العبارات التالية :**

- ١ : يقع الوطن العربي في قارتي آسيا وأفريقيا .
- ٢ : عدد الدول العربية في قارة آسيا ١٢ دولة وفي قارة أفريقيا ١٠ دول .
- ٣ : تقع سلطنة عمان وفلسطين في قارة آسيا أما مصر والمغرب فتقع في قارة أفريقيا .
- ٤ : أكبر مساحة للوطن العربي تقع في قارة أفريقيا .

درس : موقع للوطن العربي (أسئلة)**السؤال الأول : ضع علامة (√) أو (X) أمام العبارة المناسبة مع تصحيح ما تحته خط إذا كانت العبارة خطأ .**

- ١- () دوائر العرض وخطوط الطول هي خطوط حقيقية على الكره الأرضية .
- ٢- () تقع سلطنة عمان من الوطن العربي في أقصى الشمال .
- ٣- () تشرف سلطنة عمان على مدخل الخليج العربي عبر مضيق باب المنذب .
- ٤- () يمر بسلطنة عمان مدار السرطان .

السؤال الثاني : ضل الإجابة الصحيحة من بين البدائل المعطاه .

- ١- تقدر مساحة الوطن العربي حوالي ... مليون كم ٢
- ١٣,٥ ○ ١٤,٥ ○ ١٥,٥
- ٢- يضم الوطن العربي دولة عربية .
- ٢٠ ○ ٢١ ○ ٢٢
- ٣- دوائر العرض هي دوائر مكتملة يبلغ عددها
- ١٨٠ ○ ١٦٠ ○ ١٤٠
- ٤- خطوط الطول عبارة عن أنصاف دوائر يبلغ عددها
- ٣٨٠ ○ ٣٦٠ ○ ٣٤٠
- ٥- درجة دائرة الاستواء وخط غرينتش هو
- صفر ○ ١٠ ○ ٢٠

السؤال الثالث : أكمل الجدول التالي بعمل مقارنه بين خطوط الطول ودوائر العرض في المجالات التالية :

دوائر العرض	خطوط الطول	مجال المقارنة
		شكلها
		عددها
		الدائرة الرئيسية
		الدرجة
		الاتجاه
		فائدته

السؤال الرابع : أكمل ما يلي بعبارات مناسبة من عندك .

- ١- يعيش العرب على مساحة واسعة من الأرض تعرف بـ
- ٢- من الخصائص والسمات المشتركة بين أبناء الوطن العربي الدين واللغة والتاريخ
- ٣- المحيطان اللذان يطل عليهما الوطن العربي هما المحيط والمحيط
- ٤- البحار التي يطل عليها الوطن العربي بحر وبحر والبحر والبحر
والخليج
- ٥- المضائق التي يشرف عليها الوطن العربي مضيق ومضيق باب ومضيق جبل
ومن الممرات المائية قناة

السؤال الخامس : أكمل الجدول التالي بأهمية موقع الوطن العربي في المجالات التالية :

جغرافيا	اقتصاديا	حضاريا

السؤال السادس : " يعتبر الوطن العربي حلقة وصل بين ثلاث قارات " اكتبها في الشكل التالي**السؤال السابع : اجب عن الأسئلة التالية :**

س ١ : ماذا يقصد بالموقع الجغرافي ؟

ج ١ :

س ٢ : ماذا يقصد بالموقع الفلكي ؟

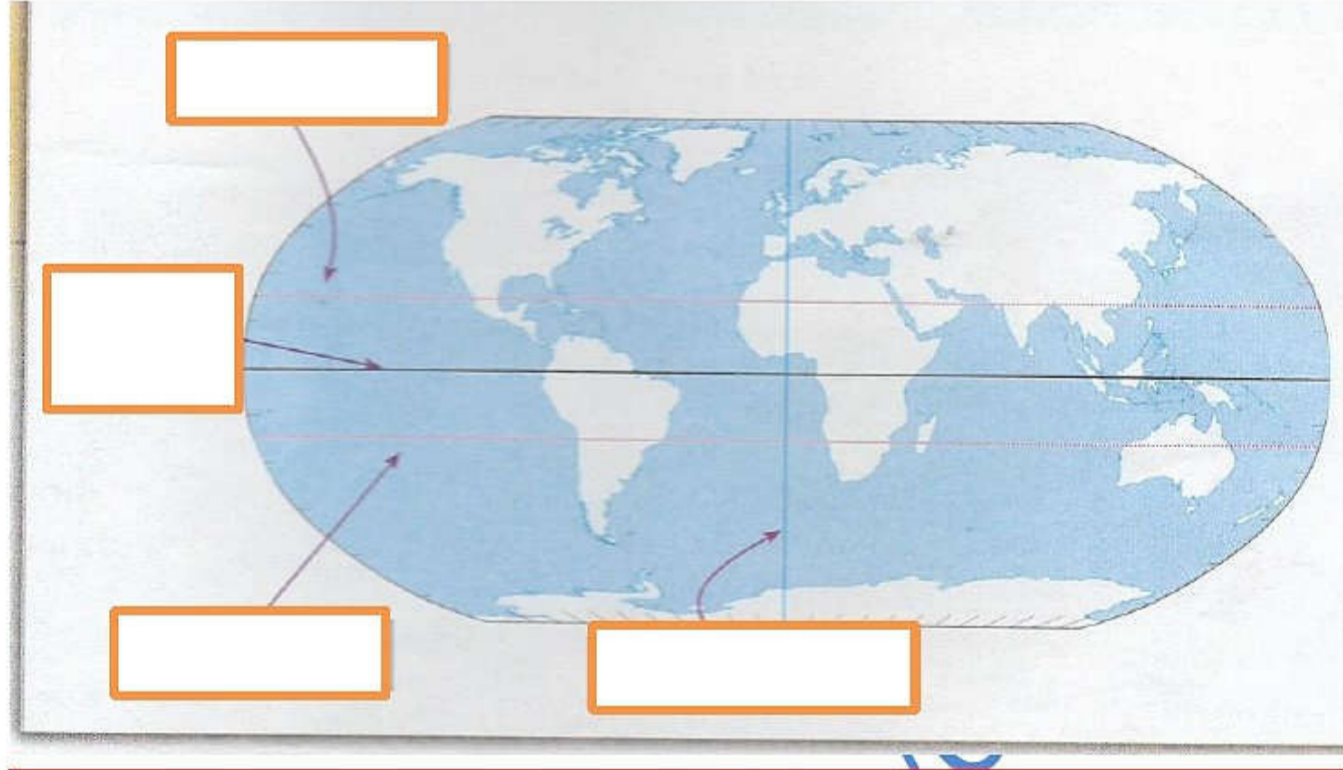
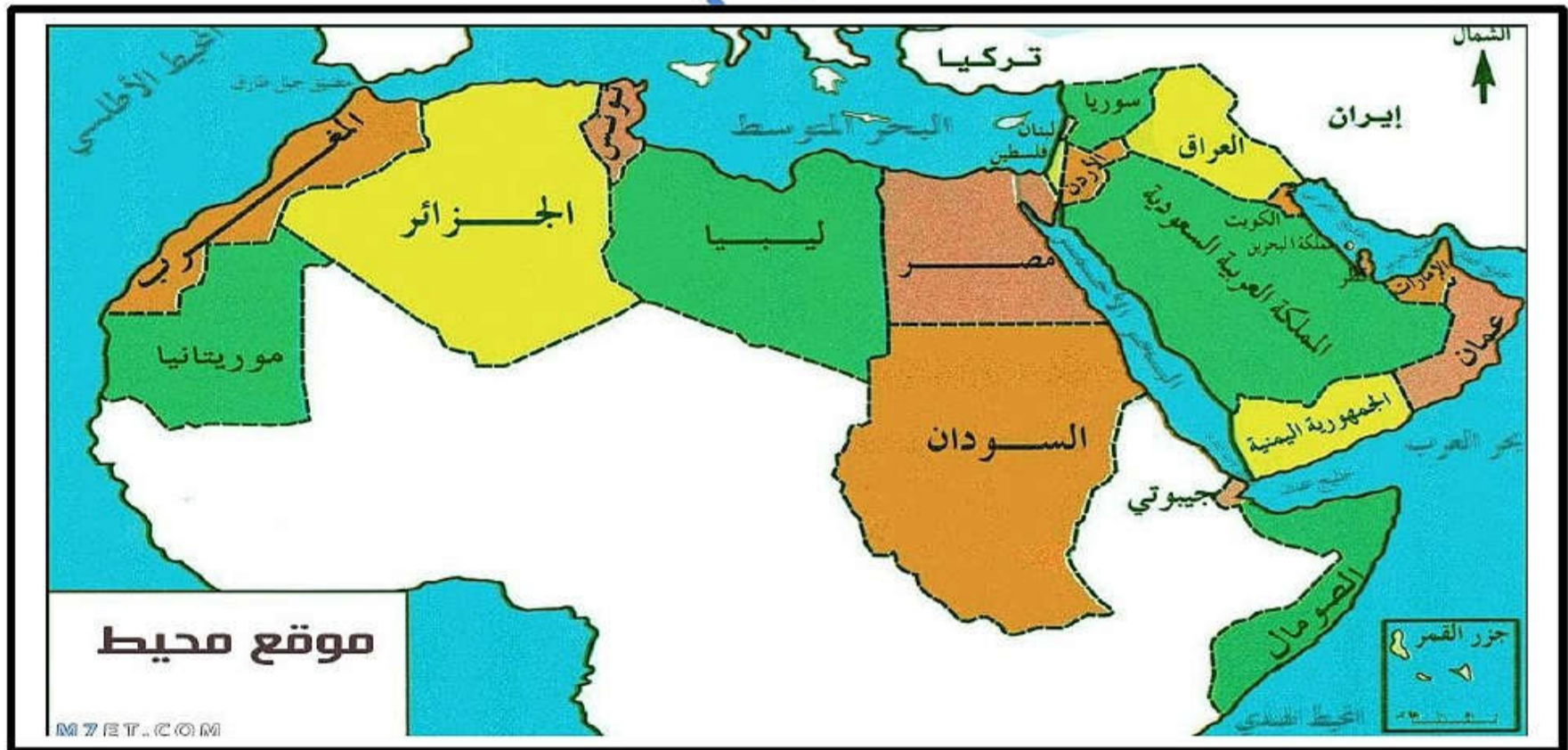
ج ٢ :

س ٤ : " تطل سلطنة عمان على ثلاثة مسطحات مائية " ماهي ؟

ج ٤ :

السؤال الثامن : من خلال الخريطة التي أمامك ضع البيانات التالية في أماكنها الصحيحة

(دائرة الإستواء - مدار السرطان - مدار الجدي - خط غرينتش)

**السؤال التاسع : من خلال الخريطة التي أمامك أكمل العبارات التالية :**

- ١ : يقع الوطن العربي في قارتي و
- ٢ : عدد الدول العربية في قارة آسيا دولة وفي قارة افريقيا دول .
- ٣ : تقع سلطنة عمان وفلسطين في قارة أما مصر والمغرب فتقع في قارة
- ٤ : أكبر مساحة للوطن العربي تقع في قارة