

شكراً لتحميلك هذا الملف من موقع المناهج العمانية



اختبار قصير أول

[موقع المناهج](#) ⇨ [المناهج العمانية](#) ⇨ [الصف الخامس](#) ⇨ [اجتماعيات](#) ⇨ [الفصل الثاني](#) ⇨ [الملف](#)

تاريخ نشر الملف على موقع المناهج: 07:01:28 2024-03-15

التواصل الاجتماعي بحسب الصف الخامس



روابط مواد الصف الخامس على تلغرام

[الرياضيات](#)

[اللغة الانجليزية](#)

[اللغة العربية](#)

[التربية الاسلامية](#)

المزيد من الملفات بحسب الصف الخامس والمادة اجتماعيات في الفصل الثاني

نموذج اختبار قصير أول	1
تحضير درس الموارد الطبيعية	2
مذكرة إثرائية سؤال وجواب في درس أغلفة كوكب الأرض	3
ملخص شامل للمادة	4
الخطة الفصلية للمادة	5



(٥ درجات)

السؤال الأول: اختر الإجابة الصحيحة من بين البدائل المعطاة لك :

١- عدد أغلفة كوكب الأرض:

(أ) ٢ (ب) ٤ (ج) ٦ (د) ٨

٢- مظهر السطح في الصورة المقابلة ناتج عن تفاعل الغلاف الصخري مع الغلاف :

(أ) الجوي (ب) الحيوي (ج) المائي (د) الغازي

٣- العام الميلادي الذي تأسست فيه الجمعية الفلكية العمانية:

(أ) ٢٠٠٤ م (ب) ٢٠٠٦ م (ج) ٢٠٠٨ م (د) ٢٠١٠ م

٤- تبنت مؤسسات المجتمع في سلطنة عمان بإشراف من هيئة البيئة مبادرة زراعة :

(أ) ٤ مليون شجرة (ب) ٦ مليون شجرة (ج) ٨ مليون شجرة (د) ١٠ مليون شجرة

٥- الصورة التي تمثل أحد مكونات الغلاف الحيوي :




(د)



(ج)



(ب)




(أ)

(٦ درجات)

السؤال الثاني : اجب عن الأسئلة الآتية:

١- اكتب أمام كل عبارة المفهوم / المصطلح الذي يعبر عنه فيما يلي :

المفهوم / المصطلح	العبارة
	تجمع عدد كبير من النجوم والسحب والغازات على شكل شريط حلزوني مضيء في السماء
	هي الأمطار التي تحتوي على نسبة عالية من الأحماض وتحدث نتيجة تلوث الهواء بمواد كيميائية وغازات سامة



١- اشرح التفاعل الحاصل بين أغلفة كوكب الأرض في الصورة المقابلة؟

.....

.....

.....

٣- صنف المشكلات البيئية الآتية على حسب الغلاف الأرضي الذي توجد فيه في الجدول الآتي :

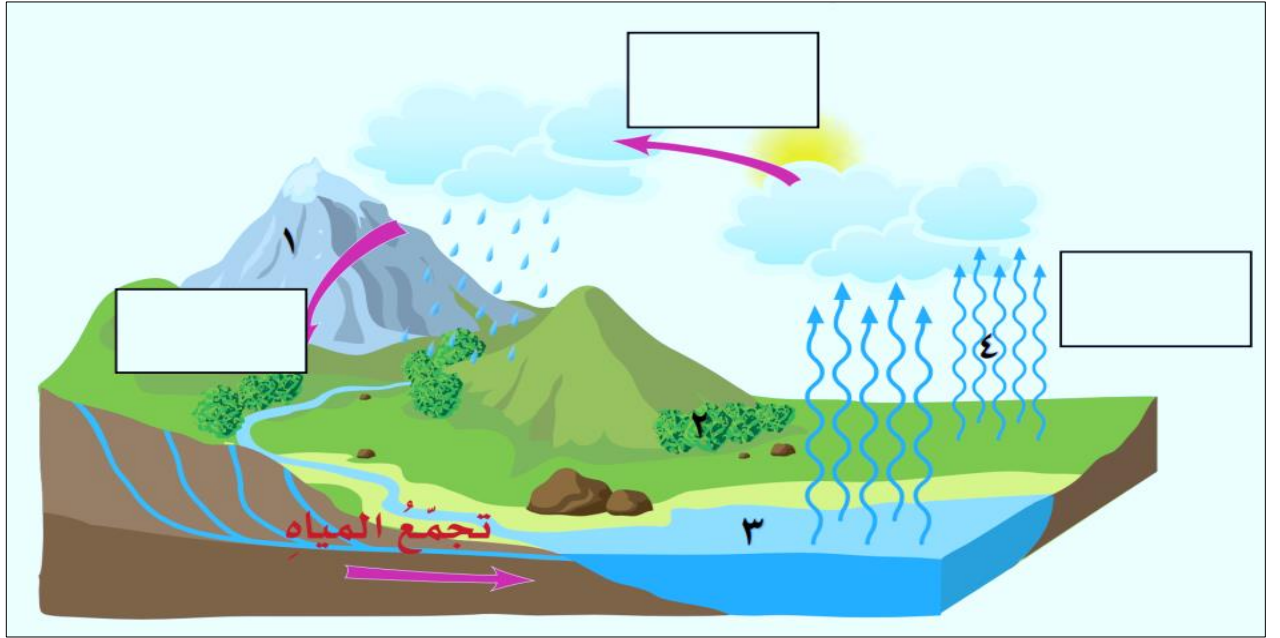
(الانهيارات الأرضية - تلوث الماء - الأمطار الحمضية - تدهور الغطاء النباتي)

الغلاف الأرضي	الجوي	المائي	الحيوي	الصخري
المشكلة البيئية

(٤ درجات)

السؤال الثالث: اجب عن الأسئلة الآتية:

١- ادرس الشكل التوضيحي التالي ثم اجب عما يلي:



١- ما الذي يمثله الشكل السابق؟

٢- أكمل المراحل الناقصة في الشكل .

٣- اكتب أمام كل رقم نوع الغلاف الأرضي الذي يمثله:

(١) (٢)

(٣) (٤)

انتهت الأسئلة . بالتوفيق للجميع