

تم تحميل هذا الملف من موقع المناهج العمانية



امتحان تجريبي نهائي مع نموذج الإجابة

[موقع المناهج](#) ← [المناهج العمانية](#) ← [الصف الخامس](#) ← [اجتماعيات](#) ← [الفصل الثاني](#) ← [الملف](#)

تاريخ إضافة الملف على موقع المناهج: 20:53:08 2024-05-22

التواصل الاجتماعي بحسب الصف الخامس



اضغط هنا للحصول على جميع روابط "الصف الخامس"

روابط مواد الصف الخامس على تلغرام

[الرياضيات](#)

[اللغة الانجليزية](#)

[اللغة العربية](#)

[التربية الاسلامية](#)

المزيد من الملفات بحسب الصف الخامس والمادة اجتماعيات في الفصل الثاني

[اختبار تجريبي نهائي لدرس الدولة الإسلامية في عهد الرسول](#)

1

[مراجعة درس عمان في عهد الرسول محمد من الوحدة الثانية](#)

2

[مراجعة وأنشطة محلولة في المادة](#)

3

[مراجعة المادة من كراستي تميزني](#)

4

[مذكرة إثرائية سؤال وجواب في الوحدة الثانية الدولة الإسلامية
وعمان في عهد الرسول محمد صلى الله عليه وسلم](#)

5



المديرية العامة للتربية والتعليم بمحافظة الداخلية
امتحان تجريبي للصف الخامس
الدور الاول - الفصل الدراسي الثاني
للعام الدراسي ١٤٤٤/١٤٤٥ هـ - ٢٠٢٣/٢٠٢٤ م
المادة: الدراسات الاجتماعية

- زمن الامتحان: (ساعة ونصف)
- عدد صفحات أسئلة الامتحان: (٦) صفحات.
- الإجابة في الدفتر نفسه.

		اسم الطالب
الصف		المدرسة

التوقيع بالاسم		الدرجة		السؤال
المصحح الثاني	المصحح الأول	بالحروف	بالأرقام	
				١
				٢
				٣
				٤
				٥
مراجعة الجمع	جمعه			المجموع
				المجموع الكلي

(١)

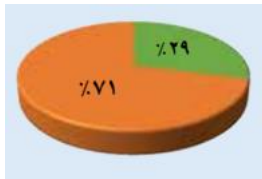
المادة: الدراسات الاجتماعية الصف: الخامس الدور الأول - الفصل الدراسي الثاني - العام الدراسي ٢٠٢٣/٢٠٢٤ م

أجب عن جميع الأسئلة الآتية

السؤال الأول: ضع دائرة حول رمز الإجابة الصحيحة من بين البدائل المعطاة:

- ١- الترتيب الصحيح للكواكب التالية حسب قربها من الشمس:
- أ- الزهرة \ عطارد \ الأرض \ المريخ
ب- عطارد \ الأرض \ الزهرة \ المريخ
ج- عطارد \ الزهرة \ الأرض \ المريخ
د- الزهرة \ الأرض \ المريخ \ عطارد

٢- تمثل الصورة المقابلة نسبة:



- أ- اليابس والماء
ب- الأكسجين والنيتروجين
ج- النفط والغاز
د- الماء العذب والمالح

٣- الصورة التي توضح تدهور الغطاء النباتي هي:



(د)



(ج)



(ب)



(أ)

٤- جميع ما يأتي من الموارد المتجددة ما عدا:

- أ- النباتات الطبيعية
ب- الحيوانات
ج- الغاز الطبيعي
د- المياه



٥- الترتيب الصحيح لخط سير عمرو بن العاص الى أهل عمان كما في الخريطة المقابلة:

أ- المدينة	تؤام	صحار	اليمامة
ب- صحار	المدينة	تؤام	اليمامة
ج- المدينة	اليمامة	تؤام	صحار
د- اليمامة	تؤام	المدينة	صحار

(٢)

المادة: الدراسات الاجتماعية الصف: الخامس الدور الأول - الفصل الدراسي الثاني - العام الدراسي ٢٠٢٣/٢٠٢٤ م

تابع: السؤال الأول:

٦- أول عمل قام به الرسول صل الله عليه وسلم بالمدينة المنورة هو:
أ- الصحيفة ب- بناء المسجد ج- المواخاة د- حماية الدولة الإسلامية

٧- خاض المسلمون العديد من المعارك لغرض:

أ- حماية الدولة الإسلامية
ب- المحافظة على الأمن
ج- معاقبة المعتدين وناقضي العهود
د- جميع ما سبق صحيح

٨- المدينة العمانية التي ينتمي اليها أول من أسلم من عمان هي:
أ- سمائل ب- صحار ج- مرباط د- توأم



٩- يوضح الشكل المقابل:
أ- حماية الطفل من أداء الأعمال الخطرة
ب- حق الطفل بالتمتع بمستوى صحي عال
ج- تمتع الطفل من ذوي الإعاقة برعاية آمنة
د- حق الطفل في ممارسة هواياته

١٠- كان مستشارا لملي عمان جيفر و عبد ابني الجندي:

أ- كعب بن برشة الطاحي
ب- سلمة بن عياد الأزدي
ج- أبو صفرة العتكي
د- صالح بن المتوكل

١١- نظمت الصحيفة العلاقة بين الأطراف التي تعيش في المدينة المنورة وهذه الأطراف هي:

أ- الأوس والخزرج والمهاجرون
ب- اليهود والأوس والخزرج
ج- الأنصار والمهاجرون واليهود
د- المهاجرون واليهود والأوس

١٢- استعمال الموارد الطبيعية بشكل متوازن للحفاظ عليها وضمان استمرارية الحياة هو مفهوم:

أ- الموارد الطبيعية
ب- الموارد المتجددة
ج- الموارد غير المتجددة
د- استدامة الموارد الطبيعية

(٣)

المادة: الدراسات الاجتماعية الصف: الخامس الدور الأول - الفصل الدراسي الثاني - العام الدراسي ٢٠٢٣/٢٠٢٤ م

السؤال الثاني: أجب عن الأسئلة الآتية:

أولاً:

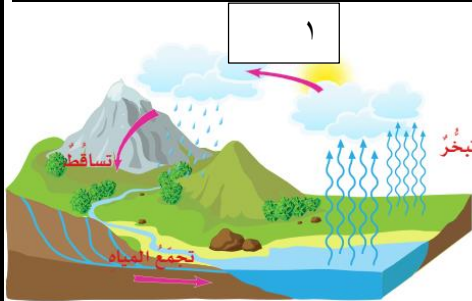
أ- من خلال الصور الآتية استنتج الأهمية الاقتصادية للموارد الطبيعية:



ثانياً \ صنف العبارات الآتية التي تمثل ملامح من الحياة السياسية والاقتصادية والثقافية في مكانها الصحيح في الجدول:

- (١- ازدهار الزراعة والتجارة والصناعة. ٢- أقر الرسول الكريم عبد وجيفر على ملكهما. ٣- حرص العمانيون على تعلم العلوم. ٤- استثمار الموقع الاستراتيجي للمدن. ٥- إعلان جيفر الحرب على الفرس. ٦- نبوغ الكثير من العمانيين في الشعر والخطابة.)

الحياة السياسية	الحياة الاقتصادية	الحياة الثقافية
.....
.....



ثالثاً:

أ- ادرس الصورة التي أمامك وأجب عن الأسئلة الآتية:

- ١- تمثل هذه الصورة
٢- يمثل الرقم ١ في الصورة عملية
٣- يعتبر هذا المورد من الموارد:

ظل الدائرة الصحيحة

غير المتجددة

المتجددة

٨

يتبع/٤

(٤)

المادة: الدراسات الاجتماعية الصف: الخامس الدور الأول - الفصل الدراسي الثاني - العام الدراسي ٢٠٢٣/٢٠٢٤ م

السؤال الثالث: أجب عن الأسئلة الآتية:

أولاً: أ- أكمل خريطة المفاهيم التالية التي تمثل دور المسجد في عهد الرسول الكريم:



.....	٣
.....	٢
.....	١

ثانياً: أ \ اكتب المصطلح المناسب أمام العبارات في الجدول:

١- تجمع عدد كبير جداً من النجوم والسحب والغازات على شكل شريط حلزوني مضيء في السماء
٢- ما يحصل عليه المواطن من الدولة والمجتمع وفقاً للقانون وثقافة المجتمع.

ب \ علل: ١- تسمية كوكب الأرض (الكوكب المائي)؟

٢- احتواء بعض الأمطار على نسبة عالية من الأحماض ؟

ثالثاً \ ادرس خريطة شبه الجزيرة العربية، ثم اجب عن الأسئلة التي تليها:



١- ارسم اتجاه هجرة الرسول صلى الله عليه وسلم الى المدينة.

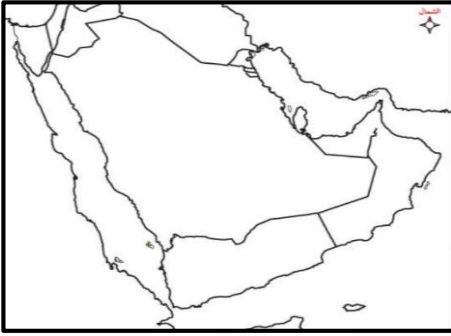
٢- اكتب على الخريطة اسم البحر الذي يقع الى الغرب من مكة المكرمة.

٨

يتبع \ ٥

(٥)

المادة: الدراسات الاجتماعية الصف: الخامس الدور الأول - الفصل الدراسي الثاني - العام الدراسي ٢٠٢٣/٢٠٢٤ م



السؤال الرابع: أجب عن الأسئلة الآتية:
أولاً: أ- ظلل سلطنة عمان في الخريطة التي أمامك.

ب- أنسب الشخصيات العمانية الآتية حسب أعمالها في الجدول التالي:

(١- أبو صفرة العتكي ٢- سلمة بن عياد الطاحي ٣- صالح بن المتوكل)

الشخصية	العمل
.....	رافق الصحابي مازن بن غضوبه في رحلته للمدينة
.....	وفد الى الرسول في جماعة من قومه واعلن اسلامه
.....	شارك في الفتوحات الإسلامية وذهب الى المدينة في عهد أبو بكر الصديق

ثانياً:

١- توضح الصورة التي أمامك تفاعل غلافين من أغلفة كوكب الأرض ما هما؟

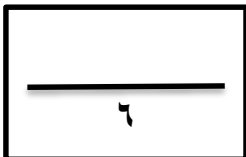
.....و.....

٢- فسر هذا التفاعل وكيفية حدوثه؟

.....

.....

.....



يتبع/٦

(٦)

المادة: الدراسات الاجتماعية الصف: الخامس الدور الأول - الفصل الدراسي الثاني - العام الدراسي ٢٠٢٣/٢٠٢٤ م

السؤال الخامس: أجب عن الأسئلة الآتية:

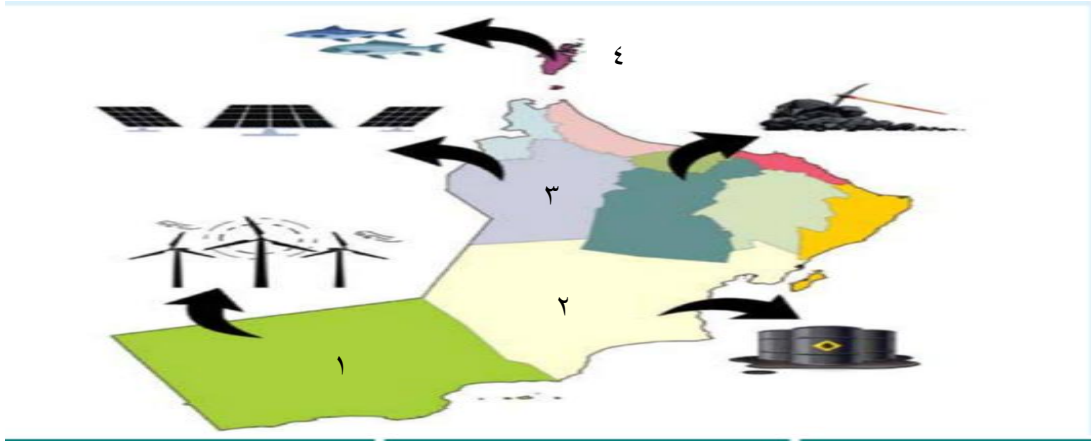
أولاً توضح الصورتين التاليتين نوعين من المؤسسات الوطنية التي لها دور بارز في حفظ حقوق المواطنين. اكتب نوع هذه المؤسسة كما توضحه الصورة:



.....(٢)

.....(١)

ثانياً ادرس الخريطة التي أمامك ثم أكمل الجدول الذي يليها:



رقم المحافظة	اسم المورد الطبيعي	نوعه (متجدداً غير متجدد)
١		
٢		
٣		
٤		

٦

انتهت الأسئلة مع تمنياتنا لكم بالنجاح والتوفيق

نموذج الإجابة

السؤال الأول: ٢ درجة

المفردة	رقم السؤال
ج	١
أ	٢
د	٣
ج	٤
ج	٥
ب	٦
د	٧
أ	٨
ج	٩
أ	١٠
ج	١١
د	١٢

د = درجة

السؤال الثاني: ٨ درجات

١د

أولاً: أ \ ١ - الغذاء

١د

٢ - مصدرا للدخل

ثانياً: - ٣ د لكل نصف درجة

الثقافية	الاقتصادية	الحياة السياسية
٣	١	٢
٦	٤	٥

١د

ثالثاً \ أ - ١ - دورة الماء في الطبيعة

١د

٢ - التكاثر

١د

٣ - يظل الطالب المتجددة

السؤال الثالث \ ٨ درجات

أولاً:

- ١ - مركزا للقيادة ١ د
٢ - مكان للاجتماعات ١ د
٣ - استقبال الوفود ١ د

ثانياً: أ)

- ١ - مجرة درب التبانة نصف د
٢ - الحقوق نصف د

ب) علل

- ١ - بسبب احتواءه على الماء ١ د
٢ - بسبب تلوث الهواء بمواد كيميائية وغازات سامة ١ د

ثالثاً \

- ١ - يرسم الطالب سهما من مكة للمدينة ← ١ د
٢ - يحدد الطالب البحر في مكانه الصحيح ١ د

السؤال الرابع \ ٦ درجات

أولاً: أ - يظل الطالب سلطنة عمان ١ د

ب -

الشخصية	العمل
٣ ١ د	رافق الصحابي مازن بن غضوبه في رحلته للمدينة
٢ ١ د	وفد الى الرسول في جماعة من قومه واعلن اسلامه
١ ١ د	شارك في الفتوحات الإسلامية وذهب الى المدينة في عهد أبو بكر الصديق

ثانياً:

- ١ - الغلاف الصخري والغلاف الحيوي ١ د
٢ - تمتص الجذور الماء والغذاء من التربة أو (بتعبير الطالب) ١ د

السؤال الخامس: ٦ درجات

أولاً \

د

١- المؤسسات القضائية

د

٢- المؤسسات الأمنية

ثانياً \ ٤ درجات لكل نصف درجة

رقم المحافظة	اسم المورد	نوعه
١	طاقة الرياح \ الهواء	متجدد
٢	النفط \ البترول	غير متجدد
٣	الشمس	متجدد
٤	الثرة السمكية \ الحيوانية	متجدد

نهاية النموذج

(يوما ما ستصبح ما تريد)
فقط إسعَ خَلْفَ طموحك