

## شكراً لتحميلك هذا الملف من موقع المناهج العمانية



## الاختبار النهائي الرسمي في محافظة شمال الباطنة

[موقع المناهج](#) ← [المناهج العمانية](#) ← [الصف الخامس](#) ← [اجتماعيات](#) ← [الفصل الثاني](#) ← [الملف](#)

تاريخ نشر الملف على موقع المناهج: 05:48:17 2023-05-18

## التواصل الاجتماعي بحسب الصف الخامس



## روابط مواد الصف الخامس على تلغرام

[الرياضيات](#)

[اللغة الانجليزية](#)

[اللغة العربية](#)

[التربية الاسلامية](#)

## المزيد من الملفات بحسب الصف الخامس والمادة اجتماعيات في الفصل الثاني

<a href="#">كتاب المادة المنهج الجديد</a>	1
<a href="#">نموذج إجابة الاختبار النهائي الرسمي في محافظة جنوب الباطنة</a>	2
<a href="#">الاختبار النهائي الرسمي في محافظة جنوب الباطنة</a>	3
<a href="#">نموذج إجابة الاختبار النهائي الرسمي في محافظة الداخلية</a>	4
<a href="#">الامتحان الرسمي النهائي بمحافظة جنوب الباطنة</a>	5

السؤال الثالث: اجب عن الأسئلة الآتية:

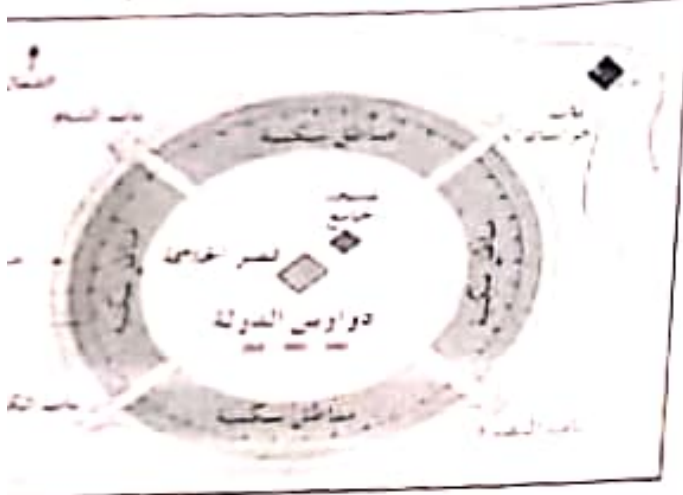
أولاً: اقرأ النص الآتي ، ثم اجب عن الأسئلة التي تليها:  
(نظراً لتوفره بكميات كبيرة، ولعدد استخداماته بعد الغاز الطبيعي من مصادر الطاقة المهمة في الوطن العربي ، ولقد أنشأت بعض الدول العربية مصانع لتسييل الغاز وتصديره)  
١- بم لفسر: الغاز الطبيعي من مصادر الطاقة المهمة في الدول العربية؟

٢- اذكر اثنين من استخدامات الغاز الطبيعي.

٣- الدولة العربية الأكثر إنتاجاً للغاز الطبيعي في العالم:  
 قطر  الكويت

(اختر الإجابة الصحيحة)

ثانياً: انظر إلى المخطط القديم لمدينة بغداد في عصر الدولة العباسية ثم اجب عن الأسئلة الآتية:



١- ما اسم النهر الذي قامت على ضفافه مدينة بغداد والمشار له بالرمز ؟

٢- من وجهة نظرك ما الهدف من انشاء السور والخندق حول المدينة؟

٣- فسر سبب تسمية باب الشام بهذا الاسم.

ثالثاً: اجب عن الآتي:

١- دلل بمثال واحد يؤكد على حرص سلطنة عمان على توثيق علاقتها السياسية مع الدول العربية



٢- "تشير الصورة إلى أحد عوامل التكامل بين الدول العربية" أذكره.

السؤال الثاني: اكتب عن الأسملة الآتية:  
أولاً - اكتب اسم المصطلح أمام العبارة الدالة عليه: (الصناعة - التجارة - التكامل)

١- عملة تعبر شكل وطبيعة المواد الخام إلى شكل آخر لتلبية حاجات الإنسان: .....

٢- العلاقة القائمة بين الدول لتتحقق أهداف مشتركة: .....

- المصدر الأساسي لميانات السكان في سلطنة عمان:
- أ- المذكر الوطني الإحصاء والمعلومات
- ب- أمانة أبحاث الاتصالات والمعلومات

(اختر الإجابة الصحيحة)

عند لما يأتي:

أ- يعتبر الوطن العربي بموقع جغرافي مهم بالنسبة للعالم.

ب- للأسطول البحري العماني أهمية كبيرة في العصر العباسي.

نسب العثمانيين في الحدود أدناه إلى المجال الذي برعوا فيه بوضع إشارة (✓):

العثمانيين/المجال	الطب	اللغة	الفقه
أبو العباس المبرد			
ابن الذهبي			
محمد بن جعفر الأزكوي			

أمك صوره لإحدى المشكلات السكانية في الوطن العربي ، أدرسها جيداً ثم أجب عن الأسئلة الآتية  
لمشكلة السكانية الظاهرة في الصورة.



وجه نظرك ما أبرز نتيجة مترتبة عليها؟

حلاً واحداً لهذه المشكلة.

تابع السؤال الأول:

٧ الرمز الذي يشير إلى أحد البلدان التي أسهم موسى بن نصير في توسع الدولة الأموية إليها:



(ب) ▲

(أ) ■

(د) ◻

(ج) ●

٨- أول من نقش على النقود باللغة العربية من الخلفاء الأمويين:

- (أ) معاوية بن أبي سفيان (ب) يزيد بن معاوية (ج) هشام بن عبد الملك (د) عبد الملك بن مروان

٩- تقع آثار مدينة البليد في محافظة:

- (أ) شمال الباطنة (ب) الداخلية (ج) الظاهرة (د) ظفار



١- المضيق الذي سوف يعبره عبد الرحمن إذا أراد أن يقوم برحلة بحرية من سلطنة عمان إلى جمهورية مصر العربية:

- (أ) باب المندب (ب) البسفور (ج) جبل طارق (د) هرمز

- تحتفل الأمم المتحدة باللغة العربية كل عام بتاريخ:

- (أ) ١٨ سبتمبر (ب) ١٨ أكتوبر (ج) ١٨ نوفمبر (د) ١٨ ديسمبر

الشعار الذي يمثل جامعة الدول العربية:



(د)

(ج)

(ب)

(أ)



السؤال الثاني: اكتب عن الأهمية الأتية:  
أولاً - اكتب اسم المفصّل أمام العبارة الآتية عليه: (الصناعة - التجارة - التكامل)

ب) عمنه نعلم شكراً وطبيعة المواد الخام إلى شكل آخر لتلبية حاجات الإنسان: .....  
ج) العلاقة القائمة بين الدول لتحقيق أهداف مشتركة: .....

د) اذكر الأساسيات لبيانات السكان في سلطنة عمان:

□ المركز الوطني للإحصاء والمعلومات

□ مركز أبحاث الاتصالات والمعلومات

(اختر الإجابة الصحيحة)

هـ) عطر لما يأتي:

أ) يعتبر الوطن العربي بموقع جغرافي مهم بالنسبة للعالم.

ب) للأسطول البحري العماني أهمية كبيرة في العصر العباسي.

ج) اكتب العلماء العمانيين في الجدول أدناه إلى المجال الذي برعوا فيه بوضع إشارة (✓):

العلماء العمانيين/المجال	الطب	اللغة	الفقه
أبو العباس المبرد			
ابن الذهبي			
محمد بن جعفر الأزكوي			

نأ: أضعك صورة لإحدى المشكلات السكانية في الوطن العربي ، أدرسها جيداً ثم أجب عن الأسئلة الآتية:  
سم المشكلة السكانية الظاهرة في الصورة.



من وجهة نظرك ما أبرز نتيجة مترتبة عليها؟

أفترح حلاً واحداً لهذه المشكلة.



السؤال الخامس: اجب عن الأسئلة الآتية:  
درس الجدول المقابل الذي يبين عدد السكان في بعض المحافظات في سلطنة عمان

٢٠٠٠ م ثم اجب عما يلي:

عدد السكان	المحافظة
١٣٩٥٤١٢	مسقط
٧١٩٣٠٩	ضالع الشايفة
٤٣٣٥٠	الوسطى
٤٢٨٥٤	مسندم
٢٤٠٨٣٦	ظفار

المحافظة التي يتركز بها أكبر عدد من السكان:

الوسطى

(اختر الإجابة الصحيحة)

مسقط

ما نغمر ذلك؟

.....  
.....

اجب عما يلي:

عطه مثال واحد لكل من:

أ) منتجات الصناعات التي اشتهرت بها عمان في العصر العباسي.

.....

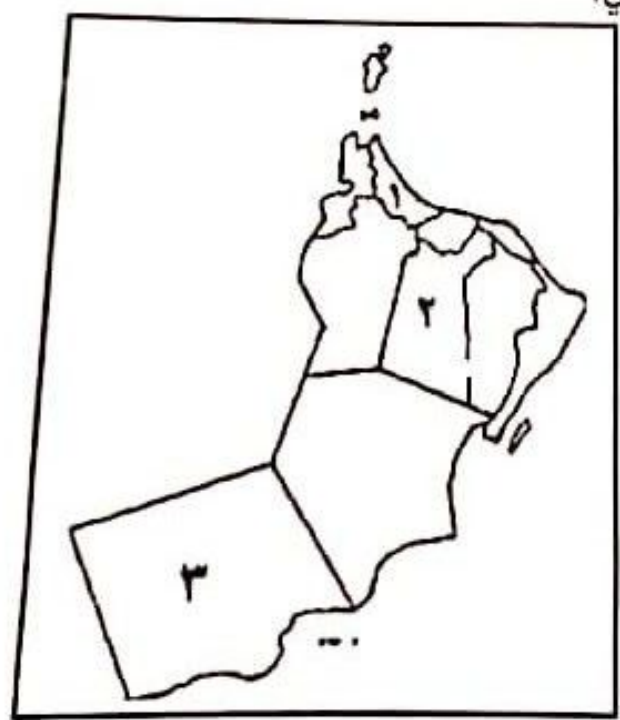
ب) الحضارات التي قاصت في الوطن العربي.

.....

٢. ما النصيحة التي تقدمها لصديقك الذي لا يتمسك بالعادات والتقاليد العمانية الأصيلة؟

.....

ثالثاً: انظر إلى الخريطة المقابلة ثم اجب عن الآتي:



- تقع المدينة العمانية التي عرفت  
تديماً ببيضة الإسلام في المحافظة  
لمشار إليها بالرقم: (.....)

- يقع جامع جناح في المحافظة  
شار: رينا بالرقم: (.....)

انتهت الأسئلة مع الدعاء للجميع بالتوفيق والنجاح.

## أجب عن جميع الأسئلة الآتية

السؤال الأول: ضع دائرة حول رمز الإجابة الصحيحة لكل مفردة من المفردات الآتية:

١- تم إجراء أول تعداد سكاني في سلطنة عمان في العام الميلادي:

(ج) ١٩٩٥

(ج) ١٩٩٤

(ب) ١٩٩٣

(أ) ١٩٩٢



٢- تشير الصورة التي أمامك إلى أحد مصادر الطاقة المتجددة، الطاقة:

(ب) المائية

(أ) الشمسية

(د) الريحية

(ج) النووية


٣- استمع محمد لخير في نشرة الأخبار في تلفزيون سلطنة عمان: (ازداد عدد السكان في سلطنة عمان ليص في نهاية شهر مارس عام ٢٠٢٣ م إلى "٥٠,٠٠٠,٧٧٢ نسمة"). يطلق على هذه الزيادة مصطلح:

(د) النمو السكاني

(ج) المشكلة السكانية

(ب) الكثافة السكانية

(أ) التوزيع السكاني



٤- المحصول الزراعي الذي احتل المرتبة الثانية من حيث الإنتاج في الوطن العربي عام ٢٠١٤ م كما يوضحه الشكل البياني المقابل:

(ب) الحبوب

(أ) التمور

(د) الفواكه

(ج) الخضراوات

٥- تعتبر من الصناعات التحويلية في الوطن العربي:

(د) صيد الأسماك

(ج) استخراج اللؤلؤ

(ب) التنقيب عن المعادن

(أ) البلاستيك

الترتيب الصحيح من الأقدم إلى الأحدث للدول الإسلامية خلال الفترة (١ هـ إلى ٦٥٦ هـ):

عصر النبوة
الخلفاء الراشد
الدولة العباس
الدولة الأموي

عصر النبوة
الخلفاء الراشدين
الدولة الأموية
الدولة العباسية

عصر النبوة
الدولة العباسية
الدولة الأموية
الخلفاء الراشدين

عصر النبوة
الدولة الأموية
نلفاء الراشدين
ولة العباسية

(د)

(ج)

(ب)

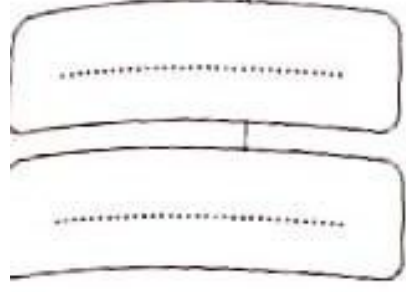
(أ)



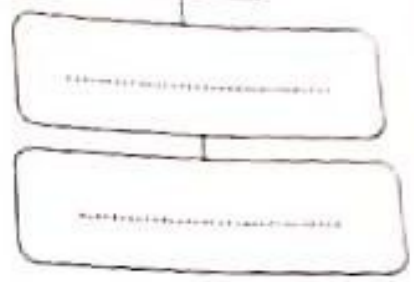
طاقة الدراسات الاجتماعية الصف الخامس الدور الثاني  
 السؤال الرابع: اكتب عن الأسس الثلاثة:  
 أثر أشعة الشمس أدناه بالأسهم والمخططات الآتية:  
 توفر الخدمات المناخ أشكال السطح النشاط الاقتصادي

العوامل المؤثرة في توزيع السكان في الوطن العربي

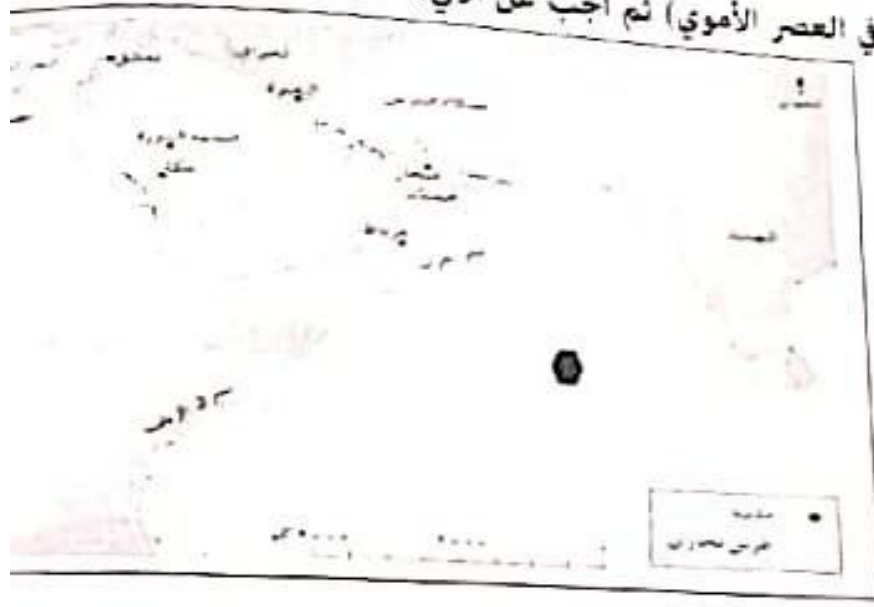
٢. العوامل البشرية



١- العوامل الطبيعية



ثانياً: ادرس خريطة (الطرق التجارية في العصر الأموي) ثم اكتب عن الآتي:



١- ضع دائرة على الخريطة حول عاصمة الدولة الأموية.

٢- استخراج من الخريطة:

أ) مدينة تجارية على سواحل عمان.

ب) اسم المحيط المشار إليه بالرمز ●

ثالثاً: أذكر نتيجة واحدة ترتبت على:  
 ١- امتداد الوطن العربي على مساحة واسعة.

٢- تحدث معظم سكان الوطن العربي باللغة العربية.