

شكراً لتحميلك هذا الملف من موقع المناهج العمانية



ملخص درس الموقع الفلكي مع الحل

[موقع المناهج](#) ⇨ [المناهج العمانية](#) ⇨ [الصف الخامس](#) ⇨ [اجتماعيات](#) ⇨ [الفصل الأول](#) ⇨ [الملف](#)

تاريخ نشر الملف على موقع المناهج: 2023-11-13 05:22:05 | اسم المدرس: سلمى الناعبي

التواصل الاجتماعي بحسب الصف الخامس



روابط مواد الصف الخامس على تلغرام

[الرياضيات](#)

[اللغة الانجليزية](#)

[اللغة العربية](#)

[التربية الاسلامية](#)

المزيد من الملفات بحسب الصف الخامس والمادة اجتماعيات في الفصل الأول

[اختبار قصير أول نموذج ثالث](#)

1

[اختبار قصير أول نموذج ثاني](#)

2

[اختبار قصير أول نموذج حديث](#)

3

[نموذج امتحان نهاية الدور الأول نسخة جديدة](#)

4

[نموذج امتحان نهاية الدور الأول نسخة جديدة](#)

5

ملخص درس (الموقع الفلكي)

مع الحل

اعداد : سلمى الناعبي
مدرسة الازدهار للتعليم الأساسي

أختاري الإجابة الصحيحة

1- يقصد به موقع المكان بالنسبة لخطوط الطول ودوائر العرض

(أ) الموقع الجغرافي (ب) الموقع الفلكي (ج) الموقع الأرضي (د) الموقع القاري

2- تنتج عن رسم خطوط الطول ودوائر العرض على الكرة الأرضية

(أ) شبكة الاحداثيات الجغرافية (ب) شبكة الاحداثيات الرياضية (ج) شبكة الاحداثيات الفلكية (د) شبكة الاحداثيات الفضائية

3- القراءه الصحيحة للموقع للصيغة التالية 23° 20' 12"

(أ) 23 درجة و20 دقيقة و12 ثانية (ب) 23 دقيقة و20 درجة و12 ثانية

(ج) 23 درجة و20 ثانية و12 دقيقة (د) 23 ساعة و20 دقيقة و12 ثانية

4- الدولة العربية التي يمر بها خط جرينتش

(أ) السودان (ب) الصومال (ج) الجزائر (د) المغرب

5- الدولة العربية التي تمر منها دائرة الاستواء هي

(أ) السودان (ب) الصومال (ج) الجزائر (د) المغرب

6- ثالث أكبر دولة عربية من حيث المساحة في شبه الجزيرة العربية

(أ) السعودية (ب) اليمن (ج) الامارات (د) سلطنة عمان

7- العام الذي أطلقت فيه وزارة الدفاع الامريكية نظام تحديد المواقع العالمي

(أ) 1970م (ب) 1971م (ج) 1972م (د) 1973م

8- الدولة التي اطلقت نظام تحديد المواقع العالمي

(أ) فرنسا (ب) بريطانيا (ج) البرازيل (د) الولايات المتحدة

9- الموقع الصحيح لسلطنة عمان حسب خطوط الطول ودوائر العرض

(أ) بين دائرتي عرض و (39 16) و (30 26) شمالا و بين خطي طول (50 59) و (00 52) شرقا

(ب) بين دائرتي عرض و (30 16) و (30 21) شمالا و بين خطي طول (50 59) و (00 52) شرقا

(ج) بين دائرتي عرض و (39 16) و (30 26) شمالا و بين خطي طول (50 55) و (10 52) شرقا

(د) بين دائرتي عرض و (00 16) و (00 26) شمالا و بين خطي طول (50 59) و (00 52) شرقا

السؤال الثاني أولا: عرفني ما يلي

(أ) شبكة الاحداثيات الجغرافية :- رسم خطوط الطول ودوائر ارض على الكرة الأرضية

(ب) الموقع الفلكي موقع المكان بالنسبة لخطوط الطول ودوائر العرض

(ج) جهاز تحديد المواقع العالمي: جهاز يعمل وفق نظام عالمي لتحديد المواقع باستخدام الأقمار الاصطناعية

ثانيا :
1-أرسمي في الجدول الذي أمامك صيغة كل رمز من الرموز التالية

ثانية	دقيقة	درجة
=	-	°



2-أمامك صورة أدرسيها جيدا ثم اجبني عن ما يلي

(أ) اسم الجهاز الذي توضحه الصورة؟

جهاز تحديد المواقع العالمي

(2) السنة التي ظهر فيها الجهاز؟

1973 م

(3) الجهة التي اطلقت هذا الجهاز؟

وزارة الدفاع الامريكية

4- عددي بعض استخدامات هذا الجهاز؟

الاستخدام العسكري - الاستخدام المدنية

5-العوامل التي تؤثر على دقة الجهاز؟

الأشجار - المباني العالية - الجبال

ثالثا : أكتبي اسفل كل صورة استخدامات جهاز تحديد المواقع



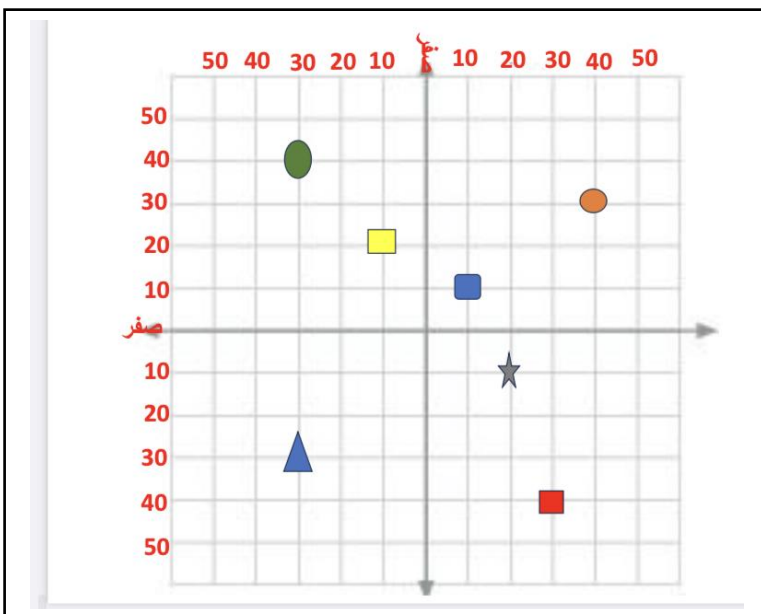
الاستخدام الشخصي (التنزه)



الملاحة البحرية



الاستخدام العسكري



رابعا : أدرسي شبكة الاحداثيات التي أمامك واستخرجي

منها موقع كل رمز حسب خطوط الطول ودوائر العرض

تقع بين خط طول 30 غربا ودائرة عرض 40 شمالا)

خط طول 40 شرقا ودائرة عرض 30 شمالا

خط طول 30 غربا ودائرة عرض 30 جنوبا

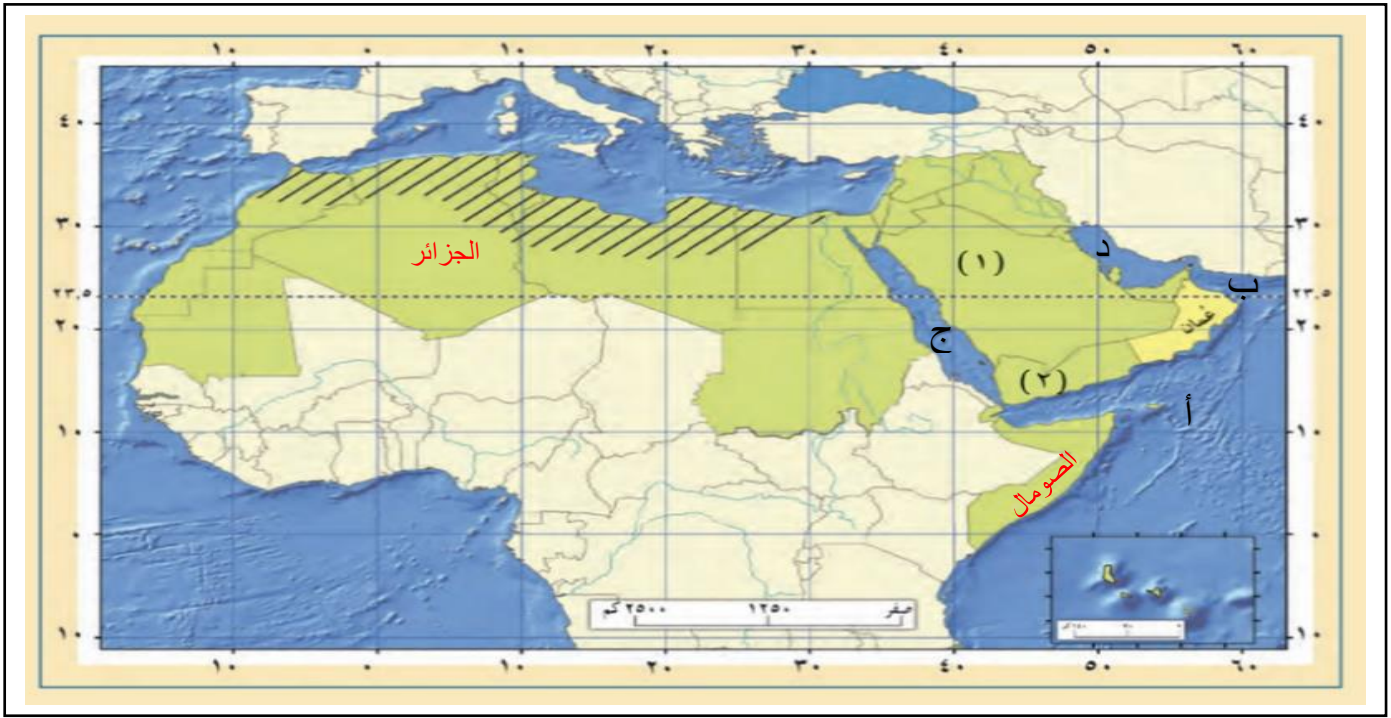
خط طول 30 شرقا ودائرة عرض 40 جنوبا

خط طول 10 غربا ودائرة عرض 20 شمالا

خط طول 20 شرقا ودائرة عرض 10 جنوبا

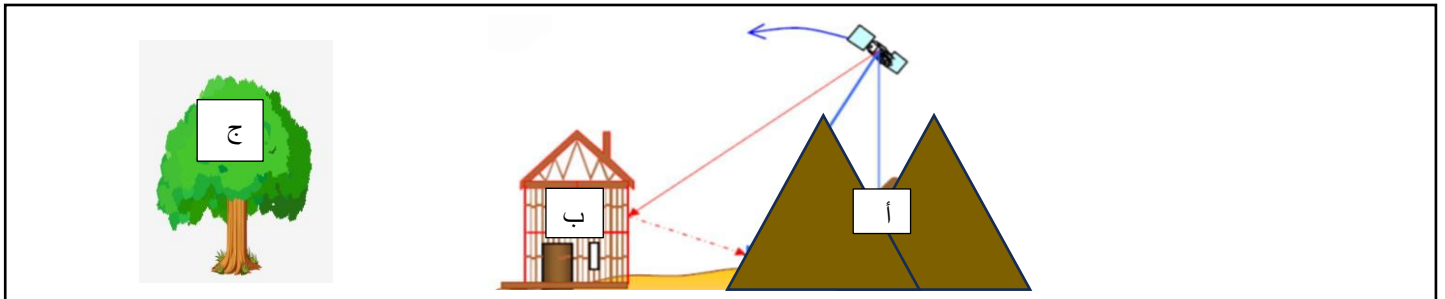
خط طول 10 شرقا ودائرة عرض 10 شمالا

خامسا : أمامك خريطة للوطن العربي أدرسيها جيدا ثم اجبني عن الأسئلة التالية



- 1-المسطح المائي المشار إليه بالرمز(أ) بحر العرب
- 2-المسطح المائي المشار إليه بالرقم (ب) بحر عمان
- 3-المسطح المائي المشار إليه بالرقم (ج)البحر الأحمر
- 4-المسطح المائي المشار إليه بالرقم (د) الخليج العربي
- 5-اكبر الدول العربية مساحة في شبه الجزيرة العربية هي المشار إليها برقم 1
- 6-حددي على الخريطة الدولة العربية التي يمر بها خط جرينتش
- 7-اسم المدار المشار إليه بالرمز (.....) مدار السرطان
- 8-استخرجي من الخريطة اسم دولة عربية يمر بها مدار السرطان عمان – السعودية -الامارات مصر
- 9-حددي على الخريطة الدولة العربية التي تمر بها دائرة الاستواء
- 10-استخرجي من الخريطة دولة عربية يمر بها خط طول 50 شرقا السعودية اليمن
- 11- استخرجي من الخريطة دولة عربية يمر بها خط طول 10 غربا المغرب وموريتانيا
- 12-استخرجي من الخريطة دولة عربية تمر بها دائرة عرض 10 شمالا الصومال
- 13-علي تتشابه الدولة رقم (1) و(2) في التوقيت لانها تقع على نفس خط الطول
- 14-علي اعتدال المناخ في المناطق المظللة على الخريطة لانها تقع ضمن المناطق المعتدلة بين دائرتي عرض (مدار السرطان والدائرة القطبية الشمالية)
- 15-حددي على الخريطة الدولة العربية التي يمر بها خط جرينتش

سادسا: توضح الصورة التي أمامك العوامل التي تؤثر في دقة نظام تحديد المواقع العالمي اكتب في أمام كل رمز اسم العامل



أ) الجبال

ب) المباني العالية

ج) الأشجار

خريطة الوطن العربي

